

2008年安徽行测真题

真题更新时间：2023年10月08日23:31:06

扫描下方二维码下载小麦公考APP 刷海量题库掌握最新热点



QQ扫码直接下载

微信扫码到应用市场下载

支持所有机型哦

第一部分 数量关系

在这部分试题中，每道试题呈现一段表述数字关系的文字，要求你迅速、准确地计算出答案。你可以在草稿纸上运算。

1. 2, 3, 5, 7, ()
A. 8 B. 9 C. 11 D. 12
2. 12, 14, 20, 38, ()
A. 46 B. 38 C. 64 D. 92
3. 6, 7, 8, 13, 15, 21, (), 36
A. 27 B. 28 C. 31 D. 35
4. 74, 38, 18, 10, 4, ()
A. 2 B. 1 C. 4 D. 3
5. 11, 12, 12, 18, 13, 28, (), 42, 15, ()
A. 15, 55 B. 14, 60 C. 14, 55 D. 15, 60
6. 有a、b、c三个数，已知 $a \times b = 24$ ， $a \times c = 36$ ， $b \times c = 54$ ，求 $a + b + c =$
A. 23 B. 21 C. 19 D. 17
7. $\frac{2}{3}$
，后来又往袋子里放了10个红球，这时红球占总数的 $\frac{3}{5}$ ，问原来袋子里有多少个球：
A. 8 B. 12 C. 16 D. 20
8. 某单位职工24人中，有女性11人，已婚的有16人。在已婚的16人中有女性6人。问这个单位的未婚男性有多少人：
A. 1 B. 3 C. 9 D. 12
9. 某旅游景点商场销售可乐，每买3瓶可凭空瓶获赠1瓶可口可乐，某旅游团购买19瓶，结果每人都喝到了一瓶可乐，该旅游团有多少人：
A. 19 B. 24 C. 27 D. 28
10. 从装满1000克浓度为50%的酒精瓶中倒出200克酒精，再倒入蒸馏水将瓶加满。这样反复三次后，瓶中的酒精浓度是多少：
A. 22.5% B. 24.4% C. 25.6% D. 27.5%
11. 三位采购员定期去某市场采购，小王每隔9天去一次，大刘每隔6天去一次，老杨每隔7天去一次，三人星期二第一次在这里，下次相会将在星期几：
A. 星期一 B. 星期五 C. 星期二 D. 星期四
12. 某日小李发现日历有好几天没有翻，就一次翻了6张，这6天的日期加起来数字是141，他翻的第一页是几号：
A. 18 B. 21 C. 23 D. 24
13. 足球比赛的记分规则为：胜一场得3分；平一场得1分；负一场得0分。一个队打了14场，负5场，共得19分，那么这个队胜了几场：
A. 3 B. 4 C. 5 D. 6
14. 用两根同样长度的铁丝分别圈成圆形和正方形，圆形面积大约是正方形面积的几倍：

- A. $\frac{3}{\pi}$
- B. $\frac{4}{\pi}$
- C. $\frac{5}{\pi}$
- D. $\frac{6}{\pi}$

15. 某企业有甲、乙、丙三个仓库，且都在一条直线上，之间分别相距1千米、3千米，三个仓库里面分别存放货物5吨、4吨、2吨。如果把所有的货物集中到一个仓库，每吨货物每千米运费是90元，请问把货物放在哪个仓库最省钱：
- A. 甲 B. 乙 C. 丙 D. 甲或乙

第二部分 言语理解与表达

本部分包括表达与理解两方面的内容。请根据题目要求，在四个选项中选出一个最恰当的答案。

16. 现在有的人，遇到问题，就相互_____，谁也不肯主动承担责任。

填入划横线部分最恰当的一项是：

- A. 责备 B. 推托 C. 推诿 D. 谦让

17. 讲诚信，就应说到做到，对作出的承诺决不能_____。

填入划横线部分最恰当的一项是：

- A. 食言 B. 失言 C. 逃避 D. 扯谎

18. 下面缺少宾语的一句是：

- A. 该机飞行速度为800公里，航程可达3000公里
- B. 后卫助攻到前场，在前锋的策应下射门
- C. 我们必须正视竞争对手大幅降价
- D. 不久，爱因斯坦的相对论在天文学领域里得到了应用

19. 下面有多余成分的一句是：

- A. 如何才能先富起来呢？关键在于知识起决定性作用
- B. 在追求共同富裕的过程中，允许一部分人先富起来，这是切合实际的
- C. 贫穷不是社会主义，共同富裕才是社会主义
- D. 在知识经济时代，没有知识，光靠勤劳就一定能致富吗

20. 下列有歧义的句子是：

- A. 群众有意见是正常，没意见倒是不正常的了
- B. 那时他已经戒烟，如果再没了酒，生活就没味道了
- C. 整容有一定的风险，比如感染、瘀血、不完全对称等
- D. 小王和小李这两个人，我对小王比较了解，小李就不大了解

21. 下列没有歧义的一句是：
- A. 这个发言稿是新来的市长的秘书写的
 - B. 他在树上爬上爬下，轻捷的像只猴子
 - C. 小张下班后一到家就朝着妻子嚷嚷：“我现在就要热饭”
 - D. 他已经走了半个多小时了
22. 下面句子中没有语病的是：
- A. 建立社会主义市场经济体制的前提下，公平竞争是很重要的
 - B. 传统集贸市场的贸易量正处于停滞
 - C. 大会闭幕时，运动员们迟迟不肯离开会场
 - D. 他把教室打扫得干干净净、整整齐齐
23. 下面缺少一个必不可少的“的”的一句是：
- A. 各公园门票必须严格执行国家统一收费标准
 - B. 如果超过规定收费标准，则属乱收费
 - C. 消费者有权向当地物价部门领导举报
 - D. 市物价局正在对群众反映较大问题进行检查
24. 下列有语病的一句是：
- A. 创业是一个同竞争对手较量的过程，更是一个同自己较量的过程
 - B. 创业既是一个同竞争对手较量的过程，也是一个同自己较量的过程
 - C. 创业是一个同竞争对手较量的过程，也即是一个同自己较量的过程
 - D. 创业不仅是一个同竞争对手较量的过程，同时也是一个同自己较量的过程
25. 下列有语病的一句是：
- A. 歙砚是安徽知名的文房四宝，珍藏馈赠都很有价值
 - B. 校庆期间，学校将举行多种形式的纪念活动
 - C. 小张的作品在展会上受到专家的关心和好评
 - D. 以友情助功业则功业成，为功业找友情则友情亡
26. 一位哲人这样解释乐观与悲观：譬如面对着桌子上的半杯水，乐观主义者说这个杯子的一半是满的，悲观主义者说这个杯子的一半是空的。显然，_____，使我们在任何时候、任何条件下都不会失去信心和追求。一旦遇到困难，我们黯淡的心情也能够很快豁然开朗，从种种苦恼中自我解脱。
- 填入划线处最恰当的是：
- A. 观察事物时善于选择生活中积极的一面
 - B. 人与人的观察角度和思维方式是不同的
 - C. 乐观主义比悲观主义更有利于人类进步
 - D. 这两种理解有其合理性也有一些片面性
27. ，称得上世界“老人自杀大国”。而其中离婚男性的自杀率为有配偶者的8倍，离婚女性自杀率为有配偶者的4倍。
- 这段话直接支持的观点是：
- A. 日本老人经济负担重，生活压力很大
 - B. 自杀者多半患有老年性精神病
 - C. 鳏寡孤独是日本老人自杀的一个重要原因
 - D. 在日本，老年离婚的现象较普遍

28. 尼龙的强度，比棉花高两三倍，比羊毛高四五倍。一般直径为1毫米的尼龙丝，可以吊起100公斤的东西，一根手指粗细的尼龙绳，可以吊起一辆满载的卡车！

这段话主要讲的是：

- A. 尼龙的强度
- B. 尼龙的用途
- C. 尼龙的神奇
- D. 尼龙、棉花和羊毛的比较

29. 随着石油的不断涨价，一些国家利用微生物将甘蔗、甜菜、木薯发酵成酒精，替代石油。这种酒精具有燃烧完全、效率高、无污染等特点，用其稀释汽油可得到“乙醇汽油”。比如，巴西已经将几十万辆汽车改装为使用“乙醇汽油”或酒精作为燃料，大大减轻了大气污染。

根据本文，理解正确的是：

- A. 燃油涨价影响汽车业
- B. 酒精完全可替代汽油
- C. 可以将植物制成酒精
- D. 巴西的污染非常严重

30. 电子游戏为我们展现了一个不同于现实生活的新世界，人们在游戏里取得的成功是可以清晰定义的而且是可以实现的。玩家可以在游戏中控制整个世界，从而摆脱现实生活的焦虑感，使自己的行为在虚拟世界中变得举足轻重，成为一名英雄，游戏结束，他并没有真的输掉或赢得什么东西。

这段话直接支持这样一种观点，即：

- A. 电子游戏完全是虚拟的东西，所以没有必要去浪费时间
- B. 人们可以通过电子游戏在真实世界和欲望世界中寻求心理平衡
- C. 人们在电子游戏中的成功是实在的，而且可以用来赚钱
- D. 游戏让人们不付出代价，轻松地满足成就感

31. 在社会生活中，人的角色支配了我们的感知，我们的注意力常常被人们日常的活动所吸引，往往缺乏对角色之外人的内心深处的了解，因而在一些看似深刻的关于人的认识中不免存在着基于表面化或主观化的观点。

这段话直接支持的观点是：

- A. 在社会生活中，人们都要充当各式各样的角色
- B. 我们在社会中的认识是建立在对各种角色的理解之上的
- C. 缺乏对角色之外人的了解，就会产生主观化或表面化认识
- D. 避免角色的影响，才能对社会中的人有更客观深刻的了解

32. 瑞士汽车的普及率很高，平均两人就有一辆，对富有的瑞士人来说，买辆豪华的“奔驰”或“林肯”轿车根本不在话下。然而，瑞士公路上行驶的大多数是“本田”、“大众”等普及型轿车，以及一些叫不出名的甲壳虫车。瑞士是“手表王国”，所产的“劳力士”、“雷达”和“欧米茄”等品牌手表名扬世界。以瑞士人的收入，花几千元买块“劳力士”只是很小的开支，但瑞士人大都戴普通手表，有的年轻人戴的甚至是塑胶电子表。

最适合做本段文字标题的是：

- A. 手表王国
- B. 汽车乐园
- C. 富裕的瑞士人
- D. 瑞士人的时尚

33. 森林与水血脉相依，森林作为陆地生态系统的主体和自然界功能最完善的资源库，具有调节气候、涵养水源、保持水土、防风固沙、改良土壤、减少污染等多种功能，对保护人类生态环境起着决定性和不可替代的作用。森林可以涵养水源。据专家研究，森林对降雨有着重新分配的作用，25%的降雨量可为植被蓄存吸收。一般认为，5万亩的林木就相当于一座100万立方米的水库。

这段话主要谈论的是：

- A. 保护森林的重要性
- B. 保护水源的重要性

- C. 人类生存的生态环境
D. 水与森林的依存关系
34. 肤色是人体美的重要特征。面部皮肤是最吸引引人注目的地方，健美的面部皮肤可以增添人的姿色，反映人的健康状况和精神面貌。中国人大多是黄肤色人种，光洁柔润、白里透红的颜面，往往被人们称道和羡慕。依据这段话，下列说法正确的是：
- A. 中国人肤色最美丽
B. 世界各地的人们都喜欢中国人
C. 面部皮肤是肤色美的集中体现
D. 观察面部肤色就可以透视人的内心
35. 即使笔试成绩优秀的考生，对于面试也有心理压力，毕竟面试形式多样，考官提问出其不意，所以，面试对考生是有挑战性的。虽然，绝对不可能有万无一失的应试方法，但是，下面的一些建议可以帮助你提高应试能力，增加成功可能性。由此可推知下面的内容是关于：
- A. 考官提问的各式问题
B. 各色各样的面试形式
C. 面试失败的主要原因
D. 应试回答的注意要点
36. 环境问题一旦发生，再来治理，非但费事劳神，而且难以转变，甚至不可逆转。因而，“先发展，后治理”的观点不仅是片面的，而且是非常危险的。这段话主要支持了这样的观点，即：
- A. 环境问题是一个复杂的问题
B. 对环境问题必须防治结合，以防为主
C. 对重大工程必须先进行环境综合评价
D. 治理环境问题费事劳神
37. 纠风工作要按照“为民、务实、清廉”的要求抓好抓实，要坚持“谁主管谁负责”、“管行业必须管行风”的原则，着力构建长效机制，建立和完善齐抓共管的责任机制、纠建并举的预防机制、群众广泛参与的监督机制、着眼治本的创新机制，不断铲除源头上滋生不正之风的土壤和条件。最能准确复述这段话的是：
- A. 纠风工作要多管齐下、标本兼治
B. 纠风工作要建立和完善齐抓共管的责任机制
C. 纠风工作要依靠广大群众参与监督
D. 纠风工作要从源头治理，做到长治久安
38. 多年以来，医生和家属对待癌症患者大多采用这样的态度：即向患者隐瞒已得癌症的实情，这种做法在医学上叫做“保护性医疗”，其目的在于减少患者的心理负担。但是，某肿瘤医院新设立的康复科的张主任却主张实行“公开性治疗”。由此可推知下文将要论述的是：
- A. 医生和家属在实行“公开性治疗”过程中如何具体分配
B. “保护性医疗”的弊端
C. “公开性治疗”将使病情得到控制和好转
D. “公开性治疗”的含义和形式
39. 大多数传译人员都认为，最不好办的就是讲话人用难以翻译的文字游戏开玩笑。人们讲话时最注意的恐怕莫过于自己说的笑话所引起的反应了。如果讲话人由于自己的幽默而忍俊不禁，听众却一个个莫名其妙，那么谁都不会感到舒服了。关于这段话，下列说法正确的是：
- A. 大多数传译人员对翻译讲话人用文字游戏开的玩笑多少力不从心
B. 对外国人说话不应该搞文字游戏
C. 讲话人喜欢用文字游戏讲笑话

- D. 即使听众听了莫名其妙，讲话人讲笑话也会忍俊不禁
40. 中国的专利申请平均每年以48%的速度增长。中国的专利实施只占专利总量的20%~30%，与国外达80%的实施率相比，专利差距很大。在中国专利申报总量中只有15%来自于企业，而发达国家的专利申请80%来自于企业。
- 这段话支持了这样一种观点，即：
- A. 中国科技创新进步势头迅猛
B. 中国的科技创新不仅要注重开发研究，更要加强推广和实施科技成果
C. 中国科技创新水平与国外相比差距很大
D. 中国企业不像科研院所和高校那样重视科技创新活动
41. 目前，研究人员尚不能确定，是先有抑郁症，还是先有沉溺网络，但有一点是肯定的，即两者之间是一种恶性循环。抑郁症可以使青少年更加沉溺于网络，有抑郁症状的青少年基本没有生活目标，网络游戏中获得的虚拟奖励对他们来讲很有吸引力，虽然网络世界四通八达，但沉溺其中的青少年的内心却异常孤独。
- 这段话支持了这样一种观点，即：
- A. 抑郁症和沉溺网络两者之间存在一种恶性循环，对青少年的负面影响极大
B. 网络世界四通八达，但沉溺其中的青少年内心却是异常的孤独
C. 抑郁症可以使青少年更加沉溺于网络世界
D. 有抑郁症状的青少年基本没有生活目标，网络游戏中获得的虚拟奖励对他们来讲很有吸引力
42. 人们谈到要培养儿童成才，首先考虑的是如何提高他们的智力、如何提高他们的学习成绩。似乎成绩好的孩子将来就有出息。其实，这种看法是不全面的。不少研究资料表明，世界上有名的科学家、企业家、社会活动家，其成功的因素中，智力因素才占了三分之二。
- 这段话主要支持的观点是：
- A. 考虑如何提高孩子的智力是错误的
B. 应当关注儿童成才培养过程中智力和非智力的全面发展
C. 科学家的成功归根结底取决于非智力因素
D. 只有提高儿童智力，才能提高他们的学习成绩
43. 森林是人类文明的摇篮，是最直接影响人类能否生存下去的生态因子。森林吸收二氧化碳，释放氧气，以此平衡着大气二氧化碳的比例，据估计，世界上的森林和植物每年产4000亿氧气。森林是造雨者，不但影响降水量，且减缓山坡上的土壤侵蚀。
- 这段话主要支持了这样一种论点，即森林：
- A. 是造雨者
B. 是“天然氧吧”
C. 是人类文明的摇篮
D. 是人类生存环境的重要组成部分
44. 中国资源价格主要存在两大方面的问题，一是资源价格基本上是政府定价或政府指导价，只反映了资源开发成本，没有全面覆盖环境破坏成本和安全生产成本，资源税也很低，更重要的是没能真实反映市场供求关系和资源稀缺程度，致使资源价格偏低；二是资源性产品之间比价关系不合理。
- 最能准确复述这段话的主要意思的是：
- A. 中国资源价格没有真实反映市场供求关系和资源稀缺程度
B. 中国资源性产品之间比价关系不合理
C. 中国资源价格基本上是政府定价或政府指导价
D. 中国资源价格存在着盲目定价和比价关系不合理的问题
45. 《中国青年报》载文指出，数十名经济学家认为我国城市贫困问题明显加重。专家们认为，这样一个庞大

的贫困群体可能来自于：国有企业改革和调整导致失业群体，资源枯竭型城市里大量具有正常劳动能力的城市居民，退休较早、仅依靠退休金的老年人，流入城市、成为城市新贫困阶层的大量农村人口。同时，社会保险、教育培训、医疗保障等制度上的缺位与失效，也在随时随地制造和产生着新的城市贫困人群。

关于这段话，下列说法正确的是：

- A. 我国城市贫困群体由多种原因形成
- B. 流入城市的大量农村人口不能算作城市新贫困阶层
- C. 资源枯竭型城市里具有劳动能力的市民不会贫困
- D. 退休较早、仅依靠退休金的老年人生活有保障不会贫困

在美国的佛罗里达海岸，城市的灯光曾造成刚破壳而出的小海龟迷路，使一些小海龟忽然爬向错误的方向，引导小海龟踏上了死亡之途。在很多场合下，即使动物们不直接暴露于灯光之下，它们也难以摆脱光污染的伤害，城区里的灯光会通过云层反射下来，使夜空处在非自然的光亮下，科学家们称这种情形为天空赤热。

最早指出天空赤热危害的是天文学家，因为这种光现象极大阻碍了他们对星空的观测。佛罗里达的科学家迈克尔·萨曼认为，钠灯也许可以成为城市的新光源。钠灯释放一种特殊的黄色波长，天文观测时，这种光波对观测的影响相对较小，而且对海龟和飞蛾之类的动物也不会造成伤害。萨曼说，海龟也许根本看不见钠灯，即使看见了，这种频率的光波也不会对它们的方向判断造成混乱。

然而，钠灯并不是万用良方。对于有些动物而言，钠灯的黄色光波和其他灯光的光波并无差异，有时甚至比传统的灯光显得更糟。突然暴露于灯光中的青蛙会延缓它们的进食和生殖行为。在黄光和红光下，火蜥蜴甚至无法从一个地方移动到另一个地方。灯光的照射使水生无脊椎动物在夜间的活动量减少，其后果就是减少了这些无脊椎动物对藻类的消耗，造成藻类的恶性繁殖，水质下降。灯光还可能对鸟类的磁场定位系统造成扰乱，使这些鸟儿时常迷失在电视塔的附近。灯光可以削弱飞蛾的防御反应，使飞蛾在遇到危险时失去逃跑能力。

_____是那些有能力适应人造光的动物，它们在进化的过程中也不得不付出生物学的代价：某些异常的品质受到奖赏，_____在正常的自然状态下，它们_____变得不适应了。从逻辑上说，这样的进化选择将导致动物渐渐适应永恒的光照环境，并进化一些新的品质，它明显不同于在黑暗环境中生存的野生动物。假若让正常状态下和非正常状态下的这种动物交配繁衍，那将给这种动物带来灭绝的危险。

也许，我们的确到了找回那片失落星空的时候了。


46. 下列对“天空赤热”的解释，最准确的一项是：

- A. 天空赤热是能够伤害到不直接暴露于灯光之下的动物的一种污染现象
- B. 天空赤热是人造光通过云层反射下来，使夜空处在非自然的光亮下，进而对动物和星空等产生危害的一种光污染情形

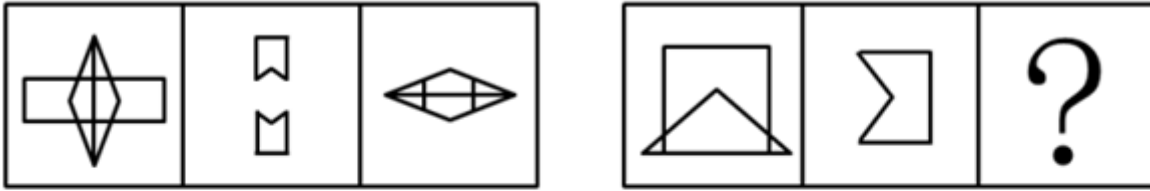
- C. 天空赤热是一种由天文学家最早指出的极大地妨碍星空观测的光现象
 D. 天空赤热是一种连暂时能适应人造光的动物都难逃其害的光污染情形
47. 不属于迈克尔·萨曼将钠灯视为城市新光源理由的一项是：
 A. 传统的灯光会对动物和天文观测带来极为不利的影响
 B. 钠灯释放的特殊的黄色光波对天文观测的影响相对较小
 C. 钠灯释放一种特殊的黄色波长，不会对海龟和飞蛾之类的动物造成伤害
 D. 钠灯的光波不会对海龟的方向判断造成混乱
48. 对文中划线的“非正常状态下的这种动物”理解不正确的一项是：
 A. 由于某些异常的品质受到奖赏，对正常的自然状态反而不适应的动物
 B. 主要指在非自然的自然状态下，即黑暗环境中生存的野生动物
 C. 在进化中选择了那些能够适应人造光的异常品质，从而与在黑暗环境中生存的野生动物有明显不同的动物
 D. 进化出一些新品质，渐渐适应了永恒的光照环境的动物
49. 下列有关光污染的表述，说法正确的一项是：
 A. 人类对光污染的研究是从1988年开始的
 B. 人造光既减少水生无脊椎动物的活动量，又造成水藻的恶性繁殖，水质下降
 C. 鸟类时常迷失在电视塔附近，可能是因为灯光扰乱了它们的磁场定位系统
 D. 灯光可以使飞蛾丧失防御能力，在遇到危险时不知道逃跑
50. 根据文意，第5自然段中横线上的连词，依次是：
 A. 虽然，至于，也
 B. 除非，或许，仍然
 C. 尽管，不过，反而
 D. 即使，而，却

第三部分 判断推理

本部分包括图形推理、定义判断、类比推理与逻辑判断四种类型的试题，请按每道题的答题要求作答。

51. 
- A. 如图所示 B. 如图所示 C. 如图所示 D. 如图所示

52.



A

B

C

D

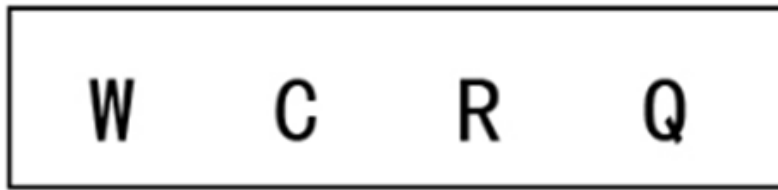


A. 如图所示

B. 如图所示

C. 如图所示

D. 如图所示

53.



A

B

C

D

A. 如图所示

B. 如图所示

C. 如图所示

D. 如图所示

54.



A

B

C

D

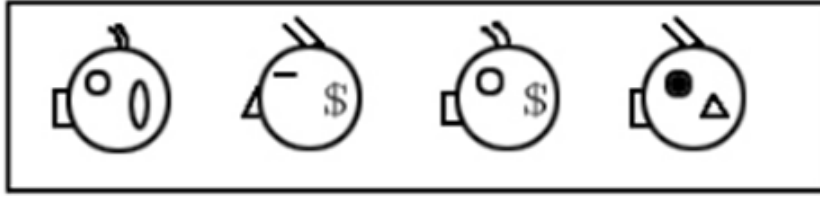
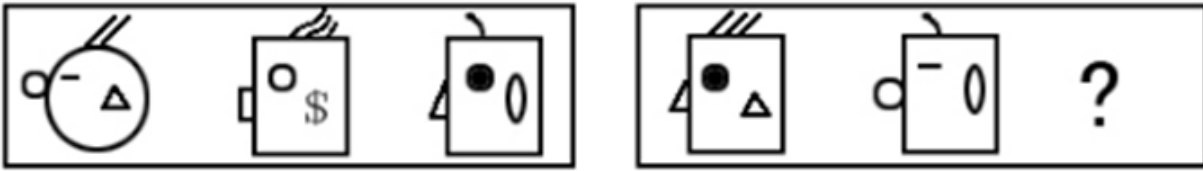
A. 如图所示

B. 如图所示

C. 如图所示

D. 如图所示

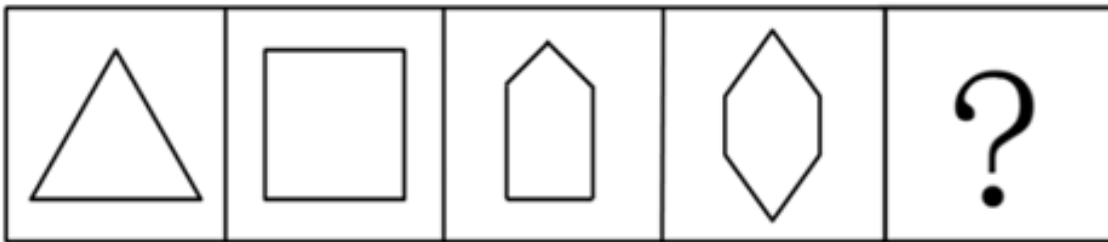
55.



A B C D

A. 如图所示 B. 如图所示 C. 如图所示 D. 如图所示

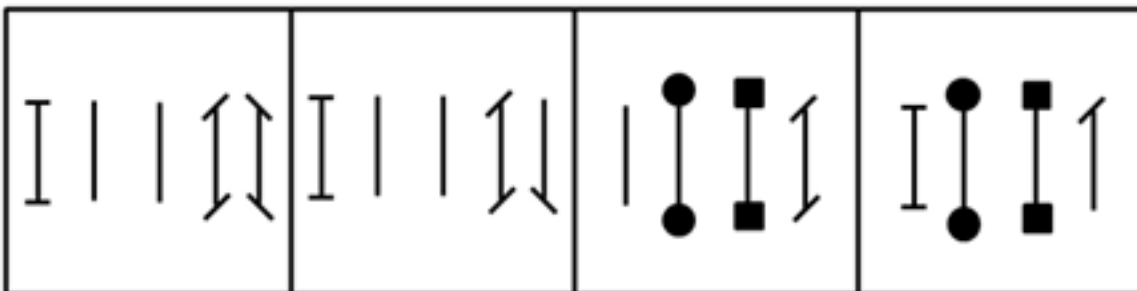
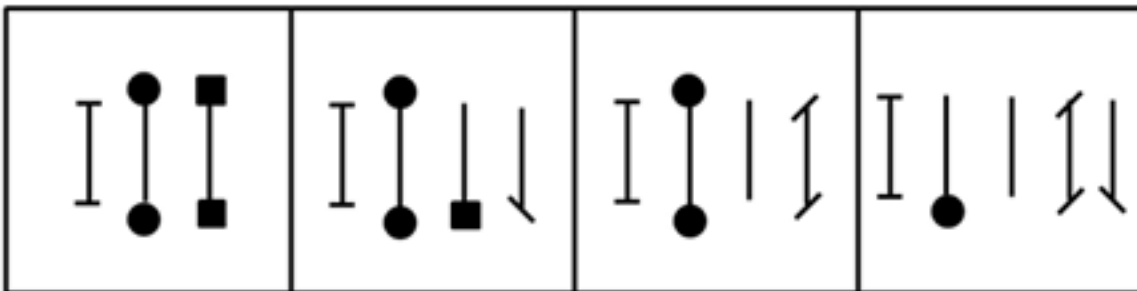
56.



A B C D

A. 如图所示 B. 如图所示 C. 如图所示 D. 如图所示

57.



A B C D

58. A. 如图所示 B. 如图所示 C. 如图所示 D. 如图所示

--	--	--	--	--

A	B	C	D

59. A. 如图所示 B. 如图所示 C. 如图所示 D. 如图所示

--	--	--	--	--

A	B	C	D

60. A. 如图所示 B. 如图所示 C. 如图所示 D. 如图所示

--	--	--	--	--

A	B	C	D

- A. 如图所示 B. 如图所示 C. 如图所示 D. 如图所示
61. 犯规：罚球
A. 抄袭：警告 B. 加油：开车 C. 感冒：吃药 D. 受伤：包扎
62. 起跑：冲线
A. 点火：添煤 B. 剪彩：典礼 C. 航行：抛锚 D. 构思：定稿
63. 掌舵：划桨
A. 伙伴：搭档 B. 领导：顾问 C. 向导：跟班 D. 指挥：演奏
64. 节拍：旋律
A. 线条：色彩 B. 小品：相声 C. 木刻：雕塑 D. 造型：艺术
65. 报警：警报
A. 来回：回来 B. 书写：写书 C. 给付：付给 D. 开水：水开
66. 开拔：出发
A. 歇会：小憩 B. 宴请：饭局 C. 打扰：抱歉 D. 珍藏：收藏
67. 丹顶鹤：白头翁
A. 花面狐：长颈鹿 B. 北极熊：唐老鸭
C. 金钱豹：草珊瑚 D. 响尾蛇：坐山雕
68. 武术：太极拳
A. 游泳：跳水 B. 田径：跨栏 C. 击剑：射击 D. 举重：柔道
69. 男人：女人
A. 黑：白 B. 左：右 C. 高：矮 D. 生：死
70. 书籍：装帧
A. 策划：设计 B. 粉刷：油漆 C. 服装：熨烫 D. 理发：美容
71. 佣金：通过自己的独立劳动，为他人提供中介服务所获得的社会物质报酬。
下面属于佣金的是：
A. 小李创办猎头公司，为用人单位引进人才，按照所引进的人才年薪30%的比例，向用人单位收取服务费用
B. 王丰是上市公司的董事长，去年年薪达到200万元
C. 李阿姨用多年的积蓄，买了一套沿街门面房租给他人经营，每月租金5000元
D. 经查实，销售部经理的工作很受客户好评，上月公司客户刘老板亲自送来红包1万元
72. 拍卖：委托人将物品委托专门机构竞价销售，专门机构在完成委托义务后获得报酬的行为。
以下属于拍卖行为的是：
A. 老王收藏的晚清时期的瓷器，寄放在开古董店的老李那里，请他找个好价钱脱手
B. 拍卖师林清陪朋友刘峰到二手房交易市场，将刘峰的别墅卖得高价，刘峰拿出5000元作为酬谢
C. 金城拍卖公司接受某公司的请求，将一部八成新的桑塔纳轿车买下，以便业务人员出差
D. 法院判决王某犯有贪污受贿罪，判处有期徒刑10年，对其非法财产予以没收，指定拍卖公司拍卖，所得款项上缴国库
73. 胜任力：员工在工作情境中，为完成工作所具备并体现出来的知识、技能、能力、态度、动机等关键特征。
以下表现为胜任力的行为是：
A. 小张请领导和同事来家吃饭，亲自下厨做了几道“看家菜”，大家交口称赞
B. 元旦刚过，小李请姑父和客户打招呼，为公司签订了一个大订单，打响“开门红”
C. 还在试用期的小王，用了整整一周时间，才整理出合格供应商的名单和真实报价

- D. 上个月，小周所在班组在全厂考核中也被评为优秀班组
74. 村务公开：农村基层自治组织，采取适当的措施，依法将本村公共事务的信息向村民公布，接受群众监督的行为。
- 下列不属于村务公开的行为是：
- A. 春节前，村委会主任通过村广播通报政府救灾款物已到的信息
- B. 村头公告栏每季度按时公布村委会办公招待费使用情况
- C. 乡党委下派干部就村党支部换届选举问题征求党员意见
- D. 村委会文书给外出务工农民一一打电话，通报他们资助兴建的村办幼儿园工程进展情况
75. 高峰体验：人在追求自我实现过程中，经过基本需求的追求并获得满足之后，在追求自我实现时体验到的一种臻于顶峰而又超越时空和自我的心理满足感和成就感。
- 下列不属于高峰体验的是：
- A. 运动员经过奋力拼搏终于登上冠军领奖台时的激动心情
- B. 电视机前的观众看到中国制造的火箭遨游太空时的豪迈心情
- C. 科学家排除困难，解决重大科研难题后的畅快心情
- D. “十年寒窗苦读，今日金榜题名”时的愉悦心情
76. 羌特勒是一种野生蘑菇，生长在能为它提供所需糖分的寄主树木——例如道格拉斯冷杉下面。反过来，羌特勒在地下的根茎细丝可以分解这些糖分，并为其寄主提供养分和水分。正是因为这种互惠的关系，采割道格拉斯冷杉下面生长的羌特勒会给这种树木造成严重的伤害。
- 下面哪一个判断如果正确，对上面的结论提出了最强有力的质疑：
- A. 道格拉斯冷杉算不上什么名贵稀有树木
- B. 羌特勒不仅生长在道格拉斯冷杉树下，也生长在其他寄主树木下面
- C. 其他野生蘑菇也有长在道格拉斯冷杉树下的，与羌特勒的特点相似
- D. 对野生蘑菇的采割反而刺激了它的生长
77. 只有部分人能德才兼备。有的人有“德”但缺乏“才”，而有的人有“才”却没有“德”。前者虽然对社会贡献不大，但对社会没有危害；后者“才”越大对社会危害就越大。由此可见：
- A. “才”越大的人“德”越少
- B. 有些人“才”越小对社会越有利
- C. “才”的大小不影响人对社会贡献的多少
- D. 应当使更多的人德才兼备
78. 春节期间，学校保卫处计划为所有春节不回家的学生提供勤工俭学的机会，一方面是缓解春节期间保卫处人员不足的压力；另一方面是想为这些贫困大学生缓解经济压力。
- 下列哪一项并不能够质疑保卫处的这项计划：
- A. 春节不回家的学生并不一直都是经济困难生
- B. 春节期间学校治安任务艰巨，学生难以胜任
- C. 保卫处资金有限，春节不回家的学生数目较多
- D. 大多数不回家的学生都报了寒假英语补习班
79. 为验证一种治疗高血压的新药疗效如何，临床医生给100位高血压患者使用该药物，有65人的血压的确下降了，因此制药厂宣称该药的确有效。
- 最能削弱以上结论的是：
- A. 服药期间测量血压时间不固定，而高血压患者的血压在一天中原本就有一定的波动

- B. 给高血压患者服用一种和该药物外型一致但不含药物成分的药片，患者血压不下降
- C. 给一组100名高血压患者服用该药物，另外一组100名高血压患者服用外型一致但不含药物成分的药物。前一组患者中血压下降人数和后一组患者中一样多
- D. 医生给1000名高血压患者使用该药物，患者中只有500人血压下降
80. 下列推理正确的是：
- A. 只有开启电源开关，电脑才会运行；这台电脑没运行，可见没有开启电源开关
- B. 翻译要学好外语，我又不当翻译，所以，我无须学好外语
- C. 如果公路被冰雪覆盖，汽车就不会按时回来。果然汽车没有按时回来，可见，公路被冰雪覆盖了
- D. 鸵鸟不会飞，鸵鸟是鸟，所以，有的鸟不会飞
81. 根据电视收视率调查，看体育节目的观众中青年人比中老年人要多。由此可推断出：
- A. 体育节目可能更适合青年人的兴趣
- B. 体育节目是专属青年人的运动
- C. 中老年人不喜欢体育节目
- D. 青年人比中年人更擅长体育运动
82. 意大利的那不勒斯城附近有个石灰岩洞，人们带着牛马等大牲畜通过岩洞未发生问题，但是猫、老鼠等小动物走进洞里就倒地而死。后来人们经过检验发现，小动物的死亡与吸进大量二氧化碳有关。据此可以推断出：
- A. 石灰岩洞内严重缺氧
- B. 大牲畜更适应缺氧的环境
- C. 人和牛马都带有吸氧设备
- D. 石灰岩洞内地面沉积着二氧化碳
83. S企业与J企业生产和销售一样的仪表，S企业和J企业中员工的工资都占生产仪表成本的40%，S企业正在寻求强于J企业的竞争优势。因此，为达这个目的，S企业应该降低员工的工资。以下哪一项如果是正确的，将最能削弱上述论述：
- A. 因为他们生产少量的精密仪器，仪表制造商们不能在原材料上获得批量折扣
- B. 工资降低会降低员工工作质量，继而导致销量下降
- C. J企业去年抢走了S企业20%的生意
- D. S企业付给它的员工的工资，平均说来，比J企业高10%
84. 一种海洋蜗牛产生的毒素含有多种蛋白，把其中的一种给老鼠注射后，会使有两星期大或更小的老鼠陷入睡眠状态，而使大一点的老鼠躲藏起来。当老鼠受到突然的严重威胁时，非常小的那些老鼠的反应是呆住，而较大的那些老鼠会逃跑。以上陈述的事实最有力地支持了以下哪项假说：
- A. 非常小的老鼠很可能与较大的老鼠一样易于遭受突发性的严重威胁
- B. 注射到鼠体的包含在蜗牛毒素中的蛋白的主要功能是通过诱导蜗牛处于完全的静止中而起到保护蜗牛的作用
- C. 如果给成年老鼠大剂量地注射这种蛋白质，也会使它们陷入睡眠状态
- D. 老鼠对突然的严重威胁的反应受其体内生成的一种化学物质的刺激，这物质与注射到老鼠体内的蛋白质相似
85. M城位于E湖边，C城位于M城西边，S城在C城的东边，D城在R城的东边，又在S城与C城的西边，最靠西的城市是：
- A. M城
- B. D城
- C. C城
- D. R城

第四部分 常识判断

根据题目要求，在四个选项中选出一个最恰当的答案。

86. 宪法是国家根本大法，具有最高法律效力，下列有关宪法法律效力的表述正确的是：
- 在不成文宪法的国家中，宪法的法律效力高于其他法律
 - 在我国，任何法律法规都不得与宪法规范、宪法基本原则和宪法精神相抵触
 - 宪法的法律效力主要表现为对公民的行为约束
 - 宪法的法律效力不具有任何强制性
87. 根据我国宪法规定，下列关于私有财产权的表述不正确的是：
- 公民合法的私有财产不受侵犯
 - 国家依照法律规定保护公民的私有财产权和继承权
 - 任何人不得剥夺公民的私有财产
 - 国家为了公共利益的需要，可以依照法律规定对公民的私有财产实行征收或者征用并给予补偿
88. 根据宪法和组织法的规定，下列有权制定地方性法规的机关是：
- 合肥市蜀山区人民代表大会
 - 安徽省人民政府
 - 中共合肥市委
 - 合肥市人民代表大会
89. 下列不属于行政许可法调整范围的是：
- 老王下岗后自谋出路，想自己开一个小饭馆，于是向工商局提出申请，工商局经审查，发给了老王营业执照
 - 公安交通管理部门根据李某的申请，发给李某驾驶执照
 - 某大学希望上级教育主管部门拨款对学校扩建，上级教育主管部门对其申请予以审批
 - 进出口食品检疫机关，对某公司的出口食品鉴定后，贴上了检疫标签
90. 提起行政复议的申请人是：
- 行政相对人
 - 行政机关
 - 上级行政机关
 - 检察院
91. 在行政诉讼中对具体行政行为的合法性负有举证责任的是：
- 原告
 - 被告
 - 第三人
 - 谁主张谁举证
92. 行政诉讼法规定，因限制人身自由的强制措施引起的行政诉讼，由原告或被告所在地人民法院管辖。这里的原告所在地不包括：
- 临时居住地
 - 经常居住地
 - 被限制人身自由所在地
 - 户籍所在地
93. 张某家住北京市东城区，在朝阳区有一处商业用房，市拆迁办（在西城区）决定对其商业用房拆迁，张某不服，诉至法院，应由_____受理。
- 朝阳区法院
 - 西城区法院
 - 东城区法院
 - 北京市高级人民法院
94. 工商行政管理机关可以对经营者的违法行为进行行政处罚，但不得采取的措施是：
- 罚款
 - 警告
 - 吊销营业执照
 - 行政拘留
95. 张某因扰乱社会治安受到公安机关的行政处罚，张某认为处罚太重，应当如何处理：
- 直接起诉
 - 先申请复议，若不服复议决定再起诉
 - 既可申请复议，也可直接向法院起诉
 - 向人民法院起诉或向人民法院复议

96. 股票是股份公司发给股东的入股凭证，购买股票后，股东成为：
- A. 企业法人 B. 公司的债主 C. 企业的经营者 D. 公司的所有者
97. 王某将与其有私仇的李某打昏在地后逃走，此时李某的熟人张某路过，见李某不省人事，遂将其手机、钱包拿走。本案中：
- A. 王某构成故意伤害罪，张某没有犯罪
B. 王某构成故意伤害罪，张某构成盗窃罪
C. 王某构成故意伤害罪，张某构成抢夺罪
D. 王某、张某共同构成故意伤害罪和盗窃罪
98. 下列属于社团法人的是：
- A. 市科协 B. 某校办工厂 C. 建设银行 D. 国税局
99. 下列属于行政诉讼受案范围的是：
- A. 某行政机关对其工作人员的开除处分
B. 政府交通管理部门关于在某一时期对某条街实行禁止通行的公告
C. 某环保局责令某企业停产整顿治理环境污染的决定
D. 某行政机关对下属机关通报批评责令整改的通报
100. 下列不适用产品质量法规定的产品是：
- A. 商场销售的燃气热水器 B. 房地产公司开发的商品房
C. 张某手工制售的仿古家具 D. 外企在我国境内销售的手机
101. 下列机构（简称）不属于我国民主党派的是：
- A. 侨联 B. 民革 C. 台盟 D. 民盟
102. 下列部门中承担政府内部事务管理职能的是：
- A. 人民检察院 B. 纪律检察委员会
C. 人民法院 D. 行政监察部门
103. 十七大召开前，党代表的条件、选举产生程序、代表名额分配、构成比例等基层党员关注的细节问题向社会公开。中央要求，候选人的推荐提名从基层开始，所有基层党组织和党员参加。下列观点不正确的是：
- A. 选举党代表是公民的一项基本政治权利
B. 民主集中制是我党的根本组织制度和领导制度
C. 党务公开是执政党与时俱进的体现
D. 党内民主是党的生命，有利于实现党的宗旨
104. 关于人权，下列表述错误的是：
- A. 人权是一个社会历史范畴，不同社会、不同阶级有不同的人权观
B. 人权是“天赋”的，和公民权是一回事
C. 人权的本质是自由和平等，目标是人的生存和发展
D. 人权不仅是个人的权利，也包括集体乃至人类生存和发展的权利
105. 在公共政策执行的起始环节中，核心内容是：
- A. 目标宣传 B. 任务宣传
C. 意义宣传 D. 方法和步骤宣传
106. 党的十七大报告首次提出了“创造条件让更多群众拥有财产性收入”。下列属于居民财产性收入的是：
- A. 一切非劳动收入
B. 出租土地、房屋取得的收入

- C. 凭借自己的生产资料从事生产经营活动所获得的收入
D. 从社会保障中获得的收入
107. 十七大报告指出，要坚持和完善按劳分配为主体，多种分配方式并存的分配制度，健全劳动、资本、技术、管理等生产要素按贡献参与分配的制度，_____。
- A. 初次分配注重效率，再分配注重公平
B. 初次分配和再分配都要处理好效率和公平的关系
C. 初次分配要注重公平，再分配注重效率
D. 初次分配和再分配都要处理好效率和公平的关系，再分配更加注重公平
108. 改革开放以来，我国不断大力发展高新技术产业，建立了不少高新技术产业工业园区，其最不可能的原因是：
- A. 发展高新技术产业可以增加地方财政收入
B. 发展高新技术产业可以形成新的经济增长点
C. 发展高新技术产业可以推动产业结构升级
D. 发达国家高新技术产业重心已经转移到发展中国家
109. 国际上用来综合考察居民间收入分配差异状况的一个重要分析指标是：
- A. 恩格尔系数 B. 基尼系数 C. 道·琼斯指数 D. 纳斯达克指数
110. 基层行政组织结构的基本形态是：
- A. 职能制 B. 直线职能制 C. 直线制 D. 矩阵制
111. 某部门负责人被上级领导批评为“控制的太多，而领导的太少。”他在工作中存在的主要问题最可能是：
- A. 对下级的生活困难缺乏足够的关心 B. 对工作任务的完成没有充分的关注
C. 事无巨细，事必躬亲 D. 没有和下级进行有效沟通
112. 某员工在一个岗位上已经工作多年，他现在的工作却并不令人满意，上级领导对此也感到十分困惑。你认为对他最好采取的措施是：
- A. 与他共同分析原因，寻求改进的措施
B. 让他继续留在现岗位，再注意观察一段时间
C. 向他转达领导的看法，希望他努力改进工作
D. 明确告诉他，若不改进工作，将要被解雇
113. 李明同学说话喜欢引经据典，在下面几种情境讲话时，他引用的古诗文恰当得体的一项是：
- A. 同学张华要到外地去上大学，李明给他送行时说：“‘与君离别意，同是宦游人’张华，你一人远走他乡要多多珍重啊！”
B. 同学刘欣作文时想找一句表现读书乐趣的名句，李明不假思索地说道：“这还不容易，‘谈笑有鸿儒，往来无白丁’嘛！”
C. 李明和同学一起去春游，面对着满园盛开的梨花，他情不自禁地说道：“真可谓‘忽如一夜春风来，千树万树梨花开’太美了！”
D. 李明的同桌张海学习上得过且过，不求甚解。李明意味深长地对他说：“‘学而不思则罔’你可不能总是浅尝辄止啊！”
114. 以下说法完全正确的是：
- A. 按表达方式分，诗歌可以分为抒情诗、叙事诗，《木兰诗》、《周总理，你在哪里》都是叙事诗
B. 《背影》和《春》都是朱自清的散文，《藤野先生》、《社戏》都选自鲁迅的小说集《呐喊》
C. 《最后一课》和《竞选州长》都是短篇小说，前一篇的作者是都德，后一篇的作者是马克·吐温，他们都

- 是法国人
- D. 《捕蛇者说》的作者柳宗元，《陋室铭》的作者刘禹锡和《石壕吏》的作者杜甫，都是唐朝人
115. 以下是对中国文化艺术的文言别称，属于美术的是：
- A. 丝竹 B. 墨宝 C. 丹青 D. 金石
116. 两千多年来，儒家思想之所以能够长盛不衰，主要是因为：
- A. 中国崇尚以德治国，儒家思想受统治阶级重视
B. 中国是礼仪之邦，儒教思想集礼教之大成
C. 儒家思想本身具有兼容和发展的特性
D. 其它思想对儒家思想不构成威胁
117. 十九世纪中国的洋务派举办的民用工业和此后的中国民族资产阶级相同点是：
- A. 都由私人投资举办 B. 都采用西方先进技术
C. 经营管理上封建性极浓 D. 都为适应军事工业需要而举办
118. 下面哪一本书不是“四书”之一：
- A. 《大学》 B. 《春秋》 C. 《孟子》 D. 《中庸》
119. 下列文种中属于陈述性的上行公文是：
- A. 请示 B. 报告 C. 议案 D. 意见
120. 下列属于“判断”这一思维形式的语句是：
- A. 你是新来的吗 B. 年轻人应当表现更积极性
C. 啊！我们又赢了一场球 D. 这事不可能是小王干的
121. 多种鱼类背部发黑，腹部发白，其原因是：
- A. 长期进化形成的保护色
B. 背部比腹部接受光线多，导致色素沉淀
C. 背部比腹部黏膜厚，吸收光线多
D. 背部鱼鳞多，吸收光线多
122. 火车和汽车厢基本上是个金属封闭结构，在车厢里听不清半导体收音机的广播，却可以通过手机和外界通话，原因是：
- A. 半导体收音机的灵敏度大大低于手机
B. 二者电磁波的电磁场强度不同，穿透车厢的能力不同
C. 二者电磁波频率不同，穿透车厢的能力不同
D. 半导体收音机和手机接收处理电磁波信号的处理不同
123. 2007年10月，我国科学家宣布已经成功绘制完成第一个完整中国人基因组图谱，这也是第一个亚洲人全基因组序列图谱，被称为：
- A. 嫦娥一号 B. 长征二号 C. 炎黄一号 D. 神舟六号
124. 安徽省“861”行动计划中的“6”是：
- A. 六大城市经济区域 B. 六大重点产业基地
C. 六大基础工程 D. 六所重点高等院校
125. 我省50年代建成的佛子岭、梅山、磨子潭、响洪甸四大水库都在：
- A. 皖南山区 B. 江淮丘陵 C. 大别山区 D. 淮北平原

第五部分 资料分析

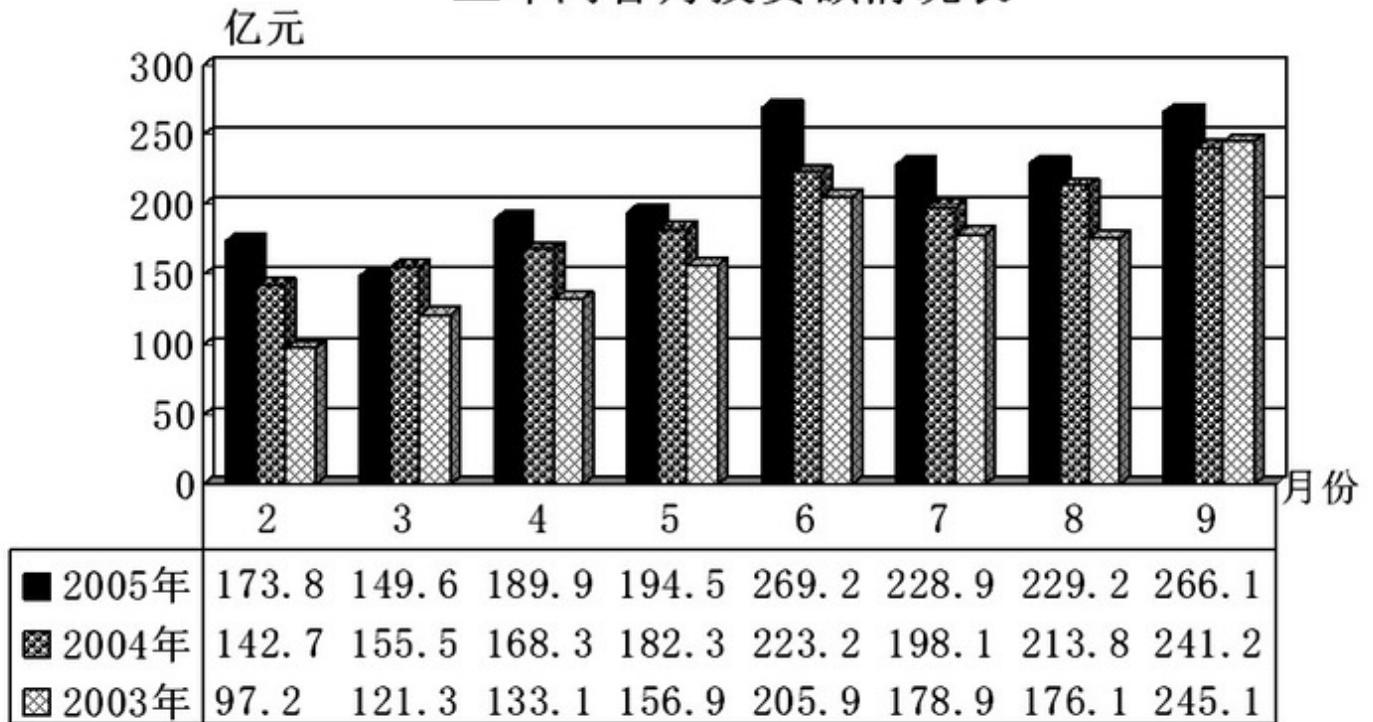
针对下列图、表或文字回答问题。你应根据资料提供的信息进行分析、比较、计算、处理。你可以在题本上运算。

2007年安徽省规模以上工业增加值

指标	绝对数(亿元)	比上年增长(%)
规模以上工业	2364.8	24.5
其中:轻工业	682.7	24.7
重工业	1682.1	24.5
其中:国有企业	284.0	13.7
集体企业	36.3	16.4
股份合作企业	17.2	26.3
股份制企业	1605.5	25.9
外商及港澳台商投资企业	353.1	26.3
其中:国有及国有控股企业	1114.5	15.3
其中:大中型工业企业	1567.1	17.0

126. 重工业增加值比轻工业增加值多了()亿元。
 A. 1000.6 B. 1000.4 C. 999.6 D. 999.4
127. 轻工业增加值为规模以上工业增加值的:
 A. 22.4% B. 24.6% C. 26.1% D. 28.9%
128. 国有企业增加值是集体企业增加值的
 A. 7.8倍 B. 5.5倍 C. 6.2倍 D. 8.6倍
129. 以下判断正确的是:
 A. 集体企业增加值增速最慢
 B. 国有企业增加值最少
 C. 外商及港澳台商投资企业与股份合作企业的增加值相同
 D. 在所有企业类型中,股份制企业增加值最多
130. 以下判断不正确的是
 A. 轻工业与重工业增加值的增长速度接近
 B. 外商企业增速是“一枝独秀”
 C. 大中型工业企业的贡献近三分之二
 D. 国有及国有控股企业几乎“半壁江山”

以下是某市2003~2005年2~9月的固定资产投资额情况
三年间各月投资额情况表



131. 2005年二季度与三季度同比增长比较，二季度
- A. 高了3% B. 低了3% C. 高了3个百分点 D. 低了3个百分点
132. 2005年6月的投资规模比2003年2月的投资规模大约增长了几倍？
- A. 1 B. 2 C. 3 D. 4
133. 从上图可知，三年中投资规模同比增长速度最快的是：
- A. 2004年2月 B. 2004年3月 C. 2004年8月 D. 2004年6月
134. 2004年年初至二季度末，投资规模同比增长的变化情况是：
- A. 上升 B. 回落 C. 持平 D. 波动
135. 下列哪句话是错误的：
- A. 2005年二、三季度的投资规模较2004年二、三季度各月的投资规模有不同幅度的增长
- B. 2004年上半年各月的投资规模较2003年上半年各月的投资规模有不同幅度的增长
- C. 2005年4-9月与二、三季度的投资规模的变化方向是一致的
- D. 2005年全年投资规模的同比增长速度是一路攀升的

据2006年4月6日《新闻晚报》报道，3月份人民币汇率双向波动加剧，上周人民币汇率上下波动更加明显，到上周五，一下升值100点，创下汇改以来8.0170新高。而本周人民币兑美元稍有下跌后又开始步步走高。周一，1美元兑人民币中间价8.0210元，周二，1美元兑人民币中间价8.0194元。而昨日（4月5日星期三）人民币兑美元汇率收盘价一举突破8.01关口，达到8.0073：1，首度升至8.0000平台，再创汇改以来新高。

根据中国外汇交易中心公布，2006年4月5日银行间外汇市场美元等交易货币兑人民币汇率的中间价为1美元兑人民币8.0116元，1欧元兑人民币9.8133元，100日元兑人民币为6.8242元，1港元兑人民币1.03252元。

数据显示，2005年中国的外汇储备猛增了2100亿美元，总额达到8120亿美元。美国的对华贸易逆差激起了美国人对巨额贸易赤字的焦虑感，因此一直要求人民币升值，希望以此来缓解巨大的贸易逆差。

136. 根据专家推断，2006年内人民币将升值3%左右，按4月5日外汇市场美元兑人民币汇率的中间价推算，人民币兑美元的汇率到2006年年底将跌至多少？

- A. 8.0000左右 B. 7.7713左右 C. 7.2055左右 D. 7.0000左右

137. 2006年4月5日人民币兑美元外汇的收盘价是（ ）创汇改以来的新高。

- A. 8.0000 B. 8.0073 C. 8.0116 D. 8.0194

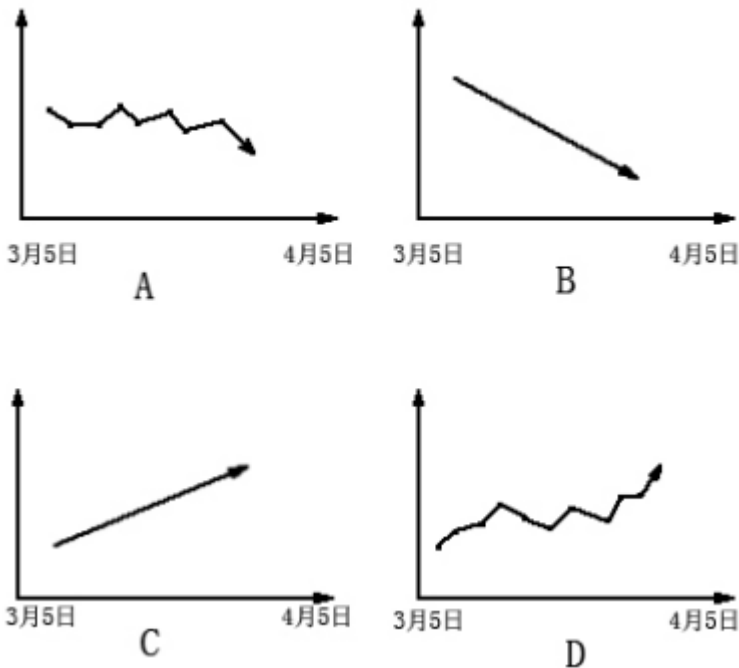
138. 2005年中国的外汇储备增幅为

- A. 20.86% B. 25.86% C. 30.88% D. 34.88%

139. 按4月5日人民币兑外币汇率的中间价，1欧元可换多少美元：

- A. 78.6202 B. 1.2249 C. 1.1429 D. 0.8164

140.



- A. 如图所示 B. 如图所示 C. 如图所示 D. 如图所示

扫一扫，对答案

