

2008年山西行测真题

真题更新时间：2022年10月28日23:31:20

扫描下方二维码下载小麦公考APP 刷海量题库掌握最新热点



QQ扫码直接下载

微信扫码到应用市场下载

支持所有机型哦

第一部分 言语理解与表达

本部分包括表达与理解两方面的内容。请根据题目要求，在四个选项中选出一个最恰当的答案。

1. 南太平洋上的岛国A国，空气清新，环境优美，每人每年享受政府发放的3.5万美元的零用钱，人们无需工作。但是，无法想象的是，生活在这里的人们，高血压、心脏病、脑中风居世界之最，有37%的人患糖尿病，为全球最高，全国只有1.3%的人活到60岁，是人均寿命最短的国家。

这段文字主要表达的是：

- A. 富足的代价
B. 生于忧患，死于安乐
C. 安逸是我们生命的杀手
D. 养尊处优、舒适安逸的A国人
2. 1923年国语统一筹备会决定采用北京语音标准，在全国推行，语言与方言不只是交流工具，而且是文化载体。现在，方言的萎缩即是一方文化的褪色。保持方言、民族语言与共通语的并存有利于保持文化的多样性，在推广普通话的同时也应让方言有一定的表达空间。而且方言不但应用于一方土地，还能丰富共通语的色彩，如粤语的“打的”“买单”“高企”与“烂尾楼”等词语已经进入共通语语汇，并且有所发展。

这段文字的主旨是：

- A. 提倡双语有利于保持传统文化与地方文化特色
B. 共通语认同有利于提高全民族文化水平与科技发展水平
C. 提倡双语、方言、民族语言与共通语并存
D. 任何一种共通语都是以某种方言为基础的
3. 我们如果把人生比作几何图形中的一个圆。在一个已经画好的圆上，你要找到起点在哪、终点在哪，固然是很困难的，但你要找出其半径有多长，则是比较容易的。圆有半径，人生也有半径。生命的宽度、厚度及重度，就是由你的人生半径决定的。人生半径越大，你的生命的空间也就越大。

这段文字的意思主要是：

- A. 生活中年少者的价值远胜于年长者的并不少见
B. 生命虽然是个充满变数的事物，但它也是可以度量的
C. 不是有生命就有价值，也不是活得越久就越有价值
D. 度量生命，首先应该度量你的所思所想、所言所行、所作所为
4. 有一家农场主，为了方便拴牛，在庄园一棵榆树的树干上箍了一个铁圈。随着榆树的长大，铁圈慢慢地长进了树身里，榆树的表皮留下一道深深的伤痕。一年后，当地发生了榆树病，方圆几十里开外的榆树全部死亡，唯独那棵箍了铁圈、留下深深伤痕的榆树却存活下来。植物学家研究发现，它从锈蚀的铁圈里吸收了大量的铁，才对真菌产生免疫力。

这段文字说明的道理是：

- A. 坚强的生命能把伤害变成财富和力量
B. 生命在逆境中创造惊人的奇迹
C. 伤痕有时会成为生命的一种养料

D. 生命在伤害中更坚强，更充满活力和希望

5. 年画作为民俗的一种具体表现形式，通过点、线、面、色等的巧妙组合，反映了民众的文化心理、审美观。在长期的生活实践中，民众的审美情趣以红为美，以大为美，以对称为美，以规范为美，都充分体现于年画艺术特色上。在农村，吉祥的含义包含着人们对美好生活的向往以及祝愿、期望、赞赏和歌颂的多种意思。

这段文字主要说的是：

- A. 年画传达着我国民间的美学形态
 - B. 年画体现出民众的审美情趣
 - C. 年画是人们在长期生活中形成的一种美好心愿
 - D. 年画反映了民众的文化心理和审美情趣
6. 大家知道，这次汶川地震，虽然危害很大、破坏性很强、造成的损失也十分惨重。但是，各种不利于抗震救灾、不利于社会稳定的谣传却几乎没有。一个重要的原因，就在于政府信息的公开透明，在于政府在第一时间向全国发布了汶川地震的消息，在第一时间向老百姓公布了地震的真相。真相走在了谣言的前面，谣言自然没有生存的土壤、没有传播的空间。

这段话主要支持了这样一个观点：

- A. 汶川地震破坏巨大的信息在社会上没有广泛传播
 - B. 有关地震谣言的危害要远远大于地震本身的危害
 - C. 我国政府对待汶川地震信息一事处理得非常及时
 - D. 信息透明、公布及时，可防止谣言的产生及传播
7. 30年前日本遭遇能源危机，这个资源匮乏的岛国不是被动地应对——在油价高起时节制消耗，在油价低廉时又恢复消费的无度，而是把能源危机变成提高国家经济竞争力的“黄金时机”，举国上下厉行节能，政府打出一系列“政策环保”牌，使得该国的能源使用效率不断提升，成为全球楷模。现在，高油价不仅对日本经济的冲击有限，反而，之前未雨绸缪建立的低资源消耗发展模式，使得日本企业在高油价时代更具竞争优势，低油耗汽车等日本产品风靡全球。

可以推知，日本应对能源危机的主动策略是：

- A. 油价高起时节制消耗，油价低廉时恢复无度消费
 - B. 改变能源使用方式，以非稀缺能源代替稀缺能源
 - C. 调整经济增长发力点，改变过分依赖能源的缺点
 - D. 改变消费观念，加强环保意识，提高能源利用率
8. 曾几何时，网络被视为只言片语的集散地、道听途说的原产地。这些对网络的陈旧认识，正在随着网络的发展而逐步被抛弃。今天，我国网民的数量已超过1.5亿，因特网全面渗入中国人的日常生活，网络文化产业正在赶上并超过传统文化产业的规模，网络文化变得日益丰富，网络理性的力量正在成为主流，对年轻一代的影响尤甚。那种忽视网络价值、贬低网络影响的观点，在信息技术日益发展的今天，是违背历史唯物论的。

可以推知，作者对网络的态度是：

- A. 肯定
- B. 否定
- C. 中立
- D. 不清楚

9. 海南泓缘生物科技公司从日本引进先进技术，经自主研发生产出泓缘菌并掌握相关应用技术，在普通环境里，用普通的喂养饲料，加上泓缘菌及相关的微生物应用技术，生产出符合国家绿色食品标准的猪肉、鸡肉等产品，有效解决了传统养猪业中药物残留高、猪场环境污染、猪肉口感差、产品达不到出口要求等4大问题。经农业部热带农产品质量监督检验测试中心检测，海南泓缘生物科技有限公司生产的猪肉、鸡肉等产品全部指标均达到国家绿色猪肉、禽肉质量标准。
- 这段话主要支持了这样一个观点，即海南泓缘生物科技公司：
- 注意国际合作，通过引进日本技术解决了很多的问题
 - 研发出来绿色肉类，解决了长期困扰我们的几个问题
 - 研发出的肉类，经权威部门检验，全部达到绿色标准
 - 在绿色肉类自主研发技术上已经达到国际前沿的水平
10. 炫耀的目的，都是希望在某个层次上获得成功，如某人确有钱财，确实美貌，确有文才，有口才，那你就炫耀吧，用现在一个词儿：展示。你总能获得局部成功，但成本太大，别人在认可你的同时，也要剥夺你本来具有的一些别的美德，比如稳重，比如谦虚。世人总是心照不宣地认为，看他那个讨厌劲儿啊！
- 由上述文字可推知，“炫耀”是：
- 施展的舞台
 - 成功的催化剂
 - “双刃剑”
 - 金玉其外，败絮其中
11. 特定的社会发展阶段，框定了相应的社会文化，特定的社会文化又决定着相应的财富文化，特定的财富文化决定相应的财富观。只有取之于民、用之于民的财富观已然成为社会较普遍的对财富的价值判断和价值追求时，盖茨式的、真正理解和认同“千金散尽还复来”的财富哲学的、热衷于慈善的企业家才会成批涌现。
- 这段话主要支持了这样一个观点，即：
- 中国的企业家不具备盖茨式的慈善精神
 - 社会发展阶段决定了特定的慈善企业家
 - 财富观正确与否在不同国度有不同答案
 - 慈善家的“井喷”需要相应的财富文化
12. 从管理角度上来讲，主管应该是强势的，“一只狮子带领的一群羊”会轻易击败“一只羊带领的一群狮子”。经营管理如同带兵打仗，作为团队领袖的主管，绝对需要稳定军心，给团队提起无论是精神上还是物质上的“主心骨”。缺乏强势，团队就缺乏士气和斗志，一个团队的强势是由这个团队的主管是否强势所决定的——虎啸震山岗，狮吼百兽惊！
- 这段话主要支持了这样一个观点，即：
- 团队主管的管理能力决定了这个团队的战斗力
 - 一个团队的强弱和团队主管的强弱有直接关系
 - “狮子”和“羊”的最大差距在于不同的首领
 - 只有团队强大了，其中的首领才能建立起威信
13. “道理”浅显易懂，是常理和常识，人们很容易识别其有“理”还是没“理”，同时也就不会轻易地盲从。而“真理”不一样，要么是自然世界的奥秘，要么是历史规律。这些都是平民百姓所不懂的。在“真理”

面前，百姓们处于绝对的低位态，只有靠上面那些精英人物灌输给他们“真理”的知识。对于其是否有“理”，他们是不知晓的。

可以推知，上述文字意在解释：

- A. “真理”比“道理”更具权威性的原因
- B. “真理”比“道理”难以被参悟的原因
- C. “真理”比“道理”被混为一体的原因
- D. “真理”比“道理”更具欺骗性的原因

14. 中国的粮食问题，仍然还是要靠自己，这是中国作为一个人口大国的国情所决定的。粮价是市场创造过程的客观结果，我们与其在价格干预上绞尽脑汁，不如把目光放长远，切实在农业基础设施、农业技术进步方面下大力气，珍惜每一寸土地，利用好每一项要素投入，保持粮食产量的稳定增长和粮食自给率的合适水平。在此基础上，才可能有“不管风吹浪打、胜似闲庭信步”的底气。

文中划线的“此基础”表示：

- A. 引进国外先进的农业技术，改变农业生产结构
- B. 提高粮食的销售价格，调动农民种粮的积极性
- C. 改善农业生产要素，保证足够适量的粮食产量
- D. 加大宏观调控，避免粮食市场掉入盲目的误区

15. 日本的文化在战后一直在潜移默化地影响着西方，现在越来越成为主流文化的重要组成部分，村上隆、奈良美智、村上春树已经成了世界流行文化的突出符号，在《黑客帝国》等一批好莱坞大片中可以清楚地看到日本动漫的影子。而在这些影响着世界(包括中国)的日本文化中，我们看到的并不是非常表面化的“菊与刀”之类的东西，而是更加本质的东西，有些东西需要仔细考量才能真正领悟。

这段文字主要说明：

- A. 日本文化已经渗透到了世界很多国家的文化领域
- B. 《黑客帝国》表明美国文化呈现出东方化的趋势
- C. 日本已经改变策略，我们要提防深层的文化侵略
- D. 要抵制异域文化的侵袭，需要我们提高分析能力

16. 美国五星上将麦克阿瑟统率百万雄师，驰骋沙场，却对自己的小儿子不听管教，不把书念好，无望进入西点军校而苦恼不已。将军尚且管教不了儿子，何况是普通人呢？现代青少年和麦克阿瑟儿子的时代不同、思想迥异，但其“叛逆不羁”的程度，实有过之而无不及，越来越难以管教了。

这段话主要支持了这样一个观点，即：

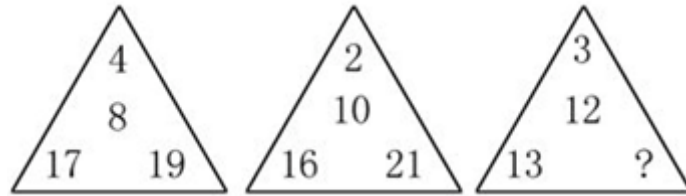
- A. 现在青少年难以管教，是普遍现象
- B. 美国上将都管不了孩子，何况常人
- C. 人无完人，管不了孩子，不用自责
- D. 对不同时代的孩子，管教方法不一

17. 网络的出现使人们更加敢于大胆地表露自己的想法，因为“在网络上，没有人知道你是一条狗”。从而网络传播也促进了快餐文化的盛行，受众不再静下心研究作品，而只追求视觉上的刺激，他们平时在网络上看到的信息今天一个样，明天又是另外一个样，长此以往，受众就会产生浮躁心理，对网络中的信息产生不信任。

最符合这段文字中心思想的是：

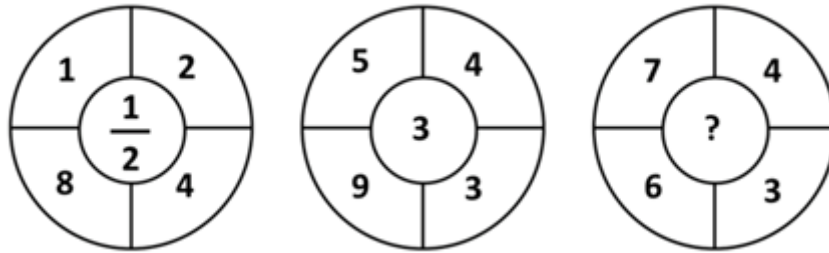
- A. 网络文化是快餐文化的典型表现形态之一
B. 主体隐蔽性致使网络文化及其传播产生负面效应
C. 从长远来看，网络文化应该是一种泡沫文化
D. 网络对传统文化带来的害处是不言而喻的
18. 古代咏花诗对花的自然属性有丰富多彩的描绘。剪春萝花瓣前端呈不规则锯齿状，像剪出的花边，被描述为“谁把风刀剪薄萝，极知造化著功多”。写腊梅的“洗却铅膏饰道装，檀心浅露紫香囊”。“饰道装”表明总体来说花被是黄色的，长在下陷成囊状的花托上，且基部有紫晕，所以说“檀心浅露紫香囊”。写山茶花“雪里开花到春晚，世间耐久孰如君”、野蔷薇“似锦如霞色，连春接夏开”。
- 这段文字说明的主要是：
- A. 人们赏析古代咏花诗的人文内涵和对自然属性的描述
B. 古时候人们对花卉有细致深入的观察，并表达得言简意赅
C. 古代咏花诗对花形、花色、开花时间有精彩纷呈的描述
D. 中国古代诗人们观花咏花，留下无数名垂千古的诗篇
19. 《简·爱》中的罗彻斯特身为庄园主，财大气粗，对地位低下又其貌不扬的简·爱说：“我有权蔑视你！”但有坚强个性又渴望平等的简·爱反唇相讥：“你以为我穷、不好看，就没有自尊吗？不！我们在精神上是平等的！正像你和我最终将通过坟墓平等地站在上帝面前一样。”这番话强烈地震撼了罗彻斯特。
- 这段文字主要表达的是：
- A. 自重方能赢得别人的尊重
B. 在比自己强的人面前，不要畏缩
C. 在比自己弱的人面前，不要骄纵
D. 在现实生活中，人需要彼此尊重
20. 复杂的现代民族-国家体系提示每一个试图从弱到强崛起的落后国家：国家硬软实力的强化首先不是一个外部竞争的问题，而是一个内部理顺的问题。只要一个国家内部问题重重，既无视经济上基本机制的建构，又忽视政治上政体的严肃选择，更抹杀社会文化的价值认同，那这样的国家就会始终处于民族-国家间竞争的弱势位置，即使它偶尔获得机遇成为一时大国甚至强国，它的长期维持能力也严重不足。
- 这段话主要支持了这样一个观点：
- A. 国家的软实力要比硬实力更具决定性
B. 国家的内部问题要比外部问题更重要
C. 经济、政治、文化共同决定国家实力
D. 任何国家都不可能长期保持强势状态
21. 一个人要有所敬畏，在自己心目中总有一些东西属于做人的根本，是_____不得的。
- 填入横线部分最恰当的一项是：
- A. 张扬
B. 褻瀆
C. 诋毀
D. 冒犯
22. “为政不在多言”，这是中国自古以来的政治_____。这既是一种政治_____，更是做人的诚信。
- 填入横线部分最恰当的一项是：
- A. 训诫 诚信
B. 劝诫 精诚
C. 训诲 至诚
D. 训示 诚意
23. 抗震救灾_____民族精神的活力，_____民族精神的内涵，_____民族精神的价值。民族精神成为战胜灾害的巨大力量。
- 填入横线部分最恰当的一项是：

- A. 展示 激发 彰显
B. 彰显 展示 激发
C. 彰显 激发 展示
D. 激发 彰显 展示
24. 与物质财富相比，人的精神财富的最大特点是_____，它是一种看不见的存在，一个人所拥有的精神财富的多少，另人只能凭_____知道。
填入横线部分最恰当的一项是：
A. 无量 相处 B. 无限 想象
C. 无比 接触 D. 无形 感觉
25. 理论与创作恰如一辆车的两个轮子，失去一个，另一个就难以_____地前行了，理论是支点，失去支点，也就失去了_____。
填入横线部分最恰当的一项是：
A. 稳健 平衡 B. 正常 根基
C. 平衡 力量 D. 自如 重心
26. 几株老梅竟斗雪开着满树的繁花，仿佛毫不以深冬为意；倒塌的亭子旁边还有一株山茶树，从暗绿的密叶里显出十几朵红花来，赫赫的在雪中明得如火，_____而且_____。
填入横线部分最恰当的一项是：
A. 狂暴 混乱 B. 愤怒 傲慢
C. 张扬 动荡 D. 猛烈 惊心
27. 人类的大脑细胞具有_____的抵抗癌症的能力，不但可以调节人体免疫系统能力，还能_____肿瘤细胞的生长，人类实现自主抗癌不再是幻想。
填入横线部分最恰当的一项是：
A. 显著 减缓 B. 潜在 遏制
C. 轻微 压迫 D. 优异 阻止
28. 神话基本上不是靠理性原则、逻辑思维来安排的，而是依_____展开，因此充满了_____的色彩。神话之中的神，往往都会有明显的情绪表现，代表着一种尚未经过文化陶冶及修饰的，较为自然、原始、粗糙的人性面貌。
填入横线部分最恰当的一项是：
A. 情感 感性 B. 情节 朴实
C. 情绪 率性 D. 情趣 喜剧
29. 归属是人的一种_____需要，人在社会中总是_____归属一定的群体。
填入横线部分最恰当的一项是：
A. 高级心理 渴望自己 B. 复杂心情 期望个人
C. 特殊感情 希望个体 D. 社会交往 自然而然
30. 一种文化决不能靠_____其他文化而得到真正的发展，有没有容纳外来文化成分的气魄，能不能_____和消化并不机械照搬、盲目崇外，正是衡量一种文化有没有生命力的标准。



- A. 17 B. 19 C. 20 D. 22

40. 【2008-山西-040】



- A. 2
B. $\frac{7}{4}$
C. 6
D. 8

41. $2008^{2008} + 2009^{2009}$ 的个位数是:

【2008-山西-041】

- A. 3 B. 5 C. 7 D. 9

42. 一个长7厘米、宽5厘米、高3厘米的长方体盒子。一只瓢虫从盒子的任意一个顶点，爬到与设定点在同一体对角线的另一个顶点，则所有情形的爬行路线的最小值是:

- A. $\sqrt{153}$
B. $\sqrt{109}$
C. $\sqrt{171}$
D. $\sqrt{113}$

43. 某单位以箱为单位向困难职工分发救济品，如果有12人每人各分7箱，其余的每人分5箱，则余下148箱；如果有30人每人各分8箱，其余的每人分7箱，则余下20箱。由此推知该单位共有困难职工:

- A. 61人 B. 54人 C. 56人 D. 48人

44.

$\frac{1}{3}$

某学校入学考试，确定了录取分数线。在报考的学生中，只有 $\frac{1}{3}$ 被录取，录取者平均分比录取分数线高6分，没有被录取的学生其平均分比录取分数线低15分，所有考生的平均分是80分，推知录取分数线是:

- A. 80 B. 84 C. 88 D. 90

45. 某人做一道整数减法题时，把减数个位上的3看成了8，把减数十位上的8看成了3，得到的差是122，那么正

确的得数应该是：

- A. 77 B. 88 C. 90 D. 100

46. 有些数既能表示成3个连续自然数的和，又能表示成4个连续自然数的和，还能表示成5个连续自然数的和，如30就满足上述要求。因为 $30=9+10+11$ ， $30=6+7+8+9$ ， $30=4+5+6+7+8$ ，在700至1000之间满足要求的数有：

- A. 5个 B. 7个 C. 8个 D. 10个

47. 若干学校联合进行团体操表演，参演学生组成一个方阵，已知方阵由外到内第二层有104人，则该方阵共有学生多少人：

- A. 625 B. 841 C. 1024 D. 1369

48. 哥哥和弟弟在一周长为800米的环形跑道上赛跑，已知哥哥每分钟跑60米，弟弟每分钟跑40米。现在哥哥和弟弟沿着跑道同时、同地、同向起跑，且二人每跑200米都要停下来休息2分钟，那么多少分钟后哥哥第一次追上弟弟：

- A. 78 B. 80 C. 82 D. 84

49. 77个连续自然数的和是7546，则其中第45个自然数是：

- A. 91 B. 100 C. 104 D. 105

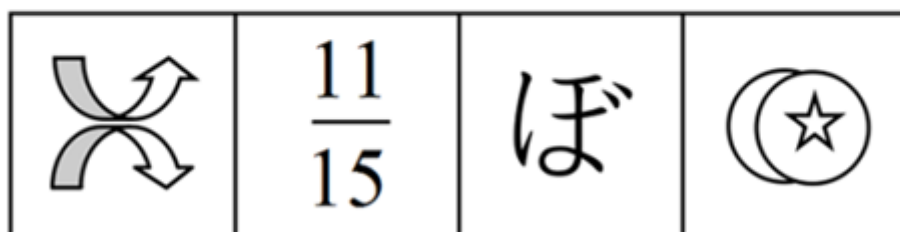
50. 一个盒子中有几百颗糖，如果平均分给7个人，则多3颗，平均分给8个人则多6颗，如果再加3颗，可以平均分给5个人，则该盒子中糖的数目可能有：

- A. 3种 B. 4种 C. 5种 D. 6种

第三部分 判断推理

本部分包括图形推理、定义判断、类比推理与逻辑判断四种类型的试题，请按每道题的答题要求作答。

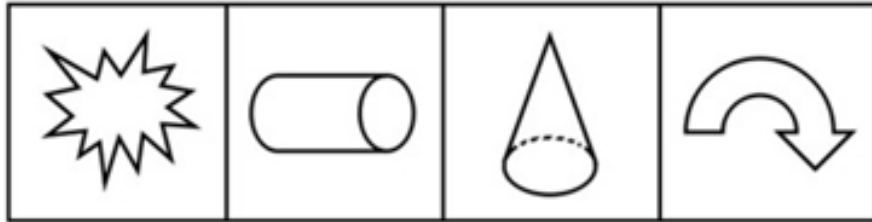
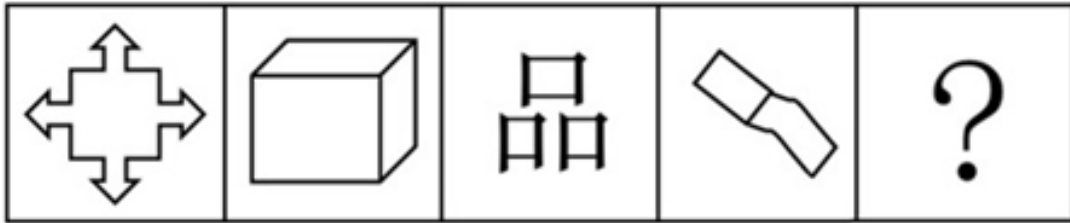
51. 请从所给的四个选项中，选择最合适的一个填在问号处，使之呈现一定的规律性：【2008山西051】



- A B C D

- A. 如图所示 B. 如图所示 C. 如图所示 D. 如图所示

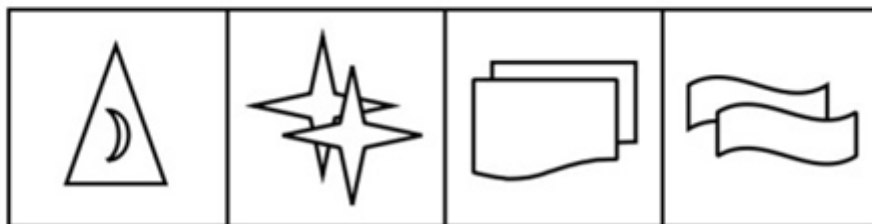
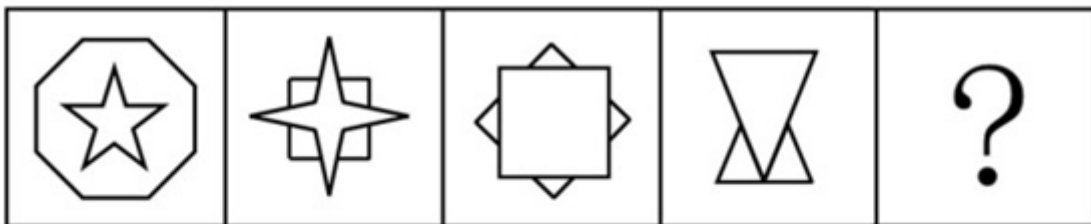
52. 请从所给的四个选项中，选择最合适的一个填在问号处，使之呈现一定的规律性：【2008山西052】



A B C D

- A. 如图所示 B. 如图所示 C. 如图所示 D. 如图所示

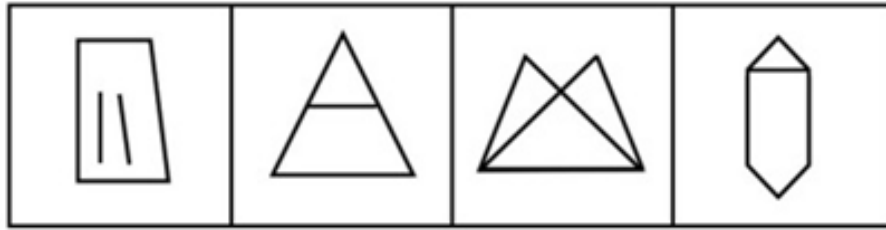
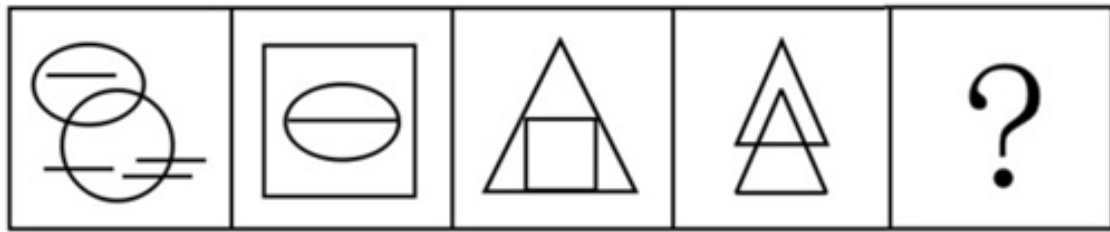
53. 请从所给的四个选项中，选择最合适的一个填在问号处，使之呈现一定的规律性：【2008山西053】



A B C D

- A. 如图所示 B. 如图所示 C. 如图所示 D. 如图所示

54. 请从所给的四个选项中，选择最合适的一个填在问号处，使之呈现一定的规律性：【2008山西054】



A

B

C

D

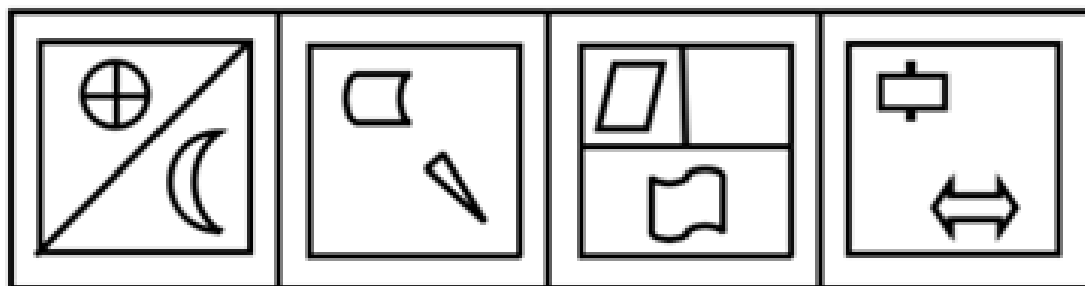

A. 如图所示

B. 如图所示

C. 如图所示

D. 如图所示

55. 请从所给的四个选项中，选择最合适的一个填在问号处，使之呈现一定的规律性：【2008山西055】



A

B

C

D

- A. 如图所示 B. 如图所示 C. 如图所示 D. 如图所示

56. 信息指的是客观世界的物质运动与主观世界精神活动所表现出来的各种状态特征的总和，这些特征被人的感觉器官或仪器所感觉到或测量到并被纪录或表达下来，就成为了一些数据、图像、符号、语言、文字等，它们包含着所表征事物或事件的内容，信息技术则是有关信息的产生、收集、传输、接受、处理、存贮、检索等技术的总称。

根据上述定义，下列不属于信息技术的是：

- A. 微电子技术(提供电脑芯片)
- B. 计算机技术、通信技术、信息存贮技术
- C. 数据库技术、网络技术
- D. 最新工程技术、如纳米技术

57. 横向收购是指生产同类(或同种)商品或服务的企业之间的收购,它一般涉及在同种商业活动经营和竞争的两家企业,其目的在于消除竞争,扩大市场份额,增加收购公司的垄断实力或形成规模效应。根据上述定义,下列属于横向收购的是:

- A. 石化企业对石油制品销售企业的并购
- B. 白酒生产企业并购啤酒生产企业
- C. 美国著名零售商业公司蒙哥马利-沃德公司被美孚石油公司吞并
- D. 1987年美国汽车公司被克莱斯勒汽车公司收购

58. 发散思维是指在创造和解决问题的思考过程中,从已有的信息出发,尽可能向各个方向扩展,不受已知的或现存的方式、方法、规则和范畴的约束,并且从这种扩散、辐射和求异式的思考中,求得多种不同的解决办法,衍生出各种不同的结果。

根据以上定义,下列不属于发散思维的是:

- A. 化学能产生电能,据此伏特发明了伏打电池;反过来电能也能产生化学能,通过电解,戴维发现了钾、钠等7种元素
- B. 19世纪末法国园艺学家莫尼哀从植物的盘根错节想到水泥加固
- C. 数学运算过程中的“一题多解”
- D. 理论工作者依据许多现成的资料归纳出一种结论

59. 领导意味着确立方向和战略决策,激励与鼓舞他人,为变革创建远景,管理意味着执行计划、制定实现目标的详细步骤和时间表,分配资源,支配日常工作,完成活动。管理者是把事情做正确的人,而领导者是做正确的事情的人。

根据上述定义,下列属于领导的是:

- A. 公司的董事长
- B. 军队的基层连长
- C. 政府的新闻发言人
- D. 企业的经理人

60. 意外利润指企业由于外界条件的变化,而并非因为本身经营有方所获得的利润,相比额外利润它不是企业经营所致,而是企业完全没有预料的情况下发生的、超出计划的那部分利润所得。

根据上述定义,下列属于意外利润的是:

- A. 某市在郊外修建了一条铁路,沿线的小餐馆生意越来越红火
- B. 某公司营业一直不景气,于是更换了业务主管,结果营业额上升
- C. 某服装厂引进了先进的设备,结果获得了更多的利润
- D. 某金融公司由于与大客户签订合同成功,获得了更多的利润

61. 价格竞争是指商品生产者为了增加商品销售量,击败对手,提高赢利水平,利用价格作为竞争手段,通过降低商品的价格或采用其他价格策略所展开的竞争,它是商业经营中频繁使用的竞争手段之一。

根据上述定义,下列不属于价格竞争的是:

- A. 甲公司为招徕顾客丙打折销售
- B. 乙公司为长期顾客降价优惠
- C. 丙公司以赠小商品来招揽顾客
- D. 丁公司靠加大广告宣传来招揽顾客

62. 金融诈骗犯罪是指采取虚构事实或隐瞒事实真相等方法，非法骗取金融机构资财或信用致使金融秩序遭到破坏，使国家资财遭受损失的行为。

根据上述定义，下面不属于金融诈骗犯罪的是：

- A. 甲某以“外商”为名骗取银行某支行金额100万美元的备用信用证
- B. 乙公司因经营不善到期未能偿还银行贷款，致使银行遭受损失
- C. 丙团伙伪造国务院批文，伪造成立“中华福利银行”
- D. 丁团伙非法集资百万

63. 法律援助是指在国家设立的法律援助机构的指导和协调下，律师、公证人员、基层法律工作者等法律服务人员依法为经济困难或特殊案件的当事人给予减、免收费提供法律帮助的一项法律制度。它有一般对象和特殊对象，前者是要审查其是否是具备援助条件的中国公民；后者是指符合刑事诉讼法和司法部、最高人民法院关于开展刑事法律援助的联合通知规定的刑事被告人。

根据上述定义，下列属于法律援助对象的是：

- A. 在中国犯抢劫罪的外国人
- B. 确因经济困难，无能力或无完全能力支付法律服务费用的人
- C. 因经济困难无能力聘请律师的作为残疾人的刑事嫌疑人
- D. 在刑事案件中，委托了辩护人的外国籍被告人

64. 职业价值观是指人们在选择职业时的一种内心尺度。它影响人的择业心态、行为及信念和理想，包含自我定位、自我设计等。它是人们对待职业的一种信念和态度，或者在职业生活中表现出来的一种价值取向。

根据上述定义，下列属于职业价值观的是：

- A. 人尽其才，物尽其用
- B. 龙下海、虎上山，孺子牛进机关
- C. 天生我材必有用
- D. 行行出状元

65. 行为管理是以提高效率为主要目标，通过侧重于关注员工的个体态度、行为及群体过程，主张员工的行为取决于工作场所的社会环境，关心员工可以提高其满意度，进而提高绩效的一种管理。

根据上述定义，下面属于行为管理的是：

- A. IBM历年将薪酬作为该公司最主要的激励物，除了交付员工工资，还向其雇员提供退休金、保险以及高额资金
- B. 谷歌公司按时支付员工工资，设有儿童中心、医疗和按摩室，报销车票，免费供餐，办公场所可以玩曲棍球
- C. 福特公司率先创立生产流水线，建立计件工资制，使其员工日平均工资高达5美元，远高于其他公司的薪酬
- D. 绿叶医药销售公司为了推销其一种新药，占领市场，较大幅度地增加了销售人员的业务提成

66. 中国：北京

- A. 灯具：合灯
- B. 南方：北方
- C. 吉他：琴弦
- D. 学校：中学

67. 剃须刀：刮胡子

- A. 用电脑：写文章
- B. 计算机：编程序
- C. 新股民：买股票
- D. 图书室：看报纸

68. 木偶：傀儡

- A. 二氧化碳：一氧化碳
B. 冒失鬼：马大哈
C. 炒鱿鱼：辞职
D. 兰花：桂花

69. 鬼门关：凶险

- A. 高帽儿：恭维
B. 飞毛腿：快速
C. 打把势：练武
D. 臭皮囊：躯体

70. 地震：核试验

- A. 天灾：人祸
B. 辛迪加：垄断
C. 感冒：洗澡
D. 疾病：医生

71. 明镜：公正

- A. 蚍蜉：自不量力
B. 麒麟：祥瑞
C. 木马：病毒
D. 貔貅：军队

72. 新闻：采访

- A. 特技：特效
B. 电影：剪辑
C. 声音：图像
D. 分数：学生

73. 励精图治 对于 () 相当于 () 对于 错失良机

- A. 治国安民 时不再来
B. 横征暴敛 千钧一发
C. 国富民强 瞻前顾后
D. 兢兢业业 争分夺秒

74. 重力 对于 滤水 相当于 () 对于 ()

- A. 镜子 反射
B. 书本 知识
C. 运动 惯性
D. 质量 重力

75. 百合：鲜花：花店

- A. 鲫鱼：动物：菜场
B. 木材：树木：森林
C. 沙发：家具：客厅
D. 衬衣：衣服：商场

76. 水是未来人类长期驻扎月球最重要的物质，月球上是否有丰富的水，一直是科学家探索的目标。月球南极附近一些环形山的凹陷处终年照不到阳光，温度约为零下173摄氏度，因此有推测称那里有可能存在较厚的冰盖。

以下哪项如果为真，最能颠覆上述假说：

- A. 月球上水的凝固温度与地球不同
B. 月球南极被陨石撞击后新生成了一些小坑
C. 月球南极个别环形山凹陷处有一定量的冰块
D. 过去被认为能反映“冰盖”存在的信号，源自环形山内壁的石块

77. 新近，研究人员通过筛选14.7万个化合物，发现了5种能够刺激细胞变成神经细胞形式的分子。随后，开发出了这些分子的“变异型”化合物——Isx-9，研究中，他们在培养取自啮齿动物大脑海马体部位的神经干细胞时，加入了化合物Isx-9，结果神经干细胞聚集起来并形成了神经突，这是神经细胞在体外培养基中生长所具有的典型特征。化合物Isx-9还能阻止干细胞发育成非神经细胞，并且比其他神经元物质在刺激神经细胞发育方面更有效。

由此推出：

- A. 成年哺乳动物大脑能够生长新的神经细胞

- B. 人们找到了一个干细胞开始发育成神经细胞的生化通道
- C. 人们解决了认识中存在的鸿沟——如何控制干细胞
- D. 人的神经干细胞能在体外经过培育成熟，并植入体内，治疗疾病
78. 20世纪70年代以来，光导纤维、非晶态、新型陶瓷、碳60、钛合金、纳米材料、生物材料、智能材料等具有各种特殊性能的材料不断涌现。目前已有25万种性能各异的材料问世，纳米科技正由于其一系列独特的性能及广泛应用，正在形成一个新产业群落，推动并影响整个科学技术研究及产业的发展。
- 以下哪项如果为真，最能加强上述断定：
- A. 某些重要材料的出现，往往产生巨大的经济效益
- B. 材料技术的发展是各种新技术发展的基础
- C. 一系列新兴产业群落如纳米科技产业群正在崛起
- D. 第五次技术革命是智能化革命
79. 在冰河世纪中期，地球上有数百万的猛犸象。然而两万年之后，他们几乎全部灭绝了。从对数百个猛犸象化石上萃取下来的DNA进行检测后发现，猛犸象个体之间的基因差异并不明显，所以它们不能适应自己的环境。10万年前的冰河世纪晚期的世界森林扩张最终导致许多动物所赖以生存的冰冻草原后来慢慢被森林所取代。
- 由此推出：
- A. 该对这些巨大动物从历史上消失负责的是饥饿的史前猎人
- B. 气候的剧变是猛犸象绝迹的主因
- C. 森林扩张最终导致猛犸象灭绝
- D. 灭绝是其基因变异的结果
80. 何老师、李老师、詹老师都买了新手机，手机的牌子分别是诺基亚、摩托罗拉、三星，他们让小王猜他们各买的是什么牌子的手机，小王猜道：“何老师买的诺基亚手机，詹老师买的不是三星手机，李老师买的不是诺基亚手机。”
- 事实上，小王的上述猜测只对了一个。由上述断定可推出以下哪项结论：
- A. 何老师买的是摩托罗拉，李老师买的是诺基亚，詹老师买的是三星
- B. 何老师买的是诺基亚，李老师买的是三星，詹老师买的是摩托罗拉
- C. 何老师买的是诺基亚，李老师买的是摩托罗拉，詹老师买的是三星
- D. 何老师买的是三星，李老师买的是诺基亚，詹老师买的是摩托罗拉
81. 某旅行社组织了两个旅游团。一个团去北京旅游，一个团去杭州旅游，由于两个团同时出发，所以同一个人不可能报两个团，所有去杭州旅游的人都是北京人，有些四川人参加了北京的旅游团，所有的四川人都喜欢吃辣椒。
- 如果以上说法是正确的，那么下列哪个也一定是正确的：
- A. 旅游团中不去北京旅游的人都不喜欢吃辣椒
- B. 旅游团中有些四川人没有参加去杭州的旅游
- C. 旅游团中有些北京人不去杭州旅游

- D. 旅游团中有些参加杭州旅游的人不喜欢吃辣椒
82. 教授：如果父母都是O型血，其子女的血型也只能是O型，这是遗传规律。
学生：这不是真的，我的父亲是B型血，而我是O型血。
学生最有可能把教授的陈述理解为：
- A. 只有O型血的人才会有O型血的孩子
B. O型血的人不可能有B型血的孩子
C. B型血的人永远都会有O型血的孩子
D. 如果父母都是B型血，其孩子也会是B型血
83. 有一种微生物，它产生毒素污染河水时会使河水变成绿色，这种现象被称为泛绿，当鸭子的主要食物河虾被这种有毒微生物污染时，鸭子就不会在那些区域觅食。对于鸭子的这种行为，科学家的一种解释认为，鸭子在某个地方正式觅食之前会先尝几只河虾，并且能够察觉出其中的任何毒素。
以下哪项为真，将最有力地表明上述解释是不正确的：
- A. 当河里发生泛绿现象的时候，既看不到鸭子，水里也没有河虾
B. 鸭子在某个水域出现是一种显著的标志，表明那里可以找到其他水生生物
C. 少量的微生物毒素不会产生什么危害，但是过量的话还是会使鸭子死亡的
D. 当没有受到泛绿影响的一片河水被人为地染成绿色时，鸭子也不吃那些地方的河虾
84. 当在消毒柜中消毒时，不含水分的餐盘包括其内部，可以达到很高的、足以把所有引起餐盘中毒的细菌杀死的温度；但是含有水分的餐盘的内部则达不到这样高的温度。
由上述断定不能推出的结论是哪项：
- A. 水分可以有效地阻止微波加热餐盘的内部
B. 如果事先将要消毒的餐盘擦干，就能更彻底地消毒餐盘
C. 当用消毒柜消毒含水餐盘时，其原有的杀菌功能大大减弱
D. 经过消毒柜消毒的餐盘如果有残留的细菌，则其中一定含水分
85. 某镇组织部姚科长在接受当地记者的采访时说：“近年来刚进入机关的干部对下基层锻炼的兴趣普遍比以前强多了。我镇的机关干部对于下基层的报名十分踊跃。这在几年前几乎是不可思议的。”
姚科长的结论基于以下哪项假设：
- A. 机关干部下基层锻炼，对当地的发展也起到推动的作用
B. 对待下基层的态度是衡量是否有下基层兴趣的重要标准
C. 近年来进入该镇的干部较前几年的比起来有较高的综合素质
D. 该镇机关干部对下基层锻炼产生兴趣，是由于基层待遇提高

第四部分 常识判断

根据题目要求，在四个选项中选出一个最恰当的答案。

86. 《资本论》是诠释马克思思想最重要的文本依据。它通过探讨商品生产、商品流通和总过程的各种形式，明确了物质、利益、财富、阶级和所有制等问题，但贯穿这些方面的价值归旨不是：
- A. “现实的个人”的处境及其未来 B. “实践的人和人的实践”
- C. “人与人的关系” D. 资本及资本的逻辑
87. 西藏自古以来就是中国领土不可分割的一部分，藏族是中华民族大家庭中的重要成员，我国历史上中央政府对西藏地方行使主权是：
- A. 从宋朝到现在 B. 从元朝到现在 C. 从明朝到现在 D. 从清朝到现在
88. 下列关于劳动合同期限的说法不正确的是：
- A. 劳动合同期限三个月以上不满一年的试用期不得超过一个月
- B. 劳动合同期限一年以上不满三年的，试用期不得超过三个月
- C. 三年以上固定期限和无固定期限的劳动合同，试用期不得超过六个月
- D. 以完成一定工作任务为期限的劳动合同或者劳动合同期限不满三个月的，不得约定试用期
89. 《〈中华人民共和国继承法〉若干问题的意见》中规定，对被继承人生活提供了主要经济来源，或在劳务等方面给予了主要扶助的，应当认定其尽了主要赡养义务。在司法实践中，不属于“尽了主要赡养义务”的是：
- A. 子女与老人共同生活多年
- B. 对老人的帮助具有持续性、长期性
- C. 为老人日常生活提供帮助，如老人生病时进行护理
- D. 在经济上为老人生活提供了帮助，老人主要靠其提供的费用生活
90. 问题面前，是迎难而上，还是绕着走，直接反映一个干部的精神风貌，也折射出这名干部对待工作的态度和责任心，在解放思想中破解难题存在风险，甚至受到别人的责难。我们应该坚持的正确态度是：
- A. 没有百分之百的把握不去做
- B. 上级领导没有点头的，不便去做
- C. 为避免头脑发热，凡事都得找出处
- D. 冲破习惯和传统思维的束缚，敢想也敢做
91. 大气层中的温室气体能够透过太阳的短波辐射，但同时吸收地面放射出的长波辐射，从而产生温室效应。如果大气中没有温室气体，地表平均气温将会是零下18度。正是因为大气中温室气体的存在，地球现在的地表平均气温为：
- A. 零上5度 B. 零上10度 C. 零上15度 D. 零上20度
92. 甲县人大代表李某，于2006年当选为该县人大代表，一年后，因私迁入另一个县居住，他应：
- A. 享有甲县人民代表大会代表资格到届满
- B. 自然转任乙县人民代表大会代表
- C. 按正常工作调动手续转任乙县人民代表大会代表
- D. 被终止甲县人民代表大会代表资格
93. 下列各项中，属于行政处罚的是：

- A. 罚金 B. 拘役 C. 责令停产停业 D. 管制
94. 某区公安分局就户籍管理有关事项向位于本行政辖区内的某大学发文，应使用的公文文种是：
A. 通知 B. 请示 C. 指示 D. 函
95. 下列有关公文格式的表述中，不正确的一项是：
A. 附件名称不必加书名号，其后也不用标点符号
B. 加盖印章的公文，落款处一般不再署发文机关名称
C. 每份文件的主题词一般标三至五个为宜
D. 联合行文时，发文机关标识中的“文件”两字应另起一行，置于联署机关名称之下，并居中排布
96. A市B区建设局根据市政府总体规划，对某大街实施改造，赵某房屋位于改造区。某日，B区建设局改造建设指挥部下达住房安置通知，赵某未搬迁。数日后，受B区建设局委托的该市某拆迁公司强行拆除了赵某房屋，赵某不服申请行政复议，本案的被申请人是：
A. A市政府 B. 某拆迁公司
C. B区建设局 D. B区建委改造建设指挥部
97. 下列关于行政复议和行政诉讼的关系说法正确的一项是：
A. 相对人对具体行政行为不服的，不经行政复议，都不能提起行政诉讼
B. 法院审理行政诉讼案件后，相对人不能再对所诉行政行为提请行政复议
C. 行政复议和行政诉讼一样，原则上进行开庭审查
D. 公务员对行政处分不服的，也是行政复议和行政诉讼的受案范围
98. 公民、法人或者其他组织对具体行政行为在法定期间不提起诉讼又不履行的，行政机关可以申请_____强制执行。
A. 人民法院 B. 检察院 C. 公安机关 D. 当地人民政府
99. 甲贩运违禁品，驾车路过一检查站时，被工商部门拦住检查，检查人员朱某正登车检查时，甲突然发动汽车夺路而逃。朱某抓住汽车的把手不放，甲为摆脱朱某，在疾驶后突然急刹车。朱某被摔在地，头部着地死亡，甲对朱某的死亡的心理态度是：
A. 直接故意 B. 间接故意
C. 过于自信的过失 D. 疏忽大意的过失
100. 《劳动法》规定，用人单位安排劳动者每月的加班时间不得超过_____小时。
A. 10 B. 24 C. 36 D. 48
101. 十七大报告指出，全面建设小康社会是党和国家到（ ）的奋斗目标，是全国各族人民的根本利益所在。
A. 2015年 B. 2020年 C. 2030年 D. 2050年
102. 科学发展观的本质和核心是坚持：
A. 全面发展 B. 协调发展 C. 可持续发展 D. 以人为本
103. 三个重量相同的实心铅球、铁球和铝球，将它们用细线分别挂在三个同样的弹簧秤下并浸入水中，比较三个弹簧秤的读数是：

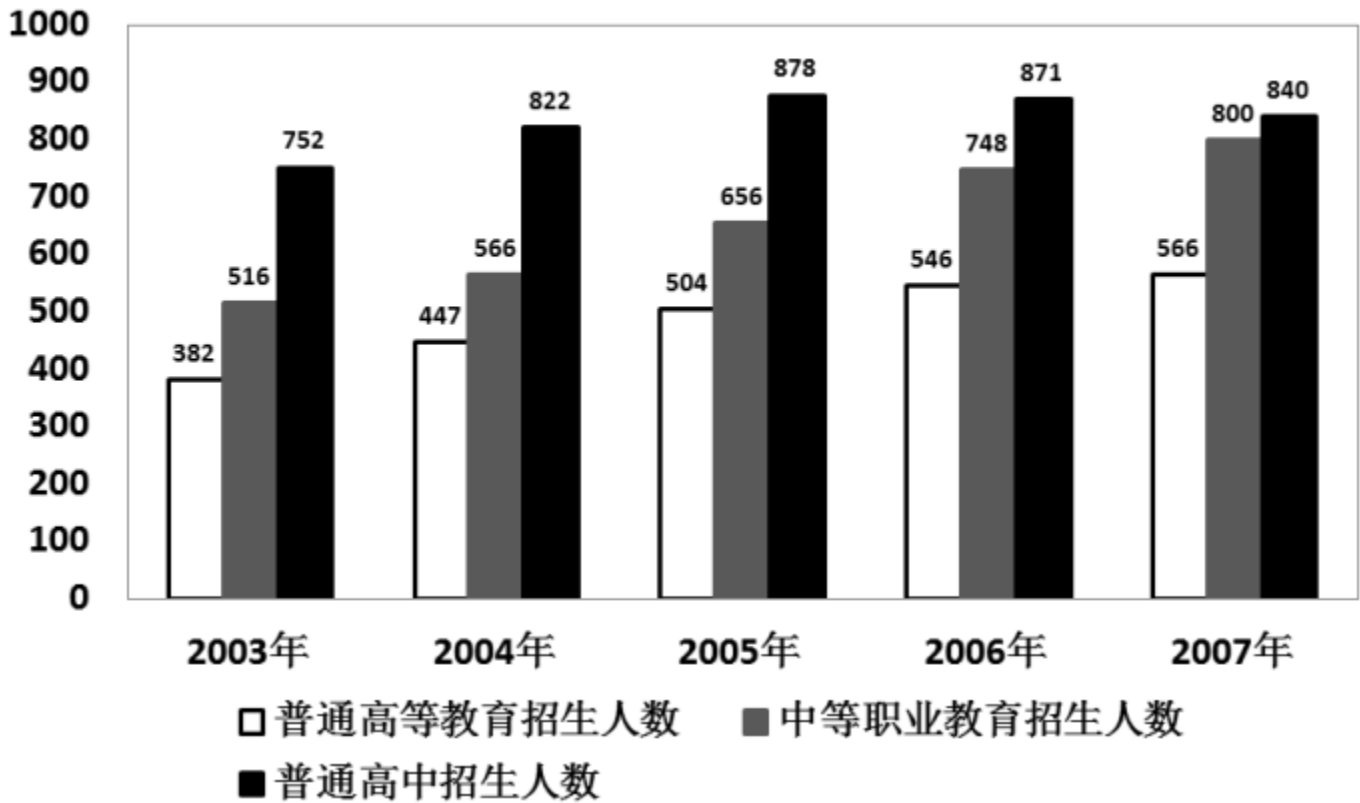
- A. 挂铝球的最大 B. 挂铅球的最大 C. 挂铁球的最大 D. 三者一样大
104. 中国人民银行公布，自2008年3月25日起，上调存款类金融机构人民币存款准备金率0.5个百分点。下列关于提高存款准备金率说法错误的是：
- A. 提高存款准备金率是为了减少银行流动资金
B. 提高存款准备金率是国家对经济进行宏观调控的货币手段
C. 提高存款准备金率能够吸引公众更多的存款
D. 提高存款准备金率是银根紧缩政策
105. 向级别与本机关相同的有关主管部门请求批准某事项应使用：
- A. 请示 B. 函 C. 批复 D. 报告

第五部分 资料分析

针对下列图、表或文字回答问题。你应根据资料提供的信息进行分析、比较、计算、处理。你可以在题本上运算。

我国2007全年普通高等教育招生566万人，在校生1885万人，毕业生448万人；各类中等职业教育招生800万人，在校生2000万人，毕业生530万人；全国普通高中招生840万人，在校生2522万人，毕业生788万人；全国初中招生1869万人，在校生5736万人，毕业生1964万人；普通小学招生1736万人，在校生10564万人，毕业生1870万人。我国2006全年普通高等教育招生546万人，在校生1739万人，毕业生377万人。各类中等职业教育招生748万人，在校生1809万人，毕业生476万人；全国普通高中招生871万人，在校生2515万人，毕业生727万人；全国初中招生1930万人，在校生5958万人，毕业生2072万人；普通小学招生1729万人，在校生10712万人，毕业生1928万人。

图1 2003——2007年各类教育招生人数（万人）



从全国31个省份共抽取78所高等院校2162名大学生进行调查，道德类涉及道德品质或者关系的题目中，当提问：“你最看重人的哪3种品质或关系”，选择比例前五名的选项依次是“诚信”、“关爱”、“宽容”、“负责任”和“沟通”，选择比例依次为74.70%、65.40%、65.17%、49.49%、35.89%。前五名的选项均为积极道德意识；而当提问改为：“你觉得现在的人实际上哪3种品质或相互关系居多”，选择比例前五名的选项则依次为“相互利用”、“冷漠”、“不负责任”、“欺诈”、“关爱”，选择比例依次为62.49%、54.86%、43.52%、34.64%、29.19%，前五名的选项有4项是消极道德意识。

虽然，大学生的道德期许与现实道德有很大的落差，这并不影响大学生保持良好的道德习惯。调查显示，大学生在爱护公共卫生上，选择“随手扔掉”的仅占3.5%；乘车时对老弱病残人士让座的态度上，自认会“主动让座”的达79.0%。

调查主要从爱国与民族意识，文史哲常识和文化与生活价值观三个方面进行考察。调查显示，大学生具有很强的民族自尊心，当问到“被误认是日本或者韩国人时”，高达92.0%的大学生认为会“声明是中国人”，只有2.4%的大学生认为自己会“干脆回答是”，也只有5.6%的大学生认为自己会保持“沉默”。在爱国观念上，大学生对于我国在某些方面落后于其他国家，表示“立志为国争光”的占55.7%，表示“对社会风气不满”的占33.3%，而表示“无所谓”的占11.0%。

理想信念是文化和生活价值观的重要组成部分，大学生作为国家多年培养教育的栋梁之才，理想是引领人生前进的重要航标，在树立人生理想问题上，选择“有理想，并为实现理想而努力”的大学生占65.8%，选择“有理想，但觉得要实现很困难”的占30.6%，而选择“无所谓理想，每天能过得去就行”的占3.7%。可见，大部分大学生还是有明确的理想抱负，但仍有不少的大学生对于如何实现理想抱有消极的态度。问卷还进而考察大学生的信念观，信念是激发一个人奋发进取、实现理想的重要支撑力量。自认“总是有信念支持”的大学生占40.4%，而自认“有时有信念支持”的大学生多达52.8%，大部分大学生在人生信念这个问题上还处于摇摆状态，既想努力向前，同时又有畏难情绪。

106. 2007年我国普通高等教育招生规模扩大了()。

- A. 3.7% B. 4.5% C. 4.8% D. 6.5%

107. 2007年高中毕业生占当年全体毕业生人数的比例是：

- A. 9.8% B. 14.1% C. 9.5% D. 8.5%

108. 2007年我国中等职业教育招生人数比上一年：

- A. 下降了5.96% B. 提高了5.96% C. 下降了6.95% D. 提高了6.95%

109. 通过对心理期许道德状况和自认现实道德状况的对比分析，可以发现：

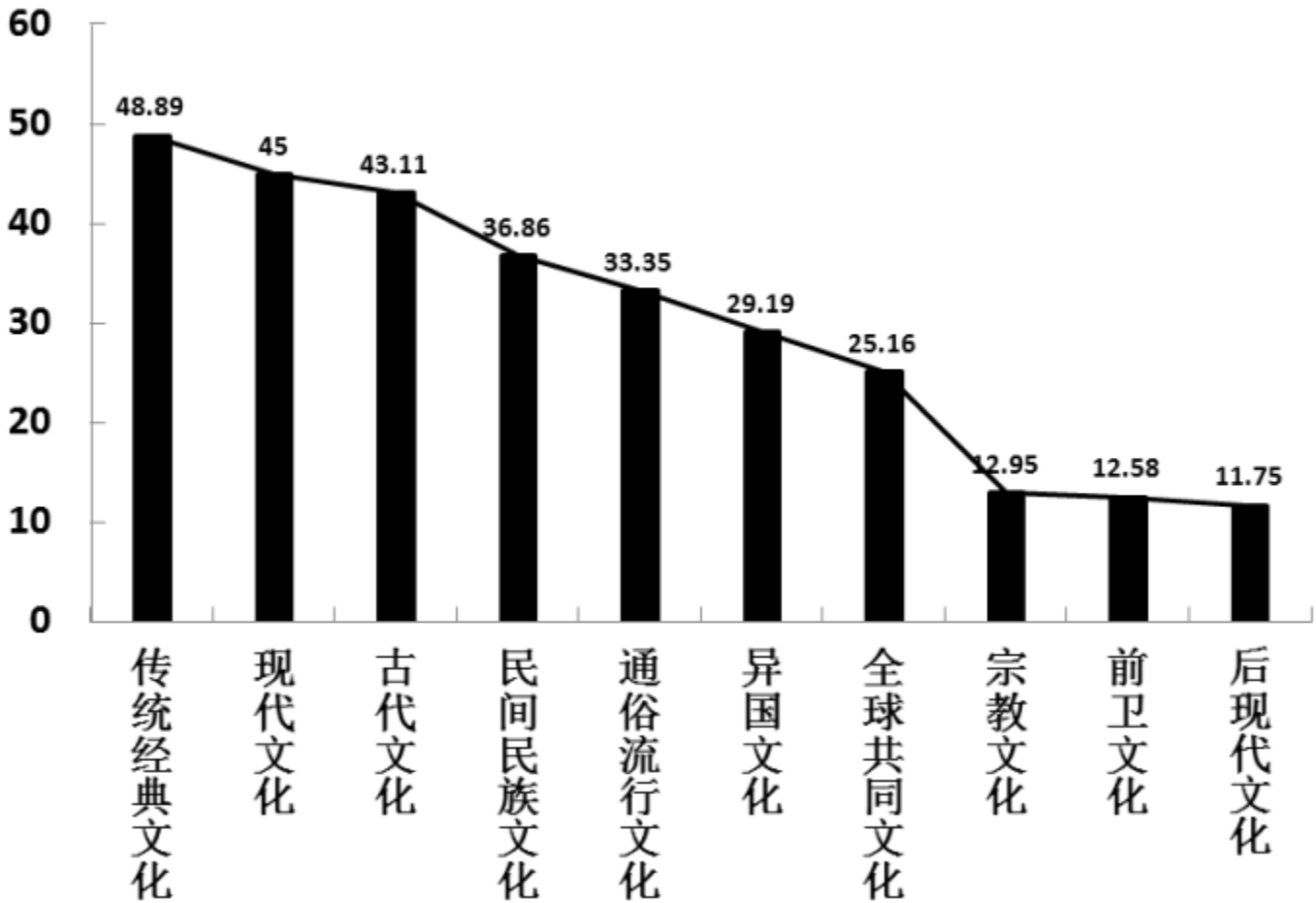
- A. 大学生对优良的道德品质还是非常看重的
B. 大学生对现实生活中实际存在的道德品质做出消极的评价
C. 大学生的道德期许与实际道德有落差，但不是极大
D. 大学生看重优良的道德品质，但对实际存在的道德品质做出消极评价

110. 从爱国与民族意识、文史哲常识和文化与生活价值观考察，发现：

- A. 大学生有人生的理想信念，但缺少精神的滋养和文化的浸润
B. 有相当一部分大学生对我国某些方面落后的现状持消极态度
C. 大学生具有强烈爱国与民族意识、丰富的文史哲知识、健康的文化情趣，但理想信念摇摆不定
D. 大学生理想信念坚定，爱国与民族意识强，学识丰厚

在大学生文化和生活价值观上，问卷通过多选题型考察大学生的文化生活趋向，大学生喜欢的十类文化排序分别是：传统经典文化、现代文化、古代文化、民间民族文化、通俗流行文化、异国文化、全球共同文化、宗教文化、前卫(超前)文化和后现代文化。大学生作为一个高知群体，在文化价值取向上展现出传统与现代交织的态势，大学生既热衷于现代文化，也保持对传统经典文化最浓厚的兴趣，只有小部分的大学生自认比较喜欢前卫文化和后现代文化。

图2 大学生喜欢的十类文化百分比排序图



在考察法律意识方面，问卷主要通过考察公民解决纠纷的途径来反映公民的法律意识。问卷设定了三种纠纷解决途径，即法律途径（“遵循法律和政策规定解决”）、行政途径（“找单位和领导帮助解决”）和武力途径（“通过恐吓、武力或其他施压方式解决”）三种，大学生在纠纷解决方面的选择情况分别为67.6%，28.9%，3.5%。应该说，只有极少部分大学生采取武力途径解决纠纷。在法律常识方面，大学生对法律性质的正确认识高达91.2%，在对我国已经颁布的部门法的了解上，选择“宪法”、“合同法”、“民事诉讼法”、“继承法”、“婚姻法”的分别为：96.7%、94.7%、93.7%、89.8%、95.1%，几乎都在90%以上。在调查中，我们还发现，大学生也以自己的实际行动来践行和维护法律。

在知识产权方面，93%的被调查者知道“世界知识产权日”，76%的被调查者明确“我国国家知识产权战略现在是从‘制定’转入‘实施’”，48%的被调查者关注过“北京市高级人民法院2007年受理的《十大知识产权典型案例》”。

大学生在科学意识方面，大学生自认在日常工作和学习中，选择“按他人意志办事”的仅占6.3%，选择“据自己兴趣办事”和“按客观规律办事”的占45.6%、48.1%。而对“科学发展观”，表示“明确知道”的占35.7%，表示“知道一些，不太明确”的占58.6%，而表示“不知道”的占5.6%。

在科学行为方面，大学生发现、思考和解决问题的能力作为考察的重点。大学生自认“很少遇到问题”的仅占22.7%，而认为“经常遇到问题”、“善于发现问题的原因”、“善于提出解决问题的办法”、“善于解决问题”四项的选择比例分别为：57.1%、43.4%、39.5%和37.2%。

111. 根据上图提供的信息可考察出大学生的文化生活趋向是：

- A. 对现代文化有浓厚的学习兴趣
- B. 传统与现代交织的态势
- C. 热衷于传统经典文化
- D. 一批人比较喜欢前卫和后现代文化

112. 根据所给文字资料不能得出的结论是：

- A. 解决纠纷大学生用法律途径多于行政途径，用行政途径多于武力
- B. 在法律意识和法律常识方面，大学生是一个强势群体
- C. 大学生能够以自己的实际行动来践行和维护法律
- D. 大学生法律意识强、法律知识丰富，并且是遵守和维护法律的先锋

113. 以上所给文字资料表明：

- A. “实施知识产权战略”已深入人心
- B. 大学生对知识产权的认知程度参差不齐
- C. 高校建立了知识产权教育体系和宣传体系
- D. 在经济全球化的今天，知识产权保护已成为大学生重要的游戏规则

114. 根据所给文字资料能够判定的是：

- A. 在科学意识、科学行为方面，大学生是一个高知群体
- B. 大学生有明确的科学观念，但动手解决问题的能力不强
- C. 大学生从发现问题、思考问题到解决问题呈递增的过程
- D. 大学生缺乏系统明确的科学观念，特别是动手、解决问题的能力

115. 上述图表和文字资料透视出：

- A. 当代大学生的基础性人文素质状况
- B. 当代大学生的发展性人文素质状况
- C. 当代大学生的竞争性人文素质状况
- D. 当代大学生的人文素质潜力发展状况

style="text-align: center;">

2007年江苏省农村劳动力资源总量及构成

	全省	苏南地区	苏中地区	苏北地区
农村常住劳动力资源总量(万人)	3060.4	982.4	770.3	1307.7
农村常住劳动力性质构成(%)				
男性	48.7	51.6	46.3	47.9
女性	51.3	48.4	53.7	52.1
农村常住劳动力年龄构成(%)				
20岁及以下	12.2	11.0	9.3	15.0
21-30岁	14.4	18.5	10.9	13.3
31-40岁	23.2	25.7	22.1	21.9
41-50岁	22.2	21.8	22.9	22.0
50岁以上	28.0	23.0	34.8	27.8
农村常住劳动力文化程度构成(%)				
文盲	5.2	2.1	5.2	7.6
小学	29.4	25.2	33.5	30.1
初中	50.2	54.8	46.6	48.9
高中	13.4	15.3	13.1	12.1
大专及以上	1.8	8.6	1.6	1.3

注：江苏全省分为苏南、苏中、苏北三个地区

116. 苏南地区的农村常住劳动力资源总量比苏北地区少：
- A. 21.45% B. 24.88% C. 25.45% D. 56.42%
117. 2007年该省农村常住劳动力人口男性比女性少()万人。
- A. 78.21 B. 79.05 C. 79.44 D. 79.57
118. 苏南、苏中、苏北三个地区中农村常住劳动力文盲最多的区域占该省农村常住劳动力文盲的()。
- A. 45.32% B. 53.64% C. 62.45% D. 70.12%
119. 苏南地区21~40岁农村常住劳动力人口比苏中地区多()万人。
- A. 127.32 B. 152.2 C. 180.02 D. 187.14
120. 根据表格，下列表述正确的是：
- A. 农村常住劳动力人口中大专及以上学历文化程度最多的是苏南地区
- B. 31~40岁农村常住劳动力人口在苏南、苏中、苏北三个地区比重为最高
- C. 根据该表可以准确得知10年后该省农村常住劳动力年龄构成情况
- D. 苏南地区的农村常住劳动力人口其有高中文化程度的人口数量多于苏北地区

经国家统计局核准，2006年某省生产总值641.05亿元，比上年增长12.2%；人均生产总值11753元，比上年增

长11.3%。在产业结构调整中，全年第一产业完成产值69.60亿元，比上年增长3.5%；第二产业完成增加值334.82亿元，比上年增长15.7%。第一、第二和第三产业产值占生产总值的比重分别由“十五”末2005年的12.0：48.7：39.3转变为10.9：51.6：37.5；第一、第二和第三产业对GDP的贡献率分别为3.5%、62.7%、33.8%。

其中，社会消费品零售总额180.11亿元，比上年增长12.2%。按城乡分：城市的消费品零售额122.78亿元，增长16.3%；县及县以下的消费品零售额57.33亿元，增长4.4%。按行业分：批发零售贸易业145.96亿元，增长10.5%；住宿餐饮业30.29亿元，增长24.1%；其它行业3.86亿元，下降2.8%。限额以上批发零售贸易企业零售额37.22亿元，增长19.1%(批发企业年销售额在2000万元及以上、零售企业年零售额在500万元及以上统称为限额以上企业)；其中，汽车类零售额4.68亿元，增长6.5倍；石油及制品类12.41亿元，下降7.7%；文化办公用品类0.32亿元，增长1.1倍；家用电器和音像器材类2.90亿元，增长43.6%；食品、饮料、烟酒类8.51亿元，增长39.9%。

121. 2005年该省人口约有()万。

- A. 541.06 B. 5410.63 C. 547.17 D. 5422.74

122. 2005年该省第三产业产值比2006年第三产业产值少()亿元。

- A. 10.36 B. 12.45 C. 14.36 D. 16.09

123. 2005年汽车类零售额是社会消费品零售总额的()。

- A. 0.40% B. 0.43% C. 0.51% D. 0.62%

124. 下列说法正确的是：

- I. 2006年城乡消费品零售额差距进一步扩大
- II. 2006年三大产业产值较2005年增长率最大的是第三产业
- III. 批发零售贸易业和住宿餐饮业占社会消费品零售总额的比例2006年比2005年高

- A. 仅 I B. 仅 III C. I 和 III D. I、II 和 III

125. 下列说法正确的是：

- A. 2005年该省石油及制品类零售额为13.14亿元
- B. 第二和第三产业产值占生产总值的比重2005年比2006年低1.1个百分点
- C. 2006年该省县及县以下的消费品零售额比城市的消费品零售额少114.16%
- D. 2006年该省第一、二产业完成产值比2005年增长1.8%

扫一扫，对答案

