

2008年浙江行测真题

真题更新时间：2022年10月28日23:32:03

扫描下方二维码下载小麦公考APP 刷海量题库掌握最新热点



QQ扫码直接下载

微信扫码到应用市场下载

支持所有机型哦

第一部分 数量关系

在这部分试题中，每道试题呈现一段表述数字关系的文字，要求你迅速、准确地计算出答案。你可以在草稿纸上运算。

1. 20, 20, 33, 59, 98, ()
A. 150 B. 152 C. 154 D. 156
2. 1, 4, 3, 1, $\frac{1}{5}$, $\frac{1}{36}$, ()
A. $\frac{1}{92}$ B. $\frac{1}{124}$ C. $\frac{1}{262}$ D. $\frac{1}{343}$
3. 675, 225, 90, 45, 30, 30, ()
A. 27 B. 38 C. 60 D. 124
4. 34, -6, 14, 4, 9, $\frac{13}{2}$, ()
A. $\frac{22}{3}$ B. $\frac{25}{3}$ C. $\frac{27}{4}$ D. $\frac{31}{4}$
5. 0, 7, 26, 63, 124, ()
A. 209 B. 215 C. 224 D. 262
6. $\frac{1}{3}$, 3, $\frac{1}{12}$, $\frac{4}{3}$, $\frac{3}{64}$, ()
A. $\frac{13}{84}$ B. $\frac{64}{75}$ C. $\frac{3}{52}$ D. $\frac{3}{32}$
7. 1, 4, 14, 31, 55, ()
A. 83 B. 84 C. 85 D. 86
8. $\frac{1}{12}$, 2, $\frac{7}{6}$, $\frac{10}{3}$, $\frac{44}{9}$, ()
A. $\frac{199}{18}$ B. $\frac{283}{21}$ C. $\frac{365}{24}$ D. $\frac{467}{27}$
9. 3, 65, 35, 513, 99, ()
A. 1427 B. 1538 C. 1642 D. 1729
10. 2, 5, 13, 35, 97, ()
A. 214 B. 275 C. 312 D. 336
11. $\frac{3}{7}$
把分数 $\frac{3}{7}$ 用小数来表示，则小数点后第2008位的数字是：
A. 1 B. 2 C. 4 D. 5
12. $\frac{1}{42} + \frac{1}{56} + \frac{1}{72} + \frac{1}{90} + \frac{1}{110}$ 的值是：
A. $\frac{1}{6}$
B. $\frac{5}{66}$
C. $\frac{7}{85}$

D. $\frac{11}{128}$

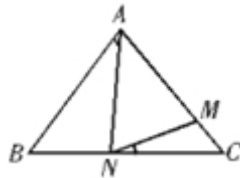
13. 在自然数1至50中，将所有不能被3除尽的数相加，所得的和是：

- A. 865 B. 866 C. 867 D. 868

14. 一个边长为1的正方形木板，锯掉四个角使其变成正八边形，那么正八边形的边长是多少：

- A. $\frac{1}{2}$
B. $\frac{\sqrt{2}}{2}$
C. $2 - \sqrt{2}$
D. $\sqrt{2} - 1$

15. 如下图所示，在 $\triangle ABC$ 中，已知 $AB=AC$ ， $AM=AN$ ， $\angle BAN=30^\circ$ 。问 $\angle MNC$ 的度数是多少：



- A. 15° B. 20° C. 25° D. 30°

16. 现有A、B、C三桶油，先把A的 $\frac{1}{3}$ 倒入B桶，再把B桶的 $\frac{1}{4}$ 倒入C桶，最后把C桶的 $\frac{1}{10}$ 倒入A桶，经这样操作后，三桶油各为90升。问A桶原来有油多少升：

- A. 90 B. 96 C. 105 D. 120

17. 有面积为1平方米、4平方米、9平方米、16平方米的正方形地毯各10块，现有面积为25平方米的正方形房间需用以上地毯来铺设，要求地毯互不重叠而且刚好铺满。问最少需几块地毯：

- A. 6块 B. 8块 C. 10块 D. 12块

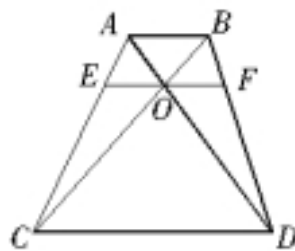
18. 有颜色不同的四盏灯，每次使用一盏、两盏、三盏或四盏，并按一定的次序挂在灯杆上表示信号，问共可表示多少种不同的信号：

- A. 24种 B. 48种 C. 64种 D. 72种

19. 如图所示，在 3×3 方格内填入恰当的数后，可使每行、每列以及两条对角线上的三数的和都相等。问方格内的x的值是多少：

3		x
		6
8		

- A. 2 B. 9 C. 14 D. 27
20. 甲、乙两人沿直线从A地步行至B地，丙从B地步行至A地。已知甲、乙、丙三人同时出发，甲和丙相遇后5分钟，乙与丙相遇。如果甲、乙、丙三人的速度分别为85米/分钟、75米/分钟、65米/分钟。问A、B两地距离为多少米：
A. 8000米 B. 8500米 C. 10000米 D. 10500米
21. 有AB两个电脑显示器，已知旧显示器A的宽高比是4:3，新显示器B的宽高比例是16:9，若两个显示器面积相同，问B的宽与A的宽度比是：
A. $\sqrt{3} : 1$
B. $\sqrt{3} : 6$
C. $2 : \sqrt{3}$
D. $4 : \sqrt{3}$
22. 若商品的进货价降低8%，而售价不变，那么利润(按进货价而定)可由目前的P%增加到(P+10)%。问P的值是：
A. 20 B. 15 C. 10 D. 5
23. 如图所示，梯形ABCD的两条对角线AD、BC相交于O，EF平行于两条边且过O点。现已知AB=6，CD=18。问EF的长度为多少：



- A. 8.5 B. 9 C. 9.5 D. 10
24. 某人月初用一笔人民币投资股票，由于行情较好，他的资金每月都增加 $\frac{1}{3}$ 。即使他每月末都取出1000元用于日常开销，他的资金仍然在3个月后增长了一倍。问他开始时投资了多少人民币：
A. 9900元 B. 9000元 C. 12000元 D. 11100元
25. 小明、小刚和小红三人一起参加一次英语考试，已知考试共有100道题，且小明做对了68题，小刚做对了58题，小红做对了78题。问三人都做对的题目至少有几题：

A. 4题

B. 8题

C. 12题

D. 16题

第二部分 言语理解与表达

本部分包括表达与理解两方面的内容。请根据题目要求，在四个选项中选出一个最恰当的答案。

26. 出于对进城农民工生活的深切关怀，作家们在叙述农民进城的故事时，大都会情不自禁地持有一种严正的道德立场，这些故事往往被简化为一种苦难叙事或控诉文学，在这种叙事图景中，城市和农村往往被抽象化为两个相对立的价值世界，农民们在城市中的挣扎，也总是被演绎为一曲关于质朴价值遭到毁灭的挽歌。这段文字的主旨是：
- A. 现代文学创作应更多关注进城农民工的生活
B. “三农问题”积重难返，城乡差距日益扩大，进城农民工生活艰难
C. 文学创作关于农民进城故事的叙述，有利于引起社会对他们的关注
D. 关于进城农民工的文学创作，不应局限于简单的价值判断
27. 《竹书纪年》的整理者也受到后世的一都独尊制度和思想的影响，在整理此书时，有意删掉了一些不符合“更不徙都”的材料。然而这样删削，却为人们廓清那些本来就不易弄清的遥远的历史问题带来了更多的麻烦。幸好有一些文献，特别是《括地志》又将“更不徙都”以外的一些材料拾掇起来，乍看上去这些材料是相互矛盾的，实质上却是客观事实的反映。对这段话的主旨概括最恰当的一项是：
- A. 《竹书纪年》并不是一部完整意义上的史书，因为它隐瞒了一些事实
B. 史书中关于一些历史事实的记载往往自相矛盾
C. 不同史书之间的交叉验证有助于我们发掘历史的真相
D. 封建独尊制度的流毒遗害至今，对于考古学是一个严峻的挑战
28. 英特尔表示，其新一代处理器已经不再使用铅作为原料，预计到2008年将停止使用卤素。通过这些举措，英特尔处理器对于环境的危害将大大降低。英特尔新型处理器的一个最大特点是采用了铪，可以有效地解决电泄漏的问题，使处理器功耗效率提升了30%。随着晶体管的体积不断缩小，电泄漏也更加严重，导致处理器发热和功能过大的问题日益突出。从某种程度上讲，电泄漏已经成为阻碍处理器性能进一步提升的瓶颈。对这段话的主要意思概括最恰当的一项是：
- A. 英特尔公司已经成功开发出了解决电泄漏问题的新技术
B. 电泄漏问题是处理器生产过程中亟待解决的瓶颈问题
C. 随着晶体管体积的不断缩小，处理器的发热和功耗问题将越来越严重
D. 英特尔公司的新一代处理器应用了新材料，不仅更加环保，而且提升了功耗效率
29. 面对心理辅导与治疗的本土化，我们要对西方的理论存有一种开明的态度，迫切的问题是：我们如何以实证方式的结果研究，来检验有关理论在中国人中之有效性，然后去芜存菁。同时，通过吸收、借鉴外国的

理论和方法，发展或创造出适合中国文化和中国人特点的心理辅导和治疗体系。

对这段话的主要意思概括最恰当的一项是：

- A. 心理学是一门因人而异、因材施教的学科
 - B. 我们迫切需要用实证方式来验证西方心理辅导与治疗理论的科学性
 - C. 心理辅导与治疗的本土化目标的实现，要建立在对外方理论去伪存真和自主创新的基础上
 - D. 尽可能开明的对待西方理论，海纳百川，博采众长，方能实现心理辅导与治疗的本土化
30. 伏尔泰以天纵之资，博览群书，吃掉了的东西自己加以消化，作为营养，为他的“理性哲学”服务。伏尔泰涉猎的诸“家”当中，中国只是不很重要的“一家”，并不是“情有独钟”；用显微镜把它单挑出来像“特写镜头”一样放大，那不是“幻觉”，也是“错觉”。
- 这段文字主要说明：
- A. 伏尔泰用中国素材为其“理性哲学”服务
 - B. 中国素材在伏尔泰的哲学体系中占重要地位
 - C. 夸大中国因素在伏尔泰哲学体系中的作用是不对的
 - D. 伏尔泰用“特定镜头”的方式来描绘中国
31. 过去有人认为，犯罪是因为罪犯心理不健全或对社会感到疏离等原因而从事犯罪行为，因此不能凭借惩罚来阻止。不过，从微观经济学的角度来看，多数罪犯都会根据自己的情况来做理性选择。这种分析方法对于公共政策的制定和司法审判都形成了相当程度的影响。现在，如果法官和立法者对犯罪采取宽松的态度，就会引起民众强烈不满。由此可见，很多人也开始从微观经济学的角度来诠释犯罪行为了。
- 这段话表达的主要意思是：
- A. 大多数罪犯都是理性的
 - B. 心理性或社会性因素是犯罪的主要原因
 - C. 微观经济学改变了很多人对犯罪的看法
 - D. 用微观经济学诠释犯罪行为更为科学
32. 民族主义曾经是社会争取统一与独立的现代化力量，而今一旦立国成功，却很容易变成一种保守压迫的力量。几乎没有政治领袖具有这样的见识：将其国民的需要置于国家目标之上，而常常是实现现代化的手段本身变成了目的。
- 对这段文字理解不正确的是：
- A. 民族主义是一把双刃剑
 - B. 民族主义具有保守与压迫的本质属性
 - C. 有远见的政治家会将国民的需要置于重要地位
 - D. 在现代国家的建立过程中，民族主义起过积极性作用
33. 人们试图去预测世界发展线路或寻求过分简化及单向的解决办法，对此我们都应保持怀疑的态度，因为世界形势极其复杂。发展趋势分析则在我们展望未来时提供了一种更为错综复杂的观点，使我们集中关注所要面临的决策分析。
- 对这段文字理解正确的是：
- A. 发展趋势分析在一定程度上能避免简单化的倾向

- B. 简单化的思维对认清世界发展路线是毫无意义的
- C. 发展趋势分析是一种精确的趋势预测方法
- D. 鉴于世界形势的极端复杂性，预测发展趋势是徒劳的
34. 传统的道德是对应着较单纯的生活和与人际关系结合密切的小组织产生的，道德教化在生活单纯的小组织里还能发挥作用。但在高度复杂化的现代社会，如果把人的爱心和慷慨，仅由面对面的方式表现，把移风易俗的重任，仅寄望于少数有德者，很难想象这个社会会变成个什么样子。
- 根据这段文字，理解错误的是：
- A. 道德是在一定的环境中产生并发挥作用的
- B. 道德教化在传统社会中具有积极功能
- C. 在现代社会发扬传统道德是一件非常困难的事情
- D. 道德教化在现代社会的功能趋于式微
35. 2001年，占世界人口4.68%的美国人消耗了世界卫生资源的46.7%，人均卫生费用支出4873美元；占世界人口0.5%的加拿大也消耗了2.22%的世界卫生资源。美、加两国的卫生资源可谓充足，但是调查显示，当时还有13%的美国人、11%的加拿大人没有享受到必需的卫生服务。在美国，53%的医疗需求未得到满足者认为，这主要是由于费用过高导致的；在加拿大，32%的未满足者认为，等候时间过长是主要原因。
- 作者通过这段文字最有可能想说明的观点是：
- A. 不能笼统的将未满足需求作为卫生资源总量供给不足的根据
- B. 发达国家消耗了世界上大部分的卫生资源
- C. 美、加两国的卫生水平高，卫生资源总量充足
- D. 世界各国占有与消耗的卫生资源是极不均衡的
36. 传统凯恩斯主义的缺陷，新古典主义的成效与失误启发了一些学者构建微观基础的宏观经济学，并另辟蹊径地对劳动力市场与产品市场进行实证分析，以期发现宏观失业与经济波动的原因。他们以工资、价格刚性和非市场出清假设取代新古典主义的工资、价格灵活性和市场出清假设，并把它结合到宏观产量与就业决定理论中而得出凯恩斯主义结论，这样就产生了新凯恩斯主义。
- 对以上文字理解正确的一项是：
- A. 新古典主义的成效与失误是宏观经济学的基础
- B. 微观基础的宏观经济学的突破在于对劳动力市场和产品市场的实证分析
- C. 新凯恩斯主义就是以工资、价格刚性和非市场出清假设取代新古典主义的假设
- D. 工资、价格灵活性和市场出清假设也许是新古典主义的成效与失误所在
37. 将传统节日纳入国家法定节日，体现的是对中国传统文化的尊重和回归。中国传统文化是我们精神家园的重要组成部分。但是这些年来，一些“洋节”越来越成为时尚，传统节日反倒有被人们，特别是青年人淡忘的趋势。
- 下列不符合文意的一项是：
- A. 作者支持将传统节日纳入国家法定节日的做法
- B. 传统节日是中国传统文化的重要组成部分
- C. 一些“洋节”越来越成为时尚，大部分青年人已经淡忘了传统节日

- D. 将传统节日纳入国家法定节日可以唤起大家对传统文化的重视
38. 在一个低气压的时代，水土特别不相宜的地方，谁也不存什么幻想，期待文艺园地里奇花异卉探出头来。然而天下比较重要的一些事故，往往在你冷不防的时候出现。史学家或社会学家，会用逻辑来证明，偶发的事故实在是酝酿已久的结果。但没有这种分析头脑的大众，总觉得世界上真有魔术棒似的东西在指挥着，每件新事故都像从天而降，教人无论悲喜都有些措手不及。张爱玲女士的作品给予读者的第一个印象，便有这情形。
- 对这段话理解不正确的一项是：
- A. 张爱玲作品的问世在当时社会背景下是一个特例
- B. 在文艺园地里奇花异卉的出现是不能用科学和逻辑来解释的
- C. 大众对于张爱玲作品问世的感觉是太突兀、太奇迹
- D. 张爱玲作品的问世并不是偶然的，存在一定的必然性
39. 我不幸偶尔看了一本外国的讲论儿童的书，才知道游戏是儿童最正当的行为，玩具是儿童的天使。于是二十年来毫不忆及的幼小时候对于精神的虐杀的这一幕，忽地在眼前展开，而我的心仿佛也同时变成了铅块，很重很重地坠下去了。但心又不竟坠下去而至于断绝，他只是很重很重地坠着，坠着。我也知道补过的方法的：送他风筝，赞成他放，劝他放，我和他一同。我们嚷着，跑着，笑着——然而他其实已经和我一样，早已有了胡子了。
- 下列不能从这段话中得出的一项是：
- A. “我”曾经阻止过“他”正当的游戏行为
- B. “我”为自己二十年前的愚蠢行为感到愧疚
- C. 二十年后“我”的忏悔对于“他”已无实际意义
- D. “我”在小时候也没放过风筝
40. 以下各句中，加下划线的词语使用恰当的一项是：
- A. 在原则问题上，党员干部应该有自己鲜明的立场，采取似是而非的态度是极不负责的
- B. 王刚任公司经理以来，公司的业绩一落千丈，员工的工资福利待遇也越来越差，这次他被免职，实在是人心所向
- C. 在世界杯决赛前夕，面对部分足球流氓的过激行为，英国警方以暴易暴，逮捕了五名带头制造事端的不法分子
- D. 孙明利用业余时间创作的油画获得了国际大奖，面对记者的采访，他谦虚地说自己只是略通一二，远远谈不上登堂入室
41. 以下各句中，加下划线的词语使用不恰当的一项是：
- A. 习习的风轻掠过河面，微波粼粼，投射长廊斑驳的白墙上，竟是我说不出的美轮美奂
- B. 但近来作文，避忌已甚，有时骨鲠在喉，不得不吐，遂亦不免为人所憎
- C. 一个腐败分子被查办了，固然是咎由自取，人们会拍手称快，但同时更应引起有关部门深刻的反思
- D. 冤案一再发生，而又迟迟没有体制上和制度上的进一步完善，这恐怕正说明了，我们的反思多属于文过饰非

42. 下列各句中，句意明确，没有语病的一句是：

- A. 在适当的阶段对所学知识进行及时的总结，是李波同学取得优异成绩的一条成功经验
- B. 《哈利·波特》这部科幻大片对我来说有较大的兴趣
- C. 一则小品的好坏，不仅在于构思的巧妙，语言的诙谐幽默，还要考虑观众的文化背景和历史传统
- D. 在市场取向的社会环境中，借由文化创意产业发展不那么庸俗化和低劣的产品，早已不是一件令人大惊小怪的事

43. 下列各句中，句意明确，没有语病的一项是：

- A. 美国哈佛大学一位名叫理查德·哈斯的天体物理学家和一位地质学专家领导的科研小组正在对一块陨石进行研究
- B. 在世界主要文明中，唯有日耳曼民族的起源不详，他们确切的史料起始于纪元前半个世纪罗马人的征讨
- C. 刚发行的这期《老年周刊》，以大约一半的篇幅，对老年人关注的饮食问题进行了重点采访和报道
- D. 为和平解决朝鲜核问题，目前国际社会正采取了多种措施协力斡旋调解

44. 下列各句中，有语病的一句是：

- A. 众所周知，房地产行业是个资源消耗型行业，对土地、水泥、钢铁消耗巨大，同时它也是一个资本密集型行业，对利率比较敏感
- B. 农业、农村和农民问题，是关系全面建设小康社会和现代化事业全局的重大问题
- C. 某些司法部门的这种做法不利于公民宪法权利的保护，也不利于宪法作为国家根本大法的最高权威
- D. 今年是本届政府任期的最后一年，我们要以更加昂扬的精神状态，努力把各项工作做得更好，向人民交出满意的答卷

45. 我们的纪录片的问题，_____手法上的落后，_____对现实关注的少，_____缺乏深度、缺乏对社会人文主题的深度开采，缺乏用影像来表达一个比较深刻和开放性话题的能力，正是这一点使当代纪录片在整体上缺乏厚度和广度。

填入横线部分最恰当的一项是：

- A. 在于 而不是 或是
- B. 在于 和 而不是
- C. 不在于 或是 而是
- D. 不在于 且 因而

46. 该书的资料来源显得有些杂乱，编辑也比较粗糙，但整本书却_____了一个清晰的大主题：提倡一种生活情调和处世哲学。

填入横线部分最恰当的一项是：

- A. 贯穿
- B. 隐藏
- C. 体现
- D. 蕴含

47. 影片《大国崛起》讲述了一个新的历史叙事，它关注不同的大国在不同历史时期“崛起”的原因。以开放和坦然的心态直面那些过去被_____的历史。

填入横线部分最恰当的一项是：

- A. 赞扬、肯定，甚至奉为教条
- B. 扬弃、赞美，甚至视为真理

渠的通塞也很注意，每逢雨季之前，就命水利官员加以_____以免泛滥。

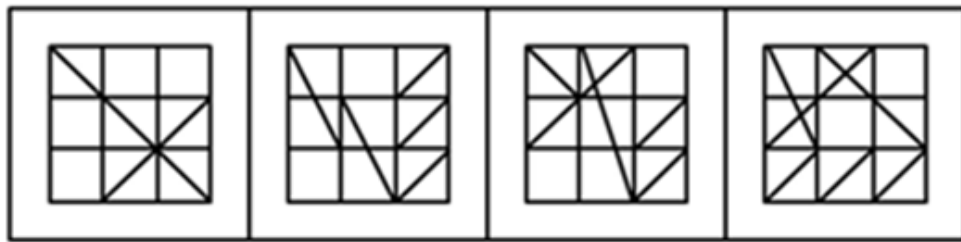
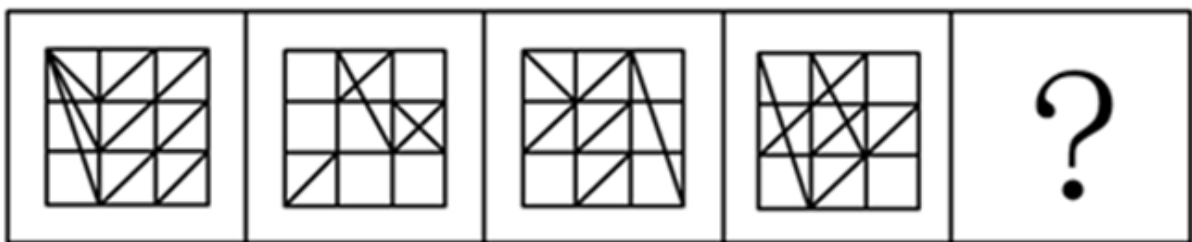
填入横线部分最恰当的一项是：

- A. 整治 B. 疏浚 C. 疏导 D. 疏通

第三部分 判断推理

本部分包括图形推理、定义判断、类比推理与逻辑判断四种类型的试题，请按每道题的答题要求作答。

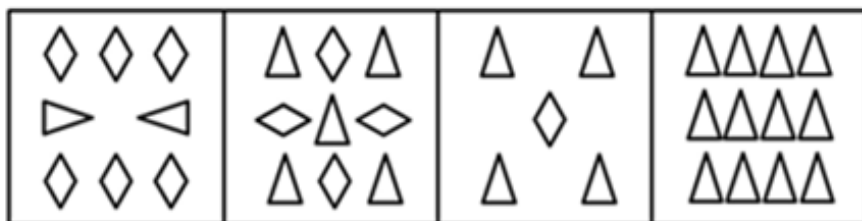

56. 请从所给的四个选项中，选择最合适的一个填入问号处，使之呈现一定的规律性：【2008浙江056】



- A B C D

- A. 如图所示 B. 如图所示 C. 如图所示 D. 如图所示

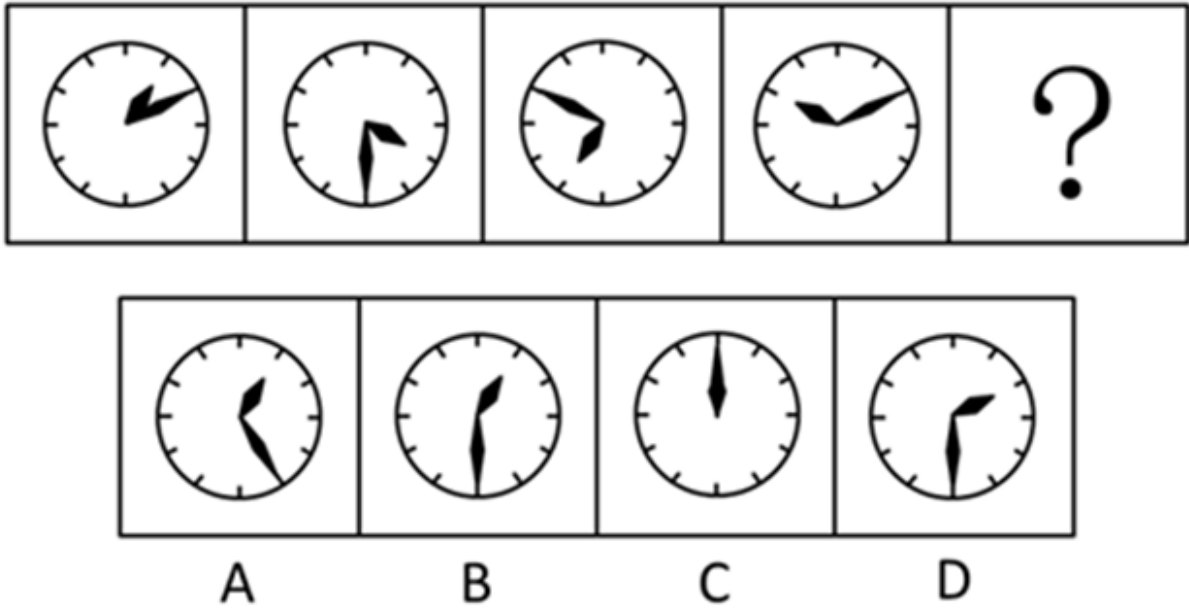
57. 请从所给的四个选项中，选择最合适的一个填入问号处，使之呈现一定的规律性：【2008浙江057】



- A B C D

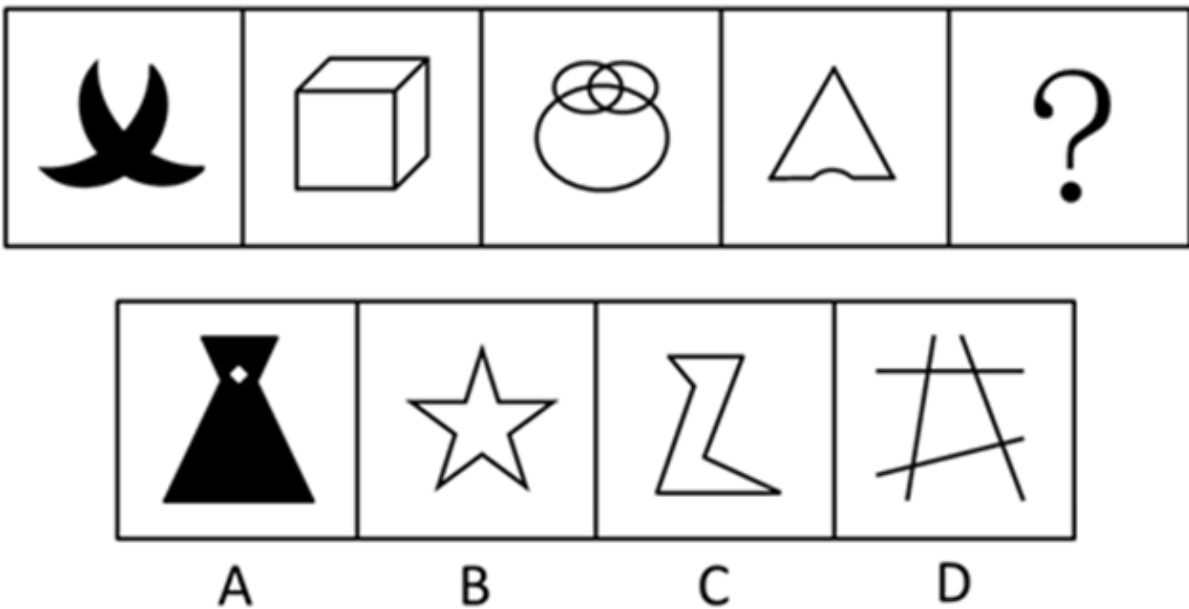
- A. 如图所示 B. 如图所示 C. 如图所示 D. 如图所示

58. 请从所给的四个选项中，选择最合适的一个填入问号处，使之呈现一定的规律性：【2008浙江058】



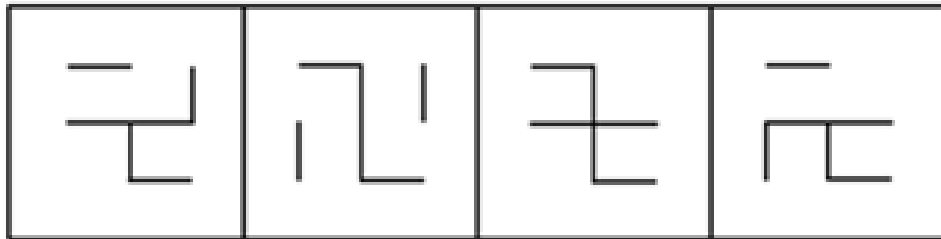
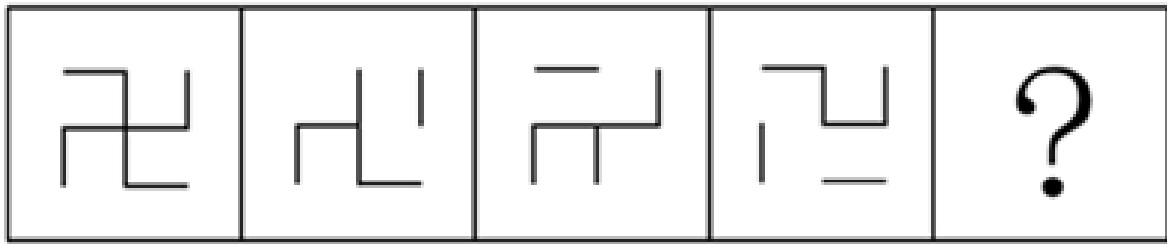
- A. 如图所示 B. 如图所示 C. 如图所示 D. 如图所示

59. 请从所给的四个选项中，选择最合适的一个填入问号处，使之呈现一定的规律性：【2008浙江059】



- A. 如图所示 B. 如图所示 C. 如图所示 D. 如图所示

60. 请从所给的四个选项中，选择最合适的一个填入问号处，使之呈现一定的规律性：【2008浙江060】



A

B

C

D

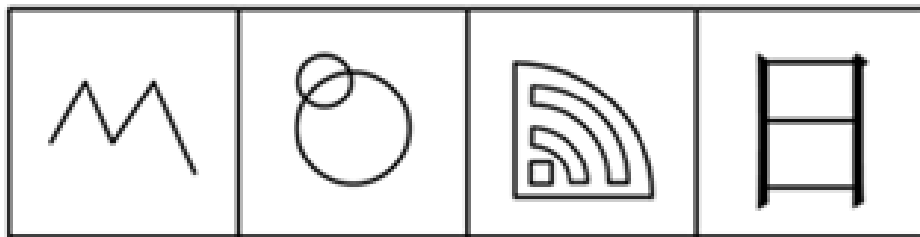

A. 如图所示

B. 如图所示

C. 如图所示

D. 如图所示

61. 请从所给的四个选项中，选择最合适的一个填入问号处，使之呈现一定的规律性：【2008浙江061】



A

B

C

D

A. 如图所示

B. 如图所示

C. 如图所示

D. 如图所示

62. 请从所给的四个选项中，选择最合适的一个填入问号处，使之呈现一定的规律性：【2008浙江062】

开	面	出
青	勺	什
小	对	?

无	忠	走	三
---	---	---	---

A

B

C

D

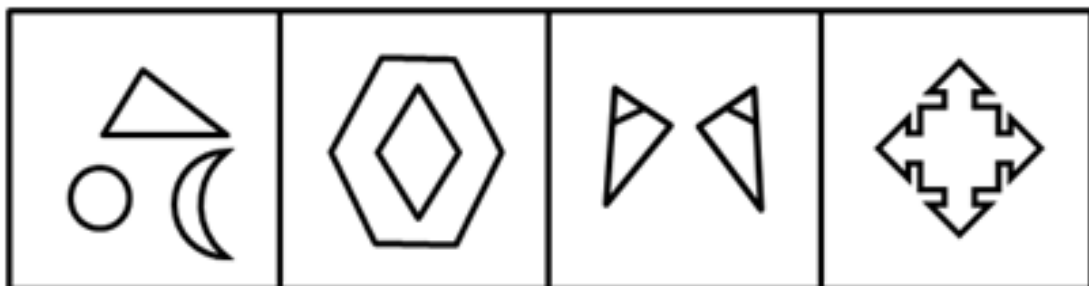

A. 如图所示

B. 如图所示

C. 如图所示

D. 如图所示

63. 请从所给的四个选项中，选择最合适的一个填入问号处，使之呈现一定的规律性：【2008浙江063】



A

B

C

D

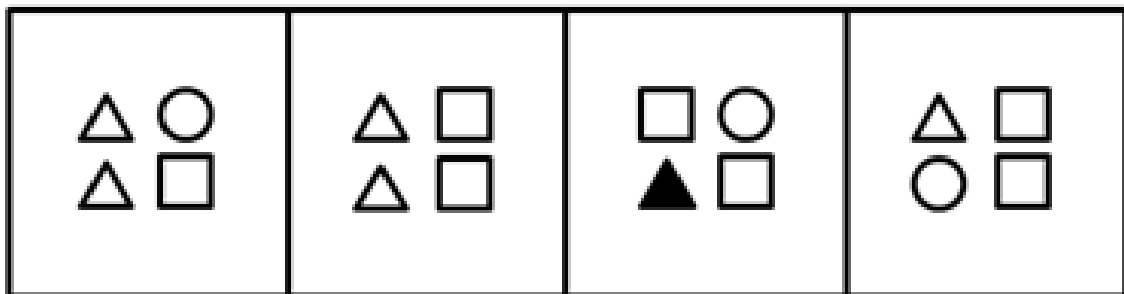

A. 如图所示

B. 如图所示

C. 如图所示

D. 如图所示

64. 请从所给的四个选项中，选择最合适的一个填入问号处，使之呈现一定的规律性：【2008浙江064】



A

B

C

D

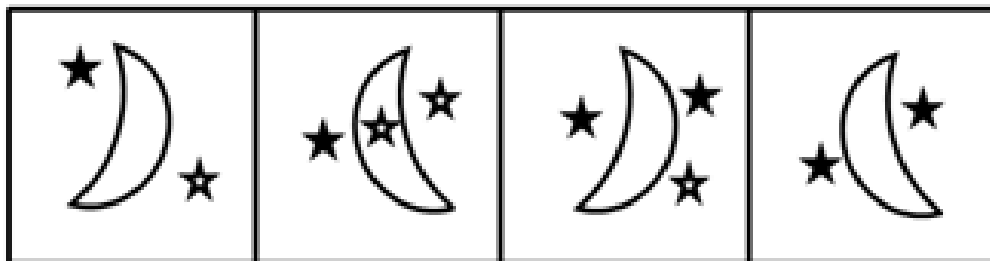

A. 如图所示

B. 如图所示

C. 如图所示

D. 如图所示

65. 请从所给的四个选项中，选择最合适的一个填入问号处，使之呈现一定的规律性：【2008浙江065】



A

B

C

D

- A. 如图所示 B. 如图所示 C. 如图所示 D. 如图所示
66. 新闻：内幕 B. 医院：生命 C. 教育：学校 D. 奋斗：成就
67. 青蛙：庄稼 B. 树木：城市 C. 合同：买方 D. 空气：健康
68. 做作：表情 B. 怆然：泪下 C. 僵硬：舞姿 D. 演绎：角色
69. 囚犯：枷锁 B. 空姐：微笑 C. 白领：跑车 D. 农夫：锄头
70. 清凉：盛夏 B. 局促：广场 C. 安详：长眠 D. 萧瑟：深秋
71. 光照：影子

- A. 酒精：气氛 B. 振动：声音 C. 努力：成功 D. 飓风：损失
72. 负荆请罪：廉颇
- A. 三顾茅庐：诸葛亮 B. 卧薪尝胆：夫差
C. 乐不思蜀：刘禅 D. 城下之盟：宋太祖
73. 曹七巧：张爱玲
- A. 杜甫：李白 B. 于连：狄更斯
C. 骆驼祥子：老舍 D. 林徽因：郭沫若
74. 林冲：水浒
- A. 范进：官场现形记 B. 贾宝玉：红楼梦
C. 闰土：祝福 D. 吴承恩：西游记
75. 守株待兔：望梅止渴
- A. 唇亡齿寒：鸡鸣狗盗 B. 闻鸡起舞：指鹿为马
C. 掩耳盗铃：拔苗助长 D. 不寒而栗：不学无术
76. 意识形态：在一定的社会经济基础上形成的代表了某一阶级或社会集团的利益的系统的思想观念。
下列属于意识形态的是：
- A. 虽然本周股市低迷，但大部分股民都相信下周股票一定会上涨
B. 某省文学艺术界联合会号召大家在新时期要抵制低俗文化，净化文化环境
C. 摄影师小韩在某知名论坛上发布了一组某藏族贫困小学生艰辛求学的照片，号召大家为其捐助，许多人纷纷回应，在网上引起了轩然大波
D. “嫦娥一号”成功发射那一刻，举国上下欢呼庆祝
77. 流动偏好：凯恩斯提出的一种人们以货币的形式保持一部分资产的愿望和偏爱，它是一种心理动机，是人们为了应付日常开支、意外开支和在适当的时机投机牟利活动需要而愿意手头持有现金的倾向。
下列现象不属于流动偏好的一项是：
- A. 银行一再降息，全国的储蓄率仍然很高
B. 为了孩子将来上大学，金明从结婚后就开始为孩子存款
C. 最近一段时间来，股市形势一直不好，许多股民纷纷退出股市
D. 李明平时勤俭节约不乱花钱是怕突如其来的下岗后的拮据
78. 自我实现预期：当人们对后果有期望或期待时，就会引发某种行为，预期可以通过自我暗示或他人暗示形成自我鼓励或他人鼓励，对激发与调动潜在的能力起到一定的作用。积极的预期会产生积极的结果，消极的预期则产生消极的结果。
下列现象不属于“自我实现预期”的是：
- A. 她的同学都说她很漂亮，我也越看越觉得漂亮了
B. 他一直担心自己性格内向而通不过面试，结果在面试时他特别紧张而被淘汰
C. 星座书上说她今年学业不顺利，于是她就颓废消极，结果期末考试真的没通过
D. 亲戚朋友都赞许他很聪明，将来一定能考上名牌大学，他受到鼓励后学习更加努力，结果考上了北京大学

79. 污名化：一个群体将人性的低劣强加在另一个群体之上并加以维持的动态过程，它是将群体的偏向负面的特征刻板印象化，并由此掩盖其他特征，成为在本质意义上与群体特征对应的指标物，在这个过程中，处于强势且不具污名的一方最常采用的一种策略，即“贴标签”。

下列现象不属于污名化现象的是：

- A. 某市治安日益恶化，市民都抱怨是农民工流入城市的恶果
- B. 杭州出生的魏某鄙视农村来的妻子，认为她邋遢土气，没文化
- C. 某餐厅打出招聘广告：“本餐馆招收服务员一名，XX省的人一概不考虑”
- D. 在旧上海，苏北人被视为懒惰的群体，被排除在上海人通婚圈之外

80. 霸王条款：一些经营者针对消费者单方面制定的逃避法定义务、减免自身责任的不平等的格式合同、通知、声明和店堂公告或者行业惯例等。

下列属于霸王条款的是：

- A. 无业青年王某等三人强行占据菜场停车场，并声称：要停车必须缴费十元
- B. 个体户洪某恶狠狠地威胁街对面同样经营大米批发生意的赵某：“以后你要是敢比我早开门，我砸了你的店”
- C. 某商场举行店庆时在电子广告牌上写明：全场火爆，满四百减一百五；请勿拥挤，排队入场；1.4米以下儿童入场必须有家长陪同
- D. 某服装店玻璃窗上写着“打折期间售出商品概不退换”

81. 甲、乙、丙、丁四对夫妇参加一场交谊舞会。开始时，四位先生的舞伴都是自己的夫人，后来他们先后三次交换了舞伴：

- ①乙先生和丙先生交换舞伴；
- ②甲先生和丙先生交换舞伴；
- ③乙夫人和丁夫人交换舞伴。

问三次交换舞伴后，下列哪种舞伴搭配是正确的：

- A. 甲先生和丁夫人
- B. 丙先生和乙夫人
- C. 丙先生和丁夫人
- D. 丁先生和甲夫人

82. 若GDP增长率大于3%，那么城市居民和农民的人均收入一定增长了。假设以上推论是正确的，那么下列哪项一定正确：

- A. 城市居民和农民的人均收入都增长了，那么GDP增长率一定大于3%
- B. 城市居民的人均收入增长了，而农民的人均收入却减少了，那么GDP增长率一定小于或等于3%
- C. 如果GDP增长率小于或等于3%，城市居民的人均收入一定减少了
- D. 即使城市居民和农村的人均收入都减少了，GDP增长率也可能大于3%

83. 最近三年来，捷达牌计算机的销量有了飞速的增长。而同一时期，该品牌用于电视广告的费用也明显增长了。因而有人认为，捷达牌计算机销量的增长，得益于其电视广告的促销作用。

以下哪项为真，最能削弱上述结论：

- A. 捷达牌计算机的购买者中，很少有人注意到该品牌的电视广告
- B. 宏远牌计算机是捷达的主要竞争对手，它的电视广告投入更多

- C. 注意到捷达牌计算机电视广告的人中，很少有人购买该产品
- D. 最近三年来，人们对计算机的需求总量有明显增长
84. 争议最大的问题是：植物如何做出这样的反应呢？人类和其他高级动物通过神经系统和大脑整合来自其所处环境的信号，并做出反应。但植物没有神经系统，没有大脑，因此肯定是通过其他途径做到的。最有可能的解释是，它们的反应依靠某种激素和电子信号的接收、转换和反馈系统来协调。
- 从上文中可以推出，接下来，作者最可能表述的问题是：
- A. 动物如何对外界刺激做出反应的具体描述
- B. 动物和植物对外界刺激的敏感度不同
- C. 对外界刺激，植物依靠某种激素和电子信号协调做出反应的相关研究
- D. 相关科学家在植物对外界刺激的反应问题上存在巨大分歧
85. 现代的这个主导信仰有一项不可抗拒的吸引力：当你越快取得某样想要的东西，就越保证能得到另一样想要的东西。说它具有吸引力还真的有点疑问，因为这些说辞完全越过伦理的考量；无须任何牺牲或克己；相反的，我们有科技的协助不断向和平与富裕之路迈进，而这所需的一切就是我们不应表现愚蠢、非理性而伤害自身。
- 根据以上文字，下列推断不正确的一项是：
- A. 现代的主导信仰超越了伦理的范畴
- B. 现代主导信仰崇尚自我、理性、科学
- C. 作者对于现代主导信仰的潜在态度是质疑的
- D. 科技之路最终将通向和平与富裕
86. 供给学派认为，只有了解上述所得转移的税收效果，我们才能希望设计出一种社会福利制度，既能帮助真正需要帮助的人，又能给予那些在工作的人最大的激励。只有当人们从事工作和储蓄，进而提高全国资本存量时，才有国家财富的分配可言。
- 上文中“上述所得转移的税收效果”最有可能指的是：
- A. 目前的税收体制在保障工作人士激励方面的作用还不够
- B. 目前的税收效果是保障了穷人的最低所得和生活需求
- C. 目前的税收体制激励人们依赖福利金而不去工作
- D. 目前的税收体制关心的是维持个人的所得水平和消费能力
87. 据统计结果显示，在韩国由于“心理问题”接受心理咨询的大学生数量大幅增加，以延世大学咨询中心为例：2003年咨询案例为1364件，到了2006年达到3485件，增加了1.5倍。首尔大学的大学生活文化院咨询人数也是从2004年的191人，增加到2005年的285人、2006年的320人，呈逐年递增趋势。
- 下列哪个成立，最能严重削弱“咨询案大幅上升的原因是大学生心理问题增多”的观点：
- A. 未来前途和就业方面的精神压力增大，承受精神痛苦的韩国大学生骤增
- B. 2004年以前韩国的大学生即便出现心理问题也基本不接受心理咨询
- C. 调查表明，最近几年，韩国某大学咨询中心的咨询案件反而呈下降趋势
- D. 从2005年开始韩国许多大学成立了心理咨询中心
88. 人们通过同位素测定法可以准确地得到地球的绝对年龄。很早以来，人们发现岩石中放射性同位素都会自

动并以不变的速率逐渐衰变为非放射性的子体同位素，同时释放出能量。只要温度、压力等因素不变，人们就可以获得准确的数值。当然，这种方法也有缺点，在进行同位素年龄测定时，所选取的样品很难消除后期热变质作用的影响，如果样品是遭受过风化的岩石，与母岩的性质更是相差甚远，所得到的绝对年龄值往往不能代表岩层的真正年龄。

从这段文字可以推出：

- A. 同位素测定法依然是目前测定岩层年龄的唯一可依赖的较精确的方法
 - B. 要想通过同位素测定法得到一个地区准确的地质年代，精确的取样是关键之一
 - C. 同位素测定法只适合于一些地质年代里变化剧烈因而存在着大量放射性元素的岩层
 - D. 人类掌握的知识总是有限的，科学测量结果也不一定可信
89. 墨子熟悉儒家，但终于否定了儒家。其中最重要的，是以无差别的“兼爱”，否定了儒家有等级的“仁爱”。他认为，儒家的爱，有厚薄，有区别，有层次，集中表现在自己的家庭，家庭里又有亲疏差异，其实最后的标准是看与自己关系的远近，因此核心还是自己。这样的爱，是自私之爱。他主张“兼爱”，也就是祛除自私之心，爱他人就像爱自己。

从这段文字可以推出的是：

- A. 墨子是伟大的爱国主义先驱
 - B. 墨学站在更高的角度对统治阶级提出了“兼爱”的要求，实用性更强
 - C. 墨子主张打破等级森严的封建宗法观念而去追求一个虚幻的平等社会
 - D. 等级制度是人类历史发展的必然现象
90. 雪崩体能使每平方米的被打物体表面承受40~50吨的力量，冲击力量非常惊人，雪崩体在高速运动过程中，还能够引起空气剧烈的振荡，在雪崩龙头前方造成类似于原子弹爆炸时的冲击波的强大气浪。在陡岩或者河谷急转弯的地方，雪崩体很可能被阻停留下来。而雪崩气浪则会继续沿着雪崩运动的方向爬山越岭，摧毁森林、房屋，倾覆车辆，人畜遇到它可能窒息而死。

从这段文字可以推出的是：

- A. 雪崩体的巨大冲击力更甚于原子弹爆炸
- B. 雪崩的威力一般只能达到陡岩或者河谷急转弯的地方
- C. 雪崩体对登山队员的主要威胁在于缺氧
- D. 雪崩气浪的作用范围要比雪崩体大得多

第四部分 常识判断

根据题目要求，在四个选项中选出一个最恰当的答案。

91. 马克思主义唯物辩证法认为，事物发展的根本规律是：
- A. 物质决定意识，意识反作用于物质的规律
 - B. 对立统一规律

- C. 质量互变规律
- D. 生产力决定生产关系，经济基础决定上层建筑的规律
92. 毛泽东思想初步形成的重要标志是：
- A. 在分析中国社会各阶级的基础上，提出党在民主革命中的基本路线
- B. 写就《星星之火，可以燎原》等著作，提出走“农村包围城市，武装夺取政权”的道路
- C. 新民主主义革命总路线的形成
- D. 党的第七次全国代表大会的召开
93. 邓小平同志在_____中对社会主义的本质这一重大问题作了总结性的理论概括，指出：“社会主义的本质，是解放生产力，发展生产力，消灭剥削，消除两极分化，最终达到共同富裕。”
- A. 党的十一届三中全会
- B. 党的十二届三中全会
- C. 南方谈话
- D. 党的十三大
94. 下列关于科学发展观的表述中，不适当的一项是：
- A. 2003年3月10日，胡锦涛同志在中央人口资源环境工作座谈会上，系统阐述了科学发展观的基本内涵
- B. 科学发展观的核心是以人为本，基本要求是全面协调可持续
- C. 科学发展观丰富和完善了新世纪新阶段我国现代化建设的发展道路、发展模式和发展战略
- D. 科学发展观的根本方法是统筹兼顾，坚持以节约资源和环境保护为中心
95. 从1988年到2004年，我国现行宪法先后进行了四次修正。其中“将乡镇人大的任期，由3年改为5年”是在：
- A. 1988年的第一个宪法修正案
- B. 1993年的第二个宪法修正案
- C. 1999年的第三个宪法修正案
- D. 2004年的第四个宪法修正案
96. 根据《行政复议法》，在一般情况下，公民、法人或者其他组织认为具体行政行为侵犯其合法权益的，可以自知道该具体行政行为之日起_____内提出行政复议申请；而行政复议机关应当自受理申请之日起_____内作出行政复议决定。
- A. 60日 60日
- B. 60日 30日
- C. 30日 30日
- D. 30日 60日
97. 下列关于“缓刑”的说法中，不适当的一项是：
- A. 累犯不适用缓刑
- B. 缓刑只适用于被判处5年以下有期徒刑的犯罪分子
- C. 被宣告缓刑的犯罪分子，在缓刑考验期限内，由公安机关考察
- D. 如果没有法定的应当撤销缓刑的情形，缓刑考验期满，原判的刑罚就不再执行，并公开予以宣告
98. 下列对《民事诉讼法》中的“共同诉讼人”的表述，最适当的是：
- A. 在同一诉讼中，对原告、被告及其诉讼代理人的总称
- B. 在共同诉讼中共居于相同诉讼地位的当事人，即原告或被告一方为两个以上
- C. 在诉讼中，对他人之间的诉讼标的有独立请求权的诉讼参加人
- D. 在同一诉讼中，与诉讼标的有利害关系的所有诉讼参加人
99. 根据《公务员法》，国家实行公务员职位分类制度。与“品位分类”相比，“职位分类”的特点是：

- A. 以“人”为中心，分类简单，重视公务员的人品条件和学历、资历
- B. 以“事”为中心，分类详尽，重视职位工作和公务员个人的专长，官职与官阶合一
- C. 以人为对象进行分类，官职与级别相对分离
- D. 突出对公务员的品级、官阶的区分，公务员队伍组织严密、等级分明
100. 以下不属于对公务员的处分的种类是：
- A. 警告 B. 记过 C. 罚款 D. 撤职
101. 行政执行可划分为准备、具体实施和评估三大阶段。以下不属于行政执行实施阶段的环节是：
- A. 行政决策 B. 行政授权 C. 行政沟通 D. 行政协调
102. 以下对股份有限公司的特点的说法中，不适当的一项是：
- A. 所有权与经营权统一，委托代理关系简单
- B. 公司开设和歇业的法定程序复杂，有碍于公司资产重组与破产
- C. 公司经营财务状况向社会公开，难以保守商业秘密
- D. 股东为谋取个人利益而买卖股票，缺乏对企业长远的关心，股价的波动不能构成经营者决策的基本依据
103. 根据通货膨胀理论，假如通货膨胀的初始原因是成本推动，如果没有_____的伴随，将会出现生产萎缩，失业增加，最终引起严重的经济萧条。
- A. 供给减少 B. 供给增长 C. 需求减少 D. 需求增长
104. 国际收支平衡表是在一定时期内，一国居民对其他国家的居民所进行的全部经济贸易的系统记录。国际收支平衡表最基本的项目是：
- A. 资本项目 B. 经常项目 C. 关税项目 D. 金融项目
105. 热力学三定律是现代物理学研究的一个重要的内容。其中，根据热力学第一定律，我们可知道：
- A. 任何热机的效率都不可能达到100%
- B. 在温度达到绝对零度时，物质系统（分子或原子）无规则的热运动将停止
- C. 不可能造出既不需外界能量又不消耗系统内能的永动机
- D. 热不可能独立地、没有补偿地从低温物体传向高温物体
106. 存储器的容量大小是衡量计算机性能的一个重要指标。我们通常把_____位二进制作为一个单位来计算存储器的容量，取名为字节。
- A. 2 B. 8 C. 32 D. 1024
107. 20世纪40年代末，美国物理学家_____等提出了大爆炸宇宙模型，认为宇宙起源于160亿年前温度和密度极高的“原始火球”的一次大爆炸。
- A. 爱因斯坦 B. 奥本海默 C. 伽莫夫 D. 霍金
108. 1921年7月23日，中国共产党第一次全国代表大会在上海召开。大会选举产生了党的领导机构_____，_____为书记。
- A. 书记处 董必武 B. 中央局 毛泽东
- C. 书记处 李大钊 D. 中央局 陈独秀
109. 下列关于公文格式的表述中，恰当的一项是：

- A. 发文字号，是制发机关按顺序编列的公文代号，由机关代字、年份、序号三部分组成
- B. 公文标题由发文机关、事由和文种三部分组成，缺一不可
- C. 附件是补充说明正文的依据材料，通常与主件分开装订
- D. 印发日期是指公文的生效日期，一般以负责人签发的日期为准
110. 以下不属于公文的发文办理的环节是：
- A. 审核 B. 用印 C. 拟办 D. 签发

第五部分 资料分析

针对下列图、表或文字回答问题。你应根据资料提供的信息进行分析、比较、计算、处理。你可以在题本上运算。

style="text-align: center;">>

部分上市银行年报数据表

(单位：百万元)

银行年份 项目	中国银行		华夏银行		民生银行		招商银行	
	2006年	2005年	2006年	2005年	2006年	2005年	2006年	2005年
净利息收入	120707	100405	7386	5595	16167	12379	21509	16642
营业收入	137628	116028	10070	7631	17303	12819	25084	19179
利润总额	67009	55140	2411	1989	5237	4285	10397	6500
净利润	41892	27492	1457	1279	3831	2673	7107	3787
资产总计	5325273	4742806	445053	355921	700449	557505	934102	736413
不良贷款	98220	103226	7087	7113	5502	5240	12006	11845

111. 2006年，营业收入最低的银行是：
- A. 中国银行 B. 华夏银行 C. 民生银行 D. 招商银行
112. 与2005年相比，2006年招商银行的净利润约增长了：
- A. 81.37% B. 83.28% C. 85.16% D. 87.67%
113. 2005年，四个银行的净利息收入的总和约为：
- A. 1350亿元 B. 1658亿元 C. 1784亿元 D. 1821亿元
114. 与上年相比，2006年四个银行中，“利润总额”的增长率最大的银行是：
- A. 中国银行 B. 华夏银行 C. 民生银行 D. 招商银行
115. 下列说法中，不正确的一项是：
- A. 2006年中国银行的“资产总计”的同比增长率超过了10%

- B. 与上年相比，2006年四个银行的“不良贷款”的总和下降了
- C. 2006年，华夏银行6个项目的数据都比其他三个银行相应项目的数据小
- D. 与上年相比，2006年四个银行的“利润总额”和“净利润”都增加了

据2006年人口变动抽样调查，年末浙江省常住人口为4980万人，比上年增长1.67%。其中，男性人口2511.4万人，女性人口2468.6万人，分别占总人口的50.43%和49.57%。全年出生人口50.78万人，出生率为10.29%；死亡人口26.75万人，死亡率为5.42%。

据对全省城乡住户抽样调查，全省城镇居民人均可支配收入18265元，农村居民人均纯收入7335元，分别比上年增长10.9%和9.3%。城镇居民人均住房使用面积26.4平方米，比上年末增加0.3平方米；农村居民人均居住面积55.6平方米，比上年末增加0.6平方米。

全年全省参加企业养老保险人数964.4万人，比上年末增加87.6万人；企业实际缴费人数722万人，企业养老保险基金收入318.2亿元，支出192.3亿元，累计结余453.7亿元，比上年末增加125.9亿元，基金支付能力稳定上升，支付能力达26个月。参加失业保险人数504.4万人，比上年末增长13.4%；基本医疗保险参保人数730.6万人，比上年末增长14.2%；工伤保险参保人数604万人，比上年末增长33.3%。

新型社会救助体系进一步深化完善。全省已有城乡低保对象62.9万人，其中城镇8.9万人，月均补助145.5元/人；农村54万人，月均补助72.3元/人。年末全省各种收养性社会福利单位拥有床位10.69万张，收养人员7.56万人。农村“五保”集中供养率92%，城镇“三无”集中供养率98%。现有1500多个乡镇（街道）和2.7万个社区（村）建立了社会救助综合管理服务机构，分别占总数的98.6%和73.4%，社会救助工作人员3.8万名。

116. 2006年浙江省自然增长人口为：

- A. 24.03万人
- B. 27.46万人
- C. 29.51万人
- D. 32.73万人

117. 2006年全省城镇居民人均可支配收入约比上年增加了：

- A. 9.3%
- B. 12.2%
- C. 1991元
- D. 1795元

118. 与上年末相比，2006年末，以下四个项目人数增加最多的是：

- A. 参加企业养老保险人数
- B. 参加失业保险人数
- C. 基本医疗保险参保人数
- D. 工伤保险参保人数

119. 根据以上资料，2006年全省用于农村低保对象的补助支出约为：

- A. 0.39亿元
- B. 4.69亿元
- C. 0.13亿元
- D. 1.55亿元

120. 已知2005年女性人口约占全省常住人口总数的49.3%，则2005年全省的女性人口约为：

- A. 2367万人
- B. 2391万人
- C. 2415万人
- D. 2432万人

style="text-align: center;">">

某年五省市国有企业主要指标对比

项目	浙江	上海	广东	北京	山东
企业数(户)	4604	9833	8565	5029	5851
资产(亿元)	6740.9	15809.9	11961.2	8725.7	7925.1
净资产(亿元)	2561.3	6315.7	4564.0	3096.5	2525.1
国有资产总量(亿元)	1979.7	4304.5	3543.9	2371.0	1747.2
营业收入(亿元)	3500.4	6193.2	5423.9	3302.2	4364.7

121. 国有企业数最多的地区是:

- A. 浙江 B. 上海 C. 广东 D. 山东

122. 浙江省国有企业的“营业收入”比北京市多:

- A. 158.7亿元 B. 162.4亿元 C. 173.6亿元 D. 198.2亿元

123. 广东省国有企业的“国有资产总量”比山东省多:

- A. 4036.1亿元 B. 3125.4亿元 C. 1796.7亿元 D. 1438.6亿元

124. 五省市国有企业的“资产”总和为:

- A. 51162.8亿元 B. 51376.4亿元 C. 51546.3亿元 D. 51760.7亿元

125. 以下说法中, 不正确的一项是:

- A. 五省市中, 浙江省的国有企业数最少
 B. 上海市国有企业的“净资产”比浙江省和北京市两地国有企业的“净资产”总和还多
 C. 山东省国有企业的“营业收入”比广东省低, 比北京市高
 D. 上海市国有企业的“营业收入”比浙江省的两倍还多

扫一扫, 对答案

