

2008年湖南行测真题

真题更新时间：2023年02月23日23:32:05

扫描下方二维码下载小麦公考APP 刷海量题库掌握最新热点



QQ扫码直接下载

微信扫码到应用市场下载

支持所有机型哦

第一部分 言语理解与表达

本部分包括表达与理解两方面的内容。请根据题目要求，在四个选项中选出一个最恰当的答案。

- 每个政府或国家都应该对那些二氧化碳排放过多的企业征收一种特殊税，或者_____这些排放大户购买更加环保的产品。
填入划横线部分最恰当的一项是：
A. 要求 B. 建议 C. 强制 D. 请求
- 丰子恺对待人生世事的冷观态度，在作者1935年写的《车厢社会》里，表现得更为明显。_____面对西湖美景，_____“只宜远看，不宜身入其中”，_____“世事都同风景一样，世事之乐不在实行而在希望”，_____“世间苦的根本”就在于“身在其中”。
填入划横线部分最恰当的一项是：
A. 即使 也 而且 所以
B. 即使 也 因为 所以
C. 假如 却 那么 因为
D. 假如 却 既然 那么
- 贝多芬曾多次_____地对小卡尔进行批评劝诫，但他的仁慈和宽容没有唤回毫无人性的小卡尔。
填入划横线部分最恰当的一项是：
A. 殚精竭虑 B. 好心好意 C. 仁至义尽 D. 苦口婆心
- 我们的研究发现，在工作动机上的个体差异是明显的。比如，对人类做出巨大贡献的两个人，洛克菲勒一生追求财富，圣雄甘地一生粗布缠身，人生目标_____。
填入划横线部分最恰当的一项是：
A. 相差甚远 B. 各有所求 C. 截然不同 D. 南辕北辙
- 我国的传统节日不像西方国家以宗教为主，我们是一个讲求礼义忠孝、仁爱康寿的_____，传统节日代表着我们天人合一、和谐共生的文化根基和历史印记。
填入划横线部分最恰当的一项是：
A. 国家 B. 地区 C. 民族 D. 国度
- 爱因斯坦与波普尔都认为科学的理论是人类的“_____”而不是“_____”。或者说，在自然界背后并没有隐藏着“真理”等待我们“发现”，科学理论是人类的创造物。
填入划横线部分最恰当的一项是：
A. 发明 发现 B. 创造 改造
C. 发现 发明 D. 改造 创造
- 中国国家质检总局将继续加强对企业的监督管理，要求企业进一步完善其质量安全自控体系，确保出口日本产品质量安全；同时将继续加强与日方_____，_____其尽快解除对其余三十七家企业产品的检查命令，保证输日食品贸易的进展顺利。
填入划横线部分最恰当的一项是：
A. 协商 要求 B. 商量 催促
C. 磋商 敦促 D. 洽谈 恳请
- 两栖爬行动物通过冬眠或夏蛰以抵御严寒酷暑；昆虫以“蛹”或“卵”的形式进行冬眠；鸟类借助长

途迁徙或更替羽翼适应气候的变化。这都是_____的事。

填入划横线部分最恰当的一项是：

- A. 妇孺皆知 B. 众所周知 C. 家喻户晓 D. 鲜为人知

9. 在人际交往中，多听少说，善于倾听别人讲话是一种良好的_____。

填入划横线部分最恰当的一项是：

- A. 修养 B. 格调 C. 素养 D. 道德

10. 一款游戏能否吸引玩家，能否激发游戏者对游戏的激情，很大程度上是_____游戏任务。游戏任务系统其实是通过各种任务剧情使游戏者融入到_____社会当中。在进行各项任务的同时，玩家已经不知不觉的_____起任务当中的某个角色，全身心的感受着虚拟世界当中喜怒哀乐。

填入划横线部分最恰当的一项是：

- A. 依赖于 现实 挑战
B. 取决于 虚拟 扮演
C. 取决于 现实 扮演
D. 依赖于 虚拟 挑战

11. 面对大众文化扑面而来，我国主流文化大有力不从心，步步退缩的趋势，而面对西方强大的文化热潮，主流文化大有与“狼”共枕之感。主流文化，只有经过与狼“共枕”温存和与狼“共舞”较量，才能获得的健康的传承基因和生命活力。

此段文字意在说明：

- A. 主流文化备受各方的威胁，已经面临绝境
B. 任何事物只有竞争才能生存
C. 面对大众文化与西方文化的竞争，主流文化危在旦夕
D. 主流文化必须要经过与其他文化斗争才能蓬勃发展

12. 如果科学追求真理但又不可能得到真理，难免导致不可知论或怀疑论的悲观论调，况且我们一旦得到真理，也就等于宣布科学的终结；但如果科学追求好的理论，我们对科学的看法就非常乐观；现在我们手中有迄今为止最好的理论，但将来还可能有更好的理论来代替它。

根据这段文字我们可以得出的结论是：

- A. 科学研究不能定位于寻找真理
B. 改掉对真理的说法是为了让人们科学的追求保持乐观
C. 这个世界上是不存在绝对真理的
D. 人们总是给自己很多藉口来拒绝寻找真理

13. 雨天，车身被蒙上一层土，这层土像细砂纸般包在车身上，一旦有摩擦，就如同用砂纸来磨车漆；此外，雨中含有各种有害物质，被泥沙吸住后，酸雨就很容易腐蚀车漆。

此段文字的主旨是：

- A. 雨中的灰尘对车身会造成磨损 B. 雨水对车漆带来危害的原因
C. 酸雨是腐蚀车身的主要原因 D. 保护车就一定不要让车淋雨

14. 奥运盈利不只包括奥运本身的成功，还要考虑到一个国家举办奥运其他的产业经济发展情况。2008年奥运会对于北京经济的影响可以说是广泛且深远的，除了与赛事最直接相关的场馆建设、市政基础设施投入、旅游消费、体育产业等方面的巨大商机之外，更为中国和北京提供了一个向世界展示的巨大舞台。随着世界越来越多地了解中国、了解北京，很多潜在的商机就会浮出水面并接踵而来。

这段话主要支持了这样一个观点：

- A. 举办奥运会的城市可借奥运实现盈利
B. 奥运会可以带动多项产业经济的发展
C. 中国应该抓住奥运这个舞台展示自己
D. 奥运处处是商机，北京将会空前发展
15. 不难理解，对人类艺术创造所怀抱的这种神圣感，会使我们像珍视大汶口的“日月山”陶尊、康王大盂鼎、米洛的维纳斯，或悲鸿先生失魂落魄地寻找他视同生命的《八十七神仙卷》那样去寻踪、朝拜和珍藏这些独一无二的人类秘真，直到千秋万代，子子孙孙永保之。
- 这段话支持了这样一个观点：
- A. 人类会对艺术像生命一样去珍藏，让子孙永久保存
B. 只有对艺术创造怀有神圣感的人才有可能去寻踪、朝拜、珍藏
C. 悲鸿先生对人类创造的所有艺术都充满了神圣感
D. 除了“日月山”陶尊、康王大盂鼎、米洛的维纳斯外，就没有值得人类珍藏的艺术了
16. 如果你最亲密的朋友是公司的高级主管，那么你们在一起时所谈论的主要内容一定是关于如何管理和经营的；如果你最亲密的朋友是公司的职员，那么你们在一起时谈论的主要话题一定是关于如何工作的；如果你最亲密的朋友是房地产商，那么你们谈论的话题一定会是关于房地产的。
- 此段文字反映了这样一个观点，即：
- A. 当外因足够强大的时候可以改变内因
B. 朋友圈子是决定你生活方式的关键
C. 人们的话题总是和朋友的工作紧密联系的
D. 不同的朋友会为你营造不同的生活环境
17. 科学的可靠性还源于科学界具有公认的评价准则，所以能对理论取得一致意见，因此在比较成熟的科学领域，一个问题无论问哪一个科学家，都可以得到大致相同的答案。哲学、伦理学等学科没有公认的评价准则，同一个问题问不同的哲学家或伦理学家可能得到完全相反的结果，令人无所适从。
- 从这段文字中，能够获取的信息是：
- A. 哲学、伦理学等学科的科学家基本上都是自立门户
B. 哲学、伦理学属于不成熟的科学
C. 哲学、伦理学没有一点可靠性
D. 科学的可靠性不能全靠评价同一问题的一致度
18. 日本《呼声》月刊最新一期刊发日本京都造型艺术大学教授竹村真一撰写的《是全世界在污染中国》一文。文章指出，单纯地将污染、食品安全等责任归咎于中国，无益于问题的解决，简单地认为“都是中国的错”，则可能会让整个世界在将来偿还更大的亏空。
- 根据文意，下列选项中说法有误的是：
- A. 世界环境污染不只是由中国造成的
B. 此事件说明日本人对中国人变得越来越友好
C. 单纯将污染环境的原因归罪于中国，世界环境得不到根本的解决
D. 竹村真一认为，简单地认为“都是中国的错”的说法是错误的
19. 下列句子排序中最恰当的一项是：
- ①一个国家的国家也必须有精神高地，便于人们登高眺望
②洼地与高地的形成，都有赖于机会平等的体制建设
③如果相应的机会被垄断，不曾寻求与权力对接的平常人，就只能望价值高地而兴叹，见精神洼地而沉溺，他就既不会拥有财富，也不能享有精神生活
④岁暮天寒，人们在期望，这个国家的一切制度都以普惠于民为依归

⑤一个国家必须有价值洼地，便于人们走入获利

- A. ④①⑤③② B. ⑤①②③④ C. ④⑤①③② D. ⑤①②④③

20. 如果我们要更深一层地研究梦思和梦内容的关系，最好的方法便是把梦作为起点，然后研究梦表现方法中的正统特征究竟和底下的思想有什么关系。最显著的是，梦里面各种梦的影像会激发起不同的感觉强度，而梦的各段或者是不同的梦都具有不同的清楚度。

文中“梦思”的意思为：

- A. 梦的表现方法 B. 梦的正统特征 C. 梦的思想 D. 梦的思维过程

第二部分 数量关系

在这部分试题中，每道试题呈现一段表述数字关系的文字，要求你迅速、准确地计算出答案。你可以在草稿纸上运算。

21. 2, 10, 17, 23, (), 32

- A. 25 B. 26 C. 27 D. 28

22. 1, 10, 2, (), 3, 8, 4, 7, 5, 6

- A. 6 B. 7 C. 8 D. 9

23. 3, 8, 6, 11, 9, 14, (), ()

- A. 11, 16 B. 12, 16 C. 12, 17 D. 13, 17

24. 2, 8, 32, (), 512

- A. 64 B. 128 C. 216 D. 256

25. 1, -5, 13, -29, ()

- A. -61 B. -39 C. 39 D. 61

26. 18, 24, 21, 27, 24, 30, ()

- A. 19 B. 22 C. 25 D. 27

27. 2, 4, 7, 21, (), 96

- A. 24 B. 27 C. 54 D. 81

28. 243, 199, 155, 111, ()

- A. 66 B. 67 C. 68 D. 69

29. $\frac{9}{30}$, $\frac{7}{20}$, (), $\frac{3}{6}$, $\frac{1}{2}$

- A. $\frac{5}{7}$ B. $\frac{5}{9}$ C. $\frac{5}{12}$ D. $\frac{5}{18}$

30. 7, 13, 24, 45, ()

- A. 56 B. 61 C. 71 D. 81

31. $1-2+3-4+5-6+7-8+\dots+1989-1990+1991=$

- A. 895 B. 896 C. 995 D. 996

32.

某班学生不到50人，在一次考试中，有 $\frac{1}{7}$ 人得优， $\frac{1}{3}$ 人得良， $\frac{1}{2}$ 人及格，其余的均不及格，那么不及格的人数是：

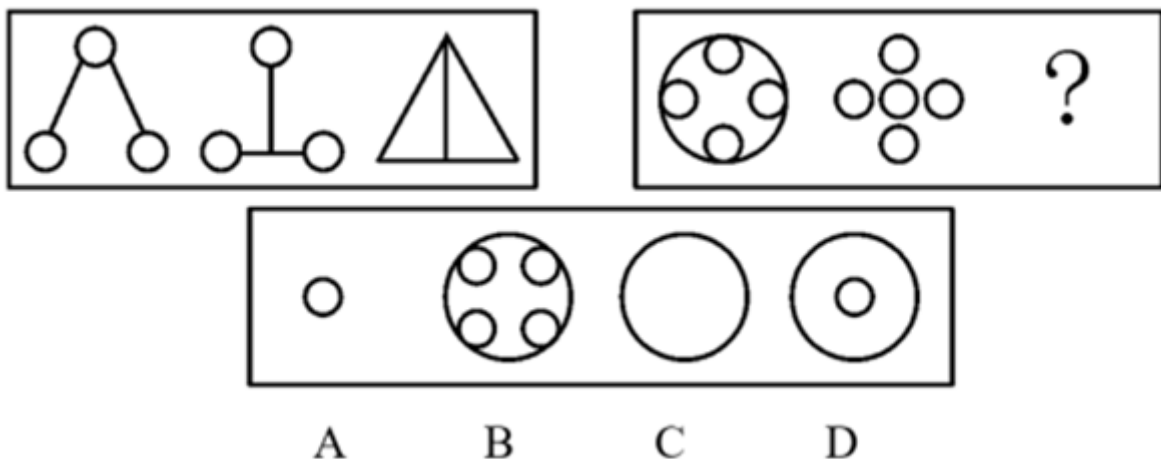
- A. 1 B. 2 C. 3 D. 4

33. 在某企业，40%的员工有至少3年的工龄，16个员工有至少8年的工龄。如果90%的员工的工龄不足8年，则工龄至少3年但不足8年的员工有多少人：
A. 48 B. 64 C. 80 D. 144
34. 建造一个容积为8立方米，深为2米的长方体无盖水池。如果池底和池壁的造价分别为120元/平米和80元/平米，那么水池的最低总造价是多少元：
A. 1560 B. 1660 C. 1760 D. 1860
35. 一项工程，甲单独做，6天可完成；甲乙合做，2天可完成；则乙单独做，多少天可完成：
A. 1.5 B. 3 C. 4 D. 5
36. 某商品因滞销而降价20%，后因销路不好又降价20%，两次降价后的销售价比降价前的销售价低：
A. 20% B. 36% C. 40% D. 44%
37. 某班共有49名学生，其中只有8个独生子女，又知其中28个有兄弟，25个有姐妹，则这个班级中有多少个人既有兄弟又有姐妹：
A. 2 B. 8 C. 12 D. 20
38. 汽车往返甲、乙两地之间，上行速度为30公里/时，下行速度为60公里/时，汽车往返的平均速度为多少公里/时：
A. 40 B. 45 C. 50 D. 55
39. 一条鱼头长9英寸，尾长为头长加半个身长，身长为头长加尾长，鱼全长共多少英寸：
A. 54 B. 63 C. 72 D. 81
40. 五个数写成一排，前三个数平均值是15，后两个数平均值是10，则这五个数的平均值是：
A. 11 B. 12.5 C. 13 D. 14

第三部分 判断推理

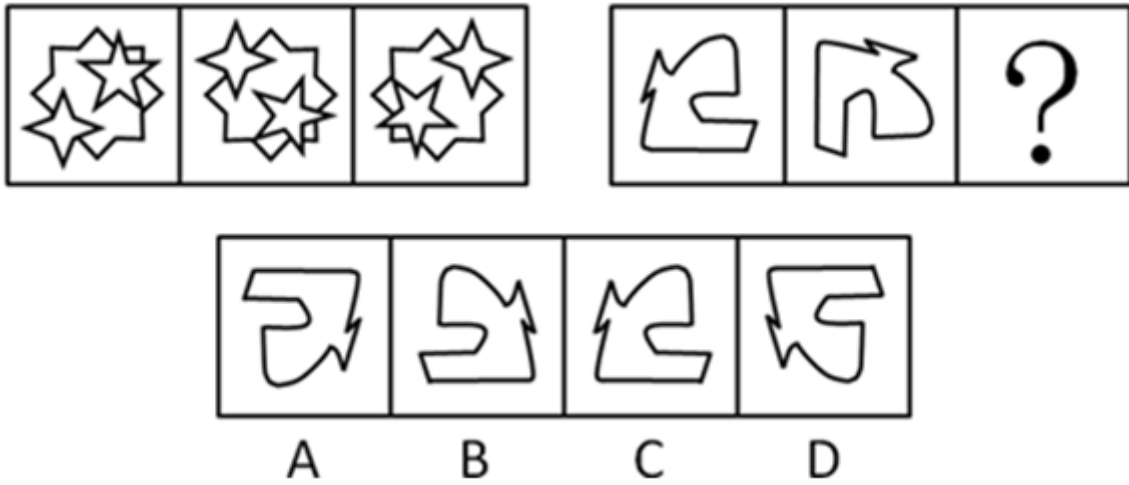
本部分包括图形推理、定义判断、类比推理与逻辑判断四种类型的试题，请按每道题的答题要求作答。

41. 请从所给的四个选项中，选择最合适的一个填入问号处，使之呈现一定的规律性：【2008黑龙江（A卷）069/湖南041】



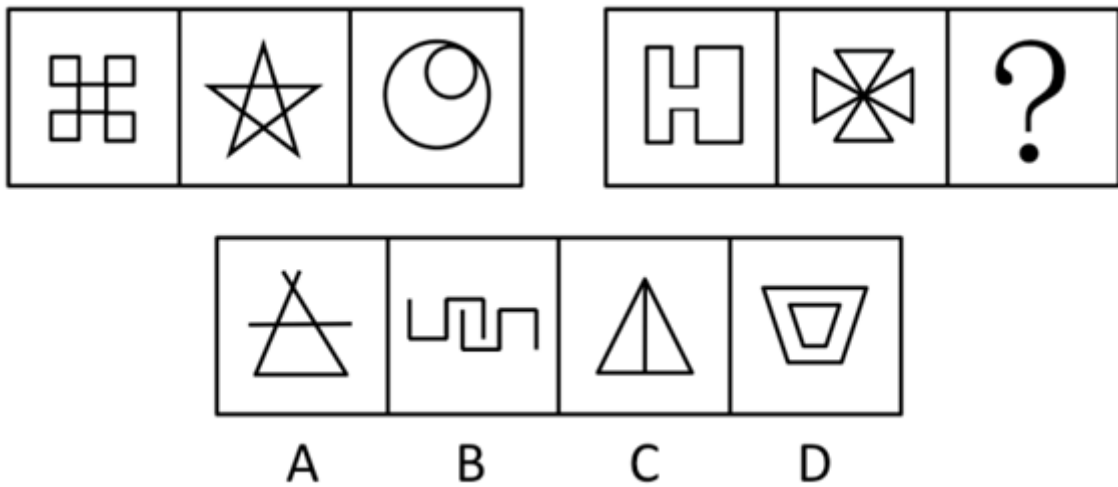
- A. 如图所示 B. 如图所示 C. 如图所示 D. 如图所示

42. 请从所给的四个选项中，选择最合适的一个填入问号处，使之呈现一定的规律性：【2008湖南042】



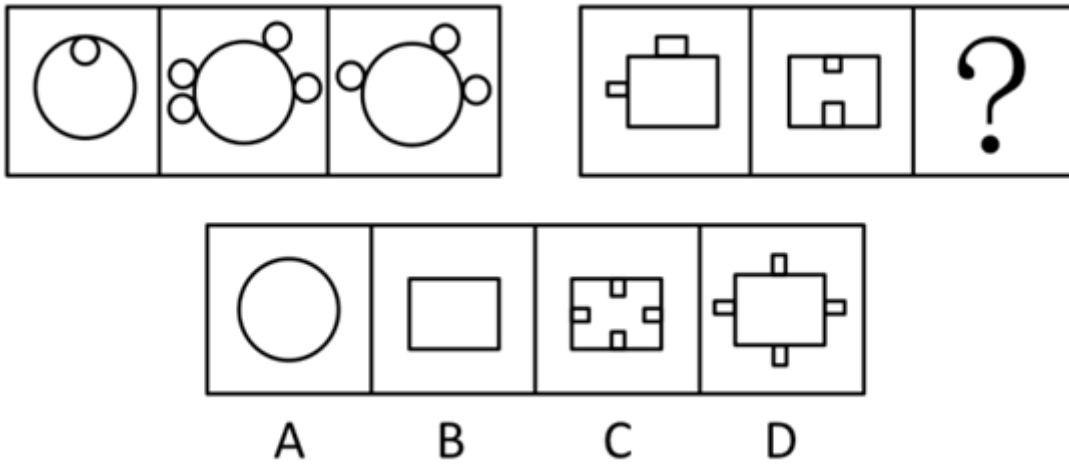
- A. 如图所示 B. 如图所示 C. 如图所示 D. 如图所示

43. 请从所给的四个选项中，选择最合适的一个填入问号处，使之呈现一定的规律性：【2008黑龙江（A卷）066/湖南043】

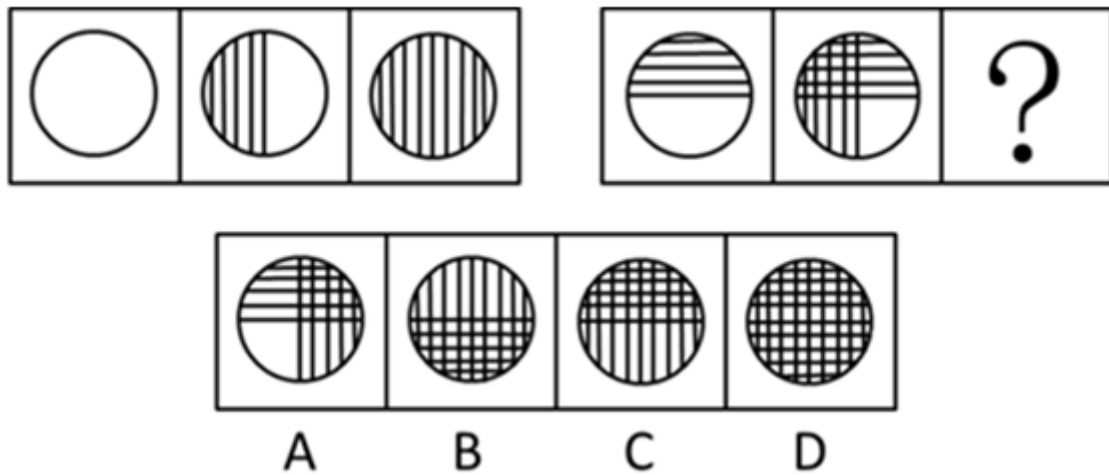


- A. 如图所示 B. 如图所示 C. 如图所示 D. 如图所示

44. 请从所给的四个选项中，选择最合适的一个填入问号处，使之呈现一定的规律性：【2008黑龙江（A卷）067/湖南044】



- A. 如图所示 B. 如图所示 C. 如图所示 D. 如图所示
45. 请从所给的四个选项中，选择最合适的一个填入问号处，使之呈现一定的规律性：【2008湖南045】



- A. 如图所示 B. 如图所示 C. 如图所示 D. 如图所示
46. 商品差价：指同一商品由于流通环节、质量、购销地区与季节不同而形成的价格差额。
根据上述定义，下列不属于商品差价的选项是：
- A. 同一款手机，在长沙买比在岳阳买贵
 - B. 市场上早上的白菜一块钱一斤，到了下午八毛钱就能买到
 - C. 海尔电视机和TCL电视机的价格不同
 - D. 东北产大米在东北卖比在湖南卖便宜
47. 行政许可是指行政机关根据公民、法人或其他组织的申请，经依法审查，准予其从事特定活动的行为。
下列属于行政许可的是：
- A. 上级税务机关基于行政隶属关系对下级税务机关有关业务请示、报告事项的审批
 - B. 张三为提高专业技能，特向单位申请参加研究生学习，单位领导同意了其申请，并同意在其毕业后为他报销部分学习费用
 - C. 某人为从事运输，去学习驾驶技术。其考核合格并申请后，公安车辆管理部门为其核发了机动车驾驶证
 - D. 李某经过四年学习，所有功课合格，经申请，学校为其颁发毕业证书
48. 第三者责任险负责赔偿保险车辆因意外事故，致使第三者遭受人身伤亡或财产的直接损失。所谓第三者是指被保险人及其财产和保险车辆上所有人员与财产以外的他人、他物。所谓“所有人员”指车上的驾驶员

和所有乘坐人员，但这些人下车后除驾驶员外，均可视为第三者。

根据以上定义，下列属于第三者责任险赔偿范围的是：

- A. 甲驾驶自己的私人车辆出行，途中车辆发生故障。甲下车修理，车辆突然向后滑行，甲被车辆轧断脚掌，本次事故中甲的医疗费用共计5000元
- B. 甲驾驶卡车向某市运送货物，由于雪天路滑，在避让行人时，发生了翻车事故。经核查，本次事故中车辆损毁及货物损毁费用共计1.9万元
- C. 甲为某长途汽车司机。在车辆行驶过程中，车厢内突然起火。乘客乙被烧伤，财物被烧光。乙要求甲赔偿医疗费用及财物损毁费用共计1万元
- D. 甲驾驶大巴车送一批游客去参观名胜古迹。到达旅游地点，甲倒车时将在车后绕行的乘客乙撞伤，后乙向甲索赔2万元

49. 倾销是指企业在国外出售商品的价格低于国内市场的价格或低于生产成本。

根据这一定义，下列行为不属于倾销的是：

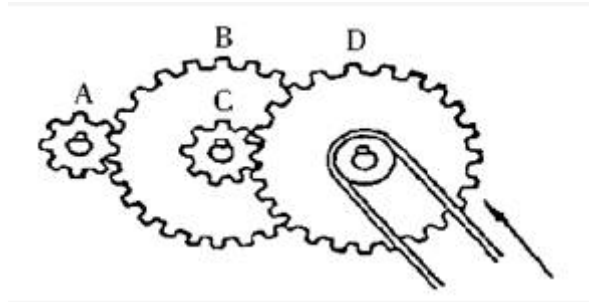
- A. 某国以低于产品正常价值的价格向他国销售新闻纸
 - B. 某企业在国内有较高的垄断地位和较大的市场份额，但质量不如国外同类产品，为了抢占国际市场，该企业以低于成本的价格在他国销售
 - C. 某地为著名的蔬菜生产基地，由于采用先进的科学技术和规模化经营，其生产的蔬菜的价格远远低于国外同类产品的价格
 - D. 某国软件公司为了获得他国政府采购的订单，与他国同类软件竞争，以低于该产品在本国的销售价格投标
50. 泛化是指某种特定刺激的条件反应形成后，另外一些类似的刺激，也会诱发同样的条件反应。新刺激越近似于原刺激，条件反应被诱发的可能性就越大。

根据以上定义，以下可以称为泛化现象的是：

- A. 杯弓蛇影
 - B. 草木皆兵
 - C. 四面楚歌
 - D. 一朝被蛇咬，十年怕井绳
51. 播种：收获
- A. 撒网：捕鱼
 - B. 贫穷：饥饿
 - C. 春天：秋天
 - D. 生病：住院
52. 房子：窗户
- A. 鞋：袜子
 - B. 厨房：厕所
 - C. 动物：东北虎
 - D. 汽车：轮胎
53. 枕头：卧具
- A. 铅笔：工具
 - B. 地球：宇宙
 - C. 宣纸：文具
 - D. 车厢：火车
54. 白天：黑夜
- A. 男人：女人
 - B. 喜欢：憎恨
 - C. 老人：小孩
 - D. 黑色：白色
55. 校长：老师
- A. 警察：小偷
 - B. 经理：职员
 - C. 老师：学生
 - D. 医生：护士
56. 我们知道当我们接迎面飞来的篮球，手接触到球以后，两臂随球后引至胸前把球接住。这样做的目的是：
- A. 减小篮球的动量
 - B. 减小篮球的动量变化
 - C. 增大篮球的动量变化
 - D. 减小篮球的动量变化率
57. 在宇宙飞船内的实验室里，可以正常使用的仪器是：
- A. 比重计
 - B. 水银气压计
 - C. 天平
 - D. 水银温度计
58. 两个重量相同的实心铅球和棉球，将它们用细线分别挂在两个同样的弹簧秤下并浸入水中，比较这两个弹簧秤的读数是：

- A. 挂铅球的大 B. 挂棉球的大 C. 两者一样 D. 无法确定

59. 以下各齿轮中，旋转得最慢的是：



- A. 如图所示 B. 如图所示 C. 如图所示 D. 如图所示

60. 如图所示，人沿水平方向拉牛，但没有拉动。下列说法正确的是：



- A. 绳拉牛的力与牛拉绳的力是一对平衡力
B. 绳拉牛的力与地面对牛的摩擦力是一对平衡力
C. 绳拉牛的力小于牛拉绳的力
D. 绳拉牛的力小于地面对牛的摩擦力

61. 关于小王、小李和小张，我们知道他们三人中一位是律师，一位是医生，一位是教师，并且我们还知道：小张比教师的年龄大；小王和医生不同岁；医生比小李年龄小。由此可知：

- A. 小王是律师，小李是医生，小张是教师
B. 小王是医生，小李是教师，小张是律师
C. 小王是教师，小李是律师，小张是医生
D. 小王是教师，小李是医生，小张是律师

62. “并非只有上大学才能成才。”与这一判断等值的是：

- A. 不上大学就不能成才 B. 不上大学但也能成才
C. 如果上大学，就能成才 D. 并非如果不成才就是没上大学

63. 四户人家排成一行，已知a家在b家的隔壁，a家与d家不相邻，如果d家与c家也不相邻，那么c家的隔壁应是：

- A. a家 B. b家 C. d家 D. 无法判断

64. 如果甲和乙考试都没有及格的话，那么丙就一定及格了。

上述前提再增加以下（）项，就可以推出“甲考试及格了”的结论：

- A. 丙及格了 B. 乙和丙都没有及格
C. 丙没有及格 D. 乙和丙都及格了

65. 有人总结比尔·盖茨和戴尔的传奇经历后，发现他们成功的秘诀都是大学中途辍学。则此人认为辍学与成功之间的关系为：

- A. 辍学导致成功 B. 辍学可能成功

- C. 不辍学不能成功 D. 不辍学可能成功
66. “凡外出采访的记者都是可以优先买票的”，下列推理正确的是：
 A. 不是外出采访的记者不可以优先买票
 B. 优先买票的都是外出采访的记者
 C. 他优先买票，所以他是外出采访的记者
 D. 他是外出采访的记者，所以可优先买票
67. 经过破译敌人的密码，已经知道“香蕉苹果大鸭梨”的意思是“星期三秘密进攻”，“苹果甘蔗水蜜桃”的意思是“执行秘密计划”，“广柑香蕉西红柿”的意思是“星期三的胜利属于我们”，那么“大鸭梨”的意思是：
 A. 秘密 B. 星期三 C. 进攻 D. 执行
68. 某地区有两个出租车公司甲和乙，他们推出的出租车的颜色分别是蓝色和红色。经调查发现：在市场上流通的出租车中有70%是红色的，只有30%是蓝色的；红色出租车发生车祸的平均概率是4%，而蓝色则为6%。现在，该区发生了一起出租车车祸。则：
 A. 与红色出租车相比，出车祸的更有可能是蓝色出租车
 B. 与蓝色出租车相比，出车祸的更有可能是红色出租车
 C. 两种颜色的出租车出车祸的概率是一样的，均为50%
 D. 无法比较
69. 四个人在议论一位作家的年龄。
 甲说：“她不会超过35岁。”
 乙说：“她不超过40岁。”
 丙说：“她的岁数在50以下。”
 丁说：“她绝对在40岁以上。”
 实际上只有一个人说对了。
 那么下列说法正确的是：
 A. 甲说的对 B. 她的年龄在45~50岁之间
 C. 她的年龄在50岁以下 D. 丁说的对
70. 有四个外表看起来没有分别的小球，它们的重量可能各有不同。取一个天平，将甲、乙作为一组，丙、丁为另一组分别放在天平的两边，天平是基本平衡的。将乙和丁对调一下，甲、丁一边明显地要比乙、丙一边重很多。可奇怪的是，我们在天平一边放上甲、丙，而另一边刚放上乙，还没有来得及放上丁时，天平就压向了乙一边。
 则这四个球由重到轻的顺序是：
 A. 乙、丁、甲、丙 B. 丁、乙、丙、甲
 C. 乙、甲、丁、丙 D. 丁、乙、甲、丙

第四部分 常识判断

根据题目要求，在四个选项中选出一个最恰当的答案。

71. 行政行为在空间上的表现形式和在时间上的跨度，包括行政行为方式、步骤、次序、时限等不可分割的内

容的是：

- A. 行政程序 B. 行政诉讼 C. 行政复议 D. 行政处罚
72. 《中华人民共和国价格法》一方面规定国家实行主要由市场形成价格的机制，另一方面又规定国家要调控价格总水平。国家要调控价格总水平的根本原因是：
- A. 市场对资源配置起基础作用
B. 商品的价格总水平不一定完全由社会必要劳动时间决定
C. 完全由市场形成的价格超越了人们的承受能力，所以要国家调控
D. 市场具有自发性、投机性、滞后性的弱点和消极作用
73. 在我国的市场经济条件下，要达到优化资源配置和合理配置的目标，必须做到：
- A. 以市场为基础，同时加强国家对经济的宏观调控
B. 完善市场体系，通过市场平等竞争
C. 通过价格传递信息及时协调生产和需求
D. 坚持重要商品价格由国家制定
74. 某工商局任意改变了其所颁发的营业执照中所确定的营业范围。从行政法理论上说，该工商局违反了行政行为效力中的_____。
- A. 确定力 B. 拘束力 C. 执行力 D. 公定力
75. 加强社会管理，维护社会稳定，必须创新社会管理体制，健全_____的社会管理格局。
- A. 党委领导 B. 政府负责 C. 社会协同 D. 公众参与
76. 违法主体对违法行为承担的具有强制性的法律后果称为：
- A. 法律后果 B. 法律责任 C. 法律制裁 D. 法律处分
77. 宪法与法律的最主要区别有：
- A. 以国家强制力为基础 B. 在制定和修改程序上更严格、更复杂
C. 具有最高法律效力 D. 由国家最高立法机关制定
78. 行政诉讼中，负举证责任的是：
- A. 行政机关 B. 公民、法人和其他组织
C. 律师 D. 证人
79. 某区政府在整顿市容时对某个农贸自由市场作出了关闭的决定，该行政行为属于：
- A. 行政确认行为 B. 行政征收行为 C. 具体行政行为 D. 抽象行政行为
80. 法律与道德的共同性体现在_____。
- A. 它们都是社会规范 B. 它们都体现一定的社会价值
C. 它们都是社会调控的手段 D. 它们都体现统治阶级的意志
81. 法律对违法行为已经作出行政处罚规定，行政法规需要作出具体规定的，必须在法律规定的给予行政处罚的（ ）和幅度的范围内规定。
- A. 行为 B. 种类 C. 方法 D. 情节
82. “究天人之际，通古今之变，成一家之言”是谁的名言：
- A. 班固 B. 司马迁 C. 刘醒龙 D. 司马光
83. 我国的天然气主要分布于_____。
- A. 塔里木盆地 B. 云贵高原 C. 渤海湾 D. 四川盆地
84. “十五”期间，我国经济发展的各项指标大多超额完成，但环境保护的指标没有完成，主要是二氧化硫排放量与化学需氧量两个指标没完成。环境污染严重。导致这一现象的主要原因是：

- A. 环境污染物过多
B. 对环境保护重视不够
C. 产业结构不合理，经济增长方式粗放
D. 环境保护执法不严，监管不力
85. 城市民用天然气的主要成分是：
A. 甲烷
B. 一氧化碳
C. 硫化氢
D. 乙烷
86. 中国坚定不移地走和平发展道路是基于_____。
A. 中国国情的必然选择
B. 中国历史文化传统的必然选择
C. 当今世界发展潮流的必然选择
D. 国际经济全球化的必然选择
87. 以下各古代思想家中，提出“非攻”“兼爱”等主张的是：
A. 孔子
B. 孟子
C. 墨子
D. 韩非子
88. 古语道：“人要实，火要虚。”此话的意思是说做人要脚踏实地，才能事业有成；可燃物要架空一些，才能燃烧更旺。“火要虚”的目的是：
A. 增大可燃物的热值
B. 降低可燃物的着火点
C. 增大空气中氧气的含量
D. 增大可燃物与空气的接触面积
89. 下列关于生活中的化学常识，说法正确的是：
A. 现在，方便的小包装食品已被广泛接受，为了防止中秋月饼等高脂食品氧化变质，延长食品的保质期，在包装袋中常常放入生石灰
B. 现在用的清洁燃料主要有两类：一类是压缩天然气，另一类是液化石油气，它们属于碳氢化合物
C. 福尔马林是一种良好的杀毒剂，可用于消毒自来水
D. 保护加酶洗衣粉的洗涤效果，应先在60摄氏度以上的热水中溶解洗衣粉
90. 控制就是事情按计划进行，为此就需要在组织中建立信息反馈机制，随时监控是否存在偏差。在发现偏差后，有人提倡“消灭偏差”，以下正确的是：
A. 这种提法是正确的，只有消灭了偏差才能确保计划的顺利实现
B. 这种提法是错误的，如果要完全消灭偏差成本太高了
C. 这种提法是错误的，应该允许偏差的存在，只有超出控制标准的偏差才进行纠偏
D. 以上提法都不正确
91. 温家宝总理在十届全国人大五次会议记者招待会上回答台湾记者提问时表示，台海两岸和平发展是大势所趋，是任何人无法改变的，并引用了“沉舟侧畔千帆过，病树前头万木春”这句诗来表达其要义。“沉舟侧畔千帆过，病树前头万木春”是富于想象而涵义深刻的名句，下列诗句中与此名句蕴含的哲理相同的是：
A. 登高壮观天地间，大江茫茫去不还
B. 飞流直下三千尺，疑是银河落九天
C. 千江有水千江月，万里无云万里天
D. 芳林新叶催陈叶，流水前波让后波
92. 社会主义国家改革，其性质应该是：
A. 社会主义基本制度的变革
B. 社会主义经济运行方式的改变
C. 社会主义原有体制的修补
D. 社会主义制度的自我完善和发展
93. 马克思主义是指引我们时代前进的旗帜，这是因为马克思主义_____。
A. 正确概括了时代的实践经验和认识成果
B. 在实践基础上达到了科学性和革命性的统一
C. 包含了一切现实问题的正确答案
D. 提供了研究问题的科学世界观和方法论
94. 科学发展观的内涵是：
A. 第一要务是发展
B. 核心是以人为本

- C. 基本要求是全面协调可持续
D. 根本方法是统筹兼顾
95. 贯穿于邓小平理论形成和发展的全过程，体现在邓小平理论所作出的每一项重大决策中的思想是：
A. 解放思想、实事求是
B. 以经济建设为中心
C. 什么是社会主义，怎样建设社会主义
D. 坚持共产党的领导，坚持改革开放
96. 胡锦涛同志指出，我们要把共同建设、共同享有贯穿于和谐社会建设的全过程，真正做到在共建中共享，在共享中共建。共建共享理论本身所蕴含的道理是：
A. 人民群众是社会实践的主体
B. 人民群众是社会变革的决定力量
C. 人民群众可以创造真理
D. 人民群众是社会财富的创造者
97. 近年来，我国政府把治理商业贿赂摆到反腐败工作特别突出的位置。根据国家法律法规的规定，经营者不得采用财物或者其他手段进行贿赂以销售或者购买商品。商业贿赂违背市场经济：
A. 开放原则
B. 自愿原则
C. 平等原则
D. 互利原则
98. 在科学发展的基础上，使我国社会更加和谐，让人民生活更加美好，这是我们党立党为公、执政为民的根本落脚点，也是“十一五”规划纲要的根本落脚点。我国政府在全面建设小康社会中坚持“和谐惠民”的主张，这说明：
A. 我国的政权是人民当家作主的政权
B. 我国人民民主具有广泛性
C. 我国民主具有全民性和真实性
D. 我国国家机构是人民意志的执行
99. 有的地方动用执法部门设关卡，不让外地某些产品流入本地；有的公开限制外地产品流入本地市场，强令推销当地产品；有的组织质量监管部门专拣外地产品“曝光”，以达到“扫地出门”的目的。这些做法：
A. 是实行地方保护主义，不利于开放
B. 有利于本地区经济的发展
C. 违背了市场经济竞争的基本原则
D. 抹杀了社会主义市场经济开放性的特点
100. 胡锦涛同志在党的十七大报告中指出，改革开放以来我们取得一切成绩和进步的根本原因，归结起来就是：
A. 坚持了邓小平理论的指导
B. 坚持了“三个代表”重要思想的指导
C. 坚持了科学发展观的指导
D. 开辟了中国特色社会主义道路，形成了中国特色社会主义理论体系

第五部分 资料分析

针对下列图、表或文字回答问题。你应根据资料提供的信息进行分析、比较、计算、处理。你可以在题本上运算。

进入新世纪以后，云南省126个农业县市中仍有73个国家扶持工作重点县，占全国重点扶贫县市总数592个的12.33%。根据“五普”资料显示，73个贫困县总人口为2208.69万人，占全省总人口4236.01万人的52.14%，其中男性1162.73万人，女性1045.96万人，男女性别比为111.16，高于全省110.06水平。这些贫困地区非农业人口比重仅为8.08%，大大低于全省14.71%的平均水平。这73个国家重点扶持县，人口和土地面积均占全省一半

以上，但是经济指标在全省只占很小份额，国内生产总值（GDP）占全省总量的26.1%，地方财政收入仅占全省总数的15.8%，从人均指标看，与全省总体水平相比，差距也是很明显的。2000年，73个国扶县农民人均纯收入仅为全省农民人均纯收入1479元的71.2%，人均GDP2235元，仅为全省人均GDP的48.2%。贫困地区人口受教育程度很低。73个贫困县总人口占全省人口一半强，而大学本科人数仅占全省的10.80%，而小学文化人口占到了全省总数的55.15%。贫困地区人口一般文盲率为19.02%，比全省一般文盲率15.44%高出3.58个百分点。全省人均受教育年限为6.33年，而贫困地区平均受教育年限只有5.69年，勉强达到小学毕业水平。73个国家扶持重点县中，未工作人口共有216.28万人，其中，丧失工作能力的人口有64.33万人，占未工作人口的29.7%，正在找工作的有10.25万人，占未工作人口的4.74%。丧失工作能力和工作难找导致的贫困人口占有相当的比重。

101. 根据上述文字资料，下列说法不正确的是：

- A. 云南省贫困地区人口文盲率为19.02%
- B. 云南省全省人均受教育年限为6.33年
- C. 在云南省的73个扶贫县中有74.58万人无业
- D. 进入新世纪后，全国重点扶贫县市有592个

102. 73个国扶县的未工作人口中大约有多少万人有工作能力：

- A. 143.72
- B. 151.95
- C. 160.86
- D. 171.23

103. 根据上述文字资料，下列关于云南省73个国扶县的说法中，不正确的是：

- A. 73个贫困县的总人口占云南全省人口数量的一半以上
- B. 这些贫困县中男性居民的数量大于女性居民的数量
- C. 73个贫困县共有2208.69万人
- D. 云南省国扶县的数量仅占全国重点扶贫县总数的10%

104. 2000年云南省73个国扶县农民人均纯收入比全省农民人均纯收入大约低多少元。

- A. 426
- B. 347
- C. 286
- D. 234

105. 2000年云南省全省人均GDP大约是多少元？

- A. 4356
- B. 4636
- C. 4879
- D. 5203

自二十世纪末期，山西同全国一样，粮食供需形势发生逆转，粮价持续走低，粮食生产效益滑坡，农民生产积极性受挫。2004年初，中央下发一号文件，实施了“一减三补”等一系列惠农政策，之后连续三年出台中央一号文件，“保护和加强粮食生产，确保粮食安全”被提到空前高度。山西省委、省政府一方面认真贯彻中央精神，加大财政支农力度，另一方面在引导农民调整、优化种植结构的同时，发挥资源优势，发展特色农业，推动农业产业化经营，促进了粮食生产的稳定发展。2004年全省粮食种植面积达到2925.4千公顷，比上年增长91.74千公顷，增长3.24%，加之风调雨顺的气候条件，全省粮食生产再次突破百亿公斤，达到106.2亿公斤。之后三年粮田面积稳定回升，2007年全省粮田面积达3173.21千公顷。2005年尽管遭遇严重旱灾，全省粮食总产仍达到了97.8亿公斤的较高水平。2006年全省粮田面积达3521.45千公顷，全省粮食总产达107.33亿公斤，预计2007年粮食总产可达105亿公斤。十六大以来的五年间，全省粮食生产总量达512.22亿公斤，年均粮食生产总量达102.44亿公斤，这标志着山西粮食综合生产能力稳定迈上百亿公斤台阶。

106. 2003年全省粮食种植面积比2004年少:

- A. 3.1% B. 3.2% C. 3.3% D. 3.4%

107. 2006年山西省粮食产量和2005年相比增加了:

- A. 2.3% B. 9.7% C. 23.5% D. 37.2%

108. 下列数值中最大的是:

- A. 2004年山西省粮食种植面积比2003年增加的百分比
 B. 2003年山西省粮食种植面积比2004年减少的百分比
 C. 2006年山西省粮食产量比2005年增加的百分比
 D. 2005年山西省粮食产量比2006年减少的百分比

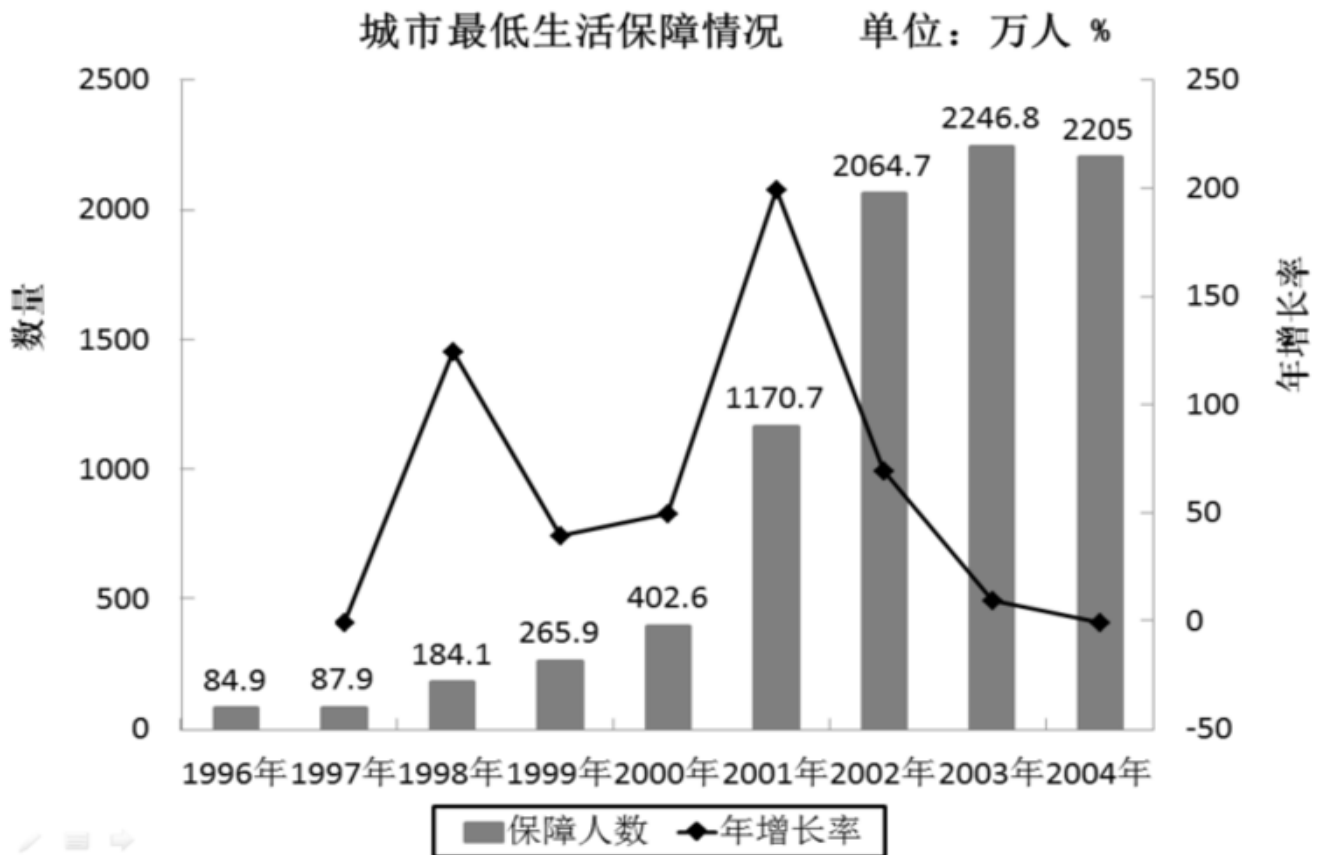
109. 预计2007年山西省平均每千公顷的粮食产量和上年相比:

- A. 大约增加了0.0025亿公斤 B. 大约减少了0.0025亿公斤
 C. 大约增加了0.0125亿公斤 D. 大约减少了0.0125亿公斤

110. 根据题面论述, 下列说法正确的是:

- A. 2004年山西省全省粮食生产首次突破百亿公斤
 B. 从2004年到2007年山西省粮食产量一直处于上升状态
 C. 十六大以来的五年间, 山西省粮食产量并非每年都超过了百亿公斤
 D. 十六大以来的五年间, 全省年均粮食生产总量未达百亿公斤

style="text-align: center;">">



111. 根据上图, 下列说法正确的是:

- A. 1996年至2004年，城市居民最低生活保障人数逐年上升
 B. 1996年至2004年，城市居民最低生活保障人数年增长率逐年提高
 C. 1996年至2004年，参与城市最低生活保障人数最高的年份是2004年
 D. 1996年至2004年，参与城市最低生活保障人数最高的年份是2003年
112. 1997年参与城市最低生活保障的人数比1996年提高了几个百分点?
 A. 84.9 B. 87.9 C. 3.5 D. 3
113. 根据上图，1996年至2004年，城市最低生活保障人数年增长率最高的年份是哪一年?
 A. 1998年 B. 2000年 C. 2001年 D. 2003年
114. 2000年参与城市最低生活保障人数的年增长率比1999年提高了几个百分点?
 A. 51.4 B. 44.4 C. 9 D. 7
115. 根据上图，下列说法不正确的是：
 A. 参与最低生活保障的人数不断上升，说明贫困人口有不断上升的趋势
 B. 1996年与2004年间，参与最低生活保障人数年均增长率约为50.2%
 C. 2001年，参与城市最低生活保障的人数突破1000万
 D. 2004年参与城市最低生活保障的年增长率比2003年下降了10.7个百分点

style="text-align:center">

广东、江苏、浙江第三产业增加值占GDP比重 单位：%

	1978	1985	1990	1995	2000	2002	2003
广东	23.6	30.4	35.8	34.7	39.3	40.6	38.4
浙江	18.6	24.5	26	32.1	36.3	39.4	39.7
江苏	19.8	17.9	29.5	30.9	36.3	37.4	36.6

广东、江苏、浙江第三产业不同时期年均增长情况比较 单位：%

	1979~1990	1991~2003	1979~2003
广东	15.9	12.5	14.1
浙江	12.5	14.7	13.7
江苏	14.3	14.2	14.5

116. 根据上表，下列表述正确的是：
 A. 1979~1990年，广东第三产业年均增速比浙江高3.4个百分点
 B. 从1990年至2003年，江苏第三产业占GDP比重升幅为36.6个百分点
 C. 到2003年时，广东第三产业占GDP比重已被江苏超过1.3个百分点
 D. 从1990年至2003年，广东第三产业占GDP比重一直居全国首位
117. 根据上表，下列表述不正确的是：
 A. 1979~2003年，广东第三产业年均增速落后于江苏
 B. 广东第三产业的增速在进入上世纪90年代后明显加快
 C. 从1978年至2003年，浙江第三产业占GDP比重增长率高于广东和江苏
 D. 改革开放以来，广东、江苏、浙江第三产业都得到迅速发展
118. 2003年，广东第三产业占GDP比重比2002年增长了几个百分点？

- A. 40.6 B. 39.3 C. 2.2 D. -2.2
119. 1991—2003年，浙江第三产业年均增速是：
A. 12.5% B. 14.7% C. 13.7% D. 14.5%
120. 从1990年至2003年，浙江第三产业占GDP比重上升了几个百分点？
A. 2.6 B. 7.1 C. 13.7 D. 39.7

扫一扫，对答案

