

2009年贵州行测真题

真题更新时间：2022年12月12日23:32:39

扫描下方二维码下载小麦公考APP 刷海量题库掌握最新热点



QQ扫码直接下载

微信扫码到应用市场下载

支持所有机型哦

第一部分 常识判断

根据题目要求，在四个选项中选出一个最恰当的答案。

- _____犯罪是属于“可以从轻、减轻或者免除处罚的”。
A. 盲人 B. 醉酒的人 C. 未成年犯罪 D. 聋子
- 中国古代四大名楼分别是“欲穷千里目，更上一层楼”的鹳雀楼，“黄鹤一去不复返，白云千载空悠悠”的黄鹤楼，“先天下之忧而忧，后天下之乐而乐”的岳阳楼，“落霞与孤鹜齐飞，秋水共长天一色”的滕王阁。上述引用诗文的作者依次是：
A. 王之涣 崔颢 范仲淹 王勃
B. 陈子昂 李颀 王勃 范仲淹
C. 王之涣 李颀 范仲淹 王勃
D. 陈子昂 崔颢 王勃 范仲淹
- 吕坤《社学要略》：“先读《三字经》，以习见闻；《百家姓》，以便日用；《千字文》，亦有义理。”说明蒙学教育既为识字，也兼为：
A. 见闻知识教育 B. 实用知识教育 C. 义理思想教育 D. 修身出世教育
- 能够有效地监督组织各项计划的落实与执行情况，发现计划与实际之间的差距，这一管理环节是：
A. 协调 B. 组织 C. 控制 D. 领导
- 能为经济建设和改革开放提供强大的精神动力和智力支持，创造良好的社会环境的是：
A. 物质文明建设 B. 精神文明建设
C. 政治文明建设 D. 国民整体素质的提高
- 李某因犯杀人（未遂）罪、抢劫罪、盗窃罪而分别被判处10年、8年、5年有期徒刑，对其最后量刑应为_____年。
A. 10年 B. 23年 C. 10~23年 D. 10~20年
- “三个和尚”的故事中，“一个和尚挑水喝，两个和尚抬水喝，三个和尚没水喝。”主要揭示_____的重要性。
A. 计划 B. 人事 C. 协调 D. 激励
- 张某因故意杀人罪被判处死刑，执行完毕后，其父急恨交加导致旧病复发而亡。张某有妻、子、女、兄、弟。张父的遗产应由_____继承。
A. 张某、妻、子、女、兄、弟 B. 妻、子、女、兄、弟
C. 子、女、兄、弟 D. 妻、兄、弟
- 能引起听觉的声波振动频率是：
A. 0~20Hz B. 20~20000Hz C. 20000~40000Hz D. 40000~∞Hz
- 凡是有我国国籍的自然人就是我国的公民，这属于：
A. 政治概念 B. 法律概念
C. 政治概念也是法律概念 D. 不是政治概念也不是法律概念
- 多媒体信息在计算机中的存储形式是：
A. 二进制数字信息 B. 十进制数字信息
C. 文本信息 D. 模拟信号
- “三讲”不包括：

- A. 讲学习 B. 讲民主 C. 讲政治 D. 讲正气
13. 我国现行宪法规定，中央军事委员会主席向_____负责。
- A. 中央军事委员会集体
B. 中共中央政治局
C. 中共中央委员会
D. 全国人民代表大会和全国人大常务委员会
14. 甲乙为夫妻，甲在外有外遇，为摆脱妻子，他产生杀妻之心。一天吃饭时，甲将老鼠药放入乙的饭中，乙吃过有毒的饭后，甲又心生后悔将乙送入医院，但是还是没有将乙救活。请问甲的行为是属于：
- A. 犯罪中止 B. 犯罪既遂 C. 犯罪预备 D. 犯罪未遂
15. 在中国四大古典文学名著中，唯一出自清代的小说是：
- A. 《红楼梦》 B. 《三国演义》
C. 《水浒传》 D. 《西游记》
16. 中华人民共和国_____在法律面前一律平等。
- A. 人民 B. 公民 C. 广大人民群众 D. 各族人民
17. 张某，17岁，农民，15岁时父母双亡，因与哥嫂不和，即分家另过，独自居住在父母给自己的两间平房里，靠种承包田和外出打工度日。张某：
- A. 是完全民事行为能力人 B. 是限制民事行为能力人
C. 是无民事行为能力人 D. 视为完全民事行为能力人
18. 香港特别行政区不享有_____权利。
- A. 行政管理权 B. 防务权
C. 立法权 D. 独立的司法、终审权
19. 以_____为中心的唯物论思想，体现了毛泽东的辩证唯物主义世界观和方法论立场。
- A. 真理的本质是主观和客观相符合 B. 真理的客观性
C. 实事求是 D. 物质世界的可知
20. 下列各大洲中，土地资源开发潜力最大的是：
- A. 亚洲 B. 非洲 C. 欧洲 D. 南美洲
21. 在沪宁杭地区区域开发的重点中，正开发的大旅游圈的中心是杭州、苏州与：
- A. 黄山 B. 雪峰山 C. 衡山 D. 庐山
22. 下列有关文学常识的表述不正确的一项是：
- A. 李健吾，我国著名的作家、戏剧家、翻译家，他的小说《雨中登泰山》选入了课本
B. “说”是古文的一种文体，一般为陈述自己对某种事物的见解，属议论文范畴
C. 莫泊桑的《项链》成功地塑造了一个向往奢华、舒适生活的小资产阶级妇女形象
D. 关汉卿是元代伟大的戏剧家，元杂剧的奠基人，1956年被列入世界文化名人
23. 牛顿在科学上的贡献是多方面的，最重要的是：
- A. 物理学方面 B. 数学方面
C. 万有引力学方面 D. 力学方面
24. 中国的抗日战争与同时期各国的反法西斯战争比较，其明显的不同是：
- A. 以弱胜强 B. 建立抗日根据地
C. 共产党和其他政党合作共同对敌 D. 出现正面和敌后两个战场
25. 在现实生活中，按劳分配统筹表现为按劳动者的_____进行分配。

- A. 劳动时间 B. 劳动贡献 C. 劳动数量 D. 劳动质量

第二部分 言语理解与表达

本部分包括表达与理解两方面的内容。请根据题目要求，在四个选项中选出一个最恰当的答案。

26. 中华民族的五千年文明史也是五千年抗击灾难的历史。在战胜灾难的过程中，这个民族越来越强大。这次雪灾和历史上的一次次灾难一样，在带给我们教训的同时，我们这个民族一定会通过抗灾收获些什么。尤其是在这个广土众民的国家由传统农业社会急剧向工商业社会转型的重要时期，_____。
填入横线上最恰当的是：
A. 灾难将成为比农业社会更可靠的信赖关系的催化剂
B. 灾难将为政府组织民众应对各种危机提供有益的经验
C. 灾难将促使民众更加成熟
D. 灾难将促使政府和民众更加成熟
27. 布什、奥布默特和阿巴斯以为，在创造一个巴勒斯坦的同时，哈马斯可以被密封在不为人重视的加沙。实际上哈马斯不断重申它有能力打断和平进程，通过向以色列发射火箭引发军事冲突吸引世界注意。美国舆论认为，只要哈马斯还能够使用领土进攻以色列，和平进程就会停滞。
对这段话的正确理解是：
A. 以色列和哈马斯的冲突，是巴以和谈停滞的原因
B. 以色列和哈马斯的冲突，证明布什中东战略的致命缺陷
C. 哈马斯被密封在加沙是不现实的
D. 哈马斯是决定中东和平进程的关键人物
28. 20世纪，道·琼斯指数从66点涨至11497点，看似巨大，其实每年只增长了5.3%，按这个速度，到2099年，道·琼斯指数将是两百万。如果有人许诺每年给你百分之十的增长，那么，道·琼斯指数则必须在2099年12月31日达到2400万点。这个简单的算术题就能让人看到_____。
填入横线上最恰当的是：
A. 不要相信中国股市的股评家的炒作
B. 每天在股市里有多少谎言
C. 任何判断股市走向的做法都是不明智的
D. 股市的短线搏杀、跟风炒作都是不明智的
29. 我可以不同意你的观点，但誓死捍卫你说话的权利。
对这句话的正确理解是：
A. 言者无罪，闻者足戒
B. 知无不言，言无不尽
C. 法律意义上的表达权、常识意义上的豁免权，应该受到尊重
D. 法律意义上的豁免权、常识意义上的表达权，应该受到尊重
30. 更开放的网络，更理性的网民，具有更真切地影响世界的力量——盘点这样的内容，无疑比“网民人数世界第一”更值得欣喜。
对这段话的正确理解是：

- A. 网络媒体正在发生转变
B. 网络需要更理性的网民
C. 更理性的网民是中国网民
D. 中国网络开始展示其实际质量
31. 性行为安全是指不会惹病，不会意外怀孕。婚外性生活、多元化性行为或嫖娼、卖淫都是不安全的性行为，婚外性生活不仅有悖于道德观念，也是艾滋病、性病的主要传播途径。因此，_____。
填在横线上最恰当的是：
A. 洁身自爱，选择安全性行为，是预防感染艾滋病的关键所在
B. 选择安全性行为，是预防感染艾滋病毒的关键
C. 有悖于道德观念的性行为是艾滋病的传播途径
D. 安全性行为是无悖于道德的
32. 不是每一个人都能成为科学家、文学家等等大名鼎鼎的人，不是每一个人都能成为太阳、星星、月亮，那么，不能发巨大光亮的人，可不可以心里想着“只做一支蜡烛也好”，照亮身边的一圈人，照亮身边这个社会的角落。
这段话支持了这样一种观点，即：
A. 蜡烛竭尽全力奉献社会，值得赞扬
B. 蜡烛毫不利己，专门利人，值得赞扬
C. 只要对他人有利，对社会有利，再小的奉献也是伟大的
D. 一个人活在世界上，心里装着他人、装着社会，就是伟大的
33. 工匠手中为民造福的劳动工具，在愚昧无知、失去理性的人手中也会变成凶器；科学家可以造福人类，也可以毁灭世界；电脑专家可以帮助企业发展，也可以造成工商界的混乱。
这段话支持了这样的观点，即：
A. 科学技术是把双刃剑
B. 科学技术需要道德的把握
C. 科学技术不能离开道德的指引
D. 道德品质是第一位
34. 一般的人，如果经常把“我”挂在口头，这种人多是主观自负、自我表现欲强、属于唯我独尊的类型。和这样的人交往，应尽量避免与之发生冲突。有的人谈话爱借用名言，提到名人，甚至炫耀自己的父母和家庭，这种人多半是权威的崇拜者，有依赖心理，往往缺乏主见，服从于强者，属于自率性格类型。但往往会媚上压下，与这类人相处，也须小心。喜欢用强烈感情色彩的语言的人，大都比较虚伪，因为任何情感过分的话，都不会真实，过度的恭维反而表现出嫉妒、戒备、讽刺或者敌意；态度的强硬到了蛮不讲理的地步，却透露出内心的空虚，是色厉内荏的表现。
对这段文字的主题概括最准确的是：
A. 和不同的人打交道应该有不同的策略
B. 以语言看性格是个简洁有效的途径
C. 有依赖心理的人，往往缺乏主见而服从于强者
D. 过度的恭维反而表现出嫉妒、戒备、讽刺或者敌意
35. 很难有一件商品是完美无瑕、无可挑剔的。有一位顾客到商店购买冰箱，起先从外表上找毛病，给他找到有一处划痕，要求店员为他打折，然后，他又问店员：“这种冰箱有几种颜色？”店员立即拿来样品本，他指着店里没有的颜色说：“其实这种颜色和我的家具颜色协调，如果你不再为我降一些价，我就要重新考虑换一家商店去买了。”经过一番挑剔，店员将冰箱价格一降再降，这位顾客才好像极不情愿地低价买下了那台冰箱。
对这段文字的主旨概括最准确的是：
A. 凡事不宜吹毛求疵

- B. 应从外表、颜色等方面要求店员打折
C. 吹毛求疵是购物讲价时百试百灵的好方法
D. 顾客在买物品时应表现出不情愿的表现
36. 平时我们请人帮个小忙，习惯说劳驾、借光，帮忙和借光有什么关系？其实“借光”一词的来历就说明了求助也就意味着互利。据说，古代有个勤劳的女子，因为家里太穷买不起灯油，夜晚无法纺线。村里有个大房子里有灯光，那里有许多妇女纺线，她便去请求帮助，借点光亮，为了让人家欢迎她去，她说，你们给我方便，我也要给大家做点好事，每天晚上我来打扫房间，于是，她就这样每天晚上和大家一起纺线了。这段文字旨在表达的意思是：
- A. 解释了“借光”一词的来历
B. 人们习惯说劳驾、借光是有缘由的
C. 人际交往要注意互利原则
D. 平时请人帮忙应该学会感恩
37. 中国旧时的店铺里，在店面是不陈列贵重的货物的，店主总是把它们收藏起来，只有遇到有钱又识货的人，才告诉他们好东西在里面，倘若随便将上等商品摆放在明面上，岂有贼不惦记之理。元末的朱元璋在攻占了南京之后，因为群雄对峙，为了避免因崭露头角而成为众矢之的，他采用了谋臣的建议，以“高筑墙，广积粮，缓称王”的策略赢得了各个击破的时间与力量，在众人的眼皮底下暗度陈仓，最后一并群雄当上了大明皇帝。对这段文字的主旨概括最准确的是：
- A. 做生意不能太张扬
B. 谦虚使人进步
C. 枪打出头鸟
D. 满招损，谦受益
38. 俗话说：“逢人只说三分话”。还有七分话，不必对人说出。你也许以为大丈夫光明磊落，事无不可对人言，何必只说三分话呢？彼此关系浅薄，你与之深谈，显示你没有修养；你说的话，是属于对方的，你不是他的诤友，不配与他深谈，忠言逆耳，显出你的冒昧；你说的话，是属于国家的，对方的立场如何，你没有明白，对方的主张如何，你也没有明白，你偏高谈阔论，轻言更易招祸。对这段文字的主旨概括最准确的是：
- A. 人应学会保护自己
B. 知无不言常常会招来祸害
C. 忠言逆耳
D. 切勿“交浅言深”
39. 心理学家指出：倘若人在儿童时期能得到父母的照顾和爱抚，并受到伙伴的喜爱和信任，那么他们成年后不易患身心疾病，生活与事业发展往往较为顺利。研究表明，如果只保障孩子物质生活上的需要，而缺乏人际的感情融合，那么孩子往往身心不够健康。有关专家做过这样的试验，把从小住在孤儿院的孩子分成两组。一组一直放在孤儿院，另一组分给其养父养母，一年后，后一组的孩子无论在智力上或体质上都发展得更好。对这段文字的主旨概括最准确的是：
- A. 人际友爱对身心健康起着重要作用
B. 人们应该加强对孩子的照顾
C. 孩子身心不够健康是由于童年时没有得到父母的照顾和爱抚
D. 人际友爱对身心健康起着决定作用
40. 消极的戏剧性行为常常是由一些消极的情绪化语言引起的。因此，区别描述性语言与情绪化语言的差异相当重要。感情激动时，如果谈论你自己或配偶，你是否容易夸大其词，言过其实？表达积极情感的情绪化语言有益于密切夫妻关系，但是，消极情绪化语言则容易影响夫妻感情。使用消极情绪化语言描述对方的行为尤其如此。排除消极隐患，需要变消极情绪化语言为描述性语言。描述性语言简单扼要、情绪冷静地描述人。

这段文字旨在表达的意思是：

- A. 区别描述性语言和情绪化语言的差异
 - B. 表达积极情感的情绪化语言有益于密切夫妻关系
 - C. 情绪化的语言会对人们产生消极作用
 - D. 消极情绪化语言容易影响夫妻感情
41. 解释是心理战最常见的表现形式。其攻击的语言旨在表现自己一种深刻的心理洞察力，表明自己理解对方行为的根源。例如，“你之所以这么说是因为你缺乏基本的安全感”，或者“你之所以不想结婚显然是因为你害怕性行为”，或者“很明显你潜意识中非常敌视女性”。解释的原因越丰富详实、有凭有据，就越发具有说服力。

对这段文字的主旨概括最准确的是：

- A. 解释是心理战最常见的表现形式
 - B. 解释的原因越丰富就越具有说服力
 - C. 解释是心理战中一种表现自己对对手心理和行为了解程度的行为
 - D. 只有真实的事情才具有说服力
42. 在语言表达能力和对事物的反应方面，一般说来，男人灵敏的程度较女人略逊一筹，在这方面，丈夫们经常受威胁，但他们却不愿妻子知道自己的短处，他们护短的手法是沉默寡言，除非他们对于某些事物有足够的认识，否则就不会随便开口，言必有中是他们的藏拙武器。经常听到妻子说：“我家那位虽然话不多，可很有见地，一句能顶十句。”如果她知道了她丈夫“话不多”的真正原因以及在说出“能顶十句”的一句前要经过多么痛苦的思索，她恐怕不会再用“很有见地”来评价了。

对这段文字的主旨概括最准确的是：

- A. 男人习惯用沉默的手段掩饰自己的弱点
 - B. 男人的话不多，但是看法很有见地
 - C. 女人在语言表达和反应方面能力强于男人
 - D. 男人说一句话要经过痛苦的思索过程
43. 商品生产越发达，社会化程度越高，人们越是相互依赖。商品交换的规模越大，频率越高，法律规则的数量就越多，覆盖面就越广，由商品经济形态所需要和决定的法律规则具有权利本位性，权利和义务的对等性、对象的普遍性及确定性、连续性和稳定性等优良品格，这同自然经济形态和产品经济形态所需要、并由它们各自所决定的法律规则具有质的根本区别。

对这段文字的主旨概括最准确的是：

- A. 法治观念强于人治，有利于社会关系的稳定
 - B. 自然经济产生的法律规则具有权利和义务的对等性
 - C. 法治观念与商品经济关系密切，法治及其观念的形成是以商品经济发展为基础的
 - D. 产品经济形态产生的对象的普及性及确定性，是一种最完善的法制
44. 居里夫人说，我认定科学本身就具有伟大的美。一位从事研究工作的科学家，不仅是一个技术人员，并且他是一个小孩儿，在大自然的景色中，好像迷醉于神话故事一般。这种魅力，就是使我终生能够在实验室里埋头工作的主要原因。

作者说，从事研究工作的科学家“是一个小孩”，意在说明：

- A. 科学本身具有伟大的美
- B. 科学家对所从事的工作达到迷醉的程度
- C. 科学家一直沉醉于在实验室埋头工作

填在横线上最恰当的词语是：

- A. 亮相 B. 过程 C. 出击 D. 上任

53. 无论你心里怎么想，你的言谈举止都应该_____，在许多国家，任何形式的炫耀都会被视为粗鲁_____。

填在横线上最恰当的词语是：

- A. 谨小慎微 无理 B. 谦虚谨慎 无理
C. 谦虚谨慎 无礼 D. 谨小慎微 无礼

54. 高尚的人，从电影中_____自己的心灵，_____自己的情操，_____自己的智慧。卑微的人，从电影中_____享乐的醉酒，_____庸俗的慰藉，_____自己的品格。

填入横线上最恰当的一项是：

- A. 陶冶 升华 增强 吸收 寻找 玷污
B. 熏陶 丰富 强化 获得 找寻 侮辱
C. 陶冶 丰富 增添 吸饮 寻找 污染
D. 熏陶 丰富 增加 吮吸 找寻 玷污

55. 假如一个人，从他的少年时代开始，就时刻地守住_____，用它来学习、劳动，决不容忍无聊的玩乐来剥夺任何一个早晨，也决不允许让缥缈的幻想来骗取任何一个夜晚，每迎接一个黎明都有_____的斗志，每送走一个黄昏，都有前进一步的喜悦，那么，他的生命将成倍的延长，他将会做出许多别人看来是_____的成绩。

填入横线上最恰当的一项是：

- A. 闻鸡起舞 一朝一夕 不可思议
B. 一朝一夕 不可思议 闻鸡起舞
C. 一朝一夕 闻鸡起舞 不可思议
D. 每时每刻 闻鸡起舞 水到渠成

56. 公民个人信息往往被某些人暗中频繁交易流转，成了他们牟取暴利的工具。

替换画线部分最好的词语是：

- A. 谋取 B. 攫取 C. 骗取 D. 获取

57. 抗生素拯救了无数的生命，但今天，_____滥用严重，它_____成为致命的药品。

填入横线上最恰当的一项是：

- A. 因为 所以 B. 由于 竟
C. 因为 也 D. 由于 又

58. 据日本卫生部门的统计数据，每年冬季因为泡热水澡而猝死的老人人数，多于车祸死亡人数。因为冬天气温低，老人脱光衣服后，血管收缩，血压上升，而泡热水澡，是从冷到热的急速转变，血管_____张开，血压_____下降，老人很容易在澡堂里晕过去，发生危险。

填入横线上最恰当的一项是：

- A. 突然 忽然 B. 骤然 瞬间
C. 忽然 突然 D. 瞬间 骤然

59. 想壮志凌云，须脚踏实地。不屑于干平凡小事和不肯下苦功夫学习的青年，即使他的理想多么壮丽，也只能是一个_____的肥皂泡。

填入横线上最恰当的一项是：

- A. 不切实际 B. 五彩斑斓 C. 司空见惯 D. 虚无缥缈

60. _____的批评，像一面优质的镜子，能照出自身的真相；_____的恭维，如同歪曲物体的“哈哈镜”，

难识庐山真面目。

填入横线上最恰当的一项是：

- A. 直截了当 直言不讳 B. 直言不讳 虚情假意
C. 虚情假意 直言不讳 D. 甜言蜜语 虚情假意

61. 其实劳动和自然界一起才是一切财富的_____，自然界为劳动提供材料，劳动把材料变为财富。但是劳动还远不止如此。它是整个人类生活的第一个基本条件，而且达到这样的程度，以致我们在某种意义上不得不说：劳动创造了人本身。

填入横线上最恰当的一项是：

- A. 起源 B. 起点 C. 源泉 D. 出发点

62. 有轰动一时的荣誉，顷刻_____；有永世长存的荣誉，它与_____。真正的荣誉只有一种，就是和人类进步事业连在一起的荣誉。进步的事业_____，真正的荣誉_____。

填入横线上最恰当的一项是：

- A. 永垂不朽 日月同辉 万古长青 烟消云散
B. 烟消云散 日月同辉 万古流芳 顶天立地
C. 烟消云散 日月同辉 永垂不朽 万古长青
D. 烟消云散 天地常存 永垂不朽 顶天立地

63. 下列语句中有歧义的一句是：

- A. 一位名叫“水心雪儿”的网友在博客上发表的那篇挑战百位经济学家的文章，批评的人很多
B. 与“二奶”等配偶之外的人生育或重婚生育的，将按双方上年度总收入的6至8倍征社会抚养费
C. 不要轻易相信社会上的人所说的“乙肝转阴”，而应到正规的医疗机构接受抗病毒治疗
D. 财政部近日下发了金融企业国有资产转让管理办法

64. 下列新闻标题语意明确的一项是：

- A. 用餐时间禁播反胃广告 B. 张家界天梯上下都尴尬
C. 审计署会审中央部门问题 D. 今年上半年黑大米价格稳中有升

65. 从下列选项中选出没有语病的一项是：

- A. 人类活动必须在与自然和谐相处的观念指导下，对自然界合理地开发利用
B. 每个人不是都能意识到金融危机对全球经济的负面影响
C. 假日消费尤其是长假期消费对经济增长的拉动作用非常明显
D. 有专家认为长假是“食、住、行、游、购、娱”的全方位综合性经济活动

第三部分 判断推理

本部分包括图形推理、定义判断、类比推理与逻辑判断四种类型的试题，请按每道题的答题要求作答。

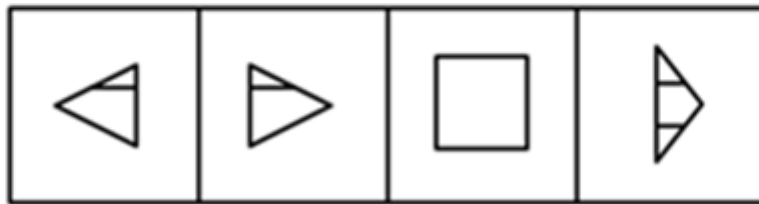
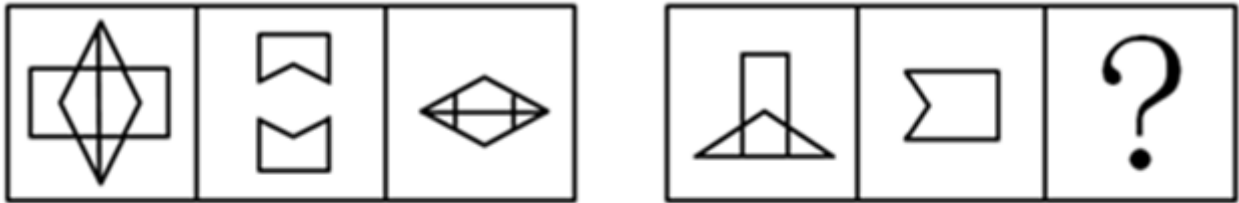
66. 从所给四个选项中，选择最合适的一个填入问号处，使之呈现一定规律性：【2009贵州066】



A B C D

A. 如图所示 B. 如图所示 C. 如图所示 D. 如图所示

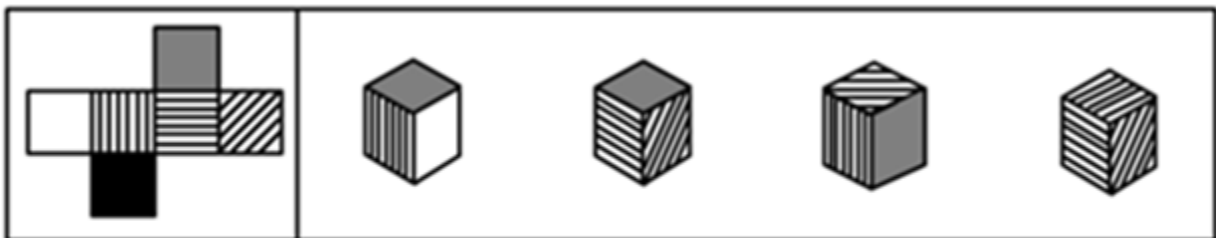
67. 从所给四个选项中，选择最合适的一个填入问号处，使之呈现一定规律性：【2009贵州067】



A B C D

A. 如图所示 B. 如图所示 C. 如图所示 D. 如图所示

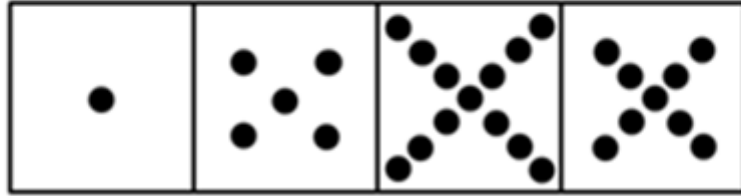

68. 右图的四个图形，只有一个是左面的纸板向外折叠而成。请选出正确的一个：【2009贵州068】



A B C D

A. 如图所示 B. 如图所示 C. 如图所示 D. 如图所示

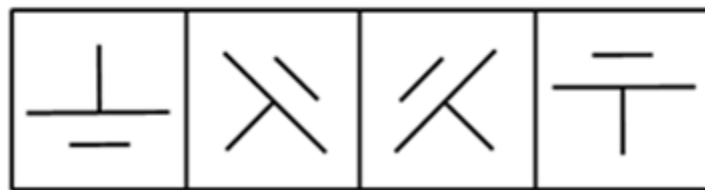

69. 从所给四个选项中，选择最合适的一个填入问号处，使之呈现一定规律性：【2009贵州069】



A B C D

A. 如图所示 B. 如图所示 C. 如图所示 D. 如图所示

70. 从所给四个选项中，选择最合适的一个填入问号处，使之呈现一定规律性：【2009贵州070】



A B C D

A. 如图所示 B. 如图所示 C. 如图所示 D. 如图所示

71. 循环经济，是指在生产、流通和消费等过程中进行的减量化、再利用、资源化活动的总称。其中“减量化”是指在生产、流通和消费等过程中减少资源消耗和废物产生。

下列选项中属于“减量化”内容的是：

- A. 某企业采用串联用水系统，提高了水的重复利用率
- B. 某建筑施工单位对工程施工过程中产生的建筑废物进行了综合利用
- C. 某县政府农业主管部门鼓励和支持农业生产者采用节水、节肥、节药的先进种植、养殖和灌溉技术，推动农业机械节能，优先发展生态农业

- D. 某县政府林业主管部门积极发展生态林业，鼓励和支持相关企业采取木材节约和代用技术，开展林业废弃物综合利用，提高木材综合利用率
72. 时点指标是反映统计研究对象在某一具体时刻的指标。
根据以上定义，下列属于时点指标值的是：
A. 经初步核算，到2007年12月31日，我国2007年国内生产总值达到246619亿元
B. 2007年12月，我国外汇储备总额同比增长43.3%
C. 2008年春运期间我国铁路发送旅客20.17亿人次，比去年同期下降1.6%
D. 2008年1月30日在广州火车站滞留旅客超过40万人
73. 事故应急救援预案（简称预案或应急预案）是指政府或企业为降低事故后果的严重程度，以对危险源的评价和事故预测结果为依据，预先制订的事故控制和抢险救灾方案。
根据上述定义，下列不属于事故应急救援预案范畴的是：
A. 某石油天然气集团公司为尽可能减小其所属的钻井公司在施工过程中可能发生的井喷事故的危害，对钻井公司的员工进行了相关应急培训
B. 某商厦为了减小发生火灾时可能造成的损失，配备了专用灭火器等器材，并规定了应急状态下的报警通讯方式、通知方式
C. 某危险化学品生产企业因管理不善，引发了大量的液氯泄露，公司临时从外面调来抢救器械，虽未造成人员中毒死亡，但造成了较大的经济损失
D. 某矿务局所属的大型煤矿为了减少可能发生的瓦斯爆炸事故的危害，编制了详实的应急预案，内容包括应急计划区、应急组织机构、人员、预案分级响应条件等
74. 公众参与是指社会群众、社会组织、单位或个人作为主体，在其权利义务范围内有目的地进行的一种社会行动。它是一种有计划的行动，通过政府部门和开发行动负责单位与公众之间双向交流，使公民们能参加决策过程并且防止和化解公民和政府机构与开发单位之间、公民与公民之间的冲突。
根据上述定义，下列不属于公众参与范畴的是：
A. 某企业准备新建一条危险化学品生产线，该生产线产生的废水可能会对下游村民的饮用水源水质造成一定的影响。为了避免建成后可能引起的环境污染纠纷，该企业的项目负责人在项目初步设计阶段就该项目对下游村民进行了访谈，了解村民的意见和建议
B. 某水泥厂建成投产后所产生的粉尘经常超标排放，对周边居民的身心造成了极大的影响，最终被投诉到了环境保护行政主管部门
C. 某工业园区定位为以制革行业为主，在开发过程中，园区开发单位为了获得当地居民对开发行动的支持，组织当地居民代表召开了座谈会
D. 某高速公路选线经过一个自然保护区的外围保护地带，在可行性研究阶段，该公路的建设方征求自然保护区管理机构的意见
75. 既满足当代人的需求，又不对后代人满足其需求的能力构成危害的发展称为可持续发展。
根据上述定义，下列不属于可持续发展范畴的是：
A. 自然资源及其开发利用程序间的平衡
B. 小王小时候德、智、体、美、劳全面发展，为以后人生的持续进步打下了良好的基础
C. 在生存不超出维持生态系统涵容能力的情况下，改善人类的生活品质
D. 当发展能够保持当代人的福利增加时，也不会使后代的福利减少
76. 一个国家或区域在任何时期都存在一个经济上的最大收益点，当劳动力超过或者少于这个量时，都会引起收益减少，处于“最大收益点”的人口便是最合适的人口，这是经济学角度的“适度人口”概念。

根据上述定义，下列不属于经济学角度“适度人口”定义范畴的是：

- A. 使得按人口平均计算的国民生产总值达到最大值的那种人口规模
- B. 在一定的土地资源生产能力及一定的生活水平下承载的人口数量
- C. 与一定时期内工业生产活力所可能达到的最高水平（即最高人均收入）相适应的人口
- D. 以最令人满意的方式，达到某项特定经济效益目标之人口

77. 水土流失是指在水力、重力、风力等外力作用下，水土资源和土地生产力的破坏和损失，包括土地表层侵蚀和水土损失，亦称水土损失。水土保持，是指对自然因素和人为活动造成水土流失所采取的预防和治理措施的总称。

下列不属于水土保持措施的是：

- A. 某采矿工程闭矿后，建设方采取了恢复表土层和植被的措施
- B. 在铁路、公路两侧地界以内的山坡地，除修建护城外，还采取了其他土地整治措施
- C. 某大桥建设方为防止危险化学品运输车辆发生交通事故时所产生的危险化学品废液对下游水体的污染，在大桥上设置事故池用于储存事故废液
- D. 某地修建水利工程时，尽量减少破坏植被，且将废弃的砂、石、土运至规定的专门存放地堆放

78. 国民经济核算中的经济领土是指由政府管理的地理领土组成，在这个地理领土内，人员、商品、资本可以自由流动。

根据以上定义，试判断下列不属于中国经济领土的是：

- A. 中国海南岛
- B. 中国南极长城科学考察站
- C. 中国在美国华盛顿的大使馆
- D. 拥有大量华人聚居的美国纽约唐人街

79. 无形资产是指企业拥有或者控制的没有实物形态的可辨认的非货币性资产，资产满足下列条件之一的，即可视为无形资产：

（1）能够从企业中分离或者划分出来，并能够单独或者与相关合同、资产或负债一起，用于出售、转移、授予许可、租赁或者交换。

（2）源自合同性权利或其他法定权利，无论这些权利是否可以从企业或其他权利和义务中转移或者分离。那么，下列不属于无形资产的为：

- A. 某人的知识产权
- B. 文学艺术原作
- C. 专利作品
- D. 机器设备

80. 政府购买是指政府花钱设置法院、提供国防、建筑道路、开办学校等公共服务，也就是说政府通过雇请公务员、教师，造公共设施或枪炮、潜艇等，为社会提供服务。

根据以上定义，下列项目中属于政府购买的是：

- A. 地方政府办三所学校
- B. 政府给低收入者提供一笔住房补贴
- C. 政府组织群众贷款修公路
- D. 政府拨付1.0亿元救助冰冻灾害的群众

81. 辛亥革命：1911

- A. 十月革命：1917
- B. 新文化运动：1911
- C. 明治维新：1884
- D. 戊戌变法：1868

82. 《人间喜剧》：巴尔扎克

- A. 《雾都孤儿》：狄更斯
- B. 《三个火枪手》：雨果
- C. 《复活》：玛丝洛娃
- D. 《茶花女》：大仲马

83. 自行车 对于（ ）相当于（ ）对于 卡车

- A. 单车 轿车
- B. 轿车 马车
- C. 飞机 火箭
- D. 马路 桥梁

84. 手机 对于 () 相当于 () 对于 商店
- A. 公司 医院
B. 个人 病人
C. 电话 药店
D. 学生 售货员
85. 树根 对于 树 相当于 () 对于 ()
- A. 伞架 伞
B. 齿轮 曲柄
C. 墙基 房屋
D. 竹节 竹叶
86. 泼水节 对于 () 相当于 () 对于 彝族
- A. 瑶族 走婚
B. 侗族 开斋节
C. 回族 淋浴节
D. 傣族 火把节
87. 千克 对于 () () 相当于 分米 对于 () ()
- A. 升 天平 毫米 直尺
B. 两 量筒 克 游标卡尺
C. 克 米尺 尺 游标卡尺
D. 克 天平 厘米 直尺
88. 冰：水：蒸气
- A. 汉人：华人：华侨
B. 二氧化碳：干冰：灭火
C. 金刚石：石墨：铅笔
D. 纸张：论文：作者
89. 虚伪：虚假
- A. 假装：打扮
B. 小气：吝啬
C. 紧密：紧张
D. 匆忙：繁忙
90. 讨论 对于 () 相当于 () 对于 明白
- A. 争吵 听
B. 过程 结果
C. 大家 我们
D. 清楚 弄
91. 搞阴谋诡计的人不被人信任，所以正直的人不搞阴谋诡计。
得出以上结论必需的前提条件是：
- A. 正直的人被人信任
B. 搞阴谋诡计的人不是正直的人
C. 有的正直的人也搞阴谋诡计
D. 有的搞阴谋诡计的人也被人信任
92. 作文却好像偏偏并无秘诀，假使有，每个作家一定是传给子孙的了。
最能支持以上观点的是：
- A. 作文是不能靠别人教的
B. 会写作的作家很少见
C. 祖传的作家很少见
D. 作家的子孙有很多是作家
93. 要高速度发展国民经济，就必须有科学技术的高速度发展。
与以上判断逻辑完全相同的是：
- A. 只有科学技术的高速度发展，才能有国民经济的高速度发展
B. 要高速度发展科学技术，就必须有国民经济的高速度发展
C. 只要有科学技术的高速度发展，就必定有国民经济的高速度发展
D. 高速发展国民经济和高速度发展科学技术是完全一致的
94. 有三只盒子，每只盒子里面装了两只球，分别是黑黑、白白、黑白。每只盒子都贴上了标明内容的标签，但所有的标签都贴错了。要求：打开一只盒子，但只能取出一个球来，看过之后把所有的标签都纠正过来。
可以打开的盒子是：
- A. 黑黑
B. 白白
C. 黑白
D. 打开哪个盒子都不行
95. 小明在星期一、星期二、星期三说谎话，

丽丽在星期四、星期五、星期六说谎话；

此外的日子里，他们都讲真话。

青青忘了今天是星期几，他问小明，小明说：“昨天是我说谎话的日子。”

他又问丽丽，丽丽也说：“昨天是我说谎话的日子。”

由此可以推断今天是：

- A. 星期一 B. 星期四 C. 星期六 D. 星期天

96. 李老师、王老师、张老师在同一所大学教语文、数学和外语，按规定每人只担任其中一门课。而且：

- ①李老师上课全部用汉语。
②外语老师是该校一个学生的舅舅。
③张老师在女教师，她的女儿考大学之前，经常向数学老师请教。

请判定他们各自上的课程是：

- A. 李老师上语文，王老师上外语，张老师上数学
B. 王老师上语文，李老师上外语，张老师上数学
C. 张老师上语文，王老师上外语，李老师上数学
D. 王老师上语文，张老师上外语，李老师上数学

97. 调查发现，内向的人不太敢在公共场合发表自己的意见，他们即使有好的建议，也往往藏在心里，或者只和自己很熟悉的朋友交流。

所以，一个好的领导，除了在大会上听取各种意见之外，还需要：

- A. 自己多干实事 B. 自己多了解情况
C. 多关心内向的员工 D. 和内向的人交朋友

98. 俗话说：不入虎穴，焉得虎子。对这句话理解不正确的是：

- A. 进了虎穴，就一定能得到虎子
B. 只有进虎穴，才可能得到虎子
C. 即使进了虎穴，也不一定就能得到虎子
D. 要得到虎子，就必须得进虎穴

99. 有人认为，语言对于个人和社会都极其重要，语言不仅能方便人际间的交流，还能产生物质资料。以下最能反驳这一观点的是：

- A. 人和人之间的交流不依靠语言 B. 言谈举止体现了一个人的修养
C. 世界上很多夸夸其谈的人却是穷光蛋 D. 世界上不少富有的人能言善道

100. 与“并非当且仅当你认为事情是正确的，它就一定是正确的”等值的判断是：

- A. 你认为事情是错误的，但它却是正确的
B. 你认为事情是正确的，它却是错误的
C. 要么你认为事情是错误的，但它却是正确的，要么你认为事情是正确的，它却是错误的
D. 或者你认为事情是错误的，但它却是正确的，或者你认为事情是正确的，它却是错误的

101. (1) 巧渡金沙江

(2) 遵义会议

(3) 强渡大渡河

(4) 四渡赤水

(5) 翻雪山，过草地

- A. 5-1-2-4-3 B. 5-1-4-3-2 C. 4-2-1-3-5 D. 2-4-1-3-5

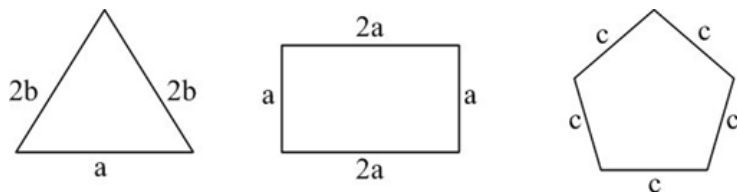
102. (1) 自是指物作诗立就
(2) 泯然众人矣
(3) 生五年，即书诗四句，并自为其名
(4) 日扳仲永环谒于邑人，不使学
(5) 邑人奇之，稍稍宾客其父，或以钱币乞之
A. 3-5-1-4-2 B. 3-2-4-5-1 C. 1-3-4-5-2 D. 3-1-5-4-2
103. (1) 水面缩小
(2) 围湖造田
(3) 洪涝频发
(4) 退耕还湖
(5) 蓄洪能力下降
A. 4-5-1-3-2 B. 2-1-5-3-4 C. 2-5-3-1-4 D. 5-2-4-1-3
104. (1) 滥砍滥伐
(2) 土地沙漠化
(3) 建防护林
(4) 沙尘暴多发
(5) 损失严重
A. 3-1-4-2-5 B. 1-2-4-5-3 C. 2-1-5-4-3 D. 4-5-3-1-2
105. (1) 资格审查
(2) 交费
(3) 参加考试
(4) 打印准考证
(5) 填写报名表
A. 5-1-2-3-4 B. 2-5-1-4-3 C. 5-1-2-4-3 D. 2-1-5-4-3

第四部分 数量关系

在这部分试题中，每道试题呈现一段表述数字关系的文字，要求你迅速、准确地计算出答案。你可以在草稿纸上运算。

106. 14, 23, 34, 47, ()
A. 50 B. 57 C. 60 D. 62
107. 17, 34, 68, 136, ()
A. 168 B. 234 C. 272 D. 257
108. 2, 4, 10, 22, 42, ()
A. 72 B. 84 C. 96 D. 78
109. 6, 20, 42, 72, 110, ()
A. 128 B. 140 C. 156 D. 166
110. 5, 13, 15, 27, 29, 45, ()

- A. 56 B. 47 C. 55 D. 64
111. 小雪和小敏的藏书册数比是7: 5, 如果小雪送65本给小敏, 那么他们之间的藏书册数比是3:4, 则小敏原来的藏书是多少册:
A. 175 B. 245 C. 420 D. 180
112. 某校学生参加秋游, 若每台车坐60人, 则调15台车还不够, 若每台车坐70人, 则调14台车还空余。最后决定改乘面包车, 每台可坐x人, 只需调x台车正好坐满, 共有多少师生参加秋游:
A. 1024 B. 861 C. 926 D. 961
113. 一个长方形的蛋糕, 沿着前后、左右、水平方向依次切了2刀、3刀、4刀, 最多可以分给多少个同学吃:
A. 24 B. 40 C. 56 D. 60
114. 小华4年后年龄与小丽4年前的年龄相等, 3年后, 她们两人的年龄和等于她们今年年龄差的3倍, 小华和小丽今年的年龄分别是多少岁:
A. 10, 18 B. 4, 12 C. 5, 13 D. 6, 14
115. 有一种细菌, 经过1分钟, 分裂成2个, 再过1分钟, 变成4个, 这样把一个细菌放在瓶子里到充满为止, 用了2个小时。如果一开始时, 将2个这种细菌放入瓶子里, 那么充满瓶子要多长时间:
A. 30分钟 B. 59分钟 C. 119分钟 D. 60分钟
116. 某木器厂有38名工人, 2名工人每天可以加工3张课桌, 3名工人每天可以加工10把椅子, 调配多少工人加工椅子才能使每天生产的桌椅配套: (1张课桌配两把椅子)
A. 18 B. 14 C. 16 D. 21
117. 水坝的横截面是一个梯形, 它的面积为32.5平方米, 高为5米, 下底比上底的2倍多1米, 梯形上底是多少米:
A. 6 B. 4 C. 5 D. 7
118. 一个队伍7个人, 小明首先站在第3位, 那么向后转以后是第几位:
A. 3 B. 4 C. 5 D. 7
119. $\frac{3}{8}$
计算: $2005 \times \frac{3}{8} - 0.375 \times 1949 + 3.75 \times 2.4$ 的值为:
A. 16 B. 30 C. 24 D. 1500
120. 如图, 三个图形的周长相等, 则a: b: c是多少:



- A. 4: 5: 6 B. 8: 10: 15 C. 20: 25: 24 D. 24: 25: 20

第五部分 资料分析

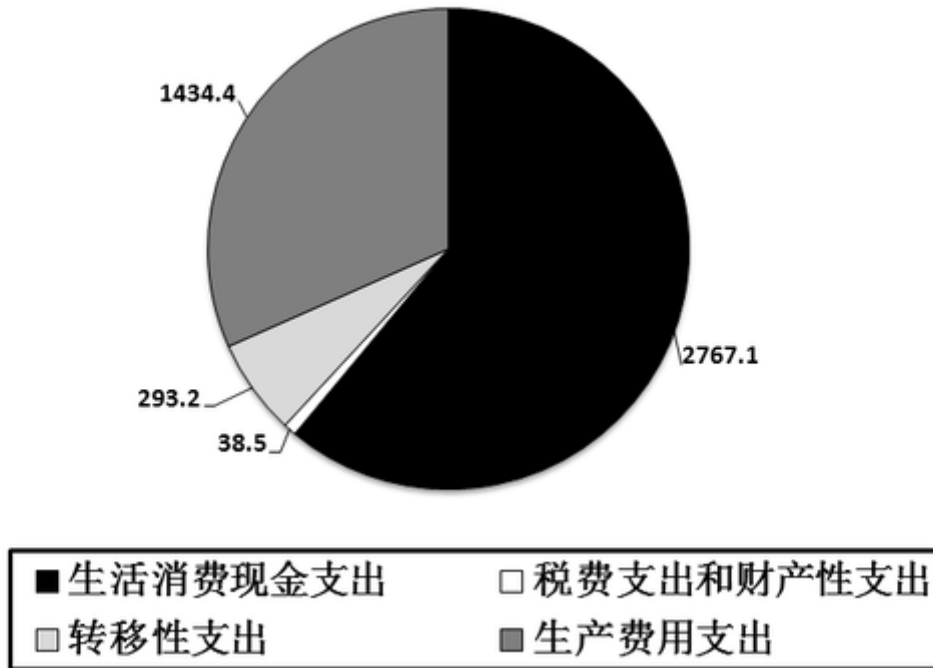
针对下列图、表或文字回答问题。你应根据资料提供的信息进行分析、比较、计算、处理。你可以在题本上运算。

下图是2007年我国农村居民家庭现金支出情况，图中已标明各项支出金额。请根据图中信息回答下列各题：

农村居民家庭现金支出

(单位：元/人)

图表区



121. 下列哪项支出在我国农村居民家庭现金支出中所占比例最大：
 A. 生活消费现金支出 B. 税费支出和财产性支出
 C. 转移性支出 D. 生产费用支出
122. 生产费用支出占我国农村居民家庭现金支出的比重为：
 A. 61% B. 32% C. 6% D. 1%
123. 转移性支出占我国农村居民家庭现金支出的比重为：
 A. 61% B. 32% C. 6% D. 5%
124. 我国农村居民家庭现金支出中生活消费现金支出比转移性支出多 () 元/人：
 A. 1879.9 B. 2473.9 C. 2634.6 D. 2908.5
125. 我国农村居民家庭现金支出中生活消费现金支出是转移性支出的多少倍：
 A. 9.44 B. 8.78 C. 8.12 D. 7.98

2008年以来，世界经济增长速度全面放缓。2008年美国前三季度GDP环比分别增长0.9%、2.8%和下降0.5%；欧元区第一季度GDP环比增长0.7%，第二季度和第三季度均下降0.2%；日本第一季度GDP环比增长0.6%，第二季度和第三季度分别下降1.0%和0.5%；俄罗斯、韩国、马来西亚和泰国的第三季度GDP同比增长率分别从第一季度的8.5%、5.8%、7.1%和6%回落至6.4%、3.9%、5.8%和4%；中国台湾和新加坡第三季度GDP同比分别下降1%和0.6%，均为2001年以来首次出现负增长，而一季度分别增长6.2%和6.9%。

126. 韩国在2008年第三季度的GDP同比增长速度为：
A. 5.8% B. 7.1% C. 3.9% D. 4%
127. 新加坡在2008年第一季度的GDP同比增长速度为：
A. 6.2% B. 6.9% C. 1% D. 0.6%
128. 下列叙述正确的是：
A. 美国2008年第一、第二和第三季度GDP环比增长率均为大于零
B. 欧元区2008年第二季度和第三季度的GDP环比下降幅度不相同
C. 与2008年第一季度相比，泰国的第三季度GDP同比增长率回落2个百分点
D. 中国台湾2008年第一季度GDP同比出现负增长
129. 下列叙述不正确的是：
A. 欧元区2008年第一季度GDP环比为正增长 B. 日本2008年第三季度GDP环比为负增长
C. 俄罗斯2008年第三季度GDP同比为正增长 D. 马来西亚2008年第三季度GDP同比负增长
130. 以下国家2008年第三季度与2008年第一季度相比GDP同比增长率，差值的绝对值最大的是：
A. 俄罗斯 B. 韩国 C. 马来西亚 D. 泰国

下表为2002~2009年全球贸易增长率的数据，其中2008年的数据为估计值，2009年的数据为预测值。请根据下表回答下列问题：

2002-2009 年全球贸易增长率
(单位：%)

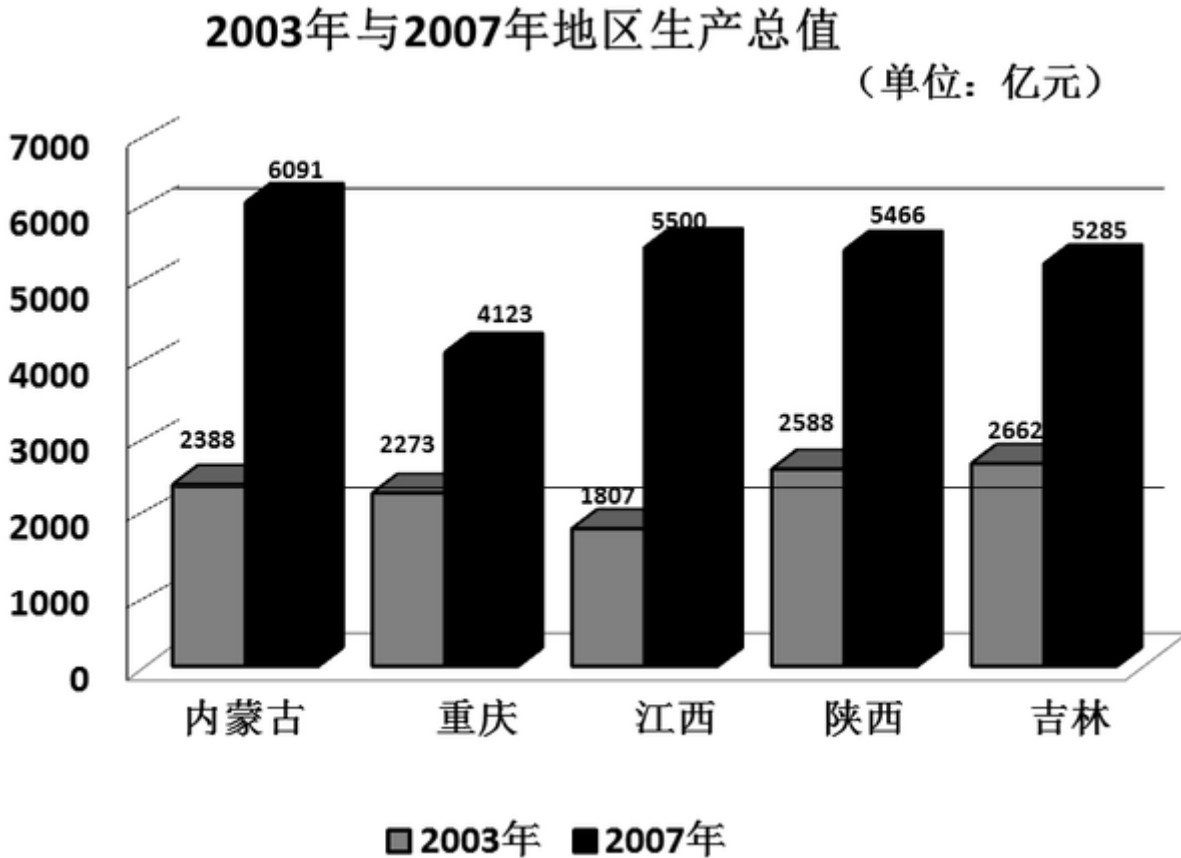
| | 贸易流向 | 2002 | 2003 | 2004 | 2005 | 2006 | 2007 | 2008 | 2009 |
|-------|------|------|------|------|------|------|------|------|------|
| 发达国家 | 出口 | 2.2 | 2.5 | 8.9 | 5.6 | 7.5 | 4.5 | 3.1 | 0.0 |
| | 进口 | 2.5 | 4.6 | 9.5 | 6.5 | 7.0 | 3.9 | 1.1 | -1.1 |
| 转型经济体 | 出口 | 7.9 | 13.2 | 15.5 | 0.8 | 6.6 | 8.9 | 5.0 | 4.5 |
| | 进口 | 11.8 | 16.2 | 19.3 | 8.8 | 18.4 | 25.0 | 17.5 | 15.5 |
| 发展中国家 | 出口 | 8.6 | 10.8 | 15.0 | 12.5 | 10.9 | 8.8 | 6.2 | 4.8 |
| | 进口 | 7.4 | 10.3 | 16.3 | 11.2 | 12.0 | 8.9 | 9.8 | 6.3 |

131. 在下列哪一年中，发达国家的出口增长率最高：
A. 2004年 B. 2005年 C. 2006年 D. 2008年
132. 下列哪种经济体在2008年的进口增长率最低：
A. 发达国家 B. 转型经济体 C. 发展中国家 D. 不确定
133. 发展中国家在2008年的进口增长率比2007年增长了：
A. 0.7个百分点 B. 2.1个百分点 C. 0.9个百分点 D. 1.2个百分点
134. 与发达国家相比，转型经济体2008年的出口增长率：
A. 比发达国家高1.9个百分点 B. 比发达国家低1.9个百分点

- C. 比发达国家高16.4个百分点
D. 比发达国家低16.4个百分点
135. 在2009年, 发展中国家的进口增长率预计是:

A. 4.8% B. 6.3% C. 6.3 D. 11.1

下图显示的是内蒙古、重庆、江西、陕西、吉林五个省(市)2003年与2007年地区生产总值, 请根据图形回答以下的问题。



136. 以上列举的五个省(市)中, 2003年国内生产总值最大的是:
- A. 内蒙古 B. 重庆 C. 江西 D. 吉林
137. 以上列举的五个省(市)中, 2007年国内生产总值最小的是:
- A. 江西 B. 吉林 C. 陕西 D. 重庆
138. 与2003年相比, 陕西省2007年国内生产总值的变化为:
- A. 增加2778亿元 B. 增加2777亿元 C. 增加2877亿元 D. 增加2878亿元
139. 与2003年相比, 陕西省2007年国内生产总值的变化为:
- A. 增长111.2% B. 增长111.8% C. 增长211.2% D. 增长211.8%
140. 下列叙述不正确的是:
- A. 与2003年相比, 江西省2007年国内生产总值的变化幅度最大
- B. 与2003年相比, 重庆市2007年国内生产总值增加了1850亿元
- C. 与2003年相比, 重庆市2007年国内生产总值变化幅度最小
- D. 与2003年相比, 内蒙古2007年国内生产总值增加了3603亿元

扫一扫，对答案

