

# 2010年江西行测真题

真题更新时间：2022年10月12日23:31:02

扫描下方二维码下载小麦公考APP 刷海量题库掌握最新热点



QQ扫码直接下载

微信扫码到应用市场下载

支持所有机型哦

## 第一部分 言语理解与表达

本部分包括表达与理解两方面的内容。请根据题目要求，在四个选项中选出一个最恰当的答案。

- 徜徉在这个花海中，常常使你思索起来，感受到许多寻常的道理中新鲜的\_\_\_\_\_。  
填入划横线部分最恰当的一项是：  
A. 意思                      B. 意味                      C. 涵义                      D. 意义
- 国务院常务会议要求在保持政策连续性和稳定性的同时，加强保障性住房建设，加强市场监管，稳定市场预期，\_\_\_\_\_部分城市房价过快上涨的势头。  
填入划横线部分最恰当的一项是：  
A. 遏制                      B. 遏止                      C. 抵制                      D. 制止
- 每年的梨花节前，都会有一张素洁得如同梨花一样的请柬飞到我的案头，传达着梨花对我的\_\_\_\_\_。  
填入划横线部分最恰当的一项是：  
A. 召唤                      B. 呼唤                      C. 深情                      D. 邀请
- 科学选择新兴战略性产业非常重要，选对了就能跨越发展，选错了将会\_\_\_\_\_时机。  
填入划横线部分最恰当的一项是：  
A. 痛失                      B. 耽误                      C. 错过                      D. 贻误
- 工作已经进入收尾阶段，这时候更要认真对待，要慎终如始，否则就会\_\_\_\_\_。  
填入划横线部分最恰当的一项是：  
A. 一败涂地                      B. 功亏一篑                      C. 一蹶不振                      D. 无功而返
- 沙漠里真有魔鬼吗？在那时人们的知识水平看起来，确像是有魔鬼在作怪。但是人们在掌握了自然规律以后，便可把海市蜃楼这种\_\_\_\_\_的现象说清楚。  
填入划横线部分最恰当的一项是：  
A. 奇形怪状                      B. 鬼斧神工                      C. 光怪陆离                      D. 鬼鬼祟祟
- 勤的积极意义是要人进德修业，不但不同于草木，也有异于禽兽，成为\_\_\_\_\_的万物之灵。  
填入划横线部分最恰当的一项是：  
A. 名副其实                      B. 名负其实                      C. 名符其实                      D. 名附其实
- 警惕投资后遗症并非要\_\_\_\_\_，而是要在投资的同时，努力用好投资，把握投资方向，提高投资效益，以投资带动消费。  
填入划横线部分最恰当的一项是：  
A. 一成不变                      B. 因循守旧                      C. 画地为牢                      D. 因噎废食
- 一系列网络热点事件\_\_\_\_\_网络管理应进一步\_\_\_\_\_，加大财力和人才的投入，加快完善立法。  
依次填入划横线部分最恰当的一项是：  
A. 表明    规范                      B. 证明    规划  
C. 说明    规范                      D. 显示    规划
- 三清山风景如画，有\_\_\_\_\_的峰峦，\_\_\_\_\_的奇石。  
依次填入划横线部分最恰当的一项是：



- A. 映衬 布局 配合 层次  
 B. 配合 布局 层次 映衬  
 C. 层次 布局 映衬 配合  
 D. 布局 配合 映衬 层次
17. 咬文嚼字有时是一个坏习惯，\_\_\_\_\_这个成语的含义通常不很好，但是在文学，无论阅读或写作，我们\_\_\_\_\_有一字不肯放松的谨严。文学借文字\_\_\_\_\_思想感情；文字上面有含糊，就显得思想还没有\_\_\_\_\_，情感还没有凝练。咬文嚼字，在表面上像只是斟酌文字的分量，在实际上就是\_\_\_\_\_思想和情感。从来没有一句话换一个说法而意味仍完全不变。
- 依次填入划横线部分最恰当的一项是：
- A. 虽然 必需 表示 精确 调动  
 B. 所以 必需 表示 透彻 调整  
 C. 虽然 必须 表现 精确 调动  
 D. 所以 必须 表现 透彻 调整
18. 一定的历史观是对是非、善恶、美丑的评价体系的集中体现，历史是发展的、前进的，历史人物，事件终究会依其所起作用的性质和地位，而打上是非、美丑、善恶的烙印，\_\_\_\_\_，把本来十分清楚的历史评价错误地颠倒过来，就会搞乱社会公众的道德评价体系。
- 填入划横线部分最恰当的一项是：
- A. 这种评价是主观的，但决不能说和客观没有一点关系  
 B. 这种评价是历史的，但决不能说和现实没有一点关系  
 C. 这种评价是现实的，但决不能说和历史没有一点关系  
 D. 这种评价是客观的，但决不能说和主观没有一点关系
19. 下列各句中没有语病的一句是：
- A. 当全球金融危机爆发，使我国出口遭遇寒冬  
 B. 现在的天文学，不是光研究太阳、月亮、星星在天上的位置和运行规律，还要研究星星里头的变化，研究宇宙的演化  
 C. 当下，大量新型社区的出现，同时改变了国人原有的居住方式，也促使人们的行为和观念发生了潜移默化的改变  
 D. 正午时分，经过几个小时的攀爬，我们终于登上了山的最高峰，不禁延口残喘
20. ①尽管如此，许多人仍然抱怨电视是一种单向的发射，它仍然垄断了信息的收集、组织、编辑、诠释和发布。  
 ②这不仅因为电影、广播、电视或者互联网相继为大众的日常生活制造了巨大的快乐；更为重要的是，新型传播媒介的问世往往是与进一步的民主和开放联系在一起的。  
 ③因此，计算机互联网的出现再度震动了人们。  
 ④历史证明，媒介的垄断时常导致符号的垄断；反之，符号的解放必然吁求媒介的解放。  
 ⑤相对于报纸，电视显然提供了一个较为广泛的公共空间。  
 ⑥在大多数人眼里，电子传播媒介的崛起常被视为一种进步的标志。

将以上6个句子重新排列，语序正确的一项是：

- A. ⑥②④⑤①③      B. ④⑥②⑤①③      C. ⑥③④⑤②①      D. ④⑥②③⑤①

21. 联想意义也最易误用而生流弊，联想起于习惯，习惯老是喜欢走熟路，熟路抵抗力最低，引诱性最大，一人走过，人人就都跟着走，越走就越平滑俗滥，没有一点新奇的意味，字被人用的太滥，也是如此。

文中“流弊”具体指的是：

- A. 像走熟路那样联想      B. 误用联想意义  
C. 用字太俗滥      D. 没有一点新奇的意味

22. 文化是一个有机综合体，法是其中的一部分，即特殊的规范部分。任何国家的法都不是凭空产生，它都必然有一定的文化基础，即文化的其他因素在整体上，是法产生和存在的条件。因此，我们用“决定”一词来表达文化中其他因素之综合与法的关系。这正如马克思曾推出的：“权利绝不能超出社会的经济结构以及由经济结构制约的社会的文化发展。”

这段文字意图说明：

- A. 法对文化的作用  
B. 法是一定社会主文化的组成部分和表现  
C. 文化中其他因素之综合与法的关系  
D. 文化是一个有机的综合体

23. 法国科学家法伯，曾经做过一个著名的“毛毛虫”实验，这种毛毛虫总是盲目地跟随着前面的毛毛虫走，法伯把若干个毛毛虫放在一个花盆的边沿上，首尾相接，围成一圈，并在花盆周围不到6英寸的地方撒了一些毛毛虫爱吃的松针，毛毛虫开始一个跟一个，绕着走。花盆一圈又一圈地走，一小时过去了，一天过去了，毛毛虫们还不停地坚韧地团团转，七天七夜后它们终于因为饥饿和筋疲力尽而死。

这个故事意在说明：

- A. 人们的盲目性      B. 人们的固执己见  
C. 人们的从众心理      D. 人们的因循守旧

24. 现代自然科学不是单单研究一个个事物，一个个现象，而是研究事物、现象的变化发展过程，研究事物相互之间的关系，这就使自然科学发展成为严密的综合起来的体系，这是现代自然科学的重要特点。

这段文字的主旨是：

- A. 现代自然科学，研究一个个事物，一个个现象  
B. 严密的综合起来的体系是现代自然科学的重要特点  
C. 自然科学发展成为严密的综合起来的体系  
D. 现代自然科学的重要特点是研究事物、现象的变化与关系

25. 目前江西生态示范区的面积占全省国土面积的57.3%，全省森林覆盖率达60.05%，位居全国第2位，依托丰富的森林生态资源，建有99个公园，其中国家级35个，居全国第1位，拥有自然保护区156个，其中国家级8个，列全国第2位，得天独厚的良好生态优势成为江西低碳经济发展的极强后劲。

最适合这段文字的标题是：

- A. 低碳经济快速发展      B. 江西森林覆盖率居全国前列  
C. 江西森林生态资源丰富      D. 绿色生态成优势

26. 中国模式最终一定会影响世界政治的游戏规则，丰富世界民主政治的内容和形式，西方模式也是一路走来，并最终成为强势模式的，这很像学外语，如果你认为世界上只有英语好，那么你就永远是学生，别人永远可以说你哪些地方不对，甚至打个不及格，现在中国崛起了，中文也自然会成为国际社会的强势语言，你要和我交流，就要好好学习我的语言，尽量达到我的母语水平，好戏在后头。
- 从这段文字看来，作者想要表明的态度是：
- A. 中文将成为强势语言，值得自豪  
B. 中国模式正在超越西方模式  
C. 中国模式将最终成为强势模式  
D. 平视西方模式，中国应更自信
27. 美国管理学家罗宾斯认为：管理者是被任命的，他们拥有合法的权力，进行奖励和处罚，其影响力来自于他们所在的职位所赋予的正式权力。领导者可以是任命的，也可以是从一个群体中产生出来的，领导者也可以不运用正式权力来影响他人的活动。
- 根据这段文字，以下不正确的是：
- A. 管理者的合法权力是职位赋予的  
B. 正式任命的领导者就是管理者  
C. 正式任命的管理者是领导者  
D. 管理者和领导者是两个不同概念
28. 植物学家对阿尔卑斯山脉的植被考察之后，发现了一个奇怪现象，最近100年来，许多高山上的植物品种正在增加。许多山底牧场上开放的花已经开到了海拔2000米的雪带上，而原先雪带上的植物则超过雪带向更高处攀登。植物学家研究了有关科学文献发现，造成这种情况的主要原因是阿尔卑斯山地区的气温逐渐升高，这些适宜在低气温环境里生长的植物为了寻找适宜的温度，不得不向更高的山上“攀登”。植物学家还发现，它们的生命力要比以前还强得多。
- 这段文字意在说明：
- A. 许多植物自身都有对自然界灵敏的反应，并且不断调整自身的生存状态  
B. 阿尔卑斯山地区的气温正在逐渐升高，导致植物发生变化  
C. 高山上的植物品种正在增加，而且生命力强盛  
D. 阿尔卑斯山脉的植被出现奇怪现象
29. 《左传》上有“一鼓作气”的话，是说战斗的，后来所谓“士气”就是这个气，也就是“斗志”，这个“士”指的是武士，孟子提倡的“浩然之气”，似乎就是这个气的转变与扩充，他说“至大至刚”，说“养勇”都是带有战斗性的，“浩然之气”是“集义所生”，“义”就是“有理”，或“公道”。后来所谓“义气”，意思要狭隘些，可也算是“浩然之气”的分支，现在我们常说的“正义感”，虽然特别强调现实，似乎也还可以算是跟“浩然之气”联系着的。至于文天祥所歌咏的“正气”，更是跟“浩然之气”一脉相承。
- 这段文字意在说明：
- A. 气的概念演变  
B. 解释《左传》中的“一鼓作气”  
C. 气是积极战斗的  
D. “一鼓作气”与“浩然之气”一脉相承
30. 一个民族需要民族精神，一个时代需要时代精神，创业精神应当成为我们的民族精神，成为我们的时代精神，精神可以变物质，物质可以变精神，两个文明建设互相依存，互相促进。
- 这段文字表达的最主要的意思是：

- A. 一个民族需要民族精神，一个时代需要时代精神
- B. 精神可以变物质，物质可以变精神
- C. 两个文明建设互相依存，互相促进
- D. 创业精神应当成为我们的民族精神和时代精神
31. 达尔文学说认为进化只能是适应性，自然选择几乎是万能的，换句话说，进化是有利变异在自然选择作用中固定积累的结果。但是，20世纪60年代以来，分子生物学研究表明，蛋白质和核酸水平的突变绝大多数是中性的，即对生物的生存既无利亦无害，自然选择对其不起作用。这种中性突变在种群中日积月累，积少成多，成为巨大的变异，并构成种属的差异，甚至门纲的差异，于是新种形成，这就是中性突变学说。它最早由日本学者木村在1968年提出，后被人称为非达尔文进化。其实中性突变学说并不是反对自然选择，只是否定自然选择万能论。
- 与这段文字文意相符的是：
- A. 进化不是有利变异在自然选择作用中固定积累的结果，而是中性突变的结果
- B. 蛋白质和核酸水平的突变构成了新种
- C. 中性突变学说反对进化理论和达尔文学说
- D. 中性突变学说和达尔文进化学说都是进化理论
32. 对于假的东西，只是堵，不讲明必须堵的道理，也会有副作用，例如对于假钞，如果只是没收，不指明他的危害，人们反而会产生疑惑甚至不满。对于假道理，除了触犯法律的可以采取法律手段，依法取缔禁止外，其他的必须揭露批判它假在哪里，危害在哪里。
- 这段文字意在说明：
- A. 讲道理要以理服人
- B. 假道理的危害
- C. 道理也要打假
- D. 对于假的东西，只是堵，不讲明必须堵的道理，也会有副作用
33. 作物生产系统，是一个作物—环境—社会相互交织的复杂系统，作物生产的高产、优质和高效通常又是矛盾的和难于协调统一的整体，而且，高产、优质和高效三者的主次关系也会随着社会经济的发展而变化，可见农学学科的研究对象不仅涉及自然因素，而且涉及了社会因素。
- 这段文字意图说明：
- A. 农学学科的研究对象既涉及自然因素又涉及了社会因素
- B. 作物生产系统是一个作物—环境—社会相互交织的复杂系统
- C. 农学是服务于作物生产的一门综合学科
- D. 必须以系统学的观点来认识农学和作物生产
34. 针对宪法，人们有多种认识。比如《美国百科全书》认为：“宪法是治理国家的根本法和基本原则的总体。”日本《世界大百科事典》认为：“所谓宪法，意思是指与国家的组织及活动有关的各种根本法规的总和。”朱福惠先生认为：“宪法是调整国家机关与公民之间的权利义务关系和国家机关之间相互关系的国家根本法。”
- 这段文字理解正确的是：

- A. 从宪法所规定的内容角度定义宪法  
B. 从宪法的阶级本质角度定义宪法  
C. 从综合的角度定义宪法  
D. 从宪法的法律特征角度定义宪法
35. 心理健康的规定不是一成不变的，它可以随着社会及个体的变化不断调整。心理平衡表现为没有欲望和观念的冲突，没有紧张、焦虑、畏缩等不良情绪反应。心理健康就是人通过不断的心理活动，把由于各种原因造成的心理失衡调适为心理平衡的状态。  
这段文字意在表明：  
A. 心理活动和心理健康都是动态的  
B. 只要心理不平衡肯定心理不健康  
C. 心理平衡是心理健康的重要标志  
D. 心理健康的标准是相对的

## 第二部分 数量关系

在这部分试题中，每道试题呈现一段表述数字关系的文字，要求你迅速、准确地计算出答案。你可以在草稿纸上运算。

36. 6, 7, 5, 8, 4, 9, ( )  
A. 5                      B. 10                      C. 3                      D. 4
37. -1, 6, 25, 62, ( )  
A. 87                      B. 105                      C. 123                      D. 132
38. 232, 364, 4128, 52416, ( )  
A. 64832                      B. 624382                      C. 723654                      D. 87544
39. 4, 5, 7, 9, 13, 15, ( )  
A. 17                      B. 19                      C. 18                      D. 20
40. 3, 3, 4, 5, 7, 7, 11, 9, ( ), ( )  
A. 13, 11                      B. 16, 121                      C. 18, 11                      D. 17, 13
41. 0, 1, 5, 23, 119, ( )  
A. 719                      B. 721                      C. 599                      D. 521
42. 12, 19, 29, 47, 78, 127, ( )  
A. 199                      B. 235                      C. 145                      D. 239
43.  $\frac{1}{2}, 1, \frac{4}{3}, \frac{19}{12}, ( )$

【2010-江西-043】

- 118  
A. 60  
119  
B. 19



- $\frac{109}{36}$   
 C.  $\frac{107}{60}$   
 D.  $\frac{107}{60}$
44. 9, 17, 13, 15, 14, ( )  
 A. 13                      B. 14                      C. 13.5                      D. 14.5
45.  $1, \frac{3}{4}, \frac{9}{5}, \frac{7}{16}, \frac{25}{9}, ( )$
- 【2010-江西-045】**
- $\frac{38}{15}$   
 A.  $\frac{11}{36}$   
 B.  $\frac{27}{14}$   
 C.  $\frac{29}{18}$   
 D. 18
46.  $11338 \times 25593$ 的值为:  
 A. 290133434              B. 290173434              C. 290163434              D. 290153434
47. 有20位运动员参加长跑, 他们的参赛号码分别是1, 2, 3, ..., 20, 至少要从选出多少个参赛号码, 才能保证至少有两个号码的差是13的倍数:  
 A. 12                      B. 15                      C. 14                      D. 13
48. 小王的手机通讯录上有一手机号码, 只记下前面8个数字为15903428。但他肯定, 后面3个数字全是偶数, 最后一个数字是6, 且后3个数字中相邻数字不相同, 请问该手机号码有多少种可能:  
 A. 15                      B. 16                      C. 20                      D. 18
49. 甲从A地, 乙从B地同时以均匀的速度相向而行, 第一次相遇离A地6千米, 继续前进, 到达对方起点后立即返回, 在离B地3千米处第二次相遇, 则A, B两地相距多少千米:  
 A. 10                      B. 12                      C. 18                      D. 15
50.  $\frac{2}{5}$  后, 加满清水, 再倒出  $\frac{2}{5}$ , 又加满清水, 此时消毒液的浓度为:  
 A. 7.2%                      B. 3.2%                      C. 5.0%                      D. 4.8%
51. 某次考试100道选择题, 每做对一题得1.5分, 不做或做错一题扣1分, 小李共得100分, 那么他答错多少题:  
 A. 20                      B. 25                      C. 30                      D. 80
52. 某玩具店同时卖出一个拼装玩具和一架遥控飞机, 拼装玩具66元, 遥控飞机120元, 拼装玩具赚了10%, 而遥控飞机亏本20%, 则这个商店卖出这两个玩具赚钱或是亏本多少:  
 A. 赚了12元                      B. 赚了24元                      C. 亏了14元                      D. 亏了24元

53. 从一楼走到五楼，爬完一层休息30秒，一共要210秒，那么从一楼走到7楼，需要多少秒：

- A. 318                      B. 294                      C. 330                      D. 360

54. A、B两村庄分别在一条公路L的两侧，A到L的距离|AC|为1公里，B到L的距离|BD|为2公里，C、D两处相距6公里，欲在公路某处建一个垃圾站，使得A、B两个村庄到此处处理垃圾都比较方便，应建在离C处多少公里？



- A. 2.75                      B. 3.25                      C. 2                      D. 3

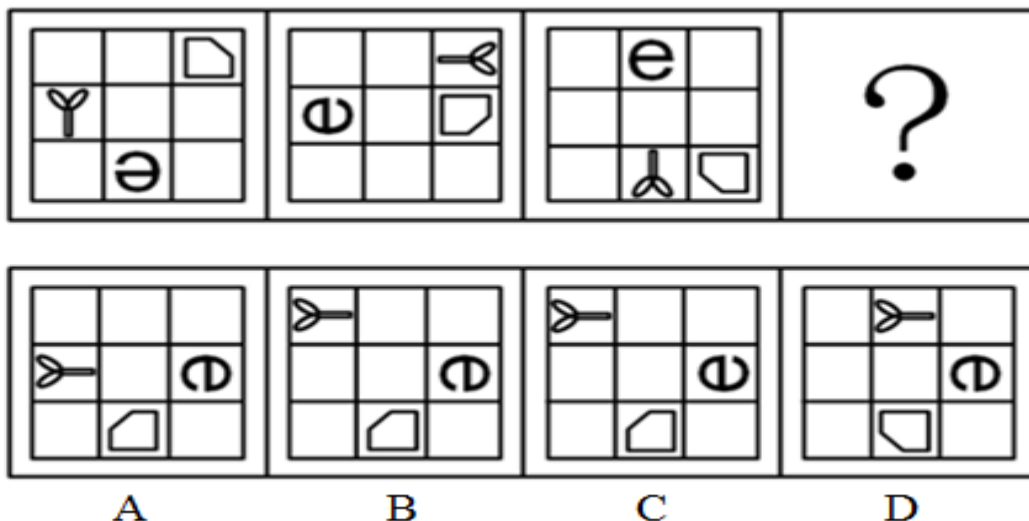
55. 某国家对居民收入实行下列税率方案：每人每月不超过3000美元的部分按照1%税率征收，超过3000美元不超过6000美元的部分按照X%税率征收，超过6000美元的部分按Y%税率征收（X，Y为整数）。假设该国某居民月收入为6500美元，支付了120美元所得税，则Y为多少？

- A. 6                      B. 3                      C. 5                      D. 4

### 第三部分 判断推理

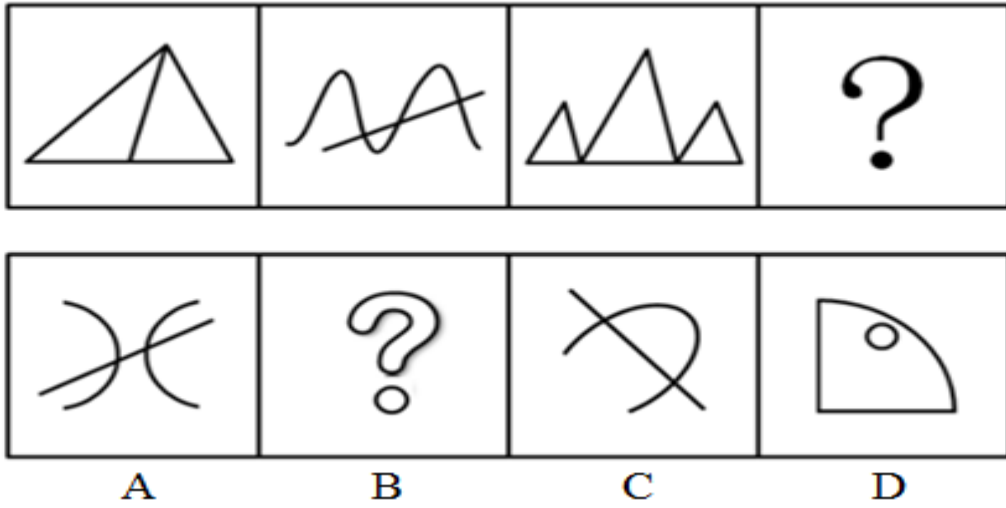
本部分包括图形推理、定义判断、类比推理与逻辑判断四种类型的试题，请按每道题的答题要求作答。

56. 从所给四个选项中，选择最合适的一个填入问号处，使之呈现一定规律性：【2010江西056】

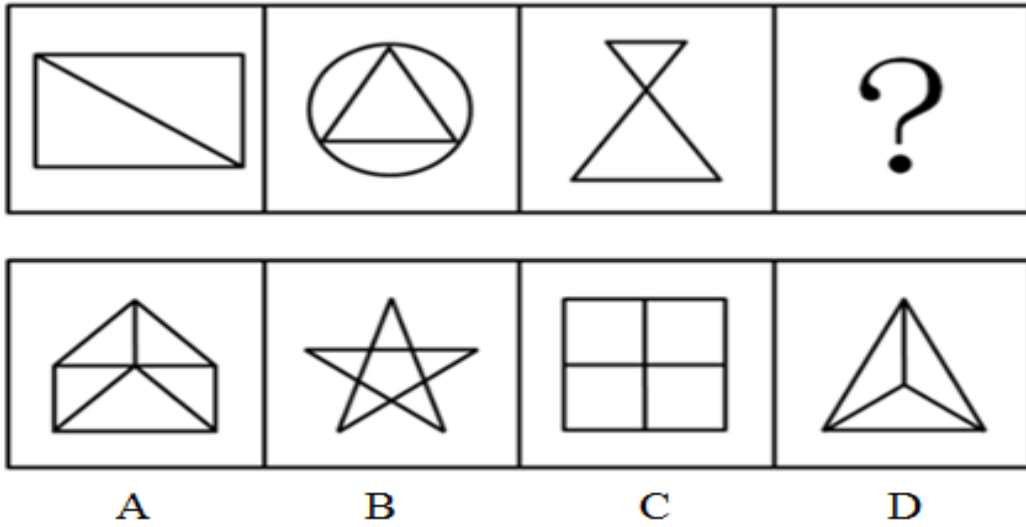


- A. 如图所示                      B. 如图所示                      C. 如图所示                      D. 如图所示

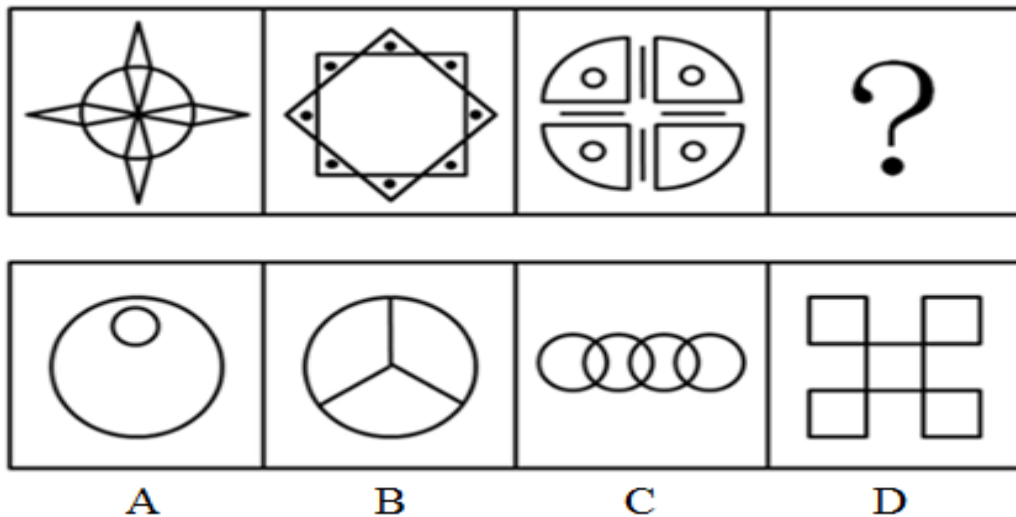
57. 从所给四个选项中，选择最合适的一个填入问号处，使之呈现一定规律性：【2010江西057】



- A. 如图所示      B. 如图所示      C. 如图所示      D. 如图所示
58. 从所给四个选项中，选择最合适的一个填入问号处，使之呈现一定规律性：【2010江西058】

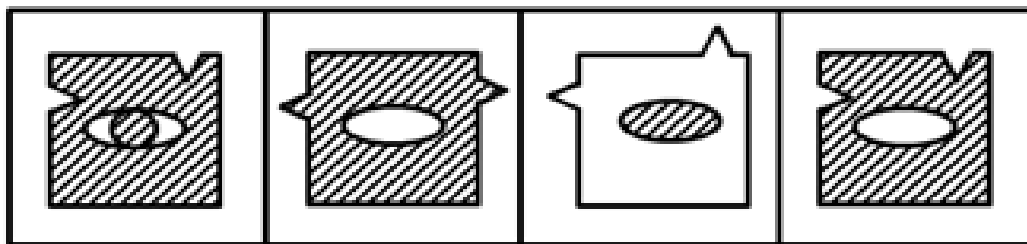
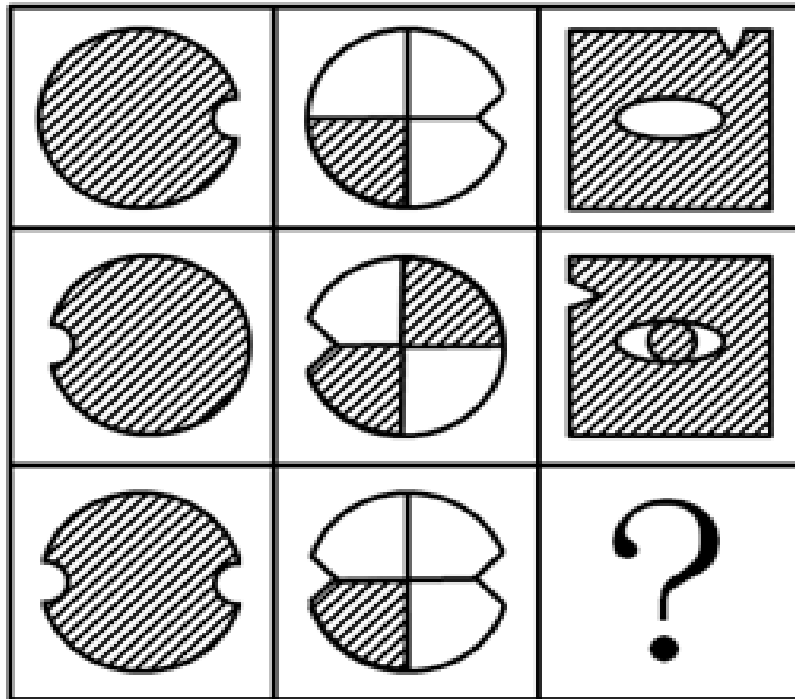


- A. 如图所示      B. 如图所示      C. 如图所示      D. 如图所示
59. 从所给四个选项中，选择最合适的一个填入问号处，使之呈现一定规律性：【2010江西059】



- A. 如图所示      B. 如图所示      C. 如图所示      D. 如图所示

60. 从所给四个选项中，选择最合适的一个填入问号处，使之呈现一定规律性：【2010江西060】



- A      B      C      D

- A. 如图所示      B. 如图所示      C. 如图所示      D. 如图所示

61. 从法律规则形式特征上看，可分为规范性规则和标准性规则。规范性规则指规则的内容明确、肯定和具体，且可直接适用的规则；标准性规则则指法律规则的部分内容或全部内容（事实状态、权利、义务、后果等）具有一定伸缩性，须经解释方可使用且可适当裁量的规则。

根据上述定义，下列属于规范性规则的是：

- A. “早六点至晚六点间本街道禁止通车”
- B. “每一选民在一次选举中只有一个投票权”
- C. “民事活动应当尊重社会公德，不得损害社会公共利益”
- D. “行政机关作出责令停产停业、吊销许可证或者执照、较大数额罚款等行政处罚决定之前，应当告知当事人有要求举行听证的权利”

62. 社会互动是指人与人、人与社会、人与群体、群体与群体之间通过信息的传播而发生的相互影响、相互作用、相互依赖的社会交往活动的过程。

根据上述定义，下列不属于社会互动的现象是：

- A. 在2008年的元旦晚会上，北大校长许智宏为学生们演唱了一首《隐形的翅膀》。歌声响起，北大学子们掌声相印，歌声相和
  - B. 榜样的力量是无穷的
  - C. 张三和他的邻居经常互相赠送自己做的小点心
  - D. 在第36届世界社会学大会上，中外学者互相交流学术观点
63. 法律责任是指由特定法律事实所引起的对损害予以补偿、强制履行或接受惩罚的特殊义务，亦即由于违反第一性义务而引起的第二性义务。

根据上述定义，下列属于导致法律责任的是：

- A. 陈某向某电视台举报揭露某公司造假，电视台没有报道
  - B. 李某被公共汽车售票员提醒后，仍不给残疾人王某让座，结果王某被挤伤
  - C. 孙某和肖某谈恋爱，后因感情不和分手，肖某极度痛苦，患上抑郁症
  - D. 某公司要求工人每天至少工作16小时，加班费每小时5元
64. 以不同利益群体（或个人）的存在和目标物的稀缺为前提的，社会上人与人、群体与群体之间，对于一个共同目标的争夺就是竞争。

根据上述定义，下列行为中不属于竞争关系的是：

- A. 2009年世界斯诺克英国锦标赛，丁俊晖以10:8战胜希金斯，获得冠军
  - B. 有关资料显示，2010年度有100余万人参加国家公务员录用考试
  - C. 2009年12月9号，拜仁慕尼黑队以四比一战胜尤文图斯队，获得欧冠小组赛的出线权
  - D. 公司的联欢晚会上，大家开展了歌曲联唱活动
65. 所谓诬告陷害罪是指捏造事实诬告陷害他人，意图使他人受刑事追究，情节严重的行为。

根据上述定义，下列行为构成诬告陷害罪的是：

- A. 乙捏造“文某强奸幼女”的事实，并向司法部门举报
  - B. 甲与丁某长期不和，便捏造丁某包养情人并匿名举报，使丁某与妻子离婚
  - C. 丙捏造同事万某受贿10万元的事实，并印刷大量传单在县城的大街小巷张贴
  - D. 丁匿名举报李某抢劫他人50万元。事后查明，李某只抢劫了5000元
66. 血缘关系是以血统或生理的联系为基础形成的人际关系；或者是指在婚姻和血缘基础上形成的人际关系。

根据上述定义，下列人际关系中属于血缘关系的是：

- A. 张三出差外地，巧遇家乡来的一个堂叔
  - B. 某高校中文系88级同学毕业后第一次聚会
  - C. 小张被公司派往日本学习，在东京遇到了多年前的一个老朋友
  - D. 京剧《红灯记》里，李铁梅唱道：“我家的表叔数不清……虽说是亲人又不相认……可他比亲人还要亲。”
67. 社会化过度是指把成年人某些社会化的任务前移到了部分青少年身上。现在我们的教育过早及过多地给予孩子们社会规范、纪律约束和强求一律的认同，极易造成青少年的社会化过度。

根据上述定义，下列行为中不属于社会化过度的是：

- A. 老周说，同事李先生的小孩太聪明了，小小年纪就懂得“见人说人话，见鬼说鬼话”
  - B. 一项调查显示，现在中小學生中想当班组长的人非常多，而长大后想当官是不少孩子主要的人生目标
  - C. 2007年，香港9岁神童沈诗钧被香港某大学录取一事引起广泛关注
  - D. 有人形容时下青少年中流行的啃老族是：“一直无业，二老啃光，三餐饱食，四肢无力，五官端正，六亲不认，七分任性，八方逍遥，九（久）坐不动，十分无用。”
68. 统一指挥原则是指在正式组织里，无论什么时候，一个下属都应接受而且只应接受一个上级的命令并向这个上级汇报自己的工作。

根据上述定义，下列选项违背了统一指挥原则的是：

- A. 总经理把产品销售的责任委派给一位分管市场经营的副总经理，由其负责所在地区的经销办事处，同时总经理又要求各地区经销办事处的经理们直接向总会计师汇报每天的销售数量
  - B. 主任科员小张在省级政府部门工作，发现他的直接上司有索贿受贿的行为，于是就向省纪委举报其上司的违法行为
  - C. 王大夫是某医院的外科医生，同时也是医院工会会员。有一天，王大夫接到手术安排的同时也接到了工会主席要求参加一项活动的通知，小王在向直接上司请假后参加了工会的活动
  - D. 某商业集团公司的刘总到公司下属某商场暗访，现场发现一些员工违反公司制度的行为，刘总并没有现场责令员工改进，而是将问题反映给了商场经理
69. 行政主体是指享受行政职权，能以自己的名义行使国家行政职权，作出影响相对人权利义务的行政行为，并能由其本身对外承担行政法律责任的组织。

根据上述定义，下列不是行政主体的是：

- A. 行政机关
  - B. 法律法规授权行使行政管理权的组织
  - C. 江西省人民政府省长
  - D. 行政机关的派出机关
70. 目前主流看法是，导致气候变化的过量碳排放，是在人类生产和消费过程中出现的。“低碳生活”是指要减少导致气候变化的过量碳排放，就要相应优化和约束某些消费和生产活动，倡导较低（或更低）的温室气体（二氧化碳为主的）排放的生活方式。可以简单地理解为：“适度吃、住、行、用，不浪费、多运动。”

根据上述定义，下列哪个行为不属于低碳生活：

- A. 建筑中使用中空玻璃
  - B. 轿车定期更换机油
  - C. 使用一次性纸杯
  - D. 周末，某大学有越来越多的同学步行回家
71. 奋斗：成功
- A. 大雪：封山
  - B. 学习：理解
  - C. 财富：贫困
  - D. 考试：成绩

- 72. 石油：汽油

- A. 铁矿石：钢铁  
B. 木材：家具  
C. 水泥：房屋  
D. 玻璃：窗户
73. 井冈山：红色摇篮  
A. 泰山：日出  
B. 庐山：瀑布  
C. 黄山：险峻  
D. 延安：革命圣地
74. 白居易：在天愿作比翼鸟，在地愿为连理枝  
A. 曾巩：明月不谙离恨苦，斜光到晓穿朱户  
B. 张若虚：春江潮水连海平，海上明月共潮生  
C. 岳飞：莫等闲，白了少年头，空悲切  
D. 王实甫：枯藤老树昏鸦，小桥流水人家，古道西风瘦马
75. 节能：减排：环保  
A. 火药：造纸：四大发明  
B. 起床：步行：上班  
C. 生产：销售：管理  
D. 锻炼：营养：健康
76. 纠纷：诉讼：裁判  
A. 损害：车祸：赔偿  
B. 文学作品：作家：写作  
C. 学习：借鉴：创新  
D. 书籍：撰写：纸张
77. 赣：江西：赣江  
A. 辽：辽河：辽宁  
B. 桂：广西：漓江  
C. 粤：广东：珠江  
D. 湘：湖南：湘江
78. 拱桥 对于 ( ) 相当于 樟树 对于 ( )  
A. 建筑 绿化  
B. 高超 高大  
C. 技艺 生长  
D. 桥梁 树木
79. 寒 对于 ( ) 相当于 叫 对于 ( )  
A. 冷 喊  
B. 冬 唱  
C. 春 吟  
D. 冰 说
80. 糖 对于 ( ) 相当于 汞 对于 ( )  
A. 苦 毒  
B. 核糖 非金属  
C. 咖啡 温度计  
D. 碳水化合物 水银
81. 2008年，我国某“城调队”的一份调查显示，“80后”的已婚青年夫妇中，与父母或岳父母生活在一起的人占该年龄段人口的比例达55%以上；相比“70年代”的已婚青年夫妇，这一比例上升了22%。由此看来，“80后”的已婚青年夫妇更难以承受独立生活的压力。  
上文的结论最可能基于下列哪项假设：  
A. “80后”的青年夫妇更喜欢过二人世界的生活

- B. “80后”的有些青年夫妇不愿意由双方的父母来照顾自己的孩子，所以不愿与双方父母共同生活
- C. “80后”的青年夫妇只要能够独立生活，就不会选择与双方父母共同生活
- D. 有些“80后”的青年夫妇因工作压力大而不想要孩子
82. 公司召开一个重要会议，小张又迟到了。  
公司王经理批评他说：“小张，你为什么又迟到啦？”  
小张解释说：“因为来晚了，所以迟到了。”  
以下哪项陈述正确描述了上文推论中的错误：
- A. 使用了一种原则上既不能证明为真也不能证明为假的前提
- B. 把对一类事物中的个别种类断定为真的结论推广到这类事物的所有种类
- C. 使用了一种强词夺理的说法
- D. 把所需要做出解释的现象本身作为对那种现象的一种解释
83. 大学生在大学里要学习很多知识，小王是一名大学生，所以他学习了很的知识。  
以下哪项论证展示的推理错误与上述论证中的最相似：
- A. 水果中含有各种丰富的维生素，苹果是一种水果，所以苹果中含有丰富的维生素
- B. 所有的老员工都是优秀的，李刚是新来的员工，所以李刚不是优秀员工
- C. 某高校学报的编辑不但要组织和编辑稿件，自己也写了许多学术方面的文章，老郑是该学报的一名编辑，所以他也写过许多学术方面的文章
- D. 这所大学的有些学生学习成绩很好，小赵是这所大学的一名学生，所以她的学习成绩很好
84. 不可能所有的江西人都喜欢吃辣椒。  
以下哪项判断的含义与上述判断最为接近：
- A. 必然有的江西人不喜欢吃辣椒
- B. 可能所有的江西人都喜欢吃辣椒
- C. 必然所有的江西人都喜欢吃辣椒
- D. 可能有的江西人会吃辣椒
85. 所有与甲流患者接触的人都被隔离了，所有被隔离的人都与小王接触过。  
如果以上命题是真的，以下哪个命题也是真的：
- A. 小王是甲流患者
- B. 小王不是非甲流患者
- C. 可能有人没有接触过甲流患者，但接触过小王
- D. 所有甲流患者都与小王接触过
86. 某天五个朋友聚会，其中一个人历数喝酒对身体的危害，并热心地劝告大家戒酒。他逐个询问说：“你现在戒酒了吗？”四个人的回答各不同。  
请根据他们的回答，判断这四个人当中，谁没有违反这个推理隐含的前提：
- A. 我正准备戒酒
- B. 我已经戒酒啦
- C. 我从来不喝酒
- D. 我特别喜欢喝酒
87. 十六世纪英国市场上流通的是金属铸币，时间长了，人们发现足值与不足值的铸币可以一样使用，于是，人们就把成色好的足值货币（良币）储藏起来，而把不足值的货币（劣币）赶紧花出去，结果，劣币把良



币赶出了市场。这就是格雷欣法则，是一种“优败劣胜”的自然与社会现象。

以下哪种现象如果为真，最符合以上的结论：

- A. 猴群中强者为王
- B. 山寨手机在手机市场上流行一时
- C. 优秀的文学作品大多是能够广为流传的
- D. 学校里品学兼优的学生总是容易脱颖而出

88. 人类从诞生之日起就在与疾病作斗争，各种疾病中最容易让人产生恐慌的是大范围传染性疾。短短几年来，人们充分见识了重大疫情的威胁。特别是这次甲型H1N1流感疫情，蔓延速度之快，范围之广，令人吃惊，这不能不引起人们的警觉。所以说，人类与传染病斗争未有穷期。

以下哪项如果为真，最不支持以上的结论：

- A. 新发传染病大都是病毒感染所致，抗生素对新的传染病基本无效
- B. 病毒越来越具有隐蔽性
- C. 病毒为了生存会不断变异
- D. 人定胜天，历史上曾有过的多次灾难性疾病最终都被人类打败了

89. 三个好朋友“五一”节准备外出游玩，他们对出行方式的态度如下：

王某要坐车，什么车都可以；

李某可以不坐车，要坐就坐公交车；

张某可以不坐车，要坐就坐出租车。

如果他们根据自己的态度，对以下意见表示自己的看法：不坐车，坐公交车，坐出租车。

根据以上资料，以下哪项是不可能成立的：

- A. 有一个人同意全部意见
- B. 每个意见至少有两个人同意
- C. 王某和李某都同意坐公交车
- D. 张某同意不坐车和坐出租车

90. 有一些经济学家认为，加速城市化，以城市化为杠杆，撬动内需增长，不失为一个应对金融危机的积极选择。并提出可以借鉴的“破窗理论”：当一扇窗户被打破以后，主人自然要购置新玻璃，这就是间接促进了玻璃厂的扩大再生产，从而拉动了经济发展。因此说，城市化是加速经济发展的一项积极举措。

以下哪项如果为真，最能质疑上述的理论和观点：

- A. 有官员声称，中央出台刺激经济政策，我们应该抓住机遇，加快推进城市建设
- B. 有学者论证，只有加速城市化，才能使中国经济摆脱长期陷于谷底的状态
- C. 有市民认为，仅仅加速城市建设不是提升老百姓消费水平的好办法
- D. 有开发商认为，城市化就应该加速房地产开发

## 第四部分 资料分析

针对下列图、表或文字回答问题。你应根据资料提供的信息进行分析、比较、计算、处理。你可以在题本上

运算。

国家工商总局公布的数据显示，2009年第一季度，全国工商行政管理机关共查处各类违法违章案件68202件，同比下降29.98%；其中立案查处案件49654件，同比下降32.26%，案件总值33.57亿元，同比下降21.26%，罚没金额3.33亿元，同比下降39.49%。

从违法法规看，违法企业登记管理法规案件9216件，同比下降38.54%；违反产品质量法规案件6760件，同比下降27.51%；违反反不正当竞争法规案件4944件，同比增长6.51%；违反商标法规案件4119件，同比下降21.93%；违反广告法规案件2141件，同比下降24.27%；违反消费者权益保护法规定案件1644件，下降13.66%；违反合同法规案件156件，同比下降57.02%。

从违法主体看，在立案查处的案件中，个体工商户案件22142件，同比下降22.73%；自然人案件12472件，同比下降49.04%；公司案件6521件，同比下降21.73%，私营企业案件3975件，同比下降22.27%；集体企业案件728件，同比下降45.26%。

91. 若保持同比下降率不变，预计2010年第一季度全国立案查处案件数将：

- A. 接近4.8万                      B. 接近3.4万                      C. 接近1.6万                      D. 接近2.1万

92. 2009年第一季度，违反产品质量法规案件减少量是违反商标法规案件减少量的几倍？

- A. 1.25                                B. 1.56                                C. 1.77                                D. 2.22

93. 2009年第一季度，各类违法主体占立案查处案件比重的最高值与最低值相差多少？

- A. 43.13%                            B. 36.62%                            C. 31.40%                            D. 26.67%

94. 下列说法与资料相符的有几个：

- (1) 2009年第一季度，罚没金额同比下降率大于案件总值同比下降率  
(2) 2008年第一季度，违反合同法规案件为353件  
(3) 2009年第一季度，公司案件数大于私营企业案件与集体企业案件数之和

- A. 0                                      B. 1                                      C. 2                                      D. 3

95. 根据上述资料，以下描述不正确的是：

- A. 2009年第一季度，自然人案件与集体企业案件同比下降均超过40%  
B. 2009年第一季度，违反广告法规案件占各类违法违章案件的比重为3.14%  
C. 2009年第一季度，违反各类法规案件与去年同期相比均有下降  
D. 2009年第一季度，违反不正当竞争法规案件数量大约是违反消费者权益保护法规案件数量的3倍

style="text-align: center;">">

2008年江西省各设区市普通中学分布情况表

地区	学校数(个)		毕业生数(人)		招生数(人)		在校学生数(人)	
	初中	高中	初中	高中	初中	高中	初中	高中
全省	2083	540	600680	286828	668121	278606	1744883	821981
南昌市	181	87	47482	74553	74553	26809	209567	78089
景德镇	78	28	24988	23007	23007	10333	54663	29470
萍乡市	91	22	13551	26689	26689	7496	70087	33300
九江市	356	67	68666	40160	68834	37493	179423	109059
新余市	32	16	13265	8372	12344	7776	30022	23240
鹰潭市	58	13	18063	8007	13185	7392	39768	22733
赣州市	380	74	131001	48442	125211	55439	293319	155709
吉安市	249	58	65675	27463	65805	31962	194517	90555
宜春市	211	42	73153	29307	82453	32252	196696	87152
抚州市	182	35	47893	29831	58480	23825	164501	73464
上饶市	364	98	96943	41482	117560	37829	312320	119213

96. 2008年宜春市高中招生数占全省高中招生人数的比重为:  
 A. 8.55%                      B. 11.47%                      C. 11.58%                      D. 12.34%
97. 下列各设区市中, 2008年校均高中毕业生数量最少的是:  
 A. 南昌                      B. 鹰潭                      C. 新余                      D. 吉安
98. 2008年赣州市初中招生人数是抚州市和景德镇两市初中招生数总和的多少倍?  
 A. 1.47                      B. 1.54                      C. 2.14                      D. 5.44
99. 2008年初中和高中在校学生均高于全省平均水平的设区市有几个?  
 A. 6                      B. 5                      C. 4                      D. 3
100. 能够从上述资料中推出的是:  
 A. 2008年上饶市初中和高中学校数在全省都是最多的  
 B. 2008年赣州市初中毕业生数占全省初中毕业生数的比重超过25%  
 C. 2008年抚州高中招生数高于萍乡市、新余市和鹰潭市高中招生数之和  
 D. 2008年初中在校学生数最多与最少的设区市, 与高中在校学生数最多与最少的设区市相同

style="text-align:center">

### 2009年上半年中部地区主要经济指标

地区\指标	国民生产总值 (亿元)	地方财政收入 (亿元)	城镇固定资产投资 (亿元)	城镇居民人均可支配 收入(元)
河南	8962.80	589.93	4691.52	7428.62
山西	3105.99	464.26	1437.49	6858.54
安徽	4512.90	419.20	3752.60	7133.80
江西	2907.80	295.10	2182.71	6922.00
湖北	5378.05	398.33	3334.80	7470.00
湖南	5350.21	722.81	2689.15	7748.70

图1:2009年上半年中部地区国民生产总值增长率

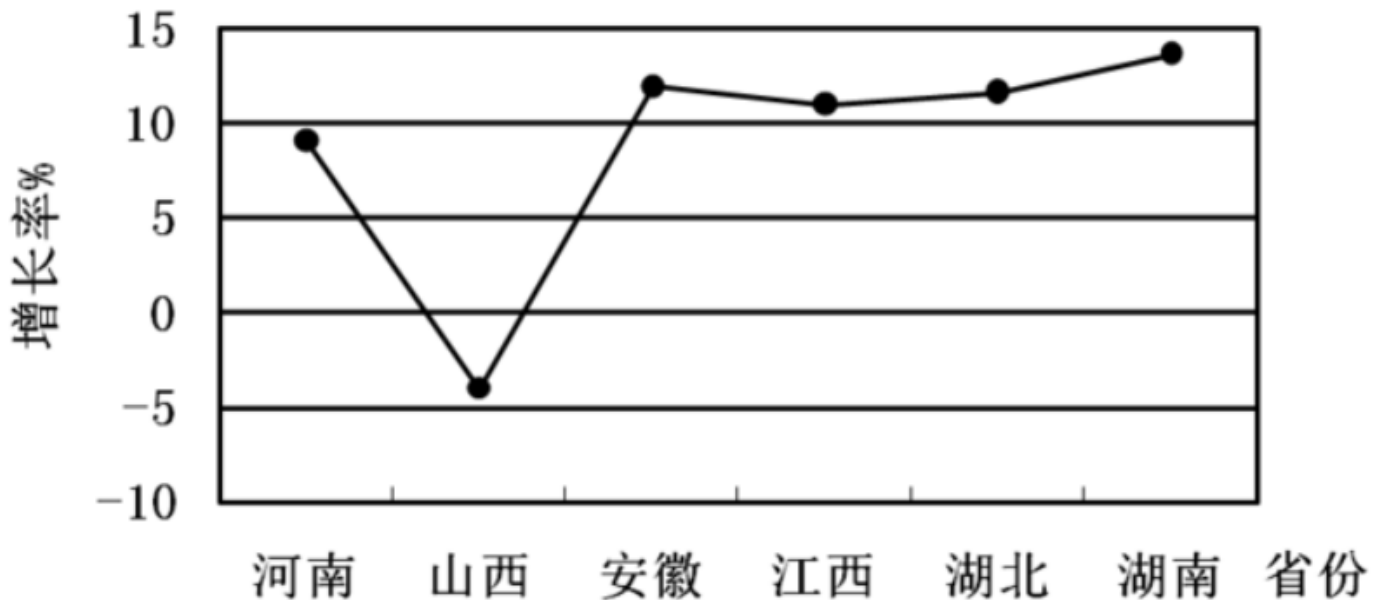
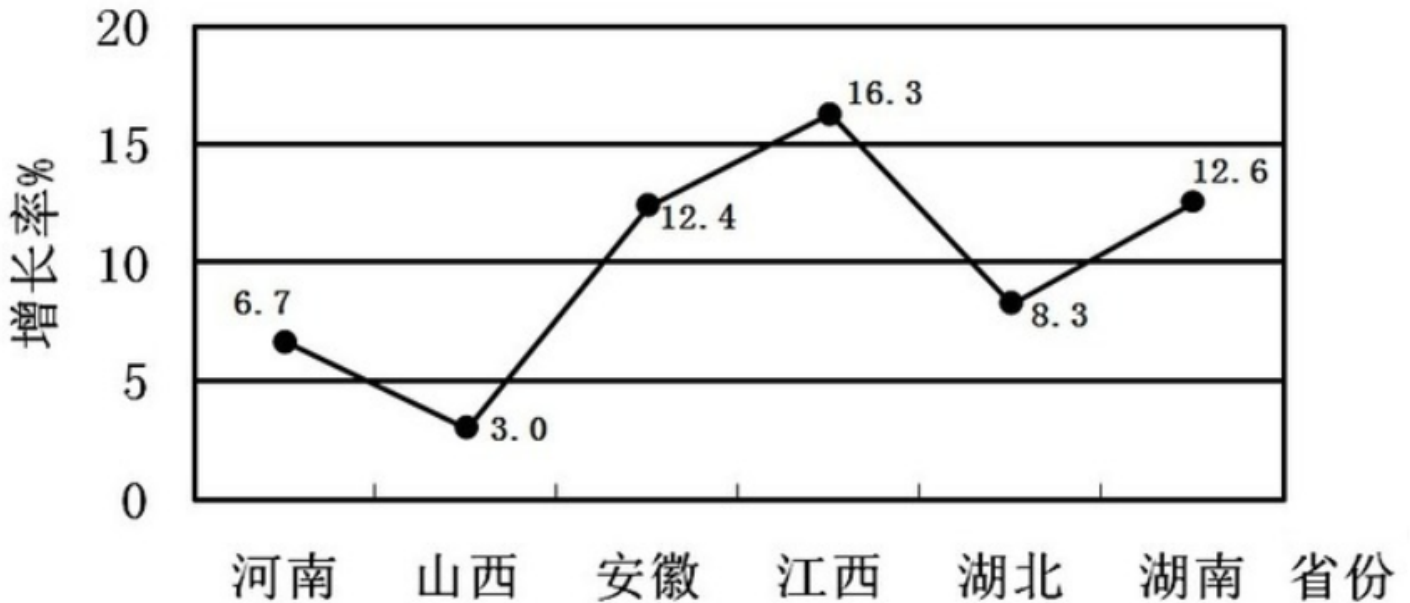


图2:2009年上半年中部地区地方财政收入增长率

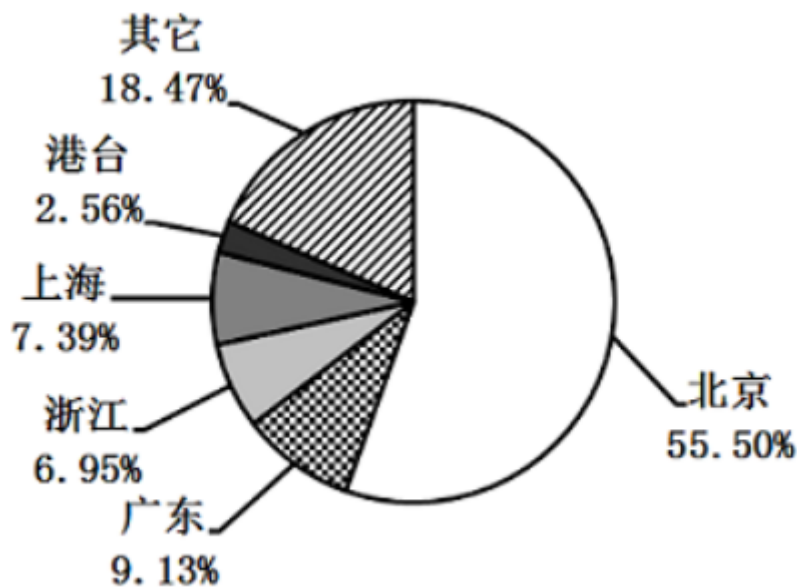
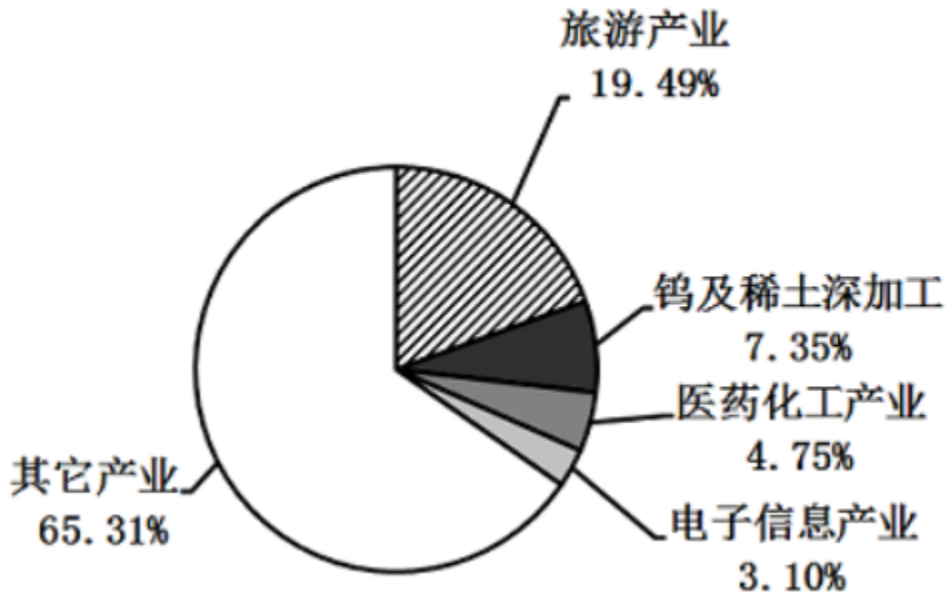


101. 2009年上半年, 江西国民生产总值增长率在中部地区排名第几?  
 A. 第二                      B. 第三                      C. 第四                      D. 第五
102. 2008年上半年, 地方财政收入位居中部地区第二和第三的省份分别是:  
 A. 湖南和安徽              B. 河南和山西              C. 山西和安徽              D. 山西和湖南
103. 2009年上半年, 城镇固定资产投资和城镇居民人均可支配收入均居同一位的省份有几个?  
 A. 0                              B. 1                              C. 2                              D. 3
104. 2009年上半年, 国民生产总值排名与国民生产总值增长率排名差距最大的省份是:  
 A. 河南                          B. 安徽                          C. 江西                          D. 湖南
105. 能够从上述资料推出的是:  
 A. 湖北国民生产总值大于山西和江西国民生产总值之和  
 B. 河南城镇居民人均可支配收入高于湖北城镇居民人均可支配收入  
 C. 在这六个经济指标中, 湖北有三个指标排名高于湖南  
 D. 山西国民生产总值增长率为负, 且地方财政收入增长率排名中部第六

2009年11月, 首届世界低碳与生态经济大会技术博览会在江西南昌召开, 在这次大会上, 江西共签约项目143个, 总投资为1045.95亿元, 先后分三次签约; 第一次, 与23家央企签约37个合作项目, 项目总投资为519.1亿元; 第二次, 九江市人民政府与中信集团签订旅游基础设施投资框架协议, 项目总投资为120亿元; 第三次, 签约合同项目105个, 项目总投资为407.85亿元。

从签约项目主要领域来看, 旅游产业项目14个, 占9.79%; 钨及稀土深加工产业项目4个, 占2.82%; 医药化工产业项目14个, 占9.79%; 电子信息产业项目12个, 占8.39%。

在签约项目中，与京、浙、沪粤等省市(地区)签署的项目和投资总额较多，签约项目投资较多的省市(地区)为：北京34个，占23.77%；广东省25个，占17.48%；浙江省17个，占11.89%；上海市6个，占4.2%；港台地区合作项目数10个，占6.99%。



106. 第一次签约项目投资额占总投资额的比重为：

- A. 25.87%                      B. 38.96%                      C. 49.58%                      D. 61.04%

107. 在签约项目中，医药化工产业项目投资额为多少亿元？

- A. 32.46                          B. 49.73                          C. 76.95                          D. 102.50

108. 在签约项目主要领域中，项目投资额占总投资额比重最多的两个产业的项目数之差为：

- A. 0个                              B. 2个                              C. 9个                              D. 10个

109. 在签约地区中，签约项目数最多的两个省市（地区）的项目投资和为多少亿元？

- A. 288.96                      B. 431.87                      C. 676.64                      D. 774.43

110. 能够从上述资料中推出的是:

- A. 这次大会签约项目平均投资额超过8亿元  
B. 旅游产业签约项目数小于电子信息产业签约项目数  
C. 钨及稀土深加工产业投资额所占比重小于医药化工产业项目数所占比重  
D. 在签约省市(地区)中, 签约项目数所占比重小于签约投资额所占比重的省市(地区)有3个

## 第五部分 常识判断

根据题目要求, 在四个选项中选出一个最恰当的答案。

111. 为加快江西发展, 我省提出了构建鄱阳湖生态经济区的发展战略。以下哪一个城市没有纳入鄱阳湖生态经济区:

- A. 南昌                      B. 九江                      C. 景德镇                      D. 赣州

112. 江西被称为“红色摇篮”, 这里有中国革命的摇篮、共和国的摇篮、人民军队的摇篮, 其中被称为共和国摇篮的是:

- A. 南昌                      B. 安源                      C. 瑞金                      D. 井冈山

113. 以下关于中部六省的描述, 不正确的是:

- A. 安徽率先在全国掀起家庭联产承包责任制  
B. 湖北率先建立全国第一个小商品批发市场  
C. 河南率先在全国完成集体林权制度改革  
D. 湖南、湖北率先建设国家“两型社会”综合配套改革试验区

114. 俗话说“三个和尚没水喝”, 这说明的是人浮于事, 但如果“三个和尚”都很负责, 结果也许会造成水满为患, 这两种不同的说法表明:

- A. 管理工作的有效性需要考虑内部环境各部分的整体效应  
B. 即使管理无方, 人多还是比人少好办事  
C. 纵使管理有方, 也不一定是人多好办事  
D. 在不同的心态作用下会产生不同的群体合作结果

115. 江西素有物华天宝、人杰地灵的美誉, 这里人文荟萃, 人才辈出, 唐宋八大家中江西就有三人, 下面不属于这三人作品的是:

- A. 《墨池记》                      B. 《牡丹亭》  
C. 《醉翁亭记》                      D. 《答司马谏议书》

116. 下列不属于积极财政政策措施的是:

- A. 减少税收, 降低税率, 扩大减免税范围

- B. 增加财政补贴  
C. 扩大财政支出  
D. 放松信贷控制
117. 以下哪个行业不属于周期性行业：  
A. 钢铁                      B. 煤炭                      C. 有色金属                      D. 商业连锁
118. 近亲结婚对后代的影响是：  
A. 遗传病连代传递                      B. 产生交叉遗传  
C. 增加隐性遗传病的发病率                      D. 出现返祖现象
119. 在下列太阳系行星中，距太阳最近的是：  
A. 水星                      B. 地球                      C. 火星                      D. 土星
120. 中国的英文名称“CHINA”的小写就是“瓷器”的意思，“CHINA”的英文发音源自景德镇的历史名称“昌南”，并以此突出景德镇瓷器在世界上的影响和地位。  
以下不属于景德镇四大传统名瓷的是：  
A. 青花                      B. 白瓷                      C. 玲珑                      D. 粉彩
121. 目前，我国采用三角形符号作为塑料回收标志，一般标在塑料瓶底。三角形标志里面的数字表示该塑料瓶是否可以循环使用。当数字大于等于\_\_\_\_\_时表示该塑料瓶可以循环使用。  
A. 5                      B. 4                      C. 3                      D. 2
122. 1928年来，红军以不足一个营的兵力，打退了敌人四个团的进攻，保卫了井冈山。为此，毛泽东写下了《西江月·井冈山》，这次战斗发生的地方是：  
A. 茨坪                      B. 黄洋界                      C. 笔架山                      D. 桐木岭
123. 下列选项中属于辩证法观点的是：  
A. “人的感官是人认识外界事物的天然屏障”  
B. “存在就是被感知”  
C. “人不能两次踏进一条河流”  
D. “人一次也不能踏进同一条河流”
124. 自古以来，中国人就有饮茶的习惯，国内较早关于茶叶的研究来自唐代陆羽的《茶经》，茶叶按其制作工艺可以分为不发酵、半发酵和完全发酵茶。  
以下属于半发酵茶的是：  
A. 西湖龙井茶                      B. 庐山云雾茶  
C. 福建安溪铁观音                      D. 安徽祁门红茶
125. 如果某公司中小道消息很多，正式沟通渠道的消息较少，这意味着该公司：  
A. 正式沟通渠道中信息传递存在问题，需要调整  
B. 非正式沟通渠道中信息传递很通畅，运作良好  
C. 充分运用了非正式沟通渠道的作用，促进了信息的传递  
D. 其中有部分人特别喜欢在背后乱发议论，传递小道消息



126. 下列国家公务员中属于领导职位的是：
- A. 调研员                      B. 巡视员                      C. 主任科员                      D. 副乡长
127. 甲因不服工商行政管理机关行政处罚决定向上级机关申请复议，要求撤销处罚决定，但没有提出赔偿请求。复议机关经审查认为该处罚决定违法，决定予以撤销。对于处罚决定造成的财产损失，复议机关正确的做法是什么：
- A. 解除查封的同时决定被申请人赔偿相应的损失  
B. 解除查封并告知申请人就赔偿问题另行申请复议  
C. 解除查封的同时就损失问题进行调解  
D. 解除查封的同时要求申请人增加关于赔偿的复议申请
128. 下列哪项职权不是全国人大常委会的职权：
- A. 解释宪法，监督宪法的实施  
B. 制定和修改基本法律  
C. 废除同外国缔结的条约和重要协定  
D. 撤销国务院制定的同宪法、法律相抵触的行政法规、决定和命令
129. 陈某、王某结婚后购得房屋一套，仅以陈某的名义进行了登记，后陈某独自将房屋以市价出售给不知情的丙，并办理了房屋所有权变更登记手续，对此，下列哪一选项是正确的？
- A. 买卖合同有效，房屋所有权未转移                      B. 买卖合同无效，房屋所有权已转移  
C. 买卖合同有效，房屋所有权已转移                      D. 买卖合同无效，房屋所有权未转移
130. 王某潜入某工厂仓库盗窃，将仓库货物（价值2万元）扔到院墙外，准备一会儿翻墙出去再捡，偶尔经过此处的刘某发现该货物无人看管，遂将其拿走，据为己有。10分钟后，王某来到院墙外，发现货物已无踪影。对王某、刘某的行为定性，下列哪一选项是正确的：
- A. 王某成立盗窃罪（未遂），刘某成立盗窃罪（既遂）  
B. 王某和刘某成立盗窃罪共犯（既遂）  
C. 王某成立盗窃罪（既遂），刘某成立侵占罪  
D. 王某成立盗窃罪（未遂），刘某成立侵占罪
131. 由于某化肥厂长期排污，该地域内两个村庄几年来多人患有罕见的严重疾病，根据《环境保护法》的规定，下列哪一选项是错误的：
- A. 受害村民有权对该厂提起民事诉讼  
B. 因环境污染引起的民事诉讼时效为3年  
C. 环境污染民事责任的归责原则实行公平责任原则  
D. 本案由化肥厂承担其排污行为和损害结果之间是否存在因果关系的举证责任
132. 某小区已建有A大型超市，为满足需要，某市人民政府拟在该小区内再建一所超市，甲公司和乙公司先后向某市人民政府提出申请，甲公司获批准。下列哪一种说法是正确的：
- A. A超市有权对某市人民政府批准再建超市的决定提起行政诉讼

- B. 乙公司有权对某市人民政府批准甲公司申请的行为提起行政诉讼
- C. 某市人民政府按照甲公司和乙公司申请的先后顺序作出批准决定是不合法的
- D. 某市人民政府必须在受理甲公司和乙公司的申请之日起20日内作出批准与否的决定
133. 出租车司机王某送危重病人李某去医院，情形危急，为争取时间，王某连闯三个红灯，被交警拦截并被告知罚款，经王某解释，交警对王某未给予处罚且为其开警车引道，将李某及时送至医院。对此事件，下列哪一项表述是正确的：
- A. 在此交通违章的处理中，进行了法的不同价值关系的判断选择
- B. 警察对违章与否的解释属于法律解释
- C. 在此交通违章的处理中，交警主要使用了演绎逻辑的推理方法
- D. 此事件所反映出的法的价值之间没有冲突
134. 甲以个人名义向乙独资设立的腾飞有限公司借款8万元，借期2年，不久，甲与丙登记结婚，将借款8万元用于购买新房和家电，婚后1年，甲与丙协议离婚，未对债务的偿还作出约定。下列哪一项是正确的：
- A. 由乙向甲请求偿还8万元
- B. 由乙向甲和丙请求偿还8万元
- C. 腾飞公司只能向甲请求偿还8万元
- D. 由腾飞公司向甲和丙请求偿还8万元
135. 高某无证经营被区工商局罚款300元，高某不服申请复议，复议机关市工商局决定罚款600元，后经确认，区工商局所作的罚款行政处罚违反法律，下列说法正确的是：
- A. 高某可以请求区工商局赔偿600元
- B. 高某可以请求市工商局赔偿600元
- C. 高某既可以请求区工商局赔偿600元，又可以请求市工商局赔偿600元
- D. 高某可以请求区工商局赔偿300元，市工商局赔偿300元

扫一扫，对答案

