

2011年广州行测真题

真题更新时间：2023年06月05日23:31:01

扫描下方二维码下载小麦公考APP 刷海量题库掌握最新热点



QQ扫码直接下载

微信扫码到应用市场下载

支持所有机型哦

第一部分 常识判断

根据题目要求，在四个选项中选出一个最恰当的答案。

- 2010年7月20日，我国境内从西藏——云南交界地由西往东直到上海上演百年难遇的日全食。在观赏日全食时，“初亏”、“食既”、“食甚”、“生光”、“复圆”是最重要的几个时间，当武汉处于“生光”阶段时，（ ）很可能正处于“食甚”阶段。
A. 包头 B. 重庆 C. 合肥 D. 贵阳
- 20世纪90年代后期以来，几乎每年春季和夏季太湖都会有蓝藻大量生长繁殖。水体的富营养化是蓝藻爆发的主要原因。太湖水富营养化主要是（ ）元素含量过高导致的。
A. 氮 B. 磷 C. 钠 D. 碳
- 改革开放以来，我国经济在总体上迅速发展，取得举世瞩目成就的同时，发展不平衡问题也逐渐突出。城乡发展差距较大，区域发展差距明显，社会事业等发展相对滞后。对此，我们的正确认识是：
①经济社会发展是一个螺旋式前进的过程，平衡是相对的，而不平衡是绝对的
②经济社会系统存在一定程度的不平衡，有利于保持竞争的压力与活力，打破平均主义，促进生产要素的合理流动和优化配置
③不平衡问题如果长期持续，会使国民经济难以保持平稳较快发展，使整个社会产生心理鸿沟，削弱社会的凝聚力和向心力
④解决发展不平衡问题，根本要靠充分发挥地方优势
A. 只有②④ B. 只有①②③ C. 只有②③ D. ①②③④均是
- 《红楼梦》第九十一回中有“任凭弱水三千，我只取一瓢饮。”此语后广为传诵，用来借指“纵然可爱众多，我只钟情一人”。以下为“弱水”出处之一的是：
A. 峨眉 B. 岱宗 C. 昆仑 D. 终南
- 周邦彦《少年游》中有名句：“并刀如水，吴盐胜雪，纤手破新橙。”其中“并刀”的产地在今天的：
A. 开封 B. 西安 C. 洛阳 D. 太原
- 陆游《临安春雨初霁》中的诗句“小楼一夜听春雨，深巷明朝卖杏花”描写的场景是农历的：
A. 二月 B. 五月 C. 四月 D. 三月
- 近年来，我国城市房价居高不下。高房价已经成为人们生活中“不可承受之重”，不但直接造成普通群众买房难，而且还：
①造成背离经济发展基础的“虚假繁荣”
②使内需增长面临长期抑制
③阻碍中国城镇化进程
④影响社会公平
A. 只有①② B. 只有②③④ C. 只有③④ D. ①②③④均是
- 某甲故意在某乙家的狗旁边鸣笛，致使拴在门边的狗受惊后挣脱锁链，冲出去咬伤了行人某丙，则：
A. 某丙只能要求某甲承担赔偿责任
B. 某丙既可以要求某甲承担赔偿责任，也可以要求某乙承担赔偿责任
C. 某丙只能要求某乙承担赔偿责任
D. 某甲、某乙对某丙的损失承担连带赔偿责任
- 张家有甲、乙、丙三兄弟，甲幼年时被送给赵某作养子。甲结婚时，赵某为其盖了新房，后因失火导

- 致该房屋被烧毁。甲的生母就将其住房腾出一间让甲夫妇及赵某居住。不久，甲的生母病故，对于甲的生母的遗产，有继承权的是：
- A. 乙和丙
B. 甲、乙和丙
C. 乙、丙和赵某
D. 甲、乙、丙和赵某
10. “我现在指挥着这艘巨轮，船上装载着从世界各地运来的珍贵货物，这些东西我从来没有卖过。风也助我一臂之力吧，不管是港口还是海港，我最大的愿望就是能在上面自由奔跑。”说这段话的船长是：
- A. 哥伦布
B. 郑和
C. 诺亚
D. 麦哲伦
11. 很多机构对员工的培训十分重视，每年投入大量人力、物力和资金，但也有不少机构在此方面甚少投入。对于一个机构来说，在培训上的投入实际上属于：
- A. 费用
B. 投资
C. 福利
D. 利润
12. 通过以下诗句可以大致推算出地球半径的是：
- A. 坐地日行八万里
B. 扶摇直上九万里
C. 雪夜独钓万里船
D. 千里江陵一日还
13. 下列观点不属于同一思想流派的是：
- A. 君子和而不同
B. 修身齐家治国平天下
C. 知行合一
D. 利万物而不争
14. 下列事件或典故发生的背景按时间的先后正确排序的是：
- A. 《兰亭集序》——交子——“一条鞭法”——三藩之乱
B. 武王伐纣——玄武门之变——胡服骑射——扬州十日
C. 虽远必诛——约法三章——赤壁之战——杯酒释兵权
D. 《史记》——“四库全书”——《资治通鉴》——“二十四史”
15. 小马为一次重要的演讲精心准备并演练了近百次，最后一次甚至堪称完美。他告诉自己演讲时要声音洪亮、面带微笑、吐字清晰、语速适中。可是正式演讲那一刻，他的脑子突然一片空白，所有的准备都化为乌有。根据以上场景，以下描述正确的是：
- A. 当我们熟练掌握某项技能后，大脑就接管了该技能的应用
B. 压力环境会阻碍小脑的任务处理过程
C. 小脑皮层是负责学习和有意识思考的脑区
D. 处理复杂运动的小脑是不受意识控制的

第二部分 言语理解与表达

本部分包括表达与理解两方面的内容。请根据题目要求，在四个选项中选出一个最恰当的答案。

16. 填入横线处的词语，最恰当的是：
小邱到上海已经六个多月了，参加了大大小小招聘会几十次，面试不计其数，却_____，沮丧之余他决定静下心来认真总结一下经验与教训。
- A. 屡试不爽
B. 屡战屡败
C. 战无不胜
D. 屡败屡战
17. 依次填入下面文字横线处的词语，最恰当的是：
事实证明，中华文化的遗传并没有因为追逐GDP而变异或者_____，反而越来越_____文化基因在大事

件中的力量，并且成为对待相异形态的方法论。

- A. 衰退 显现
- B. 衰退 凸显
- C. 式微 显现
- D. 式微 凸显

18. 依次填入下面文字横线处的词语，最恰当的是：

历史经验证明，全球性的经济危机往往会_____突破性的科技创新成果，进而_____技术革命。

- A. 带来 形成
- B. 导致 引起
- C. 催生 引发
- D. 促成 产生

19. 依次填入下面文字横线处的词语，最恰当的是：

作为苹果公司的前设计主管，布兰纳最得意之作可能不是任何一款电脑，而是乔纳森·艾维——那个造就了苹果传奇、掀起iPad旋风的天才设计师。布兰纳曾开玩笑说：“将来我的墓志铭就这样写：挖到了乔纳森·艾维。”布兰纳显然是在以伯乐_____，但这句调侃的话却毫不过分地_____了他的继任者的_____。

- A. 自居 表扬 成就
- B. 标榜 表扬 成就
- C. 自居 体现 价值
- D. 标榜 体现 价值

20. 依次填入下面文字横线处的词语，最恰当的一组是：

要接受并欣赏一种艺术，需要相当长的一个过程，那就是需要逐渐地去_____，去_____，去_____，去_____，这样，才能培养起对它的兴趣和爱好。

- A. 熟悉 适应 理解 习惯
- B. 熟悉 适应 习惯 理解
- C. 适应 熟悉 习惯 理解
- D. 理解 熟悉 适应 习惯

21. 依次填入下面文字横线处的词语，最恰当的一组是：

在基本事实已经足够清楚的情况下，有必要对此次风波进行梳理。_____，动用如此众多的公众舆论资源聚焦于几株树木的枯荣，_____因为木棉是广州这座城市的市花，_____因为它已然是人们将其视作历史与城市风格的某种图腾，_____希望可以藉由个案为之后的城市决策、管理乃至理念与思路，提供可资借鉴的方面，于教训之余_____有些许裨益。

- A. 毕竟 不仅 也不仅 而是 或
- B. 因为 不仅 而是 所以 也
- C. 然而 不但 而且 还 或
- D. 其实 不但 而是 或许 也

22. 依次填入下面文字横线处的词语，最恰当的是：

我们深知，前进的道路上还会遇到这样或那样的矛盾和问题，_____我们对发展前景充满信心。_____我们已经开辟了中国特色社会主义发展道路，形成了中国特色社会主义理论体系。_____我们坚定不移地沿着这条道路走下去，_____一定能够把中国建设成为富强、民主、文明和谐的社会主义现代化国家。

- A. 尽管 但是 一旦 就

- B. 尽管 哪怕 因为 所以
C. 但是 哪怕 即便 也
D. 但是 因为 只要 就

23. 依次填入下面文字横线处的词语，最恰当的是：

下棋不能无争，争的范围有大有小，有_____而因小失大者，有不拘小节而_____者，有_____作生死斗者，有各自为战而_____者，有赶尽杀绝一步不让者，有好勇斗狠同归于尽者。

- A. 斤斤计较 眼观全局 短兵相接 旗鼓相当
B. 步步为营 高瞻远瞩 短兵相接 不相伯仲
C. 斤斤计较 高瞻远瞩 刀兵相见 不相伯仲
D. 步步为营 眼观全局 刀兵相见 旗鼓相当

24. 依次填入下面文字横线处的词语，最恰当的是：

如今社会上的骗子骗术不断升级，为了这些行骗的手段他们可谓是_____，花样百出，使得老百姓_____。因此，为提高大家的防范意识和增强辨别能力，政府广开宣传渠道是_____的大事。

- A. 殚精竭虑 防不胜防 迫不及待
B. 殚精竭虑 谈虎色变 迫不及待
C. 挖空心思 防不胜防 刻不容缓
D. 挖空心思 谈虎色变 刻不容缓

25. 依次填入下面文字横线处的词语，最恰当的一组是：

有些孩子并不是天生的捣蛋鬼，他们的性格有_____，可能是因为环境的影响。只要_____，再“坏”的孩子都会变好。

- A. 问题 合理引导
B. 偏差 认真教导
C. 问题 教育得当
D. 偏差 循循善诱

26. 中东的民主化是一个表面的形式，要整合成稳定的民主是极为困难的事情。平时我们所理解的民主化，往往是推翻某一个派别或个人的专制统治，但其实推翻专制之后的民主化进程是更艰难得多的。中东多数国家不同于日本、韩国这样的单一民族国家，人们往往难以理解中东国家政治进程是多么复杂。

关于这段文字，以下理解有误的是：

- A. 平时我们所理解的民主化过于狭窄化
B. 中东多数国家并不是单一民族国家
C. 人们对中东国家政治进程想象得太简单
D. 单一民族国家民主化进程比多民族国家顺利

27. 中国有许多文学作品传世至今经久不衰，这与几千年文化铸就的百姓心中的“格式塔”是深深关联的，即使是悲剧也要想方设法找到一个美满的结局。也因此可以看出中国文化的主流是文学的，文学所描绘出的天堂生活、人间仙境虽遥不可及却深深扎根在百姓的生活中——期待明天会更美好。

对这段话中“格式塔”的理解，以下最准确的是：

- A. 文学作品中的美满结局 B. 文学所描绘的天堂生活、人间仙境
C. 对理想生活的美好想象与向往 D. 把悲剧转化为美满结局的偏好

28. 成本决定了绿色燃料的发展速度。它最大的竞争对手石油工业在经历了100多年的深入研究和发后正处于全盛时期，目前运营的大部分石油冶炼厂都已实现收支平衡。而生物质燃料工厂仍需要上亿美元的前期投

资，在计算绿色燃料的价格时，这部分成本也必须考虑在内。

对这段话主旨概括最准确的是：

- A. 计算绿色燃料价格，需考虑前期投资成本
- B. 相对于传统的石油，发展绿色燃料的成本处于劣势
- C. 石油是绿色燃料发展的最大竞争对手
- D. 石油正处于全盛时期，其他燃料无法与其相比

29. 通常来说，第一产业对就业表现为一种剩余劳动力“蓄水池”作用，虽然表面能吸纳大量劳动力，但实际上有效吸纳能力有限；第二、三产业是吸纳劳动力的主要产业，在同样的经济规模下（即同样的GDP），第二、三产业尤其是第三产业比例越高，则某区域的劳动力人口承载力越大。

这段文字主要说明：

- A. 第一产业有效吸纳劳动力的能力有限
 - B. 区域产业结构不同，劳动力人口承载力也存在差别
 - C. 第二、三产业是吸纳劳动力的主要产业，应该重点发展
 - D. 经济规模对劳动力人口承载力有很大影响
30. 在未来相当长一段时间内，以人均GDP为主要衡量指标的中国经济发展水平，要赶上西方发达国家依然存在一定难度。那么，现在的问题是，中国是否只有达到与西方发达国家同样的发展水平时才具备建立覆盖社会全体成员的基本社会保障制度的条件？答案如果是肯定的，则意味着在未来相当长的时间内，中国还不能建立起覆盖社会全体成员的社会保障制度，而这显然不符合发展的要求。

作者通过这段话想表达的观点是：

- A. 中国经济发展水平要赶上西方发达国家存在一定难度
 - B. 中国尚不具备建立覆盖社会全体成员的基本社会保障制度的条件
 - C. 覆盖社会全体成员的社保制度不能等到中国赶上西方发达国家发展水平才建立
 - D. 中国在未来相当长的时间内还不能建立起覆盖社会全体成员的社会保障制度
31. 后世学者常常将1917年的“十月革命”和1919年“五四运动”联系在一起探究，却很少有人观察到几乎同时发生的印度“非暴力不合作运动”。事实上，1919年的中国思想界同时受到了来自南北两大社会思潮的夹击式影响，至少在经济领域，保守的企业家阶层的选择与甘地的非暴力主张很可参照。

作者写作这段文字意在指出：

- A. “十月革命”和“五四运动”的联系紧密
 - B. 学者忽视了印度“非暴力不合作运动”对1919年中国思想界的影响
 - C. “五四运动”前后，保守的企业家阶层的选择受到甘地主张的影响
 - D. “五四运动”前后的中国思想界受到了俄国和印度两大思潮的影响
32. 农村文化是一套处境化的生产和生活经验体系，它由该社会的生产和生活条件所决定，无论如何“先进的”文化从外面输入到这样的社会也是脱离实际的。

对这段话中“处境化”含义的理解，以下最准确的是：

- A. 与农村各地生产、生活经验相适应的
 - B. 适应农村实际发展变化的
 - C. 与当地农村社会实际相联系、相融合的
 - D. 与先进文化发展相适应的
33. 把核能看成可持续性资源，可能会很困难。与其他替代资源不同，核能长期为环境保护主义者所厌恶，主要是因为放射性废物储存问题。但是，核反应堆也是高效的电力之源，不排放任何污染气体，并且，就某

些类型的反应堆而言，其设计能使废料减少到最低限度，基本能够防止反应堆熔毁。

关于这段文字，以下理解有误的是：

- A. 核能很难被看成是一种可持续性资源
 - B. 一些类型的反应堆，基本能防止反应堆熔毁
 - C. 核反应堆不排放任何污染废料和气体
 - D. 核反应堆是高效的电力之源，并且某些反应堆的设计已经得到改进
34. 法律的发展与社会的变迁紧密相关，这其中也包含着另外一重意思，即法律的生命在于影响政治、改造社会。法律与政治两者之间具有先天的联系。经典的法学家其实都是政治哲学家。他们从来都没有孤零零地谈论法律。他们关于法与法律的见解往往是在对非法律问题的探究中引申出来的。

关于这段文字，以下说法正确的是：

- A. 孤零零地探讨法与法律问题不能得出关于法与法律的有益见解
 - B. 探讨法律问题必须紧密联系社会变迁，这样才能使法律真正获得发展
 - C. 法律的发展与社会变迁的紧密关系还表现为社会变迁影响法律的发展
 - D. 政治哲学家所讨论的主要是如何运用法与法律影响政治、改造社会
35. 虽然思考偶尔能带来激动人心的发现，但这些发现与发现之间的阶段对思考者的精力和耐力都是极大的考验。思考时，我们没有必要告诉自己正在经历一种令人兴奋的过程，而只要认识到，我们的行为是按照人类状况对我们的要求，认真地、理智地并且是自律地进行的，就已足够。

这段文字所表达的主要意思是：

- A. 按照人类状况的要求进行思考是思考者的使命
 - B. 思考者思考问题必须要有足够的精力和耐力
 - C. 思考者思考问题不仅仅是为了追求令人兴奋的过程
 - D. 思考者思考问题必须是认真的、理智的，而且是自律的
36. 所谓的颜色，其实不过是某些波长的电磁波被我们的眼睛捕捉后所产生的反应。虽然所有温度高于绝对零度以上的物体都会放出电磁波，但是其中只有极少数特定波长的电磁波才能引起人类的光感。在太阳辐射而来的电磁波中，除了可见光之外，还有一些我们看不到的红外线和紫外线，如果将所有可见光都过滤出去，即使剩余的电磁波强度再高，我们也只能看到一片漆黑。

关于这段文字，以下说法正确的是：

- A. 存在可见光是人眼感知颜色的基础
 - B. 眼睛捕捉电磁波后所产生的反应就是光感
 - C. 物体温度越高，释放的电磁波越强
 - D. 可见光的强度越强，眼睛所看到的颜色越鲜艳
37. 辛亥革命后，紫禁城旧藏和宫中传世品大量流失。这时，这些以前在中国本土以外几乎不为人知、甚至普通中国人自己都不很了解的官窑瓷器才不断展现于世。因此，当今有些旅游者参观了几家外国博物馆，见到馆藏的一些官窑瓷器，就想当然张冠李戴地误以为西方历史上对中国瓷器的崇高评价是针对官窑的。这实在是一个历史误会。

这段文字接下来最可能讨论：

- A. 中国瓷器出口西方的历史
 - B. 西方历史上对中国瓷器的评价
 - C. 官窑瓷器在民间的流传
 - D. 这个历史误会产生的原因
38. 个体生命从家庭生活所习得的情感与社会技能，其核心要素是“道德感”。而且在漫长的生存竞争中，个体生命习得这一感情的能力被神经元编码为一段特定时间的“窗口”，错过这一时段，便难以习得相应的

技能，从而极大削弱了个体生命的社会交往能力。

关于这段文字，以下说法正确的是：

- A. 道德感决定个体的情感与社会技能
 - B. 个体能否习得道德感是由神经元编码决定的
 - C. 错过特定的时间，个体将无法习得的得社会交际能力
 - D. 对个体情感和社会技能的培养存在关键期
39. 为增加新闻的鲜活性，很多报道会选择小切口的微观切入，经济新闻报道也不例外。但在实际操作中，这种报道往往又会使读者的感知过于零碎、片面。比如在此次金融危机报道中，一会儿是旅游业冷清，一会儿是房地产滞销，一会儿又是中产白领有钱不敢花……到底全貌是怎样的？这时候，微观切入时的大局意识就非常重要。
- 这段文字的作者对经济新闻选择微观切入的态度是：
- A. 不置可否
 - B. 赞成
 - C. 反对
 - D. 辩证
40. 当人们需要作出可靠判断，以决定在复杂情势中应如何行动时，理性是最可信赖的工具。非理性工具，诸如预感与习惯，虽亦常被使用，但是当事关重大之时，或者当成败取决于所下判断的关头，诉诸理性无疑最易获得成功。我们已经拥有一些经受了长期检验的合理方法，能够用来判定究竟何者为宜、何者为真；也已拥有一系列业已得到确立的原理，可以指导我们从已知的东西引申出推论。
- 这段文字所表达的主要意思是：
- A. 理性是人们作出判断最可信赖的工具
 - B. 现在已经存在了一套可以帮助人们作出可靠判断的方法
 - C. 非理性工具在人们需要作出可靠判断时不可信赖
 - D. 依理性作出的对复杂情势的判断不会出错

第三部分 数量关系

在这部分试题中，每道试题呈现一段表述数字关系的文字，要求你迅速、准确地计算出答案。你可以在草稿纸上运算。

41. 压路机的滚筒是圆柱形，长是1.5m，滚筒的半径是0.54m。如果滚筒每分钟转动16周，则压路机每分钟可压路面约（ ）平方米。
- A. 58
 - B. 69
 - C. 76
 - D. 81
42. 同住一个小区的三位同事早上7：30同时出门上班，甲自驾车，乙乘坐公交车，丙骑自行车。如果他们的路程相同，甲8：00到达单位，乙8：30到达单位，丙8：15到达单位，则他们的平均速度比是（ ）。
- A. 4：6：5
 - B. 15：10：12
 - C. 12：8：9
 - D. 6：3：4
43. 广场上的大钟每到正点便会自动发出报时钟声，几点钟便敲几下。已知早上6点大钟报时的时候，最后一下钟声响起的时点是6点零4秒，如果每下钟声间隔时间相同，那么，在早上11点，大钟最后一下钟声响起的时点是11点零（ ）秒。
- A. 7
 - B. 7.33
 - C. 8
 - D. 9
44. 如果小王用自己的五本故事书和小丽交换一本参考书，则小丽所拥有的书籍数量是小王的3倍。如果小江用自己的四本散文和小王换两本故事书，则小王所拥有的书籍数量是小江的4倍。如果小江给小丽一本散文，

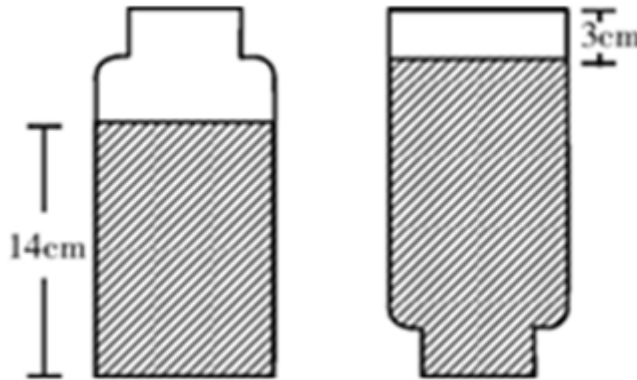
则小丽所拥有的书籍数量和小江的一样多。那么，小王原有（ ）本书籍。

- A. 4 B. 6 C. 8 D. 10

45. 甲、乙两人在圆形跑道上，同时从某地出发沿相反方向跑步。甲的速度是乙的3倍，他们第一次与第二次相遇地点之间的较短的跑道长度是100m。那么，圆形跑道的周长是（ ）m。

- A. 200 B. 300 C. 400 D. 500

46. 一个瓶子的瓶内容积为 204cm^3 （见下图），瓶口向上正放时，瓶内水的高度为14cm，瓶口向下倒放时，剩余部分的高度为3cm，则瓶内的水的体积是（ ） cm^3 。



- A. 168 B. 178 C. 188 D. 198

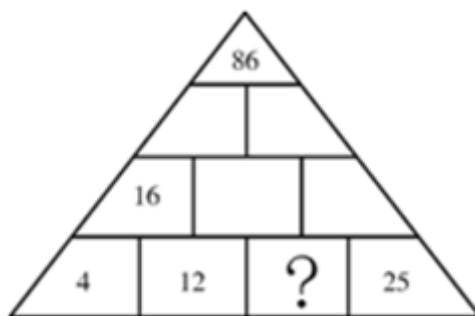
47. 科学家为研究某自然生态小岛上一种鸟的数量，抓了300只这种鸟，在其身上作出标记后放飞。数日后再抓回100只，发现有标记的鸟为4只。则这个岛上大约有（ ）只这种鸟。

- A. 1200 B. 2500 C. 6000 D. 7500

48. 因工作需要，有46个工作人员需要派到另外一个厂区，但只有一台运送车，每次最多能载5人（其中1人需开车），往返一次需5分钟。如果8点半开始出发，到8点57分时，至少还有（ ）人还在当地等待运送。

- A. 16 B. 21 C. 26 D. 30

49. 下边这个“金字塔”中每格数字都是该格所对应的下面两格数字之和，如，16是4和12之和。则问号代表的数字是（ ）。



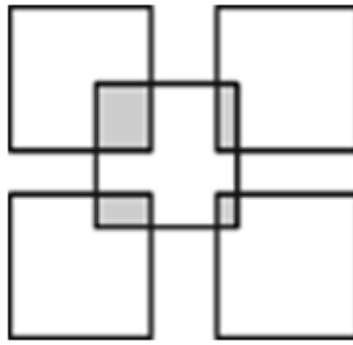
- A. 7 B. 14 C. 16.5 D. 45

50. 赵、钱、孙三人共有216元钱，赵用了自己钱数的 $\frac{3}{5}$ ，钱用了自己钱数的 $\frac{3}{4}$ ，孙用了自己钱数的 $\frac{2}{3}$ ，各买了一本相同的书，则赵、钱两人剩下的钱共有（ ）元。

- A. 16 B. 32 C. 48 D. 64

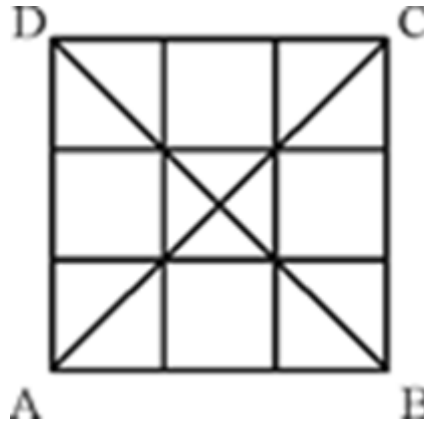
51. 有5个正方形如下图叠放。已知每个正方形的边长都是5厘米，它们所覆盖住的面积为115平方厘米。则阴影

部分的面积为（ ）平方厘米。



- A. 5 B. 10 C. 15 D. 20

52. 如下图所示，在3行3列的方格表中，分别填上0、2、4这三个数字中的任意一个，则每行、每列以及对角线AC、BD上的各个数之和至少有（ ）个相同。



- A. 2 B. 3 C. 4 D. 5

53. 某培训班学制1个半月，采用滚动招生培训制，在不断有学员完成培训毕业离开的同时，也不断有新学员加入培训。已知本月该培训班共增加了45名新学员，目前在学人数比上个月多了25%，那么，本月该培训班的毕业人数最多是（ ）人。

- A. 21 B. 27 C. 30 D. 36

54. 用一张长1007毫米、宽371毫米的长方形纸，剪成多个面积相等且尽可能大的正方形。长方形纸最后没有剩余，则这些正方形的边长是（ ）毫米

- A. 19 B. 53 C. 79 D. 106

55. 服装批发市场有一款衣服标价100元/件。小王原计划购买60件这样的衣服，但他对店老板说：“如果你肯减价，每减价1元，我多订购10件。”老板算了一下，如果减价4%，由于小王多购，便可获得比原来多一半的总利润。则这一款衣服的成本是（ ）元。

- A. 60 B. 68 C. 75 D. 81

第四部分 判断推理

本部分包括图形推理、定义判断、类比推理与逻辑判断四种类型的试题，请按每道题的答题要求作答。

56. 为鼓励市民骑自行车出行，M市在过去几年里专门在马路上划出自行车道和禁止机动车行驶的“绿色通道”。然而，该市真正将自行车作为主要交通工具的人口比率依然很低，仅男性稍有增加。
- 由以上现象能够得到的结论是：
- A. 在马路上划出的自行车道让骑自行车的人必须和机动车抢道，比较危险
- B. 女性对选择骑自行车出行与男性有着不同的要求
- C. “绿色通道”通常只是在公园内铺设，无法连通到商务区、超市、学校等实用场所
- D. 该市女性早已普遍将自行车作为主要交通工具
57. 转基因作物种植成本很高，因此有观点认为，这只能让种子生产者和大农场受益，而不利于在贫困地区普遍存在的小农场。对此，转基因公司指出，现在很多地方的小规模种植者都在种植转基因作物，就是因为种植者通过种植转基因作物增加了收入。
- 以下选项如果为真，能够最有力地反驳转基因公司的观点的是：
- A. 一些国家为提高农作物总产量，对因种植转基因作物而亏损的种植者提供补贴
- B. 小规模种植者通常只种植作物价值比较高的品种
- C. 转基因作物种植的成本比普通作物高30%，但其产量能够比普通作物高40%
- D. 有很多天然农作物的产量不低于转基因作物，但价格却比转基因作物低很多
58. 据研究，出生时间对犯罪活动有影响。年底出生的人常犯某类罪，年中出生的人常犯某类罪。既然人的出生时间不由自己选择，犯罪人也不应当为自己所犯的罪承担责任。
- 以下选项如果为真，能够最有力地反驳上述推论的是：
- A. 所有的人都仅应当为自己能够控制的行为承担责任
- B. 出生时间对人的行为倾向有影响，但是否执行这一行为，却是个人选择的结果
- C. 并不是所有在同一个时间段出生的人都会犯同一种类型的罪
- D. 除出生时间外，家庭和学校教育、社会环境等都会对个人的行为选择产生影响
59. 今年以来，各地所报告的儿童手足口病病例数比去年同期平均上涨了20%。因此，有卫生组织担忧，儿童手足口病的疫情在全国有爆发的趋势。
- 以下选项如果为真，均有利于缓解该卫生组织的担忧，除了：
- A. 幼儿园是儿童传染手足口病的主要场所，而今年新入学幼儿园的儿童比上年增加了50%
- B. 随着人们对儿童手足口病认识的加深，父母更频繁地带孩子们到医院就诊，从而增加了轻微发病的记录
- C. 今年以来，全国各地规范了对儿童手足口病的登记与排查力度，很多以往未受关注的病例得到重视
- D. 今年儿童手足口病症状与去年相比变异较大，很多医生在初诊时无法确诊
60. 美国已经建成的风力发电站中，60%坐落在一条从德克萨斯延伸到五大湖区的狭长风力走廊上，研究显示过去一年以来美国风力下降最显著的大部分区域恰好与这条走廊重合。因此，过去一年美国风力发电的电力输出比上年大大减少。
- 要使以上推论成立，还需要以下哪个作为前提：
- A. 坐落于该走廊的风力发电站的输出功率普遍比美国其他地区风力发电站的高
- B. 风力发电是美国电力输出的主体，其次分别是水力发电和火力发电
- C. 风力发电机的输出功率显著地随着风力的改变而变化
- D. 美国在建或计划建设的绝大多数风力发电站也都集中于该走廊
61. 油缸里还有油，我们的车还能开。

以下推理与题干推理的内在逻辑方式最为相似的一项是：

- A. 他有希望被宣判无罪，如果他能找到一个好律师的话
- B. 今天是《功夫熊猫2》的首映，所有影院都会爆满
- C. 这块蛋糕看起来可口极了，小宝宝一定很爱吃
- D. 这台电脑已经使用了近10年，运行速度很慢

62. 疲劳驾驶是造成交通事故的重要原因之一，很多货车司机经常连续驾驶超过8个小时。因此交警在一些高速公路收费站设置检查站点，检查货车司机的疲劳状态，以减少货车司机疲劳驾驶的情况。

以下选项如果为真，最能够对交警的这一做法提出质疑的是：

- A. 人体的疲劳状态很难有一个确切的评价和对比指标
- B. 货车司机身体的疲劳状态不一定是他连续驾驶时间的反映
- C. 很多货车司机在被检查之前，并不知道会有这一检查的存在
- D. 一些货车司机会通过提前在服务站休息后再驾驶来应对交警的检查

63. 败血症能导致人体的多个器官功能衰竭，有致命危险。一种新型的治疗败血症的方法是利用微米大小的磁珠将80%的病原体从败血症患者的血液中过滤出来，以使抗菌药物更有效地发挥作用。

该新型疗法能够发挥作用的必要条件是：

- A. 没有病菌会隐藏在血液供应量较低的区域以逃避血液过滤
- B. 败血症患者的很多症状是由机体自身的炎症反应导致的，而非由病原体导致
- C. 减少病原体数量有助于提升药物疗效
- D. 磁珠的大小是红细胞直径的1 / 8，能够保证含有磁珠的盐溶液平稳流动

64. 今年以来，某导游被游客投诉的次数比其他导游多出一倍。针对旅游公司认为自己服务不到位的质疑，该导游反驳说，每次针对投诉的调查都说明，这些针对他的投诉只是游客太过挑剔。

要使该导游的反驳成立，以下哪个是必须的假设？

- ①如果游客不是太过挑剔，他们就不会进行投诉。
- ②游客是否挑剔与导游的服务质量没有关系。
- ③每次针对投诉的调查都能够真实反映当时的状况。

- A. 只有①
- B. 只有③
- C. 只有②③
- D. ①②③均是

65. 某地许多消费者投诉某品牌的空调质量不好，制冷效果很差。对此，该品牌空调的总工程师回应说，空调之所以运转不正常，是因为当地的空气质量太差。

以下选项如果为真，能够最有效地反驳该工程师的观点的是：

- A. 在空气质量良好的地区，该品牌的空调运转非常良好
- B. 该品牌空调在其他地区没有出现过大量的质量投诉
- C. 不是所有空调的运转状态都受到空气质量的影响
- D. 所有的空调都应当保证能够在当地正常运转，才能够出售

66. 垃圾：资源

- A. 成本：收入
- B. 挑战：机会
- C. 沟通：情绪
- D. 疾病：疫苗

67. 控制：管理

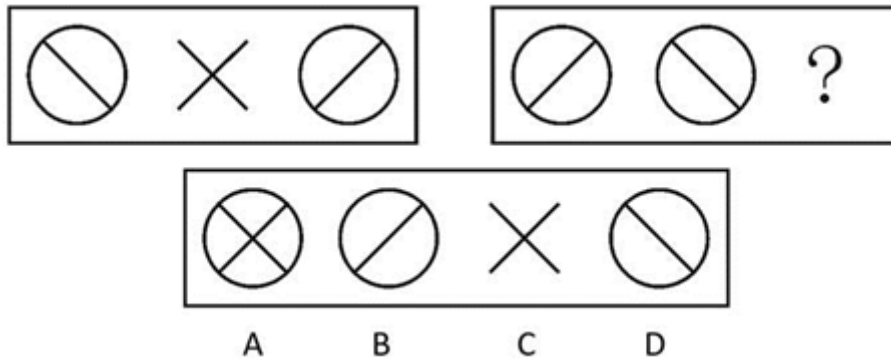
- A. 引导：诱惑
- B. 奖惩：激励
- C. 保证：保护
- D. 牺牲：死亡

68. 窗户：窗帘

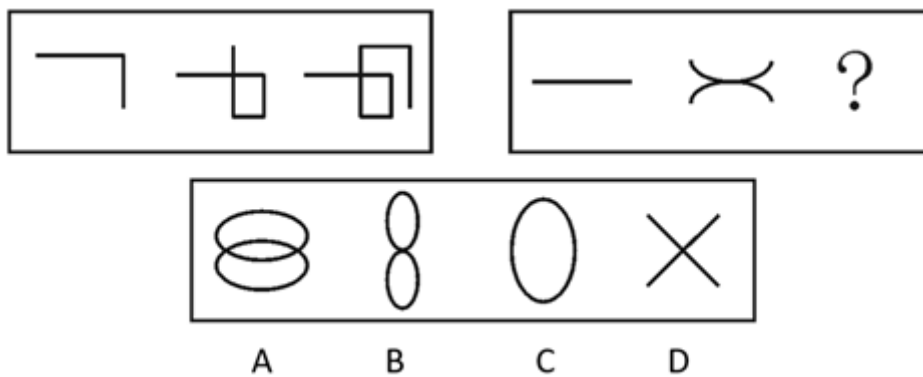
- A. 铅笔：橡皮
- B. 咖啡：奶茶
- C. 头发：梳子
- D. 建筑：钢铁

69. 货币：价值

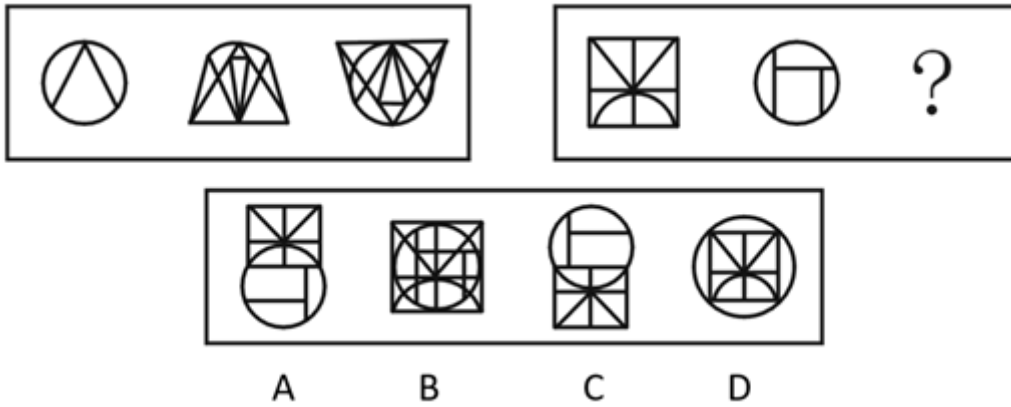
- A. 法律：约束 B. 刀具：谋杀 C. 书本：印刷 D. 观点：立场
70. 物流：快递 B. 社会：法庭 C. 违法：犯人 D. 金融：证券
71. 制定：实施 B. 盗窃：逮捕 C. 追踪：猎杀 D. 战争：屠杀
72. 家具：木材 B. 枪支：金属 C. 基因：细胞 D. 火药：化学
73. 前后：上下 B. 彼此：矛盾 C. 花草：树木 D. 冬夏：寒热
74. 奸诈：聪明 B. 信任：相信 C. 评判：批判 D. 借口：理由
75. 激发：创意 B. 建筑：设计 C. 集中：注意 D. 迅猛：发展
76. 从所给的四个选项中，选择最合适的一个填入问号处，使之呈现一定的规律性：【2011广州076】



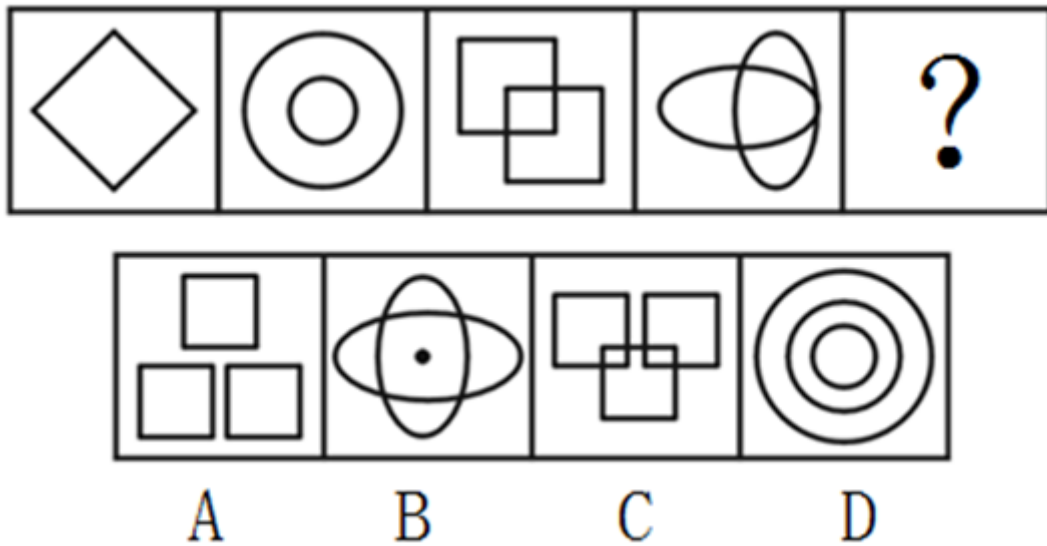
- A. 如图所示 B. 如图所示 C. 如图所示 D. 如图所示
77. 从所给的四个选项中，选择最合适的一个填入问号处，使之呈现一定的规律性：【2011广州077】



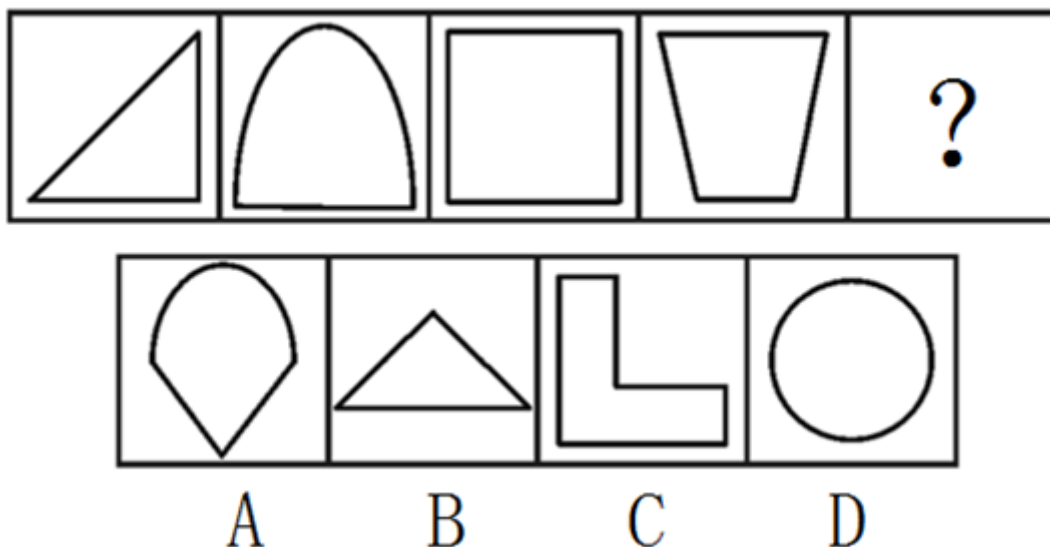
- A. 如图所示 B. 如图所示 C. 如图所示 D. 如图所示
78. 从所给的四个选项中，选择最合适的一个填入问号处，使之呈现一定的规律性：【2011广州078】



A. 如图所示 B. 如图所示 C. 如图所示 D. 如图所示
79. 从所给的四个选项中，选择最合适的一个填入问号处，使之呈现一定的规律性：【2011广州079】

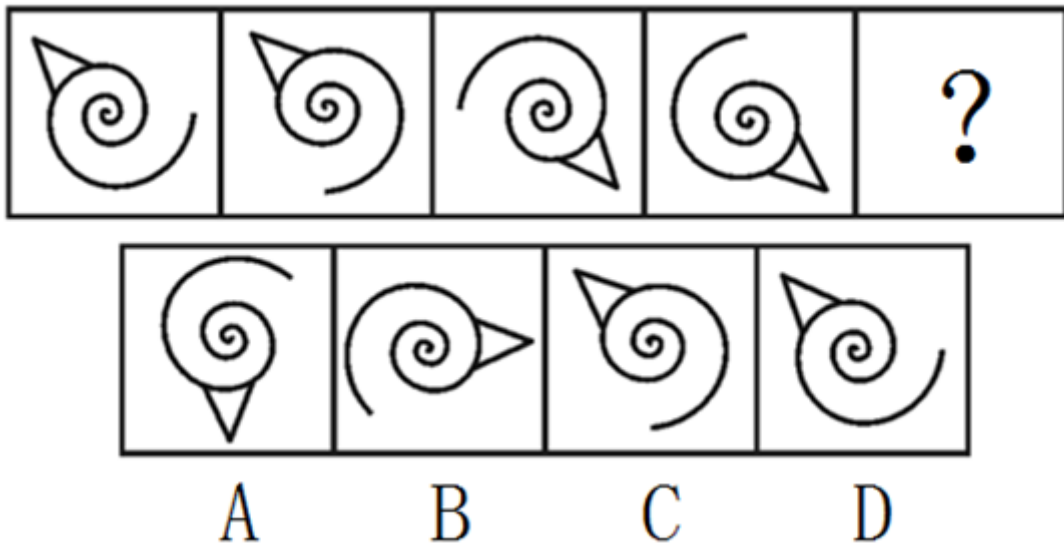


A. 如图所示 B. 如图所示 C. 如图所示 D. 如图所示
80. 从所给的四个选项中，选择最合适的一个填入问号处，使之呈现一定的规律性：【2011广州080】



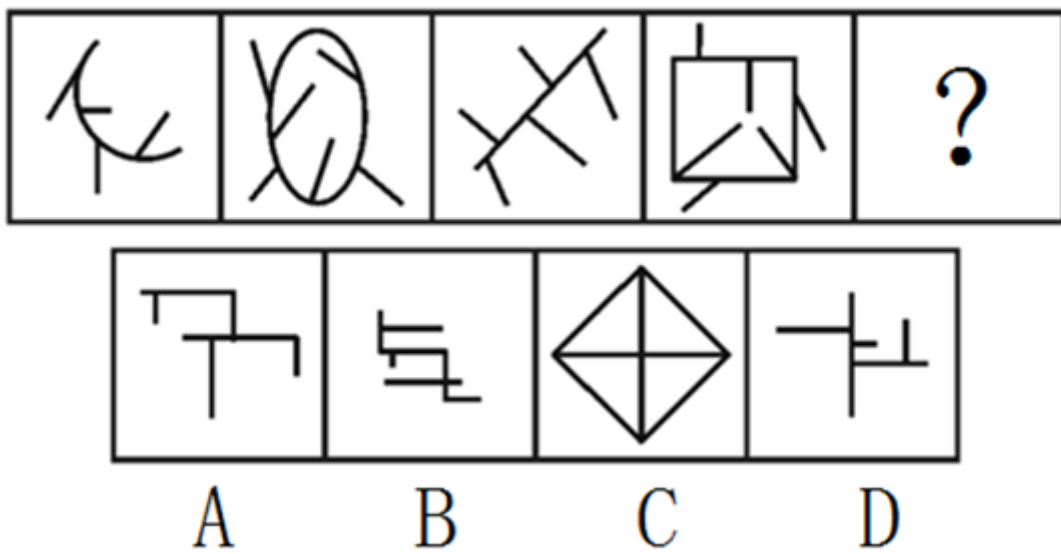
A. 如图所示 B. 如图所示 C. 如图所示 D. 如图所示
本试卷由小麦公考提供 第14页/共21页

81. 从所给的四个选项中，选择最合适的一个填入问号处，使之呈现一定的规律性：【2011广州081】



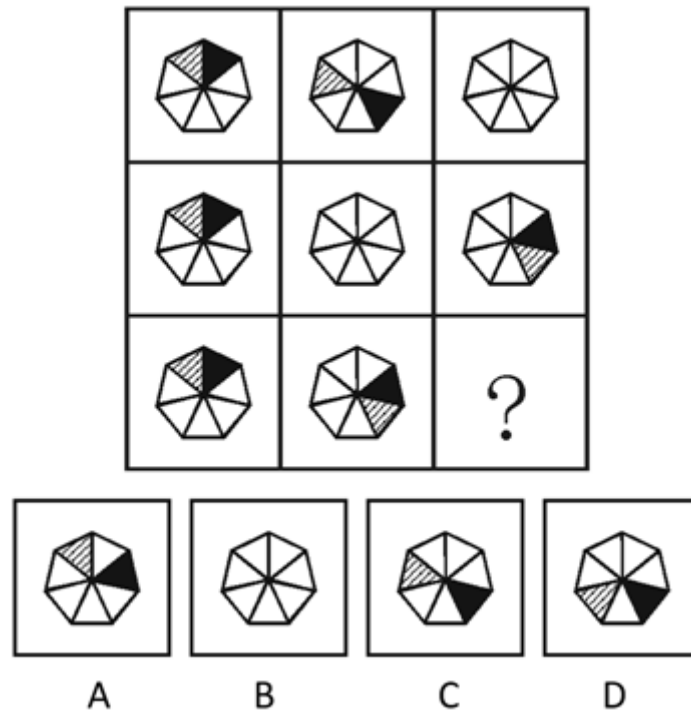
A. 如图所示 B. 如图所示 C. 如图所示 D. 如图所示

82. 从所给的四个选项中，选择最合适的一个填入问号处，使之呈现一定的规律性：【2011广州082】



A. 如图所示 B. 如图所示 C. 如图所示 D. 如图所示

83. 从所给的四个选项中，选择最合适的一个填入问号处，使之呈现一定的规律性：【2011-广州-083】



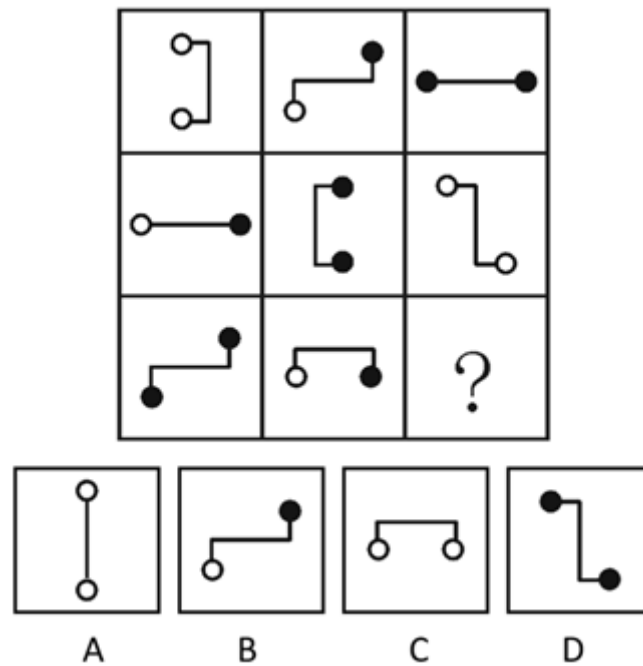
A. 如图所示

B. 如图所示

C. 如图所示

D. 如图所示

84. 从所给的四个选项中，选择最合适的一个填入问号处，使之呈现一定的规律性：【2011-广州-084】



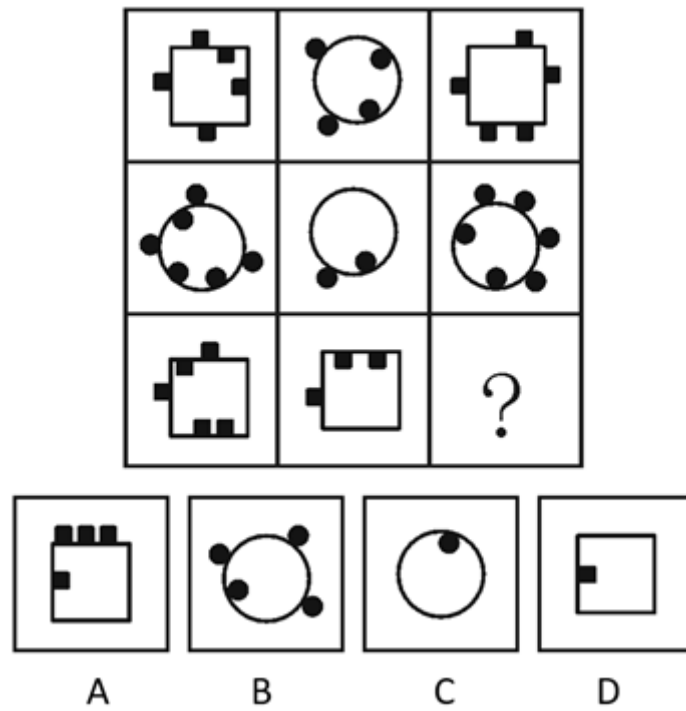
A. 如图所示

B. 如图所示

C. 如图所示

D. 如图所示

85. 从所给的四个选项中，选择最合适的一个填入问号处，使之呈现一定的规律性：【2011广州085】



A. 如图所示

B. 如图所示

C. 如图所示

D. 如图所示

第五部分 资料分析

针对下列图、表或文字回答问题。你应根据资料提供的信息进行分析、比较、计算、处理。你可以在题本上运算。

某研究调查了5000名“80前”和5000名“80后”“愿意转变为非农户口”的农民工。图1说明的是这些农民工的文化程度情况，如，愿意转变为非农户口的“80前”农民工中有16.1%的人具有小学及以下文化程度。

当被问及“如果转变为非农户口需要交回承包地，是否还愿意转变为非农户口”时，他们中一些人的态度发生了变化。图2说明的是图1中各文化程度的农民工“即使交回承包地，仍愿意转变为非农户口”的情况，是对图1情况的进一步调查，如，在愿意转变为非农户口的小学及以下文化程度的“80后”农民工中，有51.1%的人即使交回承包地，仍愿意转变为非农户口。

图例中，“小学及以下”等是指农民工的文化程度。

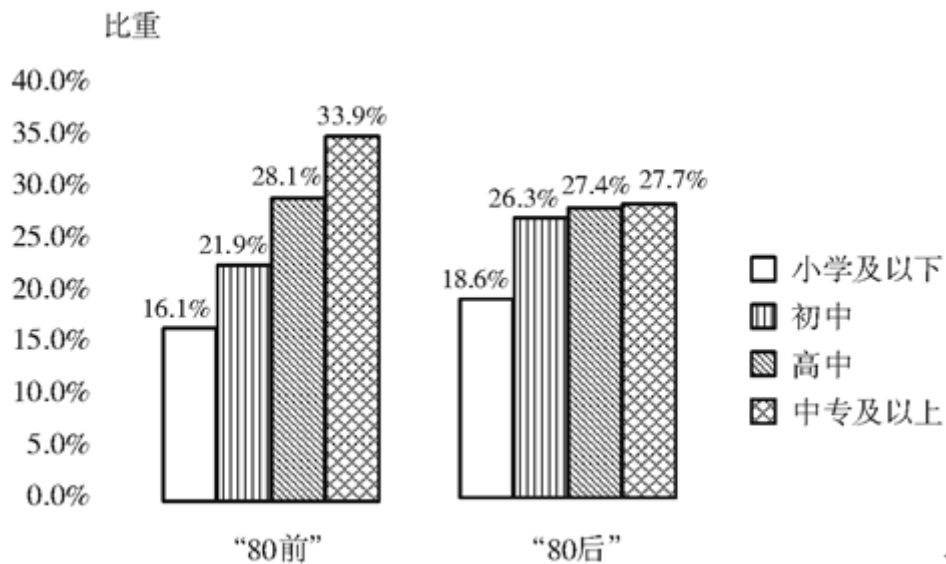


图1愿意转变为非农户口的农民工的文化程度构

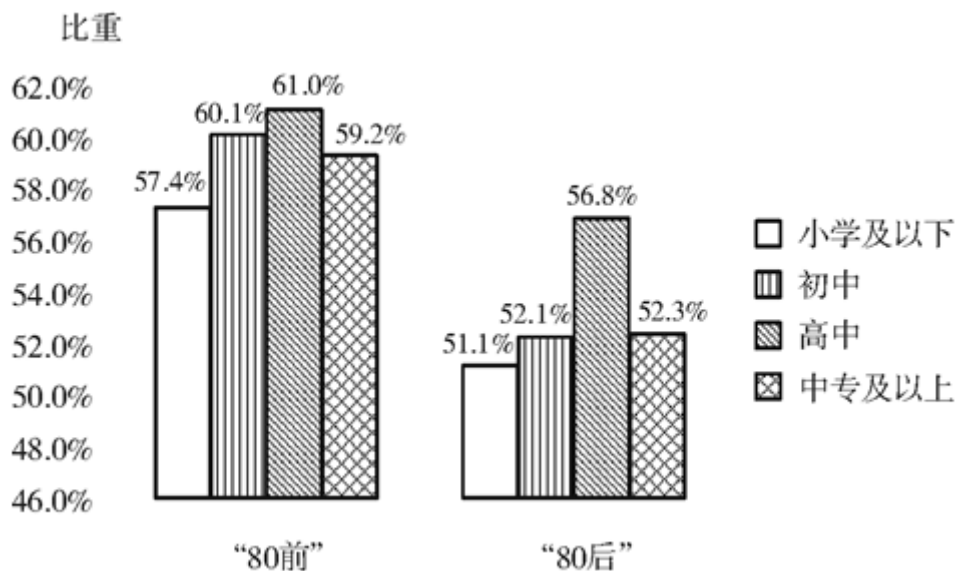


图2各文化程度的农民工“即使交回承包地，仍愿意转变为非农户口”的比重

86. 在不考虑是否交回承包地时，愿意转变为非农户口的最大农民工群体是
- A. “80前”高中文化程度群体 B. “80后”高中文化程度群体
- C. “80前”中专及以上文化程度群体 D. “80后”中专及以上文化程度群体
87. 在不考虑是否交回承包地时，愿意转变为非农户口的小学及以下文化程度农民工占有所有愿意转变为非农户口的农民工的比重约为
- A. 16.1% B. 17.4% C. 18.6% D. 34.7%
88. 即使交回承包地，仍愿意转变为非农户口的初中文化程度农民工，“80前”比“80后”约（ ）人。
- A. 多60 B. 少60 C. 多30 D. 少30
89. 如果转变为非农户口需要交回承包地，则原本愿意转变为非农户口的农民工态度发生改变最大的群体是（ ）。
- A. 小学及以下文化程度群体 B. 初中文化程度群体
- C. 高中文化程度群体 D. 中专及以上文化程度群体

90. 根据材料，能得出的结论是：

- A. 总体而言，“80后”比“80前”农民工更愿意耕作自己的土地
- B. 总体而言，在“是否愿意转变为非农户口”这个问题上，“80后”比“80前”农民工更为谨慎
- C. 不论是哪个文化程度的农民工，均有超过半数的人不愿转变为非农户口
- D. 绝大多数的农民工希望在转变为非农户口的同时能够保留自己的承包地

2009年普及九年义务教育的人口覆盖率已达到了99.7%；初中阶段毛入学率达99%。由于学龄人口减少，小学、初中的学校数、学生数继续减少。全国共有小学28.02万所，比2008年减少2.07万所；招生1637.8万人，比2008年减少57.92万人；在校生10071.47万人，比2008年减少260.04万人。初中学校5.63万所（其中职业初中0.02万所），比2008年减少0.16万所；招生1788.45万人，比2008年减少71.15万人；在校生5440.94万人，比2008年减少144.03万人。

学前教育有所发展，幼儿园数、在园幼儿数、幼儿园教师数均有所增加。2009年全国共有幼儿园13.82万所，比2008年增加0.45万所，在园幼儿（包括学前班）2657.81万人，比2008年增加182.85万人。幼儿园教师共112.78万人，比2008年增加9.58万人。

高中阶段毛入学率79.2%，比2008年提高5.2个百分点。全国高中阶段教育（包括普通高中、成人高中、中等职业学校）共有学校29761所，比2008年减少1045所；招生1698.86万人，比2008年增加49.74万人；在校生4640.91万人，比2008年增加64.84万人。其中普通高中规模有所下降，与2008年相比，招生数减少6.67万人，下降0.8%；在校生数减少34万人，下降1.7%；全国中等职业教育（包括普通中等专业学校、职业高中、技工学校和成人中等专业学校）招生和在校生数有所增加，招生868.52万人，比2008年增加56.41万人；在校生2195.16万人，比2008年增加108.07万人。

高等教育招生数和在校生规模持续增加。全国各类高等教育总规模达到2979万人，高等教育毛入学率达到24.2%。普通高等学校2305所，比2008年增加42所，其中本科院校1090所，高职（专科）院校1215所。普通高等教育本专科共招生639.49万人，比2008年增加31.83万人，增长5.24%；在校生2144.66万人，比2008年增加123.64万人，增长6.12%。全国共招收研究生51.09万人，比2008年增加6.45万人，增长14.45%；其中博士生6.19万人，硕士生44.90万人。在学研究生140.49万人，比2008年增加12.19万人，增长9.50%；其中博士生24.63万人，硕士生115.86万人。

91. 以下各教育类型中，2009年在在校生规模最小的是

- A. 学前教育
- B. 初中教育
- C. 中等职业教育
- D. 普通高等教育本专科

92. 2009年义务教育阶段学校招生人数比2008年约下降了

- A. 3.2%
- B. 3.6%
- C. 4.0%
- D. 4.5%

93. 2009年我国学前教育中，平均每1000名在园幼儿拥有教师约为

- A. 28
- B. 35
- C. 42
- D. 51

94. 2009年我国普通高中招生人数约为（ ）万人

- A. 818
- B. 827
- C. 830
- D. 844

95. 由材料可以得知（ ）。

- ①2009年义务教育阶段学校在校学生数出现下降，学龄人口毛入学率略有下降
- ②2009年普通高中和中等职业教育在校生规模出现此消彼长的局面
- ③2009年普通高等学校校平均招收本专科生人数比2008年有所上升
- ④2008年普通高中在校生规模大于中等职业教育在校生规模

A. ①② B. ①④ C. ②③ D. ②④

2010年全国电源工程建设完成投资3641亿元，其中，水电791亿元，火电1311亿元，核电629亿元，风电891亿元。水电、核电、风电等非化石能源发电投资占电源投资的比重从2005年的29%持续提高到2010年的64%。

“十一五”各类电源工程建设投资同比增长率情况（单位：%）

	2006年	2007年	2008年	2009年	2010年
合计	-1.01	0.97	5.61	11.62	-4.26
水电	-9.07	9.60	-1.18	2.16	-8.79
火电	-1.82	-10.08	-16.26	-8.04	-15.06
核电	179.21	73.89	101.39	77.25	7.67
风电	37.76	173.54	208.27	48.27	13.97

96. “十一五”期间，水电工程建设投资额最高的年份是（ ）年。
A. 2007 B. 2008 C. 2009 D. 2010
97. “十一五”期间，各类电源工程建设投资增长率变动最剧烈的是（ ）。
A. 水电 B. 火电 C. 核电 D. 风电
98. 核电工程建设投资占电源工程建设投资总额的比重，2010年比2009年（ ）。
A. 上升2个百分点 B. 下降2个百分点 C. 上升4个百分点 D. 下降4个百分点
99. 2005年非化石能源发电投资额大约为（ ）亿元。
A. 300 B. 500 C. 700 D. 900
100. 根据材料，能得出的结论是
A. “十一五”期间，电源工程建设投资持续向非化石能源发电领域倾斜
B. 由于起点低，“十一五”期间，非化石能源的装机容量仍远少于化石能源的装机容量
C. 从“十一五”期间的趋势看，2011年各类电源工程建设投资总额仍将进一步
D. 太阳能电源在我国电源结构中还未能占据重要位置

扫一扫，对答案

