

2012年吉林行测真题（甲级）

真题更新时间：2022年11月02日23:33:48

扫描下方二维码下载小麦公考APP 刷海量题库掌握最新热点



QQ扫码直接下载

微信扫码到应用市场下载

支持所有机型哦

第一部分 数量关系

在这部分试题中，每道试题呈现一段表述数字关系的文字，要求你迅速、准确地计算出答案。你可以在草稿纸上运算。

1. 2, 13, 42, 91, ()

- A. 134 B. 188 C. 170 D. 160

2. $-2, -\frac{1}{3}, \frac{2}{5}, 1,$
()

【2012-吉林甲级-002】

A. $\frac{23}{11}$

B. $\frac{14}{9}$

C. $-\frac{21}{11}$

D. $-\frac{11}{9}$

3. 19, 7, $\frac{37}{9}, \frac{23}{8},$ ()

A. $\frac{17}{7}$

B. $\frac{16}{9}$

C. $\frac{11}{5}$

D. $\frac{19}{6}$

4. $\frac{5}{6}, \frac{6}{11}, \frac{11}{17}, \frac{17}{28},$ ()

【2012-吉林甲级-004】

A. $\frac{28}{45}$

B. $\frac{28}{43}$

28

C. 44

28

D. 42

5. 5, 3, 9, 6, 13, 9, 17, 12, 21, ()

A. 5

B. 15

C. 14

D. 28

6. 出租车司机李师傅有午睡的习惯，一天，他睡午觉醒来，发现手机没电，手表停了，于是他只能打开收音机等待交通电台整点报时，如果他等待报时时间不超过15分钟，则这种可能性的大小为：

1

A. 2

1

B. 4

1

C. 3

1

D. 6

7. 某人向单位圆形状的靶子内投掷一个靶点，连续投掷4次，若恰有3次落在第一象限的位置（假设以靶心为坐标原点，水平和铅直方向分别为横坐标建立平面直角坐标系）请你帮他计算一下这种可能性的大小为：

3

A. 64

1

B. 64

1

C. 4

3

D. 4

8. 甲乙两个工程队修一条公路，甲工程队修500米后由乙工程队来修，以往资料显示，乙工程队的效率是甲工程队的两倍，乙工程队修600米公路所用的时间比甲工程队修500米公路所用时间还少20天，甲工程队的工作效率为（ ）米/天。

A. 20

B. 15

C. 10

D. 25

9. 千禧锻造厂要制造一批一定比例的锡铁金属合金，第一次加入适量的金属铁后，此时金属锡的含量占总重量的4%，第二次加入同样多的金属铁后，金属锡的含量占总重量的3%。如果第三次再加入同样多的金属铁后，此时金属锡的含量占总重量的百分比是：

A. 2.5%

B. 2.4%

C. 2.7%

D. 2.8%

10. 实验中学初中部三年级有4个班级，本学期末要评选三好学生，名额分配方案如下：从一班、二班、三班评选出32名三好学生，从二班、三班、四班评选出28名三好学生，并且一班和四班的三好学生总数是二班和三班的三好学生总数的两倍，请你计算一下，本学期末三年级要评选出的三好学生总数是：
- A. 50 B. 40 C. 42 D. 45

第二部分 言语理解与表达

本部分包括表达与理解两方面的内容。请根据题目要求，在四个选项中选出一个最恰当的答案。

11. 日本政府“购岛”闹剧一出，中国赴日旅游人数锐减，国内多家航空公司也调减了赴日航线。在东京召开的亚洲最大旅游博览会——“2012年日本国际旅游博览会”上，最大的参展团中国旅游参展团表示不参加此次活动，中国国家旅游局驻东京办事处，日前向日本旅游业协会发出了取消参会的通知。
- 对上面这则消息的概括最恰当的一项是：
- A. 日本政府“购岛”闹剧必然导致经济衰退
B. 日本政府“购岛”闹剧致中国航线班次锐减
C. 中国参展团因为“购岛”闹剧向日本旅游业协会发出通知
D. 中国旅游参展团拒绝参加日本旅游博览会
12. 英国著名学术刊物《自然》6日发布声明，就其网站刊载的一篇将中国游泳运动员叶诗文和兴奋剂联系在一起的文章道歉。这篇文章认为叶诗文夺得伦敦奥运会女子400米个人混合泳金牌的卓越表现是“异常”的，即使当前的药检结果清白，也不能完全排除服用兴奋剂的可能，道歉声明中提到：“我们注意到相关讨论中指出的一些错误，以及相关统计中缺乏更多的细节，造成了我们支持指责叶诗文的印象，而需要强调的是_____。”
- 填入横线的语句与上文衔接最顺畅的一句是：
- A. 我们对此表示遗憾 B. 这不是我们的意图
C. 我们向叶诗文道歉 D. 这确实是一个问题
13. 计算机时代，字库就在我们每个人手边，当我们在电脑上用文字处理软件打出一篇文章，想要给它换上一种好看的字体时，我们其实就已经在与字库打交道了。但很多人并不知道，目前我国汉字字库仅421款字体，而比邻的日本，汉字字库则多达2973款。
- 这段文字的主旨是：
- A. 我国汉字字库数量不及日本
B. 我国汉字的字体不及日本
C. 计算机时代，字库是文字处理的必需品
D. 我国汉字字库的字体不够多
14. 2012年全国第二季度GDP较上年同期增长7.6%，创下2009年第一季度以来的最低水平。中国宏观经济已持续性加速回落，为此，我国应加快转型步伐，结构性减税势在必行。面对外需疲软和内需不济，居民收入分配改革和打破垄断对于稳增长而言迫在眉睫。减少一点国家税收和企业利润，提高居民收入来增加消费将

是长远动力。

对这段文字主要观点的提炼，最恰当的一项是：

- A. 减税增收是长远动力
B. 分配制度改革迫在眉睫
C. 打破垄断减少企业利润
D. 结构性减税势在必行

15. 香港大学近年在内地招生的面试题目为：你对现今高房价有什么看法？怎样看待中医和西医？星巴克进中国会带来什么影响？你怎样看待器官捐赠？如何引导国人接受器官捐赠？甲型流感爆发，不少香港孩子们停课回家，但他们的家长却认为要上班不能照顾他们，是否应该出台相应法律政策保障孩子的利益？

对面试内容理解不正确的是：

- A. 贴近百姓生活，关注社会热点
B. 引领价值取向，彰显人文关怀
C. 敲响教育警钟，引发独立思考
D. 视野宽阔无边，答案丰富多彩

16. 上世纪70年代末，中国实行严厉的计划生育政策，每对夫妻只能生育一个孩子。计划生育有效控制了人口，但“天有不测风云，人有旦夕祸福”，计划生育也使得独生子女家庭面临更大的风险。投资者强调不能把所有鸡蛋放在一个篮子里，独生子女家庭却只能把鸡蛋放在一个篮子里，因为就算有更多的篮子，鸡蛋却只有一个，无论放在哪只篮子里，摔了也就没有了。

这段文字要说明的是：

- A. 我国实行计划生育政策的起始时间
B. 计划生育政策有风险
C. 天有不测风云，人有旦夕祸福
D. 计划生育给独生子女家庭带来高风险

17. 一时期的风气经过长时期而能保持，没有根本的变动，那就是传统。传统有惰性，不肯变，而事物的演化又使它

不得不变，因此规律、习惯不断地相机破例，实际上作出种种妥协，来迁就事物的演变。“相机破例”在文段中的意思是：

- A. 把握时机，委曲求全
B. 等待时机，破除习惯
C. 顺应形势，改变常规
D. 因势利导，不拘一格

18. 自去年下半年以来，中央各部门相继公开本部门三公经费年底预算和决算，地方和政府也纷纷跟进，但综观各部门和各地公开的数据，基本都是粗线条，例如一年中公款吃喝了多少钱、公车消费了多少钱、因公出国考察花了多少钱，包括这些钱是怎么花掉的，花的是否合理，公众一概不解。

这段话要说明的是：

- A. 三公经费支出应有民众监督
B. 三公经费应更详细、更全面地公开
C. 三公经费公开以自上而下陆续展开
D. 三公经费支出应有详细的账目

19. 这个国家的历史上，在一篇新闻联播中连续播了8天，(A)起网络热议，代中国你幸福吗”为关键词的搜索相关。但在网有超过5000万词更多地与最初开始爆的无而是那位回答“我就是独立”个体的权力被尊重，中国当代等级秩序森严”个人在前的央视能否播去，匮乏等一系列因素，造成国人个体很难有真正意义上的被尊重。(B)而到了现代问题的提炼“在不当的提棋”年代，个体被诠释为“一枚螺丝钉”，“祖国需要到哪里去就到哪里去”。(C)时至今日，仍有人认为个体对于国家而言不过是“蝼蚁”。(D)可见要让中国人有尊严地活着，还有很长的路要走。“个体的选择与感受完全被忽视，更别提个体被尊重甚至幸福感了。”一句是从文中抽离的，他最恰当的位置是：

- A. (A) B. (B) C. (C) D. (D)

- A. 这档节目颠覆了许多人心目中对央视的传统印象
- B. 央视新闻与普通人之间的语境存在巨大差别
- C. 《新闻联播》每一次细小的改变都会引发舆论的关注
- D. 央视新闻开始将麦克风交给普通人，倾听他们的声音
21. 因为我喜欢说话，喜欢说真话，给家里带来了很多的麻烦。所以写小说准备发表时，使用的笔名叫“莫言”，可事实证明，我一句话也没有少说，而且经常在一些特别庄严的场合说出实话来，我觉得讲真话毫无疑问是一个作家宝贵的素质……好的文学作品肯定有一个真实的东西在里边，尤其是真实的反映下层人民生活面貌，我觉得文学艺术就是应该暴露黑暗，揭示社会的不公正，也包括揭示人类心灵深处的阴暗面，揭示人性中恶的部分。在日常生活中，我可以是孙子，是懦夫，是可怜虫，但在写小说时，我是贼胆包天，色胆包天，狗胆包天。
- 对莫言的观点理解不正确的是：
- A. 作家搞创作应该揭示生活本质，因为讲真话是一个作家宝贵的素质
- B. 日常生活中不一定保持本色，但写小说时必须勇于突破，胆大包天
- C. 文学艺术就是应该展现本我，暴露黑暗与社会不公正，揭示人性的恶
- D. 文学作品应保有生活的本我，真实地反映下层人民群众的生活面貌
22. “7·21”北京暴雨，央视主持人欧阳夏丹一袭白衣，在电视上一个一个念完死难者名单，这在央视是首次。对于这个苦难的国度来说，国家之幸不再是空洞的“人民生活都很幸福”，而是具体到每个人，你有你的幸福，他有他的不幸。_____，这才是这个国度未来前行的方向。欣喜的是，我们正在路上。
- 填在横线上语意连贯的一项是：
- A. 珍重个体的“幸福”与“不幸”，珍重个体的尊严与权利
- B. 这个社会是由“人”组成，个人虽然渺小，却是形成文明的分力
- C. 每个人都应当被重视，每个个体也都是推动社会前进发展的基石
- D. 只有以每个个体的幸福为重，放置在国家、群体的利益之上
23. 胡锦涛在十八大的报告中指出，要建立健全权力运行制约和监督体系，确立确保决策权、执行权、监督权既相互制约又相互协调，确保国家机关按照法定权限和程序行使权力。“保障人民的知情权、参与权、表达权、监督权”，“让人民监督权力，让权力在阳光下运行”。
- 对文段的理解最恰当的一项是：
- A. “让权力在阳光下运行”，意味着国家机关权力的收缩
- B. 说明“一切权力属于人民”，这是共和国国家理想的立足点和皈依处
- C. 辨析权力和民众的关系，是对“为人民服务”执政理念的重申
- D. 权力的由来与使用，是一个负责任的政党必须给予民众的承诺与回答
24. 当然，《舌尖上的中国》如此热遍全国甚至热传海外，多少会有一些天时地利人和的机遇，未必能够完全复制。但《舌尖上的中国》在规律上却并非完全可遇不可求。如果文化产品能够立足生活，深度开掘，提升专业含量，尊重艺术创作规律，与观众的体验和情感自觉沟通，那么电视文化不仅可以创造收视率而且可以成为文化传承的最有效的载体。

这段文字没有直接支持的观点是：

- A. 《舌尖上的中国》是我国电视记录片的典型作品
 - B. 《舌尖上的中国》不一定具有普遍意义
 - C. 《舌尖上的中国》成为传承中国饮食文化的有效载体
 - D. 《舌尖上的中国》的成功有其内在的必然性
25. 作为我国首位女性航天员，刘洋当然有报道的价值，但这并不意味着一切都具有新闻价值，无限挖掘刘洋背后的“故事”，首先折射出的是一种舆论导向的迷失和新闻价值观的病态。典型人物的报道固然可以写得更有趣、更人性化一点，但不能为了刺激眼球把它当成娱乐八卦。

下列说法与作者观点不符的是：

- A. 对刘洋的新闻报道娱乐化是病态新闻价值观的表现
 - B. 无限挖掘刘洋背后的“故事”是新闻报道娱乐化的表现
 - C. 刘洋背后的某些“故事”不具有新闻价值
 - D. 所有娱乐八卦的报道都偏离了正确的娱乐轨道
26. 过去的5年，全国贫困人口从6431万减少到2688万人，但我国贫困标准一向比国际标准低，如果贫困标准上调到年人均纯收入1500元，贫困人口总数将增多，可能再回到9000多万甚至上亿，这段文字意在说明：

- A. 我国的扶贫需要向国际标准看齐
 - B. 过去5年扶贫成绩斐然
 - C. 我们的扶贫任务仍然艰巨
 - D. 我国贫困人口增近1亿
27. 公车改革的漏洞是一面镜子，它寓示着，只有让所有公共治理的漏洞都充分聚焦民意，社会才能进步，现在，公车改革新政遭遇质疑，让那些可能被权利钻空子的漏洞被及时曝光，尽管会让人看到改革滞重难行的一面，但我们更应该感受到民意洪流无法阻挡。每一项制度改革的漏洞，如果都能有民意与权力进行深度博弈，社会就一定能够渐渐步入民主与法治的轨道，一路畅行。

对这段材料的关键词提炼准确的是：

- A. 公车改革 民意 权力 博弈
 - B. 制度改革 轨道 权力 畅行
 - C. 漏洞 民意 权力 博弈
 - D. 公共治理 轨道 权利 畅行
28. 中央党校政法教研部教授林喆称，微博问政也存在无序发展的问题，认为群众通过个人微博举报一方面容易打草惊蛇，另一方面也给自己的人身安全带来一些问题，林教授说，我还是赞同公众通过正常渠道反应官员腐败问题，对林教授的观点理解正确的是：

- A. 微博反腐因网络暴力而失序
 - B. 微博不是反腐的首选途径
 - C. 微博反腐弊大于利
 - D. 微博反腐安全成本高
29. 形成思维惰性的心理因素有三个，一是因循守旧。当普朗克实际上已经冲破经典物理学框框，提出量子假说，向着微观世界迈步时，他却“作茧自缚”，仍然抱着传统的观念不放，力图把自己的新理论纳入经典物理学的轨道，结果徒劳无益。二是迷信权威。伽利略发现的“摆动定律”和“落体定律”，所以遭到那么多人的讥笑和反对，就是因为他推翻了被奉为权威的亚里斯多德的“摆幅短，需时少”和

“重者下落快、轻者下落慢”的错误观点。三是怕犯错误。德国化学家维勒在从无机原料合成有机尿素后，却在有机化学面前却步了。其原因，在他给老师的信里说得很清楚：有机化学就像是一片“原始热带森林”，是“一片狰狞的、无边无际的、使人没法逃得出来的丛莽，也使人非常害怕走进”。下列评价分析不符合原文意思的一项是：

- A. 作者精辟地指出了人类思维惰性的三个心理因素
- B. 文段引用名人事例，内容详实，深入浅出，却又无堆砌之感
- C. 作者倡导打破传统和权威的思维桎梏，大胆进行创新思维
- D. 思维惰性是因为人脑有一种依据传统观念作判断的强烈倾向

30. 取消高中阶段的文理分科，应当慎行。只有绝大部分学校的课程、师资等教育资源丰富起来时，我国高中教育阶段实施真正意义上的学分制教育才具有坚实的发展基础；只有包括高考和高校录取制度改革在内的教育整体改革逐步完成时，全面取消文理分科方可水到渠成。

全面取消分科要水到渠成，下面不属于条件要素的是：

- A. 我国绝大部分学校资源足够丰富
- B. 分步实施，先做试点，再全面推开
- C. 高考和高校录取制度改革等教育整体改革基本完成
- D. 我国高中教育实施真正意义上的学分制

31. 地球上生命的历史也就是生物与它们的环境相互作用的历史。动植物的形体和习性在很大程度上是由环境造成的，而反向作用，即生物对其所在环境的实际影响则相对较小。只有到了20世纪，作为物种之一的人类才获得了足够的力量，有效地改变了他所在的世界——大自然。

对“足够的力量”的理解恰当的一项是：

- A. 人类20世纪所取得的足以改变自然环境的力量
- B. 地球上的生物施加给自然环境的反向作用力
- C. 环境对地球上生物的作用和地球上生物对环境的反作用
- D. 人类所获得的空前的改变社会环境的力量

32. 研究人员指出，术语“生物降解”这个词的使用是不规范的。一些厂家说，这些产品如果在物理上发生了一些变化，则是可以降解的，它们一旦与其他物质混合，便会自然消失或者可以支持生物的成长。研究人员认为，真正的生物降解在需氧条件下可以分解成二氧化碳和水。在厌氧条件下它们则可以分解成甲烷和二氧化碳。然而，经他们试验的产品都不能降解，也不能达到上述标准。

这段文字意在说明：

- A. “生物降解”不是一个科学的术语
- B. “生物降解”这个说法名不副实
- C. “生物降解”在现实中不存在
- D. “生物降解”这个术语的运用有语法错误

33. 科学家试图寻找从极狭窄区域中释放出的强大电波，每次探测的时间约需200-400天，所获得的观察资料十分庞大。经过筛选，才获得了37个讯号，其中有5个讯号特别强烈。这些讯号大多数是沿着银河系分布的，

在银河系内有着大量的恒星，是智慧生命可能存在的地方。然而，至今还未发现具有已接收讯号特征的电波源，这37个讯号果真是外星人发出的吗？

这段文字划线部分的意思是：

- A. 不知道已接收到的讯号有没有电波源
- B. 不确定电波发出的源头已经接收到了讯号
- C. 已经接收到讯号，但不能确定其电波源
- D. 已经收到讯号，但没有发现电波源的特征

34. 钓鱼岛在日本染指之前并非“无主地”，中国早在明朝就发现和命名了钓鱼岛。发现意味着先占，先占即取得领土主权，这就是国际法则的“先占”原则。专家查阅相关资料发现，明朝已经将钓鱼岛纳入国家版图，一些使臣的笔记里还标明了中国渔船在钓鱼岛周转海域的航线。明朝以后的历代政府更是采取了开发、利用、管辖和保卫等措施，对钓鱼岛行使主权以有效统治。

对论据材料的提炼，不准确的一项是：

- A. 依从国际法则的“先占”原则
- B. 资料显示明朝已将钓鱼岛纳入国家版图
- C. 使臣笔记标明了钓鱼岛周转海域的航线
- D. 明以后历代政府已对钓鱼岛行使主权

35. 我们的文化历来提倡“和实生物，同则不继”，我们发展文化影响力，寻求的并非中国文化的单边统治，而是世界文化的多元共生，在一个多元的交响乐里，中国文化作为世界文化很重要的一个声部，参与其中，共同解决世界难题，开创一种新的精神世界。根据文段判断，中国要在世界范围发挥文化影响力，最该提倡的做法是：

- A. 在纽约时代广场放一部广告，或者在海外搞一场很精彩的演出或展览
- B. 以思想统一为目的、覆盖或同化他国思想，广建孔子学院，弘扬中华文化
- C. 发育中国文化根苗，向世界贡献新的思想，同他国一起解决人类共同的难题
- D. 接受西方思想，拿来外国做法，完善、改造和发展世界文化

36. 传统的“穿越”，对象是空间，如“穿越边境”“穿越沙漠”；现在大多的“穿越”，则是“穿越时空”的简称，是文艺作品中一种展开情节的流行手段。穿越电影、穿越电视剧、穿越小说等共同的特点，是人物会不断地往来于不同的时空。这种时空的乱容易造成受众的费解或误解，于是，“穿越”又有

了“玄”“乱”“令人莫名其妙”等意思。

该段内容主要说明：

- A. “穿越”一词被赋予了新含义，有了“玄、乱”等意思
- B. “穿越”成为文艺创作中一种展开情节的流行说法
- C. 因时空的错乱，“穿越”作品容易给受众造成误读
- D. “穿越”作品中的人物可以自由地往来于各个时空

在英国权威的科学杂志《自然》上刊登的一篇美国科学家的论文说，研究人员在实验室里把抗虫害转基因玉

米“BT玉米”的花粉撒在苦苣菜叶上，然后让蝴蝶幼虫啃食这些菜叶，四天之后，有44%的幼虫死亡，活着的幼虫身体也较小，而且没有精神。而另一组幼虫啃食撒有普通玉米花粉的菜叶，就没有发生类似现象。另据英国科学家的研究表明，与一般大豆相比，耐除草剂的转基因大豆中，防癌的成分异黄酮减少了，这些结论引起了科学家的担心，也引起了世界范围的不安。

苏格兰科学家普斯陶伊的转基因土豆研究，情况却有所不同。去年秋季，普斯陶伊称，自己一项未经发表的实验结果表明，年幼老鼠在食用转基因土豆10天后，其肾脏、脾和消化道都出现损伤，而且免疫系统也遭到破坏，他由此推论，转基因产品对人体也会有类似影响。他的结论据说得到了14个国家20名科学家的认同，但英国最具权威的科研机构英国皇家学会宣布，该学会组织的6人专家组经过详细评估发现，他的研究无论在设计上，还是在操作和数据上，都充满漏洞，他的结论无法成立。然而，这场在英国引起并跨出国界的轩然大波却至今未平。

转基因技术是一项先进的生物技术，这一点已在世界范围内取得共识。美国是转基因技术最先进的国家，据统计，美国的大学、科研机关和企业等已经开发出上百个转基因作物品种，其中仅有43个品种的安全性得到了美国食品和药物管理局的确认。面临转基因玉米和大豆正在进行大面积种植与大量出口以及由此引发争议的现状，美国国家科学院已经郑重承诺，将就转基因食品的安全性问题展开全面调查。看来，在发展转基因技术的同时，也是应当注意吸取任何一种现代工业技术发展过程中的教训的。

37. 引起“科学家的担心”和“世界范围的不安”的原因是：

- A. “BT玉米”抗虫害能力并不能达到百分之百，某些转基因大豆可能会致癌
- B. 转基因作物只能间接给人类带来益处，并且有的还影响人体健康
- C. 某些转基因作物会对生态环境造成危害，还有一些会削弱作物对人体健康的作用
- D. 转基因作物会毒杀昆虫或影响昆虫的发育，并会降低人体自身的防癌功能

38. 不符合第二自然段文意的一项是：

- A. 普斯陶伊认定，转基因作物会损伤动物内脏并破坏免疫系统，他声称是通过实验证明这一点的
- B. “有所不同”是针对第一自然段而言，意思是说普斯陶伊的结论没有引起科学家的担心与不安
- C. 普斯陶伊所引发的风波，表明了在世界范围内人们对这项先进的生物科学技术的某种担心与不信任
- D. 英国皇家学会认为普斯陶伊的结论不能成立，根据主要是普斯陶伊实验的科学性太差

39. 文中所说的“教训”指的是：

- A. 发展现代工业技术没有注意到它可能造成的危害而做到趋利避害
- B. 发展生物科学没有注意到它对生态平衡和人类健康的影响
- C. 现代工业技术没有注意到它的安全性及对人们心理的影响
- D. 在科学发展中，没有听取各方面的不同意见，没有做更大范围的细致研究

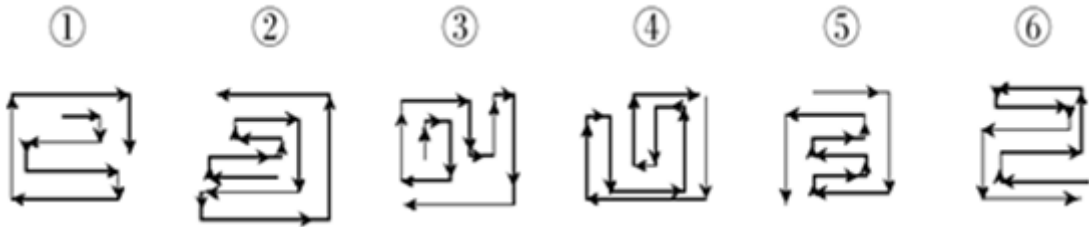
40. 同本文作者的观点倾向不一致的一项是：

- A. 转基因技术是一项先进的生物科学技术，但在推行的时候，要特别考虑到它的安全性问题
- B. 面对运用转基因技术所引起的世界范围的担心与不安，吸取教训总结经验才是正确的做法
- C. 转基因作物作为先进的生物科学技术成果所引起的担心和不安，绝不会妨碍这项技术的发展
- D. 实验证明，某些转基因作物自身有长亦有短，但完全否定这项技术成果，尚缺乏科学依据


第三部分 判断推理

本部分包括图形推理、定义判断、类比推理与逻辑判断四种类型的试题，请按每道题的答题要求作答。

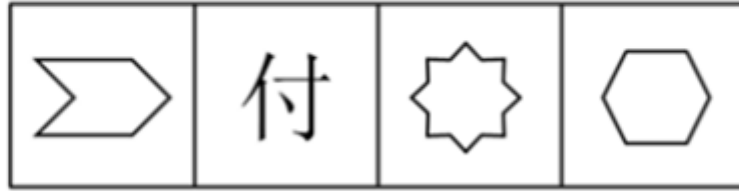
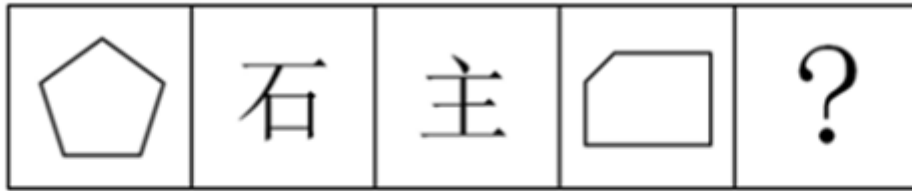
41. 把下面的六个图形分为两类，使每一类都有各自的共同特征或规律，分类正确的一项是：【2012-吉林甲级-041】



- A. ①②⑤，③④⑥
 - B. ①③⑤，②④⑥
 - C. ①③④，②⑤⑥
 - D. ①④⑥，②③⑤
42. 把下面的六个图形分为两类，使每一类图形都有各自的共同特征或规律，分类正确的一项是：【2012-吉林甲级-042】



- A. ①②⑥，③④⑤
 - B. ①③⑤，②④⑥
 - C. ①④⑤，②③⑥
 - D. ①⑤⑥，②③④
43. 从所给的四个选项中，选择最合适的一个填入问号处，使之呈现一定的规律性：【2012-吉林甲级-043】



A

B

C

D

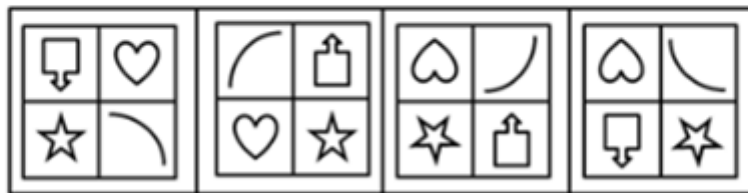
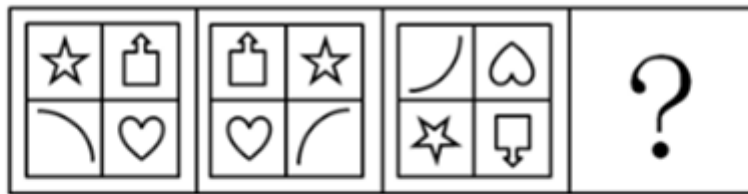
A. 如图所示

B. 如图所示

C. 如图所示

D. 如图所示

44. 从所给的四个选项中，选择最合适的一个填入问号处，使之呈现一定的规律性：【2012吉林甲级044】



A

B

C

D


A. 如图所示

B. 如图所示

C. 如图所示

D. 如图所示

45. 从所给的四个选项中，选择最合适的一个填入问号处，使之呈现一定的规律性：【2012-吉林甲级-045】



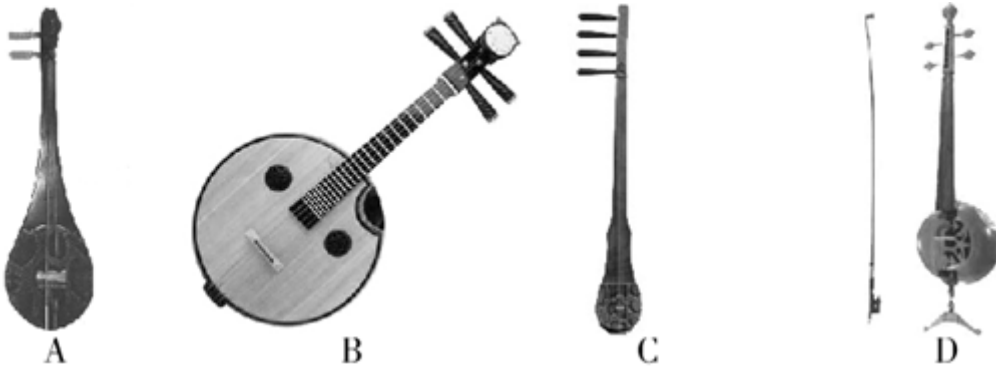
- A. 如图所示 B. 如图所示 C. 如图所示 D. 如图所示
46. 社会调整就是通过一定的社会权威，确定社会生活主体的行为方式，指明其发挥作用和发展的方向，有目的地将其纳入一定的秩序之中。社会调整根据其作用于人们行为的方式，和人们服从它的原因，可分为内在调整和外在调整。内在调整是人们学习一定社会群体的行为规定，外在调整则是通过外部压力使人们遵守一定社会规范的过程。
- 根据上述定义，下列各项中属于内在调整的是：
- A. 社会舆论的监督也是实现领导干部廉洁自律的途径之一
- B. 在警方新一轮的整肃之下，社会秩序明显好转
- C. 3岁的小明在父母的教育下，知道过马路要走斑马线
- D. 改革开放以来，国家高度重视并奖励科研，高水平的成果层出不穷
47. 内部行政行为是指行政机关作用于行政系统内部或者本行政机关内部行政行为，不属于人民法院行政诉讼的受案范围。行政机关工作人员对这类决定不服产生的争议应当向该行政机关或者其上一级机关或监察人事机关提出处理。
- 根据上述定义，下列各项中属于内部行政行为的是：
- A. 某高校与食堂员工签订合同，并对工作不合格的员工做出解除劳动合同的决定
- B. 某地人民政府为满足工作需要购进一批电脑，电脑安装后发现存在严重的质量问题，该政府决定向销售商追究其责任
- C. 某市人民政府发布教育发展纲要，要求有关部门加大对中小学服务的教育投入，并加强对中小学的服务力度
- D. 某地中小企业局将当地中小企业的信息网络化，将中小企业的发展需要公布在网上便于随时解决问题
48. 负强化也称阴性强化，就是对于符合组织目标的行为，撤销或减弱原来存在的消极刺激或者条件以使这些行为发生的频率提高。
- 根据上述定义，下列各项中属于负强化的是：

- A. 妈妈提出如果小明成绩有进步，就免去他每周末洗碗的任务
- B. 某部门经理通过发奖金的方法激励员工的工作士气
- C. 公司规定，如果在年底的业绩考核中排名末位就要被淘汰
- D. 车间的生产效率稳步提升，工厂提出以后不再给予生产效率奖
49. 行为犯和结果犯的划分，在于确定犯罪的既遂与未遂问题，行为犯是指仅实施构成要件所描述的行为，无需发生物质的危害结果即可构成既遂的犯罪，结果犯是指在构成要件中要求行为人的行为发生一定的物质性的危害结果才可构成既遂的犯罪。

根据上述定义，下列犯罪既遂形态中属于行为犯的是：

- A. 抢劫罪是指以非法占有为目的，以暴力、胁迫或者其他方法，强行劫取公私财物的行为
- B. 盗窃罪是指以非法占有为目的，秘密窃取数额较大的公私财物或者多次盗窃公私财物的行为
- C. 故意杀人罪是指故意非法剥夺他人的生命的行为
- D. 脱逃罪是指依法被关押的罪犯，被告人、犯罪嫌疑人脱逃司法机关羁押和监督的行为
50. 阮是中国的一种弹拨乐器，在古代被称为“秦枇杷”。公元三世纪左右，有一位叫阮咸的音乐家，非常善于弹奏这种圆形音箱的“秦枇杷”。由于他的演奏技艺非常高超，深受老百姓的喜爱，人们就渐渐用他的名字“阮咸”来称呼这种乐器。阮的外形很简单，由琴头、琴杆和琴身三个部分组成，琴头一般装饰有中国传统的龙或如意等骨雕艺术品，两侧装有四个弦鞘，阮的琴身是一个扁圆形的共鸣箱，由面板、背板和框板胶合而成。阮的结构原理、制作材料以及演奏技法和琵琶都有很多相同之处。

根据上述描述，下列四种乐器中哪一个是阮：



- A. 如图所示 B. 如图所示 C. 如图所示 D. 如图所示
51. 行政相对人指在行政法律关系中与行政主体相对应的另一方当事人，即行政主体的行政行为影响其权益的个人或组织。
- 下述甲某不属于行政相对人的是：
- A. 城管对用手机拍摄执法过程的甲某大打出手
- B. 民警对发黄色短信的甲某拘留
- C. 交警对违章驾车的甲某罚款200元
- D. 公安对非法入境的外国人甲某要求限期出境
52. 移送管辖：指人民法院在受理案件以后，发现本院对案件没有管辖权因而将案件移交给有管辖权的人民法院管辖的制度。

下列属于移送管辖的是：

- A. 基层法院立案后，发现本案涉案金额巨大，因而将案件移交中院审理
- B. 经上级法院同意，C区法院将本由自己管辖的案件交给H区法院审理
- C. 上级法院决定将本由自己管辖的案件交给H区法院审理
- D. 法院在对原告的起诉状审查后，发现该案不属于自己的管辖权范围，因而告知原告向有管辖权的法院审理
53. 事实行为：指行为人不具有设立、变更或消灭民事法律关系的意图，但依照法律规定客观上能引起民事法律后果的行为。
- 下列不属于事实行为的是：
- A. 遗嘱 B. 发明创造 C. 拾得遗失物 D. 撰写作品
54. 思维内容障碍是指妄想思维内容没有或缺乏事实根据，难以动摇，与病人的社会地位和文体水平不相称的病理信念，就是所谓妄想。妄想是精神病确定无疑的征象。
- 根据上述定义，下列不属于思维内容障碍的是：
- A. 罪恶妄想 B. 思维散漫 C. 被洞悉感 D. 被控制感
55. 内隐记忆：指暗含（或隐含）的、没有清楚阐述或者用语言表述出来的记忆。内隐记忆通过人们所做的事情显示出来，而不是被清楚的表述出来，有时也被称为程序性记忆或技能记忆。
- 下列不属于内隐记忆的是：
- A. 骑自行车 B. 习惯性的走进教室
- C. 小李说他还记得那场大雨 D. 拨打手机
56. 一家德国报纸组织了一次测验，在慕尼黑的一间商店里装了一面长镜，然后观察经过长镜的男女，看他们有着怎样的反应。8小时的观察中共有1620个女人经过这面长镜，1/3停下来短暂望她们自己；而差不多所有600个经过长镜的男人都停下来好好望自己，大多数又往后望，看看是否被人注意。
- 从以上叙述中可以得到的结论是：
- A. 女人更注重自己的形象 B. 女人更喜欢照镜子
- C. 男人更注重其他人的想法 D. 男人更注重自己的形象
57. 为了提高学习成绩，某班学生生病了也坚持在教室学习，但在高考中，该班学生没有一个考上重点大学，由此可见，学习时间长导致考试成绩差。
- 以下哪项如果为真最能削弱上述论证：
- A. 如果不坚持学习，该班考试成绩可能更不理想
- B. 该班同学学习态度好
- C. 生病了休息不会耽误考试成绩
- D. 该班同学考试发挥不好
58. 刘红发现在每次考试前喝高浓度加蜂蜜的枸杞茶，她发挥得就特别好，答题速度快，准确率高。因此，她认为要么是蜂蜜要么是枸杞含有的化学成分对她考试发挥好起了重要作用。
- 以下哪项为真，能削弱刘红上述的结论：
- ①刘红喝高浓度加蜂蜜的大枣茶后考试发挥的效果和喝高浓度加蜂蜜的枸杞茶考试发挥的效果一样
- ②刘红喝咖啡后考试发挥的效果与喝高浓度加蜂蜜的枸杞茶考试发挥的效果一样好
- ③李明考试发挥的效果比刘红好，但是李明从不在考试前喝高浓度加蜂蜜的枸杞茶

A. ①②③

B. ①

C. ③

D. ②

59. 世界经济出现缓慢复苏已经得到许多国家和经济学者的确认，可是许多国家的失业率却在继续上升。在经济有所复苏的情况下，失业率继续上升的主要原因是劳动生产率的提高和经济结构的调整。

以下哪项如果为真，最能加强上述断定：

A. 应对危机，企业往往以降低成本、提高效率的办法减轻危机对企业的影响，尽可能少用或不用员工，企业劳动生产率有明显提升，并足以抵消劳动力的减少

B. 在遇到经济危机的情况下，失业率会降低

C. 一个国家为了减少失业而增加就业，脱离消费需求是不可取的

D. 经济复苏了，就业形势马上出现好转

60. 有一项对500名25~35岁女性进行的科学实验，设置两个实验组，第一组实验者长期服用阿司匹林，第二组实验者没有服用阿司匹林。结果发现，长期服用阿司匹林者眼角比不服用阿司匹林者眼角出现皱纹要晚，而且皮肤光滑柔嫩。这一实验表明，阿司匹林有可能成为一种廉价有效的防皱、保青春药物。

以下哪项如果为真，最能支持上述结论：

A. 两组被实验者的眼角皮肤在实验前是相当的

B. 两组被实验者的人数相等

C. 第一组被实验者服用的阿司匹林的量较大

D. 阿司匹林是人工合成的

61. 张明说：如果选李明当教练，那么王芳就要当领队。

李红：我不同意。

以下哪项最符合李红的意思：

A. 选李明当教练，但不能让王芳当领队

B. 如果选李明当教练，就不能让王芳当领队

C. 不选李明当教练，但要让王芳当领队

D. 如果不选李明当教练，就要让王芳当领队

62. 天文学家说：“如果太阳毁灭，则银河系中有外星人。”

与天文学家意思相同的是：

A. 太阳不会毁灭或银河系中有外星人

B. 如果银河系中有外星人，则太阳不会毁灭

C. 如果银河系中有外星人，则太阳毁灭

D. 银河系中有外星人或太阳毁灭

63. 甲专家针对我国国内的煤炭市场结构已经供大于求的局面。提出：“要么限产以保价，要么降价。”

乙说：“我不同意”。

如果乙坚持自己的意见，哪个可以断定乙在逻辑上必须同意：

A. 限产来保价但不降价

B. 如果既不限产来保价也不降价不行的话，就必须既降产又降价

- C. 既降产又降价
D. 降价但不降产来保价
64. 可能所有报考文秘专业的考生都想从事秘书工作。
以下哪项断定的含义与上述断定最为一致：
A. 可能有的报考文秘专业的考生不想从事秘书工作
B. 可能有的报考文秘专业的考生想从事秘书工作
C. 必然所有的报考文秘专业的考生都不想从事秘书工作
D. 必然有的报考文秘专业的考生不想从事秘书工作
65. 随着健康出行现今日渐受宠，以探险为主题的户外运动，拥有了越来越多的粉丝。近日一项对2011年度户外安全事故原因的调查显示，迷路是户外安全事故的首要原因，其中迷失方向121起，找不到出去路线32起，体力不支被困13起。因此，专家建议要防止迷路，首先要看攻略，熟悉路线，不能盲目追求美景而忽视了最基本的人身安全。
下列哪项为真，对上述统计结果质疑力度最弱：
A. 2011年度因“旅游”主观疏忽大意的户外安全事故170起
B. 因缺少专业领队而发生的户外安全事故逐渐增多
C. 2011年度共发生安全事故401起
D. 2011年度因户外装备欠缺而发生的事故超166起
66. 有研究人员指出，自工业革命以来，人类活动的能力和范围都显著增加。与此同时，海洋的pH值，却在逐渐下降。因此人类活动与海洋的变化之间具有因果关系，这将给海洋生态系统造成不可逆转的损害。但是，反对者认为，大气中本身含有的二氧化碳才是导致海洋酸化的罪魁祸首。如果没有海洋吸收二氧化碳，大气中的二氧化碳将远高于当前水平，全球变暖的影响将更加严重。
以下哪项如果为真，最能削弱反对者的观点：
A. 据统计，工业革命以来大气中的二氧化碳含量明显增加
B. 工业革命以前的人类活动并没有导致海洋酸化
C. 二氧化碳不会全部被海洋吸收，有相当一部分残留在大气中
D. 到2100年海水酸度将下降到7.8，那时海水酸度将比1800年高150%
67. 逻辑学有用与否，取决于它对学习的人能给予多少训练以达到目的。因为这门科学乃是思维的思维。但是就逻辑学作为真理的绝对形式来说，尤其是就逻辑学作为纯粹真理的本身来说，它决不单纯是某种有用的东西。但如果凡是最高尚的、最自由的和最独立的事物也就是最有用的事物，那么逻辑学也未尝不可认为是有用的。不过它的用处，却不仅是对于思维的形式练习，而必须另外加以估价。
上述论证如果成立，必须补充以下哪项作为前提：
A. 事物的高尚、自由和独立性是事物有用的充分条件
B. 逻辑学是最高尚的、最自由的和最独立的
C. 逻辑学只有给予学习的人以训练，它才是有用的
D. 单纯某种有用的东西并不是纯粹真理本身
68. A股市场的投资者乐于使用大宗交易的方式，因为这种交易方式往往是定制式交易，两个账户间可以“无缝

拼接”，但苦于其门槛过高。上交所今日发布新政，内容是将大宗交易的门槛大幅降低。业内人士认为这有利于降低A股市场股价波动。因为根据以往的规定，A股大宗交易最低额度为50万股或300万元人民币，这样大笔的交易一旦进入二级市场套现，无疑将对个股股价产生冲击。因此交易所把门槛降低尽量避免批量的买卖交易影响个股股价，这是从稳定市场价格方面来考虑的。

以下哪项如果为真，能够削弱新政的作用：

- A. 50万股或300万元人民币以下集中抛售个股的大宗交易明显增多
- B. 没有降低门槛之前，大宗交易的数量一直保持在一个较为稳定的范围内
- C. 门槛降低后，基金可以通过这样的方式来减仓，同时可以降低建仓成本
- D. 随着交易门槛降低，大宗交易行情火爆，有投资者盈利超过30%

69. 某单位统计上班迟到人数，一部门四人对是否迟到的说法如下：

赵：我没有迟到

李：王和赵至少有一个没有迟到

王：我们中有人迟到

张：我们四人都没有迟到

上述四人中有两人说的是真话，有两人说的是假话，则以下哪项断定为真：

- A. 说真话的是赵和张
- B. 说真话的是赵和李
- C. 说真话的是李和王
- D. 说真话的是李和张

70. 一项调查显示，53%的被调查者赞成大学生当月嫂，但是，当问到自己家里是否会请大学生月嫂时，却有近60%的人表示“不会”。

以下哪项陈述如果为真，能够合理地解释上述看似矛盾的现象：

- A. 在选择“会请大学生当月嫂”的人中，只有25%的人想让大学生从事家务劳动
- B. 调查中有52%的人表示只愿意付给大学生月嫂2000到3000元的左右的月薪
- C. 在不赞成大学生当月嫂的人中，有40%的人认为，大学生应该选择与自己专业相关的领域
- D. 赞成大学生当月嫂的人中，有59%的人认为做家政工作对大学生自身有益，只有41%的人认为大学生月嫂能提供更好的家政服务

第四部分 常识判断

根据题目要求，在四个选项中选出一个最恰当的答案。

71. 古希腊人将神塑造为生动逼真的人的形象，这在一定程度上体现了古希腊的：

- A. 人文主义思想
- B. 无神论思想
- C. 科学思想
- D. 民主思想

72. 下面诗句中反映古代选官制度的是：

- A. 黄沙百战穿金甲，不破楼兰终不还
- B. 春风得意马蹄疾，一日看尽长安花
- C. 朱门沉沉按歌舞，厩马肥死弓断弦
- D. 金多众中为上客，夜夜算缗眠独迟

73. 有人依据玛雅太阳历提出“2012世界末日说”。科学界多年的观测和研究表明：2012年可能大规模爆发太阳耀斑，会影响地球通讯系统，但不会导致地球文明毁灭。
- 下面说法正确的是：
- A. “世界末日说”对当代科学研究具有指导意义
 - B. “世界末日说”缺乏科学依据，不是对客观存在的反映
 - C. “世界末日说”与太阳耀斑爆发的内在联系，体现了联系的普遍性
 - D. 科学界对太阳耀斑的爆发及其后果的预测，反映了联系的客观性
74. “你最痛苦的时候，窗外有小鸟在快乐地歌唱”，这句格言的寓意是：
- A. 学习小鸟快乐生活
 - B. 人的尊严在于思想
 - C. 世界的本质是客观的
 - D. 思维是客观存在的反映
75. 人生在平淡中寻找幸福，在细微中品味幸福，在孤独中守望幸福，在遗忘中怀念幸福。幸福的生活需要哲学的指引，这是因为：
- A. 哲学可以解决一切问题
 - B. 哲学是哲学家对自己实践活动的总结
 - C. 真正的哲学就是生活本身
 - D. 哲学为人们生活提供有益的指导
76. 当前，拥有私家车的人越来越多，我国正在迈向汽车社会。汽车社会的来临呼唤“汽车道德”——如自觉遵守交通规则、不闯红灯、不酒驾等。从唯物史观看，“汽车道德”的出现体现了：
- A. 世界是不断变化发展的
 - B. 社会意识具有反作用
 - C. 社会意识具有相对独立性
 - D. 社会存在决定社会意识
77. 今年上半年，我国一些地区出现蔬菜收购价格下跌、销售不畅的现象。为减少菜农损失，各级政府采取了一些措施。下列措施中，有助于解决“菜贱伤农”问题的是：
- A. 加强种植技术培训，提高农业劳动生产率
 - B. 增加蔬菜流通环节，提高产品附加值
 - C. 建立供求信息平台，调整蔬菜种植结构
 - D. 减少蔬菜种植数量，通过稀缺提高价格
78. 许多企业在自己产品的外包装袋上印有“建议零售价”，但各地市场上实际零售价都与之有较大的差距，这是因为“建议零售价”：
- A. 不能及时反映市场供求关系的变化
 - B. 不能反映各企业间劳动生产率的差比，属于不正当竞争
 - C. 是人为确定的，而商品的市场价格是由供求关系决定的
 - D. 高于价值，违背了价值规律
79. 近年来，在开发房地产的热潮中，一些公司为追求更多的利润，热衷于投资兴建高档豪华的“贵族式”住宅、饭店等，结果占用了大量资金，市场却冷冷清清，有的公司不堪重负而被迫下马。这一事实说明：
- A. 竞争是市场经济的基本特征
 - B. 激烈的市场竞争使资源优化配置
 - C. 市场调节具有滞后性
 - D. 市场调节具有盲目性
80. 我国公民甲乙二人乘坐中国客轮去美国，途经日本海域时，甲乙二人发生争吵，甲掏出水果刀，连续向乙

- 猛刺五刀，遂将乙刺死，甲的行为：
- A. 适用于中国法律
 - B. 可适用于中国法律，也可适用于日本法律
 - C. 适用于美国法律
 - D. 适用于日本法律
81. 甲遭遇仇敌追杀，情急之下，从一住户的窗户跳入屋内躲避，不想将睡在窗边的一小孩踩成重伤。则甲的行为性质为：
- A. 过失致人重伤罪
 - B. 防卫过当
 - C. 紧急避险
 - D. 意外事件
82. 梅花绽放的时候，距离梅花很远的地方就能闻到花的香味，梅花的芳香分子扩散到空气中，这种现象说明了：
- A. 分子在不停地做无规则的运动
 - B. 分子间存在间隙
 - C. 分子间同时存在斥力和引力
 - D. 分子的质量很小
83. 中国旧式房屋，天花板高大，所以客厅中间墙壁适宜挂上一幅巨大字画，称为：
- A. 斗方
 - B. 中堂
 - C. 小品
 - D. 屏
84. 十八大报告提出，要建设学习型、服务型、创新型的马克思主义执政党，必须全面加强党的思想建设、组织建设、作风建设、制度建设和：
- A. 反腐倡廉建设
 - B. 民主建设
 - C. 纪律建设
 - D. 文化建设
85. 下列关于植物的认识正确的是：
- A. 一株向日葵很漂亮，它只是一朵花
 - B. 无花果是不开花就能结果的
 - C. 仙人掌科植物生活在干旱的环境中，经过长期的自然选择，其叶特化成刺状
 - D. 香蕉、芭蕉分别是香蕉树、芭蕉树所结的果实，都是属于木本植物
86. 下列选项中不属于我国著作权法所保护的作品是：
- A. 法院的判决书
 - B. 没有剧本的小品表演
 - C. 建筑施工图纸
 - D. 用C++语言编写的计算机程序
87. 明朝开国皇帝朱元璋曾给他的手下算过一笔账：老老实实地当官，守着自己的俸禄过日子，就好像守着“一口井”，井水虽不满，但可天天汲取，用之不尽。朱元璋的“一口井”思想对我们的启示是：
- A. 个人活动受社会条件和社会规律的制约
 - B. 把握眼前其实就是珍惜未来，为政清廉其实就是留住幸福
 - C. 人生的价值在于奉献
 - D. 个人利益和集体利益是相互依存、相互转化的
88. 变脸，川剧表演艺术的特殊技巧之一，它是揭示剧中人物内心思想感情的一种浪漫主义手法。把不可见、不可感的抽象的东西变成可见、可感的具体的东西。变脸的手法大体上分为三种，他们是“抹脸”、“吹脸”、“扯脸”，此外，还有一种“运气”变脸。许多的脸谱已经有它显著的特质，说明人物的忠奸邪正，

而“变脸”更有助于个性的强调与表现感情变化的发展过程。这一特色：

- A. 是源于艺术家的主观想象
- B. 是对客观真实的真实反映
- C. 是源于客观实在的艺术抽象
- D. 是高于现实的科学预测

89. 某保安公司与湖南省邵东县综合治理委员会办公室签订协议，以每月7.5万元的承包费，在夜里10点到次日早6点，为县城区提供有偿治安巡逻服务。“转包”治安权这一事件说明了：

- A. 因地制宜地维护治安是政府的基本职责
- B. 保安巡逻是治安防控的协助力量
- C. 社会治安需要综合治理
- D. 某些行政执法部门缺乏法制观念，滥用权力

90. 2012年8月26日，在36人遇难的延安特大交通事故现场，安监局局长一个“微笑”的表情被晒到网上从而被人肉搜索，继“微笑门”后又牵出“手表门”，近年来，“晒黑族”异军突起，他们将社会上的不平事在网上进行披露，以惊醒其他网民或政府部门，推动问题的解决，“晒黑族”的一个口号就是：“只有不想晒的，没有不能晒的。”对“晒黑族”的行为认识正确的有：

- ①有利于维护社会正义
- ②拓宽了公民直接管理国家事务渠道
- ③是公民参与民主政策的途径，是社会进步的表现
- ④必须坚持权利与义务统一的原则，做到有序参与

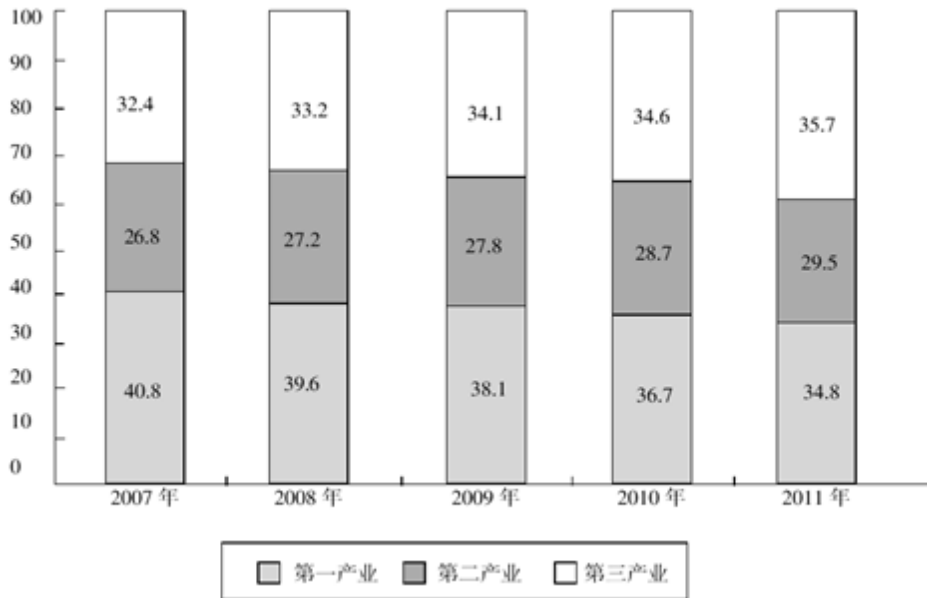
- A. ①②
- B. ②③
- C. ①④
- D. ③④

第五部分 资料分析

针对下列图、表或文字回答问题。你应根据资料提供的信息进行分析、比较、计算、处理。你可以在题本上运算。

2011年年末全国就业人员76420万人，其中城镇就业人员35914万人。2011年度全国农民工总量为25278万人，比上年增加1055万人，其中外出农民工数量为15863万人。

图 近五年全国就业人员产业构成情况 单位：%



2011年全年城镇新增就业人员1221万人，有553万城镇失业人员实现了再就业，就业困难人员就业180万人。年末城镇登记失业人数为922万人，城镇登记失业率为4.1%。全年全国共帮助5.7万户零就业家庭实现每户至少1人就业。组织2.4万名高校毕业生到农村基层从事“三支一扶”的工作。

2011年年末全国参加城镇基本养老保险人数为28391万人，比上年末增加2684万人。其中，参保职工21565万人，参保离退休人员6826万人，分别比上年末增加2163万人和521万人。年末参加基本养老保险的农民工人数为4140万人，比上年末增加856万人。年末参加企业基本养老保险人数为26284万人，比上年末增加2650万人。

企业退休人员基本养老金待遇提高，且全部按时足额发放。年末纳入社区管理的企业退休人员共4725万人，占企业退休人员总数的77.3%，比上年末提高1.1个百分点。

全年城镇基本养老保险基金总收入16895亿元，比上年增长25.9%，其中征缴收入13956亿元，比上年增长25.6%。各级财政补贴基本养老保险基金2272亿元。全年基金总支出12765亿元，比上年增长20.9%。年末基本养老保险基金累计结存19497亿元。

91. 2011年年末第一产业与第二产业就业共有：

- A. 54142万人 B. 27281万人 C. 40506万人 D. 49138万人

92. 2011年年末全国参加城镇基本养老保险人数中参保职工比重与上年相比较：

- A. 减少了0.5个百分点 B. 增加了5个百分点
C. 增加了0.5个百分点 D. 减少了5个百分点

93. 2011年年末企业退休人员总数为：

- A. 6113万人 B. 5212万人 C. 4725万人 D. 6658万人

94. 若年初参加城镇基本养老保险人数与年末相同，2011年人均城镇基本养老保险基金收入为：

- A. 3943元/人 B. 5951元/人 C. 4862元/人 D. 4659元/人

95. 根据资料分析，以下说法正确的是：

- A. 2011年外出农民工数量占农民工总数超过70%
B. 2010年年末全国城镇就业人员达到35000万人

1

- C. 2007-2011年共有四年第三产业人员比重超过 $\frac{1}{3}$
- D. 2007-2011年第二、三产业从业人数所占比重持续增加

style="text-align:center">

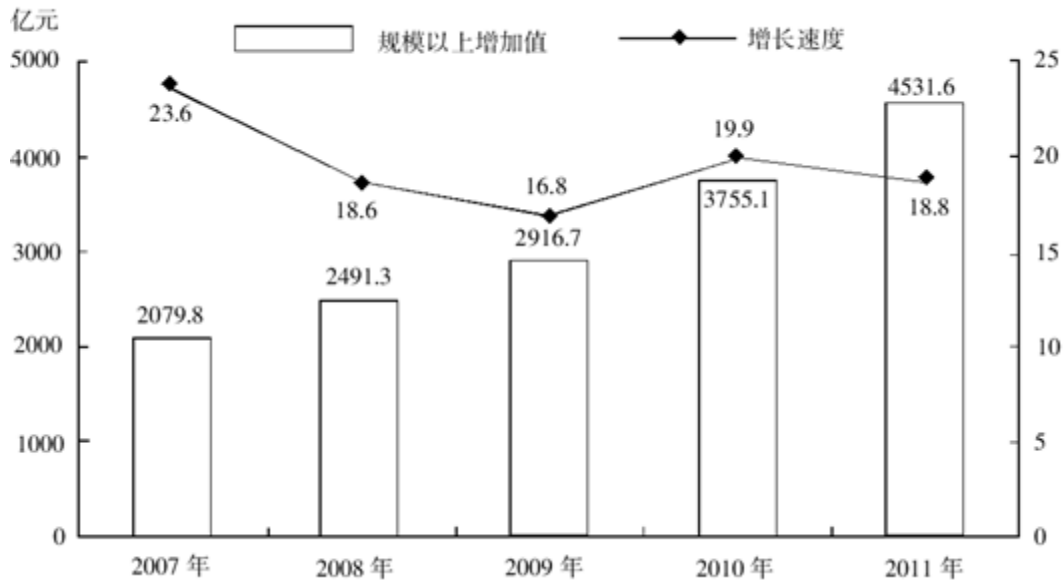
2011年吉林省规模以上工业企业增加值 单位：亿元

指标	工业增加值	增长率(%)
总计	4531.64	18.8%
轻工业	1316.58	24.9%
重工业	3215.06	16.5%
在总计中:国有控股企业	1851.08	9.8%

2011年吉林省重点产业工业增加值

	增加值(亿元)	增长(%)	贡献率(%)
规模以上工业总计	4531.64	18.8	
重点产业总计	3742.97	17.9	78.7
一、交通运输设备制造业	1297.00	12.4	21.3
其中:汽车	1233.18	10.6	17.7
二、石油化工业	678.67	12.8	9.8
三、食品产业	706.47	24.3	18.8
四、信息产业	95.04	33.7	3.5
五、医药产业	234.87	32.4	8.0
六、冶金建材产业	566.49	23.7	14.3
七、能源产业	83.79	14.3	1.5
八、纺织产业	80.65	16.1	1.5

2007-2011年全省规模以上工业增加值及其增长速度



96. 2011年吉林省规模以上轻工业增加值与重工业增加值的比例大约是：
- A. 1:2 B. 1:2.8 C. 1:2.4 D. 1:3.1
97. 以下说法错误的是：
- A. 对吉林省工业影响最大的三个行业依次为交通运输设备制造业、食品产业、汽车产业
- B. 2011年吉林省国有控股企业在工业发展中仍占主导地位
- C. 重点产业中增长速度最快的三个行业是信息产业、医药产业、食品产业
- D. 重点产业中交通运输设备制造业对工业贡献最大
98. 若按照2011年的增长率（18.8%），2012年吉林省规模以上工业增加值为：
- A. 5468.7亿元 B. 5433.4亿元 C. 5383.5亿元 D. 4901.12亿元
99. 近五年吉林省规模以上工业企业：
- A. 增加值增长速度逐年上升 B. 增加值增长速度逐年下降
- C. 增加值逐年减少 D. 增加值逐年增加
100. 吉林省规模以上工业企业：
- A. 近五年增加值平均每年增加490亿元
- B. 近五年增加值平均每年增加613亿元
- C. 增加值2011年比上年增加800亿元
- D. 增加速度2011年比上年提高了1.1个百分点

2011年，我国粮食生产创造了新的历史记录，达到了2020年粮食产能规划水平。粮食总产量登上了5亿5千万吨新台阶，初步统计，2011年全年粮食总产量达到57121万吨，比2010年增长4.5%。

2011年，各级政府抓粮食生产始终不放松，实现了夏粮、早稻、秋粮生产季季增长，是近些年来少有的。全国夏粮总产量12627万吨，比去年增产321万吨，增长2.5%；早稻总产量3276万吨，比去年增产143万吨，增长4.5%；秋粮总产量41218万吨，比去年增产2018万吨，增长5.1%。

2011年，全国三大粮食作物总产量超过5亿吨，达到51045万吨。稻谷总产量突破2亿吨大关，达到20078万吨，比去年增产503万吨，增长2.6%；小麦总产量11792万吨，比去年增产274万吨，增长2.4%；玉米总产量19175万吨，比去年增加1450万吨，增长8.2%，玉米大幅度增产使我国粮食生产结构得到进一步改善。2011年，全国13个粮食生产省（区）粮食总产量达到43422万吨，比2010年增产2238万吨，增产5.4%，占全国总增产量的90.5%，粮食主产区的稳定增产作用得到进一步发挥。

东北及内蒙古四省（区）共增产粮食1386万吨，增产量占全国总产量的56%，其中黑龙江增产558万吨，增长11.1%，吉林增产329万吨，增长11.6%，辽宁增产270万吨，增长15.3%，内蒙古增产229万吨，增长10.6%。

粮食产量超5千万吨的黑龙江、河南两省，2011年粮食生产更上一层楼，粮食总产量分别达到5571万吨和5543万吨，双双登上5500万吨新台阶。

主要受气候影响，贵州和重庆全年粮食总产量减产，贵州减产235万吨，下降21.2%，重庆减产29万吨，下降2.5%，三季粮食中，夏粮产量减产的有甘肃、宁夏、新疆三省（区）；早稻产量减产的有安徽、湖北、广西三省（区）；秋粮产量贵州减产279万吨，下降29.3%，重庆减产30万吨，下降3%，上海略有减产。

101. 2011年全国粮食总产量比2010年增产：

- A. 2570万吨 B. 1640万吨 C. 2000万吨 D. 2460万吨

102. 2011年我国秋粮产量占总产量的比重为：

- A. 8% B. 72% C. 27% D. 22%

103. 全国三大粮食作物总产量增长速度由快到慢依次为：

- A. 玉米、稻谷、小麦 B. 稻谷、玉米、小麦
C. 小麦、稻谷、玉米 D. 小麦、玉米、稻谷

104. 下列说法错误的是：

- A. 2011年我国夏粮、早稻、秋粮季季增产
B. 2011年粮食产量超5千万吨的有黑龙江和吉林省
C. 2011年我国九成以上增产来自粮食主产区
D. 2011年我国稻谷、小麦、玉米三大作物总产量超5亿吨

105. 上述资料表明：

- A. 贵州和重庆夏粮产量减产
B. 甘肃、宁夏、新疆三省（区）全年粮食总产量减产
C. 东北及内蒙古四省（区）粮食增长速度最快的是内蒙古
D. 2011年，全国粮食主产省（区）粮食总产量占全国总产量的76%

扫一扫，对答案

