

2013年吉林行测真题（乙级）

真题更新时间：2022年09月26日23:37:46

扫描下方二维码下载小麦公考APP 刷海量题库掌握最新热点



QQ扫码直接下载

微信扫码到应用市场下载

支持所有机型哦

第一部分 数量关系

在这部分试题中，每道试题呈现一段表述数字关系的文字，要求你迅速、准确地计算出答案。你可以在草稿纸上运算。

1. 1, 6, 18, 40, ()

- A. 65 B. 70 C. 68 D. 75

2. 2.1, 6.3, 12.5, 20.7, ()

- A. 31.9 B. 29.9 C. 30.9 D. 27.9

3. $\frac{5}{3}$, $(\frac{4}{3})^2$, $(\frac{11}{9})^3$, $(\frac{7}{6})^4$, ()

【2013-吉林乙级-003】

- A. $(\frac{11}{6})^5$
B. $(\frac{8}{7})^5$
C. $(\frac{15}{13})^5$
D. $(\frac{17}{15})^5$

4. 1, 4, 64, 4096, ()

- A. 1048576 B. 131072 C. 262144 D. 65536

5. $\sqrt{2}$, $\frac{3}{2}$, $\frac{2\sqrt{7}}{3}$, $\frac{\sqrt{65}}{4}$, ()

【2013-吉林乙级-005】

- A. $\frac{\sqrt{126}}{5}$
B. $\frac{7\sqrt{5}}{5}$
C. $\frac{4\sqrt{6}}{5}$
D. $\frac{\sqrt{343}}{5}$

6. 两个工人完成一项生产任务，甲单独干一天可以完成任务的 $\frac{1}{4}$ ，乙单独干两天可以完成任务的 $\frac{3}{4}$ 。如何安排两人，使其在最少的整数天完成任务：

- A. 甲单独干三天 B. 甲、乙一起干一天，乙再干一天
C. 甲、乙一起干两天 D. 甲单独干一天，乙单独干两天

7. 小伟、爸爸和爷爷三人年龄和为98岁，已知三代年龄差为每一代至少25岁，三人年龄为整数，小伟最

大年龄为：

- A. 4 B. 6 C. 5 D. 7
8. 七夕节，某市举办大型公益相亲会，共42人参加。其中女生20名，每人至少相亲一次，共相亲61次，则至少有一名女生至少相亲多少次：
- A. 6 B. 4 C. 5 D. 3
9. 篮球队有12名队员，其中有中锋3人，前锋5人，后卫4人；上场5人中必有一名中锋，两名前锋，两名后卫；有一名中锋和一名后卫必上，则教练可选择安排上场的组合有多少种：
- A. 50 B. 30 C. 40 D. 20
10. 某大型商场销售商品的收入款，三月份为25万元，五月份为36万元，如果按照每月相同增长率的话，计算6月份的收入款是多少万元：
- A. 50.2 B. 43.4 C. 43.9 D. 43.2

第二部分 言语理解与表达

本部分包括表达与理解两方面的内容。请根据题目要求，在四个选项中选出一个最恰当的答案。

11. ①据朝鲜媒体报道：其导弹已处于发射待命状态。已经锁定_____的目标坐标。只需一按键就可发射。
②别看我上了年纪，心态可是_____着呢。
③第十届中国艺术节在注重惠民、创新、交流和参与性的基础上，更_____节俭办节的原则，所有的演出者都是来自全国各地的观众。
- 依次填入下列横线处词语，最恰当的一组是：
- A. 精确 年青 遵从
B. 精确 年轻 强调
C. 精准 年青 遵从
D. 精准 年轻 强调
12. “贵脸”_____权利，“富脸”_____金钱，“穷脸”_____麻烦。要想让官员们的“阴阳脸”转过来，就必须从提高老百姓的政治、经济地位入手。
- 依次填入下列横线处词语，最恰当的一组是：
- A. 只能带来 能够带来 必须带来
B. 必须带来 就会带来 可以带来
C. 可以带来 能够带来 就会带来
D. 能够带来 可以带来 只能带来
13. 对于官员的财产公开，任何一个地方“_____”的勇气都应当肯定。不过，仍希望有更完整、配套以及全局性的官员财产公开办法出台，以形成对这一制度的真正推行。
- 填入下列横线处词语，最恰当的一组是：

- A. 试水 B. 试验 C. 破冰 D. 尝试

14. 1. 对这次关于解决城市雾霾天气的讨论会上，他习惯从大的方面思考，而我希望从具体方法和措施着手，谈不到一块去，甚至有些_____。
2. 在房产税尚未_____之际，两派观点的代言者也纷纷浮出水面。比如一向以犀利著称的经济学家郎咸平，对于房产税的征收就摆出一副抵制到底的态度。
3. 空谈误国，实干兴邦。要保持社会经济良好的发展态势，就必须力戒浮躁心态，坚决反对_____，而应大力发扬求真务实的精神。

依次填入下列横线处词语，最恰当的一组是：

- A. 南辕北辙 尘埃落定 坐而论道
- B. 风马牛不相及 众口一词 形式主义
- C. 文不对题 拨云见日 夸夸其谈
- D. 对牛弹琴 异口同声 纸上谈兵

15. 值得肯定的是，与铁路货运改革方案相配套的机构改革，资源整合，人员转岗已在各个小铁路局推行，反应良好。说明第一步迈得不错。然而，与其他改革一样，铁路改革不会_____，更难_____，在推进改革，赢得市场的同时，防止内部恶性竞争，防范运输安全事故，既是铁路应及时吸取的教训，也是新一轮改革路上的重大考验。

依次填入下列横线处词语，最恰当的一项是：

- A. 一步到位 一蹴而就 B. 一路顺风 一举成功
- C. 顺风顺水 一步登天 D. 一帆风顺 一蹴而就

16. 当前，我国超过90%的智能手机使用国外手机操作系统，其核心技术仍掌握在国外公司手里，而手机用户下载使用来路不明的软件或盗版软件，则又将会面临病毒感染、信息泄露等更多风险，同时，在移动互联网安全领域，迄今为止我国还没有建立对应用软件的安全审查机制，相关的法律条文还很少。因此，我国智能手机存在的诸多安全隐患不容小视。

文中对我国智能手机存在安全隐患的概括不恰当的一项是：

- A. 缺乏法律保障 B. 缺乏召回机制 C. 缺乏安全审查 D. 缺乏核心技术

17. “中国式过马路”引发了“国人素质差”的论调。但事实上，中国式路权分配中，行人等待红灯的时间过长是一大问题，经研究，美国行人可忍受等待时间为45-60秒，德国人的忍耐限度是60秒，杭州行人可容忍等待时间为70-90秒。相关调查显示，杭州市区红灯时长普遍超过100秒，最长达145秒。在京沪等一线城市行人过街等待时间超过120秒甚至180秒。2010年上海最牛交警英文怒斥外国人闯红灯的视频红遍网络。可见，在中国的这种交通管理制度下，被公认为素质高的外国人也会无视红灯，来一把“中国式过马路”。

对文段的语意理解不恰当的一项是：

- A. 对于一些社会现象，仅从道德角度进行评判过于武断
- B. 中国式交通管理制度造成国人素质差的问题，亟待改善
- C. 国人素质差的论调有失公允，要客观、科学分析再下结论
- D. 等红灯时间过长是引发“中国式过马路”最直接的原因

18. 目前，我国正在进行文化体制改革与经济结构调整，发展文化经济有助于经济结构调整，换言之，_____，文化发展了，经济也就转型升级了，文化份额的增加和文化产品实力的提高对一个国家和

地区经济的转型升级有巨大的直接作用。

填入上文空白处的语句，衔接最好的一项是：

- A. 加快我国经济转型升级，应当多从文化上寻找出路
- B. 文化经济在经济结构中处于重中之重的地位
- C. 经济结构决定文化发展，文化产业促进经济进步
- D. 发展文化经济是调整和改革我国经济结构的前提

19. 公共监督如果总是折戟在烂尾新闻的诡异之中，光靠热情与理性又有何用？一些影响恶劣的公共事件，不仅事关民主，更关系到公共权益与权力公信。烂尾的结果，令制度与法律情何以堪？看来公共事件后，当与应急机制同时启动的，还应有公开透明的问责机制——任何时候，都不能因“救火”的真诚而掩饰了“纵火”的责任，烂尾新闻背后，不仅要关注主角的命运，更要追究“被烂尾”的责任。

这段文字要批评的是：

- A. 烂尾新闻
- B. 公共事件责任追究不力
- C. 公共事件发生地政府
- D. 公共事件责任人

20. 要确保“三公”经费公开不走过场，除了希望各地严格落实中央精神外，不妨总结过去一年来的“地方经验”，出台更明确的奖惩制度，对“三公”经费公开方式作出统一规范，防止信息的失真，同时让民众看得懂。

对文段的核心观点总结正确的是：

- A. 目前已公开的“三公”经费信息大多模糊、失真
- B. 目前的“三公”经费公开实行规范化和制度化
- C. 要对“三公”经费公开实行规范化和制度化
- D. 地方政府的“三公”经费公开经验值得中央政府借鉴

21. 井盖夺命事件在多个城市发生，白岩松在节目中质问：难道这样一件事情也需要总理来管吗？问得好！再往深一层说，中央或者国务院的确管不了那么多井盖或者类似的事儿，但管得了井盖类似事儿的层层官员，一定要像撤职和任职一样成为常态，谁该管没管就撤谁，永不再用。

作者最想表达的观点是：

- A. 中央领导和部门应严查井盖夺命事件责任人
- B. 城市公共设施管理问责制应该成为常态
- C. 井盖管理问责制应该成为常态
- D. 井盖夺命事件中国家管理层负有追责责任

22. 下面各句有语病的一句是：

- A. 笑，只是细节，本不是大事，但某些官员不合适的笑，能让人捕捉到他们的冷漠和失职
- B. 2013年7月，葛兰素史克（中国）投资公司高管因向政府官员、医院、医生等大肆行贿，涉嫌严重经济犯罪而被立案侦查
- C. 城管处在政府权力的边界，是老百姓最容易看到的政府人格形象，也是官员积怨最容易发泄的情绪出口
- D. 有一次我去一个著名的“造假村”做调研，他们用面粉和糖来做一些板蓝根之类的假药，结果脱贫致富了

23. 下列各句中没有歧义的一句是：

- A. 躺在床上没多久，我就想起来了
- B. 现代人生活压力大，负面情绪多，每个人都希望突出重围，在无力改变环境的情况下，改变自我就成为一种内在需求——这是励志书的土壤
- C. 天色已经暗了下来，自行车还没有修好，修车的人急的满头大汗
- D. 她刚刚大学毕业，来到这个单位还不到3个月，许多人还不认识

24. 就在近日，一家名为“乡音苑”的网站开始走红。这家由两个美国人创建的网站专门收集中国方言录音。但这些录音中，一段听起来并不标准的北京话引来了网友们的争议，对这两位美国人来说，难以找到会说老北京话的年轻人是这个网站遭遇尴尬的原因。

“乡音苑”遭遇的尴尬是：

- A. “乡音苑”收集的北京话听起来不够地道
- B. 网友普遍质疑“乡音苑”所收集的方言的纯正性
- C. 会说老北京话的年轻人不好找
- D. 收集中国方言录音的是外国人

25. 跳蚤被放进敞口的瓶子里，它便立刻跳了出来。当把瓶子盖上时，跳蚤还是会竭力跳出瓶子，它不停地撞击着瓶盖的内侧。一个多小时后，它还在那样跳着。差不多三个小时后，它依然在跳，只是它不再撞着瓶盖了，此时它跳的高度离瓶盖大约1厘米，而且每一次都是如此，它已经习惯了这个高度。后来即使瓶盖被拿掉了，跳蚤也没有跳出瓶口，它依然保持着有瓶盖时的高度，再也跳不出瓶口。

跳蚤的故事告诉我们：

- A. 有形的禁锢比无形的束缚更易被打破
- B. 习惯往往会束缚我们的思想和行动
- C. 胸无大志，势必无所作为
- D. 拒绝尝试往往使我们错失成功的机会

26. 丢失了一个钉子，坏了一只蹄铁；坏了一只蹄铁，折了一匹战马；折了一匹战马，伤了一位骑士；伤了一位骑士，输了一场战斗；输了一场战斗，亡了一个国家。

这段话意在说明：

- A. 极微小的事故可能造成严重的后果
- B. 量变引起质变
- C. 因小失大是大忌
- D. 多米诺骨牌效应

27. 三人出门，一人带伞，一人带拐杖，一人空手，回来时拿伞的湿透了，拿拐杖的跌伤了，第三个好好的。原来：有伞的大胆地走，却被淋湿了；走泥路时，拄拐杖的莽撞地走，时常跌倒；什么都没有的，大雨来时躲着走，路不好时小心走，反倒无事。

可从这个故事中悟出的道理是：

- A. 居安当思危
- B. 无知者无畏
- C. 危机等于危险加机遇
- D. 优势需要正确利用

28. 有网友在微博平台发布了自己的心得：“鸡蛋，从外打破是食物，从内打破是生命！”这则微博迅速引发了网友的热议。

请选出解释不恰当的一项：

- A. 从外打破是被人吃掉，从内打破是孕育生命。说明内因起决定作用

- B. 如果是臭鸡蛋，从内无法打破，从外打破也无用。说明内在品质是根本
- C. 人生也是一样，从外打破源于压力，从内打破源于动力。说明内外因结合促进发展
- D. 再好的鸡蛋，不去孵化，也于事无补。说明内因通过外因发挥作用
29. 选出每组加括号词语含义和用法都相同的一项：
- A. ①习近平步入指挥大厅，了解（火箭）和飞船实时飞行情况
②如果保罗真的选择加盟（火箭），那对于后者的影响是巨大的
- B. ①神十航天员将对（“天宫一号”）进行维修
②孙悟空为什么能大闹（天宫），而打不过诸多妖精
- C. ①上个世纪90年代，作为中国化妆品直销品牌第一名，雅芳是不折不扣的（名媛）
②在大赌场里……绅士和（名媛）们正在一掷千金地纵欲狂欢
- D. ①专栏作家斯蒂芬认为，中国的（世界工厂）时代即将宣告结束
②在（“世界工厂”）向“世界市场”的转变中，电子商务的崛起是最具代表性的
30. 事实上，由于我国经济社会运行中的矛盾大多数是结构性矛盾，控制城市汽车使用量，用“减法”可能比用“加法”好，加法就是开征汽车排污费；而减法的核心是大幅减少各种名号的公车，全面推进车改。如果这一招能真正推进，加上环保税等的开征，估计大中城市的空气污染情况就会大大好转。
- 这段问题的议题是：
- A. 如何控制汽车使用量
B. 如何进行公车改革
C. “加法”和“减法”的优劣比较
D. 治理城市空气污染的有效途径
31. 请选出某市街路地名语义与结构能形成对偶的一项：
- A. 长江路——临河街 东盛大街——西安大路
B. 牡丹街——蔷薇路 解放大路——胜利公园
C. 惠民路——文昌路 人民广场——工农大路
D. 三道街——八里铺 远达大街——皓月大路
32. 英国伦敦大学的一个研究小组对6500名50岁以上的英国老人进行长达7年的跟踪调查后发现，与那些社交活动多姿多彩的人相比，落落寡欢的老人即便自己不以孤独为烦恼，死亡的概率也要高出26%。
- 对这一段落概括最准确的是：
- A. 交朋友越多越长寿
B. 孤独是人类的杀手
C. 性格外向者比内向者长寿
D. 离群索居者寿命缩短26%
33. 睡眠的两个阶段的功能各不相同。第一阶段是非快速眼动睡眠，也包括慢波睡眠这一以更缓慢、更漫长的脑波为特征的关键性时期。第二阶段是快速眼动睡眠，在这个阶段，身体近乎瘫痪，而大脑处于高度活动状态，它通常与梦境联系在一起。虽然事实上我们在睡眠周期的任何阶段都会做梦，以往观点认为，快速眼动睡眠对维持人脑发育是必不可少的，然而，一项突破性研究证实，新生的虎鲸和海豚在出生后第一个月是一直不睡觉的，而且也没有出现什么不良后果。
- 对文段的语意理解恰当的一项是：
- A. 非快速眼动睡眠阶段也会产生梦境，但脑波更缓慢，漫长的慢波睡眠不发生梦境
B. 快速眼动睡眠阶段的大脑处于高度活动状态，造成了该阶段更易产生梦境

- C. 非快速眼动睡眠和快速眼动睡眠的身体状态相近，都处于静止休眠的瘫痪状态
- D. 睡眠是所有新生哺乳动物维持大脑发育的必要条件，且多数为快速眼动睡眠
34. “我们做孔子研究所的设计，就把其定位于在特殊地点的具有特殊功能的建筑，它必须是一座现代建筑，又屹立在这个文化之乡，必须具备特有的文化内涵。”在对战国时代的建筑文化以及对对中国书院建筑发展的沿革、形式进行一番探讨之后，设计师又对建筑构图、总体布局、室内外造型包括装饰纹样等，做了一定的探索，然后再运用西方和中国建筑的技巧予以现代的形象表述，创造出一种“欢乐的圣地感”。对孔子研究院的设计理念概括不恰当的一项是：
- A. 建筑的一般性与特殊性的统一 B. 西方技巧与东方技巧的统一
- C. 古代文化与现代文化的统一 D. 建筑功能与审美趣味的统一
35. 政务工作不是“一微就灵”，光靠微博无法缩短政府与民众的距离，对于积极开通政务微博的政府部门来说，要真正把从微博上搜集来的意见和问题处理好，还有很长的路要走，还需要花费相当的精力和心思，政府部门可以通过微博回应民意关切，但无法用微博替代全部的政务。
- 这段文字意在说明：
- A. 微博反映的言论并不代表全部的民意 B. 政务微博是政务工作的第一步
- C. 对于政务工作而言，微博不是万能的 D. 政务微博是一把双刃剑
36. 目前央视报道，中国人每年在餐桌上浪费的粮食价值高达2000亿元，被倒掉的食物相当于2亿多人一年的口粮，此前曾有媒体报道过大学生群体严重浪费粮食的问题，他们每年倒掉的食物足以养活1000万人口一年，无论城市还是农村，如遇红白喜事，人们都以大摆宴席，铺张浪费为荣，似乎吃剩下的饭菜越多，越能表明其热情好客和慷慨大方，相反，如果谁家的宴席刚刚够吃，会被认为是小气鬼，丢人现眼。
- 这段文字最能说明的是：
- A. 红白喜事和大学生食物浪费严重 B. 节约光荣，浪费可耻
- C. 红白喜事宴请铺张有些社会心理认同 D. 中国人舌头上的浪费严重

大学办的好不好，并不完全取决于“国际化水平”，就教学及科研水平而言，X大学现在不是、短时间内也不可能是“世界一流”；但就论X大学对于人类文明的贡献，很可能是不少世界一流大学所无法比拟的。

大学不像工厂或超市，不可能标准化，必须服一方水土，才能有较大的发展空间。X大学，其迷人之处，正在于她不是“办”在中国，而是“长”在中国——跟多灾多难而又不屈不挠的中华民族一起走过来，流血流泪，走弯路，吃苦头，当然也有扬眉吐气的时刻。你可以批评她的学术成就有限，但其深深介入历史进程，这一点不应该被嘲笑。

相对而言，Y大学的师生普遍缺乏X大学的这种气度与情怀。高薪礼聘的教授来自四面八方，眼界不限于本土，其表演舞台很可能设定在遥远的北美或欧洲。这就难怪，Y大学的校园里，关心国家之前世今生者并不很多。教授们不太有介入社会、影响变革的意愿与能力。老师认真教书，学生勤恳求学，一切按部就班。如此过早的职业化追求，与X大学学生的“志大才疏”恰好形成鲜明对照。

今天Y大学的青年学生，其视野、志向及趣味明显与以前有别。六年前我在Y大学讲研究生主课，一旦脱离技术问题，听众便反应漠然。现在，学生们不仅关心学校自身发展，也关心整个大中华的命运，在此过程中，Y大学开始“接地气”了。

X大学如今正恶补“国际化”这一课。只希望不要如狗熊掰棒子，掰一个丢一个……

37. 在作者看来，与X大学比较，Y大学的明显不足是：

- A. 对人类文明的贡献不大
- B. 缺少对国家民族的大情怀
- C. 过度职业化与国际化
- D. 过度重视科学技术

38. 文中的“接地气”是指：

- A. Y大学开始关注国家、民族的命运
- B. Y大学开始关注我国的传统文化
- C. Y大学开始关心大学本身的发展
- D. Y大学开始关心自身的历史、现在和未来

39. 作者对X大学的提醒是：

- A. 一个富有历史文化底蕴的大学不宜走国际化之路
- B. 不能为追求国际化而丢掉本土情怀
- C. 不能盲目学习Y大学的国际视野
- D. 本土情怀才是中国大学的立校之本

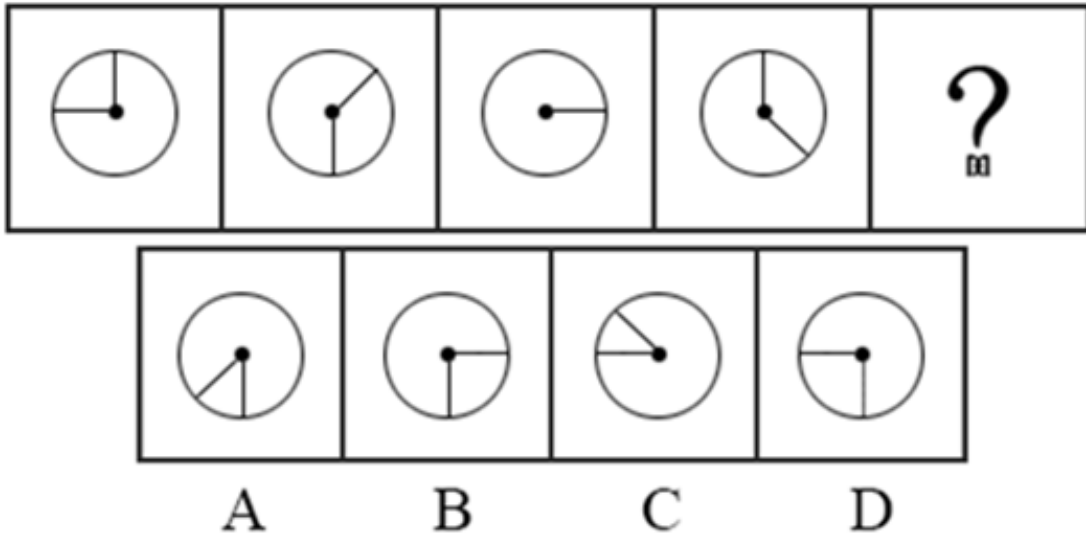
40. 本文最想说明的是：

- A. Y大学应该被补上本土情怀这一课
- B. 中国的大学应该谨防为国际化而丢掉本土情怀
- C. 一所好大学，不仅要有国际视野，更应有本土情怀
- D. Y大学和X大学尺有所短，寸有所长

第三部分 判断推理

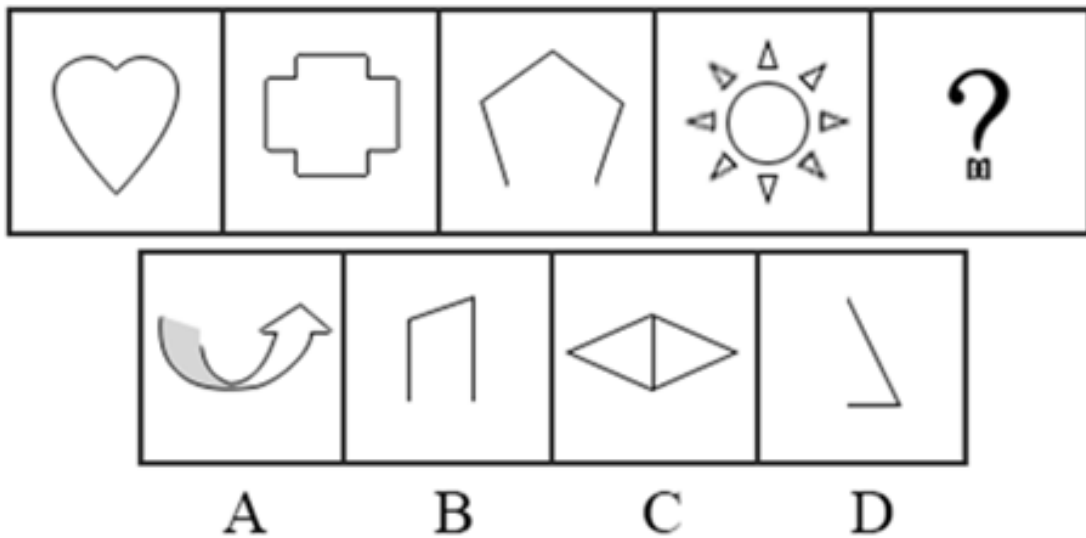
本部分包括图形推理、定义判断、类比推理与逻辑判断四种类型的试题，请按每道题的答题要求作答。

41. 从所给的四个选项中，选择最合适的一个填入问号处，使之呈现一定的规律性：【2013吉林乙级041】



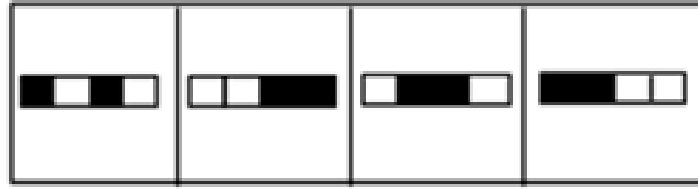

- A. 如图所示 B. 如图所示 C. 如图所示 D. 如图所示

42. 从所给的四个选项中，选择最合适的一个填入问号处，使之呈现一定的规律性：【2013吉林乙级042】



- A. 如图所示 B. 如图所示 C. 如图所示 D. 如图所示

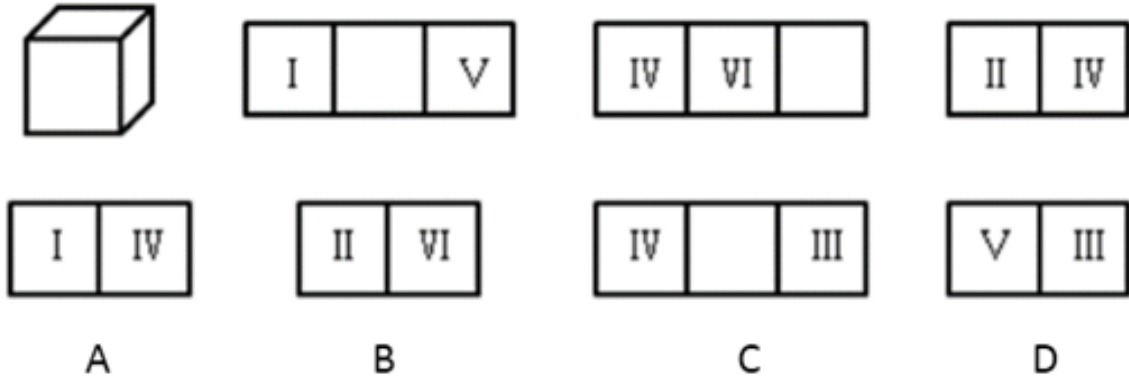
43. 从所给的四个选项中，选择最合适的一个填入问号处，使之呈现一定的规律性：【2013吉林乙级043】



A B C D

A. 如图所示 B. 如图所示 C. 如图所示 D. 如图所示

44. 一个正方体的六个面展开后是如下三种关系，那么下面的4个选项中错误的是：【2013吉林乙级044】



A B C D

A. 如图所示 B. 如图所示 C. 如图所示 D. 如图所示

45. 把下面的六个图形分为两类，使每一类图形都有各自的共同特征或规律，分类正确的一项是：【2013吉林乙级045】



A. ①⑤⑥, ②③④ B. ①③⑥, ②④⑤
C. ①④⑤, ②③⑥ D. ①②④, ③⑤⑥

46. (1) 曼德拉重获自由，迎接光辉的岁月
(2) 离家出走，磨练中初练成长
(3) 身陷囹圄，风雨中抱紧自由
(4) 急流勇退，缤纷色彩显美丽
(5) 渐渐成熟，斗争于肤色平等

- A. (2) - (3) - (1) - (5) - (4) B. (5) - (2) - (3) - (4) - (1)
- C. (2) - (5) - (3) - (1) - (4) D. (5) - (2) - (3) - (1) - (4)
47. (1) 一个模式的形成，将老师由“讲台上的圣人”变成“身边的指导”
 (2) 两位教师的努力，制作教学视频上传到网络，帮助学生补课
 (3) 一个问题的困扰，山区学生因往返时间过长而缺课严重
 (4) 一个创新的推广，翻转课堂成为美国日渐流行的教学模式
 (5) 众多学生的欢迎，在家看视频听讲解，回到课堂上练习和互动
- A. (3) - (2) - (5) - (1) - (4) B. (4) - (3) - (2) - (5) - (1)
- C. (3) - (4) - (2) - (5) - (1) D. (4) - (1) - (3) - (2) - (5)
48. (1) 慢慢感知，失去视觉的另一个世界
 (2) 饥饿和谦卑，是人类能够幸福的基本元素
 (3) 不知所措，日常小事都得盲人导游帮助
 (4) 体验过后，从未有过的谦卑与感恩之心
 (5) 特殊旅游，盲人导游带你体验24小时黑暗生活
- A. (5) - (3) - (1) - (4) - (2) B. (2) - (5) - (1) - (3) - (4)
- C. (5) - (1) - (3) - (4) - (2) D. (2) - (5) - (3) - (1) - (4)
49. (1) 一份跟踪调查，日后30年有何差别
 (2) 一位实验人员，承诺谁忍住不吃就给两块
 (3) 一个重要发现，幼年就学会控制冲动很重要
 (4) 一个实验结果，忍住不吃的孩子更优秀
 (5) 一组4岁小孩，每人面对一块棉花糖
- A. (3) - (5) - (2) - (1) - (4) B. (5) - (2) - (4) - (1) - (3)
- C. (5) - (2) - (1) - (4) - (3) D. (3) - (5) - (2) - (4) - (1)
50. (1) 策划活动细节
 (2) 联系住宿宾馆
 (3) 确定会议形式、规模、时间、计划费用
 (4) 收集信息，包括与会同志地址、电话、邮件或者QQ等
 (5) 发函或电话通知
- A. (4) - (2) - (3) - (1) - (5) B. (5) - (3) - (1) - (4) - (2)
- C. (5) - (2) - (3) - (4) - (1) D. (3) - (1) - (2) - (4) - (5)
51. 贝勃规律是一个社会心理学效应，是指当人经历强烈的刺激后，再施予的刺激对他（她）来说也就变得微不足道。就心理感受来说，第一次大刺激能冲淡第二次的小刺激。
 根据上述定义，下列各项中符合贝勃规律的是：
- A. 母亲病逝后不久，父亲又遭遇了车祸，接二连三的打击让小王越来越无心读书
- B. 当房价飞涨到每平方米5万元的时候，人们对于苹果卖到每公斤50元已不感到奇怪
- C. 小赵购买了100张彩票，逐一刮开后竟然有20几张中奖，这令他欣喜若狂

D. 4岁的萌萌在认读了常用汉字之后，又开始学习外语

52. 沉没成本是指由于过去的决策已经发生了的，而不能由现在或将来的任何决策改变的成本。从理性的角度来说，沉没成本不应该影响我们的决策。然而，我们常常由于想挽回或避免沉没成本而做出很多不理性的决策行为，被称为沉没成本效应。

根据上述定义，下列各项中不属于沉没成本效应的是：

- A. 小明一年前借给朋友一万元钱，但由于朋友破产无力偿还，所以决定不要了
- B. 小赵认为和女朋友在一起都8年了，自己已经付出了这么多时间和精力，所以决定不分手
- C. 小王花20元钱买了一瓶汽水，发现很难喝，想扔掉，但是考虑到那么贵又退不了就强忍着喝光了
- D. 妈妈花2000元买了一架电子琴，可孩子根本没兴趣，于是妈妈决定以每月500元的价格请家教，理由是：“要不这个琴就浪费了！”

53. 公力救济是指当权利人的权利受到侵害或者有被侵害之虞时，权利人行使诉讼权，诉请人民法院依民事诉讼和强制执行程序保护自己的权利的措施。

下列各项中属于公力救济的是：

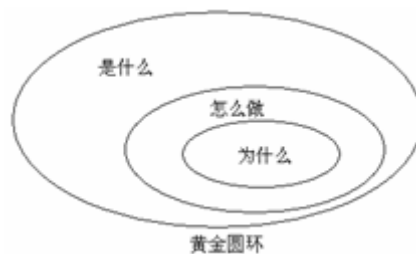
- A. 老李在超市买到一瓶假酒，老李与超市协商，要求超市给付真酒一瓶
- B. 老李在超市买到一瓶假酒，老李向当地工商部门举报，要求对超市进行罚款
- C. 老李在超市买到一瓶假酒，老李与超市协商，要求超市进行十倍赔偿
- D. 老李在超市买到一瓶假酒，老李向法院提起诉讼，要求超市退换其购买的假酒

54. 定义是揭示概念所反映的客观事物本质属性的一种逻辑方法，其基本规则要求：定义必须是相应相称的，必须清楚明确，不得使用否定定义，不得循环定义。

根据以上陈述，以下各选项中符合定义基本规则的是：

- A. 男人就是非女人
- B. 亲属就是有亲属关系的人
- C. 青少年是祖国的花朵
- D. 刑法就是关于犯罪和刑罚的法律

55. 黄金圆环（如图）是设计用来说明激励性的领袖与普通人在思考、行动和交流沟通方式上的区别：普通人是由外向内的，而激励性的领袖却是用从内到外的方式来思考、行动和交流。



根据上述定义，以下选项中属于激励性领袖交流方式的是：

- A. 我们的电脑是最棒的，设计优美、使用简单、界面友好，你想买一台吗
- B. 这是我们的新车型，非常省油，真皮座椅，十一期间促销享大礼，你想买一辆吗
- C. 我们的产品可以把电视节目暂停，跳过广告，回放电视节目，帮助你掌控生活，你想买一台吗

- D. 我们做的每件事都是为了突破和创新，我们只是在挑战现状的过程中做出了最棒的电脑，你想买一台吗
56. 潮汐现象 对于（ ）相当于（ ）对于 自由电子
- A. 自然现象 导体
B. 周期性运动 导体
C. 月球和太阳的引力 金属导电
D. 周期性运动 金属导电
57. 律师：教授
- A. 专家：吉林人 B. 钢筋：房屋 C. 歌手：乐队 D. 人：社会
58. 18周岁：选举权
- A. 下雨：地湿 B. 氧气：燃烧
C. 瓜熟：蒂落 D. 水涨：船高
59. 雷锋：千万个雷锋
- A. 妈妈：无数位妈妈 B. 老虎：吃人的老虎
C. 华佗：许多个华佗 D. 苹果：上万个苹果
60. 地球：火星：行星
- A. 企业：管理：管理者
B. 电灯：光亮：发明
C. 陈景润：华罗庚：数学家
D. 系：学院：大学
61. 现代边缘派诗歌代表作《奇怪的接近》中写道：“咖啡的颜色接近于黑啤，黑啤的颜色接近于咖啡……我必须要放弃其中之一。我留下了黑啤，尽管它似乎不如咖啡高贵……”如果我们把诗歌中的语句看做表达了一种判断形式的话，以下选项中判断形式与之不同的是：
- A. 当代诗人顾城在《初春》中写道：“阴沉的天空还在犹豫：是雪花？还是雨滴？混浊的河流在疾走：是追求？还是逃避？远处的情侣在分别：是序幕？还是结局？”
- B. 《孟子·公孙丑下》曰：“陈臻问曰‘前日於齐，王馈兼金一百而不受；於宋，馈赠七十镒而受；於辟，馈五十镒而受。前日之不受是，则今日之受非也。今日之受是，则前日之不受非也。夫子必居一於此矣。’”
- C. 毛泽东曾说：“不是东风压倒西风，就是西风压倒东风。”
- D. 宋代卢梅坡在《雪梅》中写道：“有梅无雪不精神，有雪无诗俗了人。日暮诗成天又雪，与梅并作十分春。”
62. 有人说，不管你眼下的境况多么不济，比如薪水微薄，面临失业等，只要银行里还有一笔储蓄就不足为虑；而假如你挣一文花一文，这时可就真要陷于绝境了。所以，只有储蓄才能使一个人在经济上真正独立起来。如果有人反对这一言论，则以下可能不是反对者观点的是：
- A. 有存款的人在境况不济时也会面临忧虑

- B. 储蓄是衡量一个人在经济上独立与否的标准
C. 挣一文花一文的人在境况不济时也不会面临绝境
D. 没有储蓄的人也可以在经济上真正独立起来
63. 所有被隔离的人都与小张接触过，所有与禽流感患者接触的人都被隔离了。
如果以上命题是真的，以下命题也是真命题的一项是：
A. 小张是禽流感患者
B. 有人既接触过禽流感患者，也接触过小张
C. 所有禽流感患者都与小张接触过
D. 所有与小张接触过的人都被隔离了
64. 某单位招聘了甲、乙、丙、丁、戊5名新员工，每位员工被分配到不同的部门，并且满足以下条件：
(1) 如果甲去销售部，那么乙不去设计部；
(2) 或者丙去生产部，或者甲去销售部；
(3) 或者丁去后勤部，或者戊不去财务部；
(4) 如果乙不去设计部，那么丁也不去后勤部。
以下哪项为真，可以推出“丙去生产部”：
A. 戊去财务部 B. 甲去销售部 C. 乙不去设计部 D. 丁不去后勤部
65. 山无棱，天地合，乃敢与君绝。
如果上述断定为真，那么以下选项也一定为真的是：
A. 如果山无棱，天地合，就一定与君绝
B. 如果未与君绝，则说明一定山有棱，天地分
C. 如果山有棱，天地分，就一定不与君绝
D. 如果与君绝，则一定是山有棱，天地分

第四部分 常识判断

根据题目要求，在四个选项中选出一个最恰当的答案。

66. 开展党的群众路线教育实践活动是为了解决党内存在的形式主义、官僚主义、享乐主义、奢靡之风。这“四风”的共同特征是：
A. 违背科学发展观以人为本的主旨 B. 违背依法治国的原则
C. 违背依法行政的原则 D. 严重脱离群众
67. “一条锁链，最脆弱的一环决定其强度；一只木桶，最短的一片决定其容量。”
这段话主要强调：
A. 要重视意识的能动作用 B. 要看到整体的统率和决定地位
C. 要重视局部对整体的制约作用 D. 要坚持一切从实际出发

68. 语言是一种味道，人们依靠它传情达意；语言更是一面镜子，人们从中可以看到时代的身影，社会的不同阶段人们的问候语也会随之改变。这表明：
- A. 社会意识是变化发展的
B. 社会意识对社会存在有反作用
C. 社会意识决定社会存在
D. 社会意识不具有相对独立性
69. 中国的姓氏起源种类很多，如“李”姓，原为“理”，源于皋陶任尧时大理职务（司法官），子孙为之，后为姓氏，推测“北门”一姓来源于祖先的：
- A. 部族
B. 居住地
C. 爵号
D. 封国
70. 沙漠中生长的植物其叶子比较小，而根部极深，其原因主要是：
- A. 根深不会被风吹倒
B. 沙漠中生长的植物品种都是叶小根深的
C. 叶小有利于减少日晒面积，不会被晒死
D. 沙漠中降雨量少，气候干旱，叶小是为了减少蒸发，根深利于吸收水分
71. 1900年9月，英法德意四国侵略军以“未按职分保护外国人”等罪名在保定处斩三位清政府官员，对此，清政府抗议道：“即使中国官员有办理不善之处，应交中国自行处分，何得侵我自主之权？”对此，以下解读正确的是：
- A. 清政府已失去对地方政府的控制
B. 清政府的司法裁判权受到破坏
C. 中国完全沦为半殖民地半封建社会
D. 侵略军这一行为依据是《辛丑条约》
72. “人的高贵超过了天使的高贵”是一句西方名言，与这句名言有同样价值取向的是：
- A. “没有目标的生活犹如没有罗盘的航行”
B. “天子不仁，不保四海；诸侯不仁，不保社稷”
C. “人的命运主要由自己创造”
D. “心随朗月高，志与秋霜洁”
73. “坐地日行八万里，巡天遥看一千河”（毛泽东《送瘟神》），这句诗描写的现象是：
- A. 地球公转
B. 地极移动
C. 昼夜交替
D. 地球自转
74. 中国古代十分重视对于中央与地方百官的监察，历朝历代不乏相关机构与制度的建设。下列不属于监察机构的是：
- A. 秦汉时期的御史台
B. 唐朝的大理寺
C. 明朝的东厂、西厂
D. 民国时期的检察院
75. 古代席地而坐，原没有椅子，但《诗经》有“其桐其椅”，这里的“椅”是指：
- A. 一种车
B. 一种床
C. 一种席子
D. 一种树木
76. 普通话是全国通用的语言，下列关于普通话的说法不正确的一项是：
- A. 普通话的音节结构中辅音占优势
B. 普通话以典范的现代白话文著作作为语法规范
C. 普通话以北方话为基础方言
D. 普通话以北京语音为标准音

77. 每年10月下旬，总有“霜降”这个节气。我们看到过降雪，也看到过降雨，可是谁也没有看到过降霜。对此说法不正确的是：
- A. 霜一般形成在寒冷季节里晴朗、微风或无风的夜晚
B. 霜不是从天空降下来的，而是在近地面层的空气里形成的
C. 天空有云有利于霜的形成
D. 霜总是在有利于物体表面辐射冷却的天空条件下形成
78. 三国时期魏文帝曹丕在《九日与钟繇书》中写道：“岁往月来，忽复九月九日。九为阳数，而日月并应，俗嘉其名，以为宜于长久，故以享宴高会。”从材料看，我国传统节日重阳节的主要寓意是：
- A. 期盼合家团圆 B. 祭祀先祖先人 C. 祝愿健康长寿 D. 祈祷姻缘美满
79. 清代李毓秀在《弟子规》中写道：“奸巧语，秽污词，市井气，切戒之；见未真，勿轻言，知未的，勿轻传；事非宜，勿轻诺，苟轻诺，进退错。”
- 以上文字强调的是伦理道德中的：
- A. 信 B. 节 C. 悌 D. 孝
80. 被推翻皇位的路易十六曾经哀叹“是伏尔泰和卢梭毁灭了法国。”这反映出：
- A. 哲学对社会变革具有决定作用，推动资本主义制度的建立
B. 启蒙运动使欧洲文化发展达到了顶峰，为资本主义发展开辟了道路
C. 哲学为社会发展奠定物质基础，加速资本主义生产关系的形成
D. 哲学可以通过对社会弊端的批判，更新人的观念，解放人的思想，指导社会变革
81. 根据《公务员法》的规定，下列选项正确的是：
- A. 公务员李某因接受纪律审查，自觉无颜在单位呆下去，在审查过程中，向单位请辞，单位很理解地批准辞职
B. 公务员赵某对降职处分要求复核，复核期间停止了降职处分的执行
C. 某工作由于专业性较强，单位聘任常某担任公务员，并签订了10年的聘任合同
D. 公务员段某因公外出，无正当理由逾期不归连续超过20天而被辞退
82. 未成年人晓辉通过微博发表了多张村委会主任的照片，并相应地配上设计的对白和评论，使用了“死狗”等带有人格贬损性质的言语，以表达对村干部行为的不满，村委会主任对晓辉提起民事诉讼，经过调查，被告晓辉的微博评论并不属实。
- 此案中，晓辉的行为：
- A. 侵犯了当事人的肖像权 B. 侵犯了当事人的名誉权
C. 侵犯了当事人的隐私权 D. 侵犯了当事人的身份权
83. 某市政府经专家论证和环保评价后，决定在所辖某区建生活垃圾焚烧发电厂，引起周围居民强烈反对。如果你是该市政府相关部门的工作人员，你认为应采取的正确措施是：
- A. 加大沟通力度，充分尊重群众的知情权、参与权
B. 加大执法力度，保证规划得到落实
C. 加大补偿力度，安抚生活受到影响的居民

- D. 加大教育力度，提高居民的觉悟水平
84. ××税务局批复正文开头有：“你局《关于××有限公司减征企业所得税的请求》（××国税发[2013]98号）收悉。”之句。“收悉”中“悉”字的解释是：
- A. 用尽心思 B. 全、尽 C. 知道 D. 熟悉
85. 下列公文用语没有语病的是：
- A. 一个极其平常而普通的人做出了不平凡的事情
- B. 依法进一步加强对集贸市场的商品质量的检验，打击不法商贩的假冒伪劣的欺诈行为
- C. 今年我省招收的自费大学生，是自恢复高考制度以来最多的一年
- D. 雷锋精神当然要赋予它新的内涵，但谁又能否认现在就不需要学习雷锋了呢

第五部分 资料分析

针对下列图、表或文字回答问题。你应根据资料提供的信息进行分析、比较、计算、处理。你可以在题本上运算。

style="text-align: center;">">

2012年全国各城市第三产业增加值情况

城市	增加值（亿元）	增速（%）	城市	增加值（亿元）	增速（%）
广州	8617	11.1	福州	1934	10.6
深圳	7207	12.3	石家庄	1807	10.0
成都	4000	11.5	合肥	1631	12.3
杭州	3921	10.1	昆明	1474	13.0
南京	3846	11.8	呼和浩特	1453	10.8
武汉	3833	10.1	厦门	1418	11.7
青岛	3575	10.5	太原	1240	11.3
大连	2917	10.6	南宁	1221	9.6
宁波	2738	10.6	乌鲁木齐	1157	18.6
济南	2622	10.1	南昌	1116	14.5
长沙	2535	12.0	贵阳	911	14.1
哈尔滨	2404	9.4	兰州	775	14.8
长春	2292	13.1	海口	561	9.4
西安	2280	12.2	银川	465	10.1
郑州	2196	8.4	西宁	380	11.8

86. 2012年全国各城市第三产业增长速度最快的是：
- A. 长春 B. 兰州 C. 乌鲁木齐 D. 贵阳

87. 2012年广州市与西宁市第三产业增加值相差：

- A. 8137亿元 B. 8237亿元 C. 8337亿元 D. 8437亿元

88. 2012年全国各城市第三产业增加值增速达到和超过10%的城市有：

- A. 26个 B. 27个 C. 28个 D. 29个

89. 2012年与2011年相比，全国各城市第三产业增加值：

- A. 不变 B. 不断增长 C. 不断降低 D. 无法判断

90. 上述资料表明：

- A. 经济越发达的城市，第三产业增加值增速越快
B. 经济越发达的城市，第三产业增加值增速越慢
C. 西宁市的第三产业增加值最小、增速最慢
D. 2012年全国各城市第三产业增加值超过7000亿元的城市有2个

699万，这是教育部统计的2013年全国普通高校毕业生的人数，比2012年增加了19万，是2000年的6.5倍多，当时的毕业生总数为107万，由于就业形势严峻，这个夏天被称为“史上最难就业季”。

今年就业形势可用“一增两减”概括：人增，今年高校毕业生比2012年增加19万人；薪减，部分行业起薪下调，行政管理、文秘等专业，从2200元降到1800元，减少400元；岗减，据麦可思研究院2月份对近500家用人单位的统计，今年计划招聘岗位数同比降幅接近15%。以北京为例，2012年毕业生总数为22.3万人，用人单位对大学生的需求岗位为11.4万个；2013年毕业生总数增加了0.6万，而用人单位对大学生的需求岗位却减少了1.6万个。

截至2013年5月，全国部分地区高校毕业生签约率：上海为44.4%，广州为50%，江西为53%，北京为33.6%。

早在2010年的中国就业促进代表大会上，时任人社部就业促进司司长于法鸣就预计，“十二五”期间，我国平均每年需要解决2500万人就业，而如果经济增速保持在8%，每年能提供的岗位约为1200万个，存在较大供需缺口。

面对就业难的严峻形势，不少大学毕业生将目光瞄向了创业，大学毕业生创业问题也成了大家关注的热点。然而，根据国家有关部门统计，近几年，全国大学生创业成功率在1%左右，全国各地也都在此水平左右，其中，广东1%左右，河北0.3%，最高的是浙江省，为4%，而全世界大学生的平均创业成功率是10%左右，美国大学生的创业成功率更是高达30%。

我国大学生创业成功率低有很多原因，但资金是第一大瓶颈，据有关调查结果显示，大学生创业资金来源中93%来自于家庭，5%来自于银行贷款，1%来自于风险投资，另有1%来自于政府投资。

91. 2013年北京市高校毕业生总数为：

- A. 22.3万人 B. 22.5万人 C. 22.6万人 D. 22.9万人

92. 截至2013年5月，全国部分地区高校毕业生签约率最低的是：

- A. 上海 B. 广州 C. 北京 D. 江西

93. 我国大学生创业成功率与世界平均水平相比：

- A. 低1%左右 B. 低9%左右 C. 高1%左右 D. 高9%左右

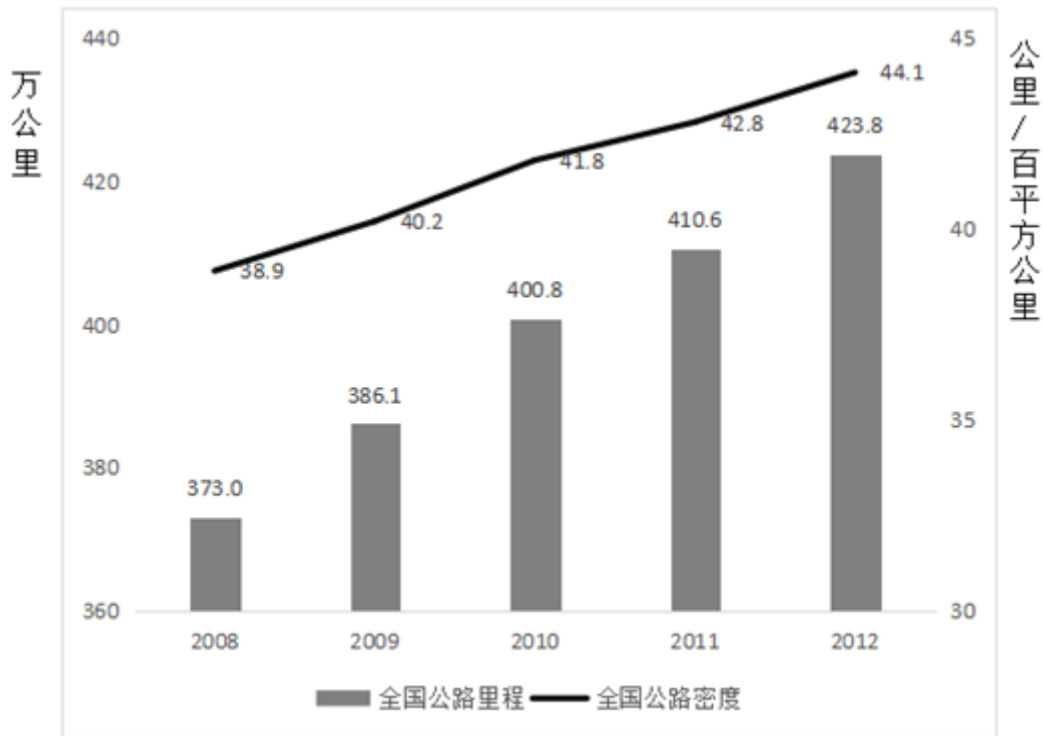
94. 根据有关调查结果显示，大学生创业资金来源中93%来自于：

- A. 家庭 B. 风险投资 C. 政府投资 D. 银行贷款

95. 根据上述资料可知：

- A. 今年夏天是“史上最易就业季”
B. 大学生创业资金来源最少的是风险投资与政府投资
C. 今年就业形势是人减、薪增
D. 与2012年相比，北京市今年毕业生人数和就业岗位均有增加

2012年年末全国公路总里程达423.76万公里，比上年末增加13.11万公里。公路密度为44.14公里/百平方公里，比上年末提高1.37公里/百平方公里。按行政等级划分：国道17.34万公里、省道31.21万公里、县道53.95万公里、乡道107.67万公里、专用公路7.37万公里、村道206.22万公里，比上年末分别增加0.40万公里、0.80万公里、0.59万公里、1.07万公里、0.47万公里和9.78万公里。国道中，国家高速公路6.80万公里，普通国道10.54万公里。按技术等级划分，等级公路为全国四级以上公路（含高速），等级公路里程360.97万公里，比上年末增加15.60万公里。等级公路占公路总里程的85.2%，比上年末提高1.1个百分点，其中，与上年相比，二级及以上公路里程增加2.83万公里。



2008-2012年全国公路总里程及公路密度

2012年全国各技术等级公路里程

高速	一级	二级	三级	四级	等外
9.62	7.43	33.15	40.19	270.58	62.79

96. 2011年年末，公路密度为多少公里/百平方公里：

- A. 41.26 B. 44.14 C. 42.77 D. 45.51

97. 2012年年末，国道、省道及县道占全国公路总里程的比重约为：

- A. 12% B. 20% C. 16% D. 24%

98. 2012年年末，等级公路里程约是等外公路里程的多少倍：

- A. 2 B. 6 C. 4 D. 8

99. 2009-2012年全国公路总里程增速最慢的年份是：

- A. 2009 B. 2011 C. 2010 D. 2012

100. 以下说法正确的是：

- A. 与上年相比，2009-2012年公路密度增加量最多的一年是2009年
 B. 2011年年末，二级及以上公路里程超过50万公里
 C. 2012年年末，国家高速公路里程占国道的比重超过40%
 D. 与上年相比，2012年国道公路里程增速超过2%

扫一扫，对答案

