

# 2014年天津行测真题

真题更新时间：2022年10月24日23:34:31

扫描下方二维码下载小麦公考APP 刷海量题库掌握最新热点



QQ扫码直接下载

微信扫码到应用市场下载

支持所有机型哦

## 第一部分 常识判断

根据题目要求，在四个选项中选出一个最恰当的答案。

- 我国《民法典》规定，公民具有民事权利能力的年龄时限为：
  - 从出生时起到18岁时止
  - 从14岁时起到死亡时止
  - 从18岁时起到死亡时止
  - 从出生时起到死亡时止
- 行政法在法律体系中的地位和作用，是由：
  - 行政法律规范数量之多决定的
  - 行政管理在国家生活中的地位决定的
  - 行政法基本部门法决定的
  - 行政法关系到公民的权利和义务决定的
- 关于知识产权，说法错误的是：
  - 具有专用性、时间性、地域性
  - 仅包括财产权的内容而不涉及人身权
  - 必须具有首创性、新颖性
  - 必须有能为人感知的客观表现形式
- 德、意、日三个法西斯帝国挑起了第二次世界大战，历史上确定这次大战爆发的事件是：
  - 意大利进攻埃塞俄比亚
  - 德国进攻波兰
  - 德国进攻法国
  - 日本进攻我国北京郊区卢沟桥
- 图案造型的基本形式法则不包括：
  - 对称与均衡
  - 照应与搭配
  - 对比与和谐
  - 节奏与律动
- 建国以来，我国提出了一系列的外交方针或政策：
  - ①“韬光养晦，有所作为”；
  - ②“和平共处五项原则”、“求同存异”；
  - ③“搁置争议，共同开发”；
  - ④“和谐共处”、“合作共赢”。
 上述方针政策按时间先后顺序排列正确的是：
  - ②③①④
  - ②①③④
  - ①②③④
  - ①②④③
- 下列说法错误的是：
  - 细胞工程技术可以用于生产动物疫苗
  - 目前人们采用生物克隆技术培育“试管婴儿”
  - 人们可以使用基因工程技术培育抗虫棉新品种
  - 使用蛋白质技术可以改造胰岛素，制造新型药物
- 下列论述错误的是：
  - 产业“空心化”弱化物质生产的地位
  - 人口“老龄化”加重政府的财政负担
  - “城镇化”可以促进经济社会的发展
  - 经济“全球化”有助于化解金融风险

9. “天下虽安，忘战必危”是我国古代著名的军事思想，充满着朴素的辩证法智慧。下列体现的哲学思想与这句话相同的是：
- A. 不谋全局者不足以谋一域  
B. 有心栽花花不开，无心插柳柳成荫  
C. 贾人旱则资舟，水则资车，以待乏也  
D. 富贵而恣势弄权，乃自取灭亡之道
10. 物联网中物体通过信息传感设备，与互联网相连接，进行信息交换和通信。下列不具备信息传感功能的设备是：
- A. 激光扫描器  
B. 红外感应器  
C. 普通数码相机  
D. 射频标签
11. 下列关于“九一八”事变影响的表述，不正确的一项是：
- A. 它使中日矛盾开始上升  
B. 它使中国东北沦为日本的殖民地  
C. 它使中共立即提出停止内战，一致抗日的主张  
D. 它标志着中国人民的局部抗战开始了
12. 下列疾病不是由病毒引起的是：
- A. 足癣和手癣  
B. 艾滋病  
C. 鸡瘟或猪瘟  
D. 非典
13. 下列叙述正确的是：
- A. 酗酒会影响下一代  
B. 长期酗酒的人一旦戒酒，就会得病  
C. 喝酒能促进血液循环，对人体有益无害  
D. 青少年正处于生长发育期，应少量饮酒
14. 旱作农业的农作物中，占重要地位的是：
- A. 小麦  
B. 玉米  
C. 大麦  
D. 高粱
15. 下列关于植物食用部分的叙述不正确的是：
- A. 马铃薯的食用部分是根部  
B. 洋葱的食用部分是茎部  
C. 甘薯的食用部分是根部  
D. 甘蓝的食用部分是叶部
16. 下列表述的中国古代历代帝王在位先后顺序排列错误的是：
- A. 汉高祖、汉文帝、汉景帝、汉武帝  
B. 唐高祖、唐太宗、唐高宗、唐明皇  
C. 明太祖、明成祖、明惠帝、明思宗  
D. 清世祖、清宣宗、清穆宗、清德宗
17. 隐形飞机出现在20世纪：
- A. 60年代  
B. 70年代  
C. 80年代  
D. 90年代
18. 下列说法错误的是：
- A. 八股文在明代盛极一时，直到清光绪年间才完全废止  
B. 三书是魏书、蜀书和汉书，到明朝时合为一体，后人称为《三国志》  
C. 中国历代均设置专门记录和编撰历史的史官，我国最早的史学家就是从史官中产生的  
D. 八卦代表了早期中国的哲学思想，除了占卜、风水之外，对我国古代医学、武术、军事等方面都产生了深远的影响

19. 下列事件按时间顺序排列正确的是:

- (1) 诸葛亮借东风
- (2) 桃园三结义
- (3) 败走麦城
- (4) 草船借箭
- (5) 三顾茅庐

- A. 3-2-1-5-4                      B. 2-5-4-1-3                      C. 1-3-5-4-2                      D. 3-5-4-1-2

20. “杂交水稻之父”袁隆平培育出高产的杂交水稻新品种, 是利用了:

- A. 基因的多样性
- B. 染色体的多样性
- C. 细胞的多样性
- D. DNA的多样性

## 第二部分 言语理解与表达

本部分包括表达与理解两方面的内容。请根据题目要求, 在四个选项中选出一个最恰当的答案。

21. 对诚实的否定固然令人遗憾, 但人们尚可从精神上、道德上的肯定中得到\_\_\_\_\_。

填入画横线部分最恰当的一项是:

- A. 偿还                      B. 回报                      C. 弥补                      D. 欣慰

22. 我们尊重个体差异, 倡导个性化发展, 但我们更希望孩子们能得到与自身资质相\_\_\_\_\_的全面发展。

填入画横线部分最恰当的一项是:

- A. 适应                      B. 匹配                      C. 一致                      D. 符合

23. 要写出\_\_\_\_\_的文字、写出时代的壮阔和生活的丰富, 更需要阅历, 更需要思想。

填入画横线部分最恰当的一项是:

- A. 动人心弦                      B. 石破天惊                      C. 惊天动地                      D. 动人心迹

24. 国家助学贷款, 是解决贫困家庭学生入学难的重要\_\_\_\_\_之一, 是贫困家庭学生享受平等教育的重要\_\_\_\_\_。

依次填入画横线部分最恰当的一项是:

- A. 措施    条件                      B. 政策    保障
- C. 途径    体现                      D. 途径    保障

25. 18世纪以后, 由科学革命、工业革命和政治革命构成的\_\_\_\_\_反应给予欧洲资本主义不可阻挡的\_\_\_\_\_, 至1914年, 欧洲列强在世界大部分地区建立的霸权, 深刻地影响着殖民地和半殖民地社会的经济生活和社会结构。而欧洲之所以能够实现这种前所未有的\_\_\_\_\_, 是因为其现代化进程一直在继续和加速。

依次填入画横线部分最恰当的一项是:

- A. 连串    生命力    发展
- B. 连锁    推动力    扩张
- C. 系列    助推力    拓展

D. 连续 催化剂 扩展

26. 其实“拥有秘密”是成年的一个\_\_\_\_\_，孩子要长大成人，必然要进入一个拥有秘密的世界。这是一个\_\_\_\_\_的过程，最初，孩子并没分清哪些是秘密，不知道如何保守秘密、不懂得给秘密分级，但是他们又极为渴望拥有秘密。于是，他们的生活变得\_\_\_\_\_，好像每个人都守着很多不能告诉别人的秘密。依次填入画横线部分最恰当的一项是：

- A. 标志 学习 神秘兮兮
- B. 界线 成长 神秘莫测
- C. 特征 积累 莫测高深
- D. 象征 变化 深不可测

27. 中华民族在漫长的历史发展进程中，形成了\_\_\_\_\_的民族文化。这些节日久经沧桑传延至今，不仅有着群众\_\_\_\_\_的娱乐形式、丰富多彩的民俗文化，而且蕴藏着历代民众共同的理想和精神追求、\_\_\_\_\_着中华民族的民族精神和思想精华。

依次填入画横线部分最恰当的一项是：

- A. 丰富多彩 脍炙人口 凝集
- B. 博大精深 喜闻乐见 凝结
- C. 包罗万象 喜闻乐道 凝固
- D. 绚丽多姿 津津乐道 凝聚

28. 在职称评审过程中，各级评审组织几乎无法看到申报人的艺术实践能力，只能看到表格栏目里的论文和项目。在唯论文是重的标准下，音乐理论的教师还能体现一些真才实学，而表演艺术的教师则只能扬短避长、\_\_\_\_\_。

填入画横线部分最恰当的一项是：

- A. 滥竽充数
- B. 削足适履
- C. 委曲求全
- D. 弄虚作假

29. 食品安全不仅由食品药品监督管理部门负责，还涉及工商、卫生、农业、质量检验检疫等部门的职责，“九龙治水”极易造成“\_\_\_\_\_”，一项论责任要各方分担、论利益却与其他部门无涉的工作，常常会因为缺少强力的调配、精确的协调和统一的部署，失去推动力。

填入划横线部分最恰当的一项是：

- A. 各自为政
- B. 一盘散沙
- C. 群龙无首
- D. 敷衍了事

30. ①据此，我认为长期以来的疑惑已\_\_\_\_\_。

②我们要知道竹子的性质，就要特别栽种竹子，以研究它生长的过程，要把叶子切下来拿到显微镜下去观察，绝不是\_\_\_\_\_就可以得到的知识。

③这首诗之所以成为\_\_\_\_\_的名篇，无论如何不在于如专家所认为的在两句诗中罗列了三座桥和一座山。

④他的这种奇谈怪论，看来决非是对历史的无知，而是\_\_\_\_\_地捏造谎言。

依次填入划横线部分最恰当的一项是：

- A. 毋庸置疑 一蹴而就 家喻户晓 居心叵测
- B. 无可厚非 唾手可得 叹为观止 煞费苦心
- C. 迎刃而解 袖手旁观 脍炙人口 别有用心

D. 不攻自破 不劳而获 流芳百世 千方百计

31. 公众层面的现象与专业层面的表现，看似相距甚远，实则紧密相连。不从事专业研究的社会公众固然不会参与科学技术前沿的创新，但实际上，公众素养是科技发展的土壤。离开了这个群众基础，即使我们凭借少数科技精英的努力能够实现“上天入地”，也很难持续不断地推动创新，真正迈入创新型国家的行列。这段文字的核心观点是：

- A. 提高全民科学素质势在必行
- B. 科技发展是公民科学素养的“软实力”
- C. 中国公民的科学素养亟待提高
- D. 科技的发展依赖于公众素养的同步提高

32. 国家提高个税起征点，本意是照顾弱势群体，而其他公共政策如果以未缴纳税为由损害弱势群体的正当利益，不仅会使税收区别对待政策失去本来的意义，还会形成更大的社会不公。因此，国家一方面应该提高起征点以保护低收入群体的正当利益，另一方面需要大力更新观念，把税收作为公民的一种奉献而不是一种交换条件。只有这样，照顾绝大多数低收入群体的税收政策才会起到真正作用。

这段文字意在表明：

- A. 如果以税收扣缴情况作为区别对待人群的先决条件，就会使弱势群体失去更多权益
- B. 个人所得税政策提高起征点后，容易形成更大的社会不公
- C. 当国家的税收政策与社会公平机制有所脱节时，就会引起社会的敏感反应
- D. 个税政策的调整不应仅限于要提高起征点，还有许多问题需要完善

33. 哲学家说，幸福是一种感觉，上午和下午感受都不一样。很多时候，也需要自我调适和社会调整。沿着这种思路，哲学家赵汀阳就认为，现代消费主义的宣传（比如消费广告刺激了大家的无限欲望），造就了“难以满足”的欲望。另一些心理学者说，很多幸福感就流失在“对比”之中，就如调查所验证的，收入分配是否“公平合理”成了影响幸福的重要因素——而不是收入是否“充足”。

这段文字表达的主要意思是：

- A. 幸福的感觉因人而异，需要个人自我调适
- B. 幸福是一种心理感觉，调节好自己的心态有利于获得幸福感
- C. 要想获得幸福，首先要降低自己的期望
- D. 哲学家和心理学家对幸福有着不同的理解

34. 随着市场经济潮流的冲击和社会不良风气的影响，有些人开始注重名和利，而学术则变成了谋取名利的工具。为了能够尽早地脱颖而出，有些学者甚至完全放弃学术之追求真理性认识的本然功能，将学术批判变成自我彰显的“噱头”，于是，专批名人、伟人，借助媒体虚造声势，以致钻进为批判而批判的死胡同。不难想象，当这种现象泛化为普遍之时，必将是学术死亡之日。

这段文字意在表明：

- A. 当学术批判发展为普遍之时，将是学术死亡之日
- B. 学术批判会被别有用心的人利用，转而演变成政治斗争的工具
- C. 只有经过全面调查和研究，才能使批判真正做到“有的放矢”
- D. 唯有坚持真理取向的学术批判才能真正促进学术的繁荣



35. 《三字经》《弟子规》《劝学诗》等作品之所以成为经典，也许是教育的惰性所致：读书人不需要思考和摸索，只需要单向填鸭式的学习和灌输，奉经典为准则，即可读书成才，成就教育的结果。如今，将经典中的糟粕删掉了事，只剩下与当今时代契合的部分，让孩子们重新仰视经典之为经典，这当然还是教育之惰性的延续，只不过把书多编辑一次罢了。

以下表述符合作者观点的是：

- A. 《三字经》《弟子规》《劝学诗》等作品的广泛流传正是教育惰性的体现
- B. 对经典作品中的糟粕采用“删去了事”的简单粗暴的处理方式，是一次失败的“拿来主义”
- C. 对《三字经》《劝学诗》等经典作品应该取其精华，真正使之发扬光大
- D. 对经典作品采用填鸭式的教学方式是教育界的败笔

36. 动用公帑给低保户予以生活保障，过年过节给弱势群体送慰问金，都属于政策倾斜——某个人穷，某个群体生活有困难，很多时候不是某个人、某个群体造成的，“天之道，损有余而补不足”，“税收取之于民用之于民”，这种倾斜恰恰是在体现社会的公平正义。可是，反观“高层次人才子女中考予以加10分投档录取”，这种优惠取之于谁用之于谁呢？高层次人才子女有“不足”需要补吗？这种“补”所损害的其他人的子女，他们又何尝“有余”？

这段文字要表达的核心观点是：

- A. 高层次人才子女考试加分政策有损公平竞争
- B. 政策倾向于弱势群体才是社会公平正义的真正体现
- C. 政策可以倾斜，但在倾斜时不能有违公平正义
- D. 政策倾斜要符合“损有余而补不足”“税收取之于民用之于民”

37. “先老”即人口年龄结构的迅速变化，意味着我们的要素禀赋发生了变化，劳动力变得昂贵了，意味着我们在丧失原来在劳动密集型产业中的比较优势。“未富”则意味着，我们并不会在非常短的时间内，一下子在资本密集型和技术密集型产业中得到足够显著的比较优势。因此，这个阶段就比较优势来说，我们处于相对尴尬的境地，也可以不准确地说，我们面临着“比较优势真空”。

这段文字要表达的核心观点是：

- A. “未富先老”的局面会制约我国经济的发展
- B. 过去的发展方式会使我们丧失比较优势，不能支撑经济持续增长
- C. 中国面临的挑战，集中表现为如何应对“未富先老”的困境
- D. “未富先老”是经济发展的阶段性特征

38. 语言到底是什么？假如它仅仅是交流工具，地球人都讲英语也就谈不上有啥危险。然而语言还是文化最原始、最根本的成分，是文化的载体和源泉。任何一种语言中都蕴藏着那个民族的智慧、技艺、信仰、风俗等丰富的内涵，一旦消亡，人类就会丧失对理解、认识和更新自我而言“不可替代的部分和瞬间”。一个语种的离去即是一种独一无二文明的死亡，只懂美式英语的人怕是难以理解这其中蕴含的悲恸和伤感。

对这段文字概括最准确的是：

- A. 语言是人类真正的遗传密码
- B. 英语成为地球上唯一的语言意味着文明的消亡
- C. 语言是文化的载体，语种承载着文明形态

- D. 不同的语言意味着不同的世界，抛弃一个语种就等于葬送一种文明形态
39. 古人说过，“读书当用三余”。其中一“余”便是“岁余”。江南四大才子之一的文征明有诗云，“人家除夕正忙时，我自挑灯拣旧诗”。鲁迅过年时最喜欢上书市购书。他的日记载有：1913年春节，他曾四去书市购书60册；1915年正月初二“补春节休息，买《说文系统第一图》拓本”；1925年除夕“往琉璃厂买石印《王荆公百家唐诗选》一部六本”。鲁迅买书都是要读的，这也是他别开生面的一种过年方式。  
这段文字要表达的深层涵义是：
- A. 读书可以给人们的心灵以温暖、快乐和充实  
B. 春节长假最适合读书  
C. 古代人喜欢读书过年  
D. 读书过年，更富文化内涵和精神品味
40. 任何一种教育体制下，都存在着学生资质差异的问题。理想的教育体制，应该面向不同资质的学生，都提供相应的机会。但是，面对高考升学，面对社会对人才的遴选机制，我们常常是无奈地叹息。因此，天才对教育唯一可说的话，是古希腊哲学家第欧根尼的那句名言：“不要挡住我的阳光。”  
这段文字表达的主要观点是：
- A. 现在的教育体制忽视了学生的资质差异，不利于天才的培养  
B. 理想的教育体制应该一视同仁，给学生提供平等的机会  
C. 在当前的教育体制和人才遴选机制下，人们更多地表现出无奈  
D. 现行教育体制在竭力挣扎却又难以走出误区
41. 医疗系统有必要去革除自身的陈弊，净化我们的医疗环境，在解决看病难问题上更有作为。但在滥用药物这件事情上，如果我们意识不到问题的主要根源所在，缺乏足够的执法跟进，以及必要的国民反省意识，而总习惯性地将这种责任强加于医者身上，制造出现在逼迫人们滥用药物的悲情，不但对医生们不公平，也可能使问题难以得到正视和解决。  
作者主要表述的观点是：
- A. 医疗系统要在解决看病难问题上发挥自身作用  
B. 药物滥用的责任不完全在医者  
C. 在处理医患矛盾时，医生往往会成为替罪羊  
D. 滥用药物的责任应归结于医疗系统本身，而不能强加在医生身上
42. 保护，对于破坏来说是好词汇，对于改革来说却不一定是。我们过去不太尊重地方剧种，现在去尽力保护，心情可以理解。但是，我们要继续把中国文化推向创新之路的时候，非要保留那么多的东西是有问题的。能不能有更多的年轻艺术家，不要再分到一个已经没有太多希望、两年也没有一个观众的剧团里面去？有没有可能让他们汲取一些流行音乐、西方音乐剧的元素，创造出一种新的剧种，为当代人所喜欢？  
这段文字要表达的核心观点是：
- A. 要把中国文化推向创新之路需要有所舍弃  
B. 一味地保护不利于改革和创新  
C. 没有观众的剧团应该汲取一些新鲜元素，创造出一种新的剧种  
D. 濒临灭绝的剧种缺的不是保护而是创新



43. 读《九义》，就是在听一个特别能贫的十几岁小女子在耍贫嘴，又或者是在听单口相声，一不小心就笑得肚子抽筋、口吐白沫——事实上当下北京作家群中，大都有这种“贫”的本事，如时下风靡的冯唐。而《九义》之可喜，在于作者顾异没有硬往这个“贫”里面塞进一些东西，她只是尽情地展现着自己的小心思、小欢喜、小理想、小纯情、小期待，就像是对镜开屏的孔雀，一心一意地绽放着自己的光彩，并且只给自己看。

作者被《九义》深深吸引主要源于：

- A. 这部小说语言的幽默性
- B. 这部小说内涵的丰富性
- C. 这部小说内容的纯粹性
- D. 这部小说情节的生动性

44. “被边缘化”大多是一种主观感受，而非客观事实。有的单位被赋予的任务已足够重要，有的干部被委派的工作已属量才适用，但这些单位和干部依然觉得被重视得不够。抱怨和不满，在很多情况下，不过是期望得到更多的同情和关注。然而，这种负面的心态不仅得不到同情与关注，反而会在怨天尤人中消磨工作热情和奋斗意志，自己把自己边缘化了，甚至最终出局。不排除确有被忽视的情况，但从根本上说，命运还是掌握在自己手里，奋斗和业绩是走向成功最好的通行证。

这段文字表达的主要观点是：

- A. “被边缘化”往往并非客观事实
- B. 抱怨和不满的情绪只会对工作产生消极影响
- C. 没有边缘的岗位，谨防自己把自己边缘化
- D. 摒弃“被边缘化”的消极思想，要以积极的行动掌控自己的命运

45. 霍金认为，理论上讲，虫洞或时光隧道不仅仅能把我们带到别的星球。如果两端在同一个地方，且由时间而非距离分离，在遥远的过去，飞船就能在地球附近自由出入，或许恐龙会看到飞船登陆。但他同时又提出一个“疯狂科学家”悖论：一个科学家利用虫洞，仅需一分钟就来到过去，通过虫洞，科学家可以看到一分钟前的自己。如果这位科学家利用虫洞向以前的自己开枪，会发生什么？他现在已经一命呜呼。那又是谁开的枪呢？这便是悖论。这种时间机器会违反整个宇宙所遵循的基本规则。

下列哪项描述与霍金的观点一致？

- A. 任何通过“虫洞”和其他方式回到过去的时间旅行都是不可能的
- B. 利用“虫洞”穿越时空是不可能的
- C. 利用“虫洞”进行任何形式的时间旅行是行不通的
- D. 宇宙飞船可以通过虫洞或时光隧道把我们带到地球以外的其他星球

46. 现代企业不仅是物质生产者，也是文化观念的创造者；企业既生产自身，也创造人格；既创造满足市场需要的商品，也塑造企业文化人。观念创新的文化逻辑客观上要求现代企业要以经济与文化互动的模式，创造新的企业发展模式，这是企业文化境界的呈现。

这段文字的主旨是：

- A. 呈现经济与文化互动的模式
- B. 说明企业文化对企业发展的的重要意义
- C. 揭示企业文化境界生成的逻辑
- D. 阐明观念创新是企业文化的核心思想

47. 1953年出版的《新华字典》，是新中国第一部以白话释义、用白话举例的现代汉语规范字典。尽管这部字典内找不到任何编者的姓名，然而，“新华辞书社”五个字背后，汇集了一批声名卓著的大家：叶圣陶、魏建功、邵荃麟、陈原、王力、吕叔湘……《新华字典》集全国之力编著而成，从国家领导人、学术名家，

到广大群众，都倾注了各自的心血。

对这段文字的概括准确的是：

- A. 《新华字典》是举全国之力编辑而成的
- B. 《新华字典》是名家大师的鼎力之作
- C. 《新华字典》是我国第一部现代汉语字典
- D. 《新华字典》在我国辞书史上具有里程碑意义

48. 有科学实验表明，大多数人并没有同时处理多项任务的能力。只要一上网，人们的工作记忆就会严重超载，导致大脑额叶难以聚精会神地关注任何一件小事。同时，由于神经通路具有可塑性，上网越多，对大脑适应精力分散状态的训练就越多。这也是为什么习惯上网的人，只要离开互联网，就会感到无所适从。大脑的全面发展要求我们既能迅速解析各种信息，又能无拘无束的沉思冥想；既要能在互联网数字世界中积极工作，又要能隐退到田园中静思遐想。今天的问题在于，我们正在丧失在两种截然不同的思想状态之间保持平衡的能力。

根据上述文字，下列说法正确的一项是：

- A. 网络限制了人类大脑的全面发展能力
- B. 网络使人们处理多项任务的能力衰退
- C. 上网会使人的记忆力下降，精力分散
- D. 人类原本具备自由转换思想状态的能力

49. 趋“利”避“害”是资本的本性，地产商也不例外，所以挂创意之“头”卖地产之“肉”不能仅指责地产商，也在于，如今的创意产业园区进入门槛太低。放眼全国，创意园区遍地开花，其中很多都是“挂羊头卖狗肉”，做些简单但能赚钱的生意，比如搞带点创意色彩的餐饮、服饰、旅游工艺品等等，既没有文化，也没有创意。

这段文字意在表明：

- A. 许多创意园区名不符实
- B. 房地产商搞创意园区仅仅是个噱头
- C. 创意园区的发展任重道远
- D. 创意园区的准入门槛应该提高

50. 家长、学生和雇主没有参与院校管理的当然权力，但有对高等院校社会责任的问责权。高等教育大众化，大学经费来源多元化，导致家长、学生以及雇主都成为高等院校的利益相关者。对于家长和学生而言，他们对高等院校责任的问责，更多在学生能否获得良好的学习经历和学习体验，学校能否培养出适合社会需求的毕业生上。雇主则要求高等院校不仅能够培养出适应岗位需求的毕业生，而且能够针对企业和社会需求，进行直接投入生产和增加效益的应用型研究。

从上述文字我们可以得出：

- A. 高等教育大众化容易受到急功近利的社会风气影响
- B. 高等院校应给予家长、学生和雇主社会责任感
- C. 高等院校的发展应考虑家长、学生和雇主的利益诉求
- D. 家长、学生和雇主的要求促进了应用型学科蓬勃发展

51. ①干细胞的重要性奠定了其在医药卫生、科技产业，国防等领域内的重要地位

②美国总统奥巴马上任之初就宣布取消前任总统对干细胞研究的限制

③干细胞因其在生命科学、新药试验和疾病研究这三大生物医药领域的重要作用受到全世界医学界和政治人物的关注

④2009年，美国FDA批准了世界上首次人类胚胎干细胞治疗脊髓损伤的临床试验

⑤因此，干细胞的研究、开发和应用可以看作是人类的健康工程，预期在未来几年内会有很大的飞跃

⑥现在人们已经发现，癌症、糖尿病、帕金森氏症、心脑血管病、组织器官纤维化、自身免疫性疾病等一系列疾病都可能是干细胞数量减少或结构功能变异引起的

将以上6个句子重新排列，语序正确的是：

- A. ③②①⑤⑥④      B. ①⑤③②⑥④      C. ③②④⑥①⑤      D. ①⑤⑥④③②

现在人们闻之色变的沙尘暴，即由于强烈的风将大量沙尘卷起，造成空气浑浊，能见度小于千米的风沙天气现象，其实古已有之。它本是雕塑大地外貌的自然力之一，是大自然的一项工程，并且在全球生态平衡中占有一席之地。

在地质史上，风力对草原带的风化物质进行筛选分类：凡搬不动的粗大砾石，留在原地形成砾石戈壁滩；颗粒适中的粗沙和细沙被吹移到附近就聚集成沙漠；颗粒微小的粉沙细土和微尘，则被强上升气流扬上天空，作中长距离的输送。我国黄土高原的黄土层就是沙尘经数百万年堆积而成的，华夏文明就是在这块沙尘累积的黄土地上诞生和发展起来的。澳大利亚的沙尘乘着南半球的西风掠过塔斯曼海，使新西兰火山岛上的土壤更为肥沃，因而被称作“澳大利亚出口的珍贵产品”。从非洲内陆吹向地中海的强风帮助古罗马人使用帆船从埃及运回小麦，但也将撒哈拉大沙漠的沙尘带到意大利、西班牙和法国。沙尘暴固然使空气中的可吸入颗粒物增加，然而由于沙尘含有碱性，又可中和大气中酸性物质，减少酸雨的发生。

风是地球上空的传送带，它将大陆的沙尘吹向海洋，又将海洋的水汽吹向大陆。沙尘和水汽相遇，便能结合为云，最终化作降水。可见，沙尘不仅在土壤的分布和补充上扮演着重要角色，而且在全球的水循环上也扮演着重要角色。可以说，沙尘也是决定全球生态平衡的因子。

然而，近百年来，沙尘暴却已成为影响人类生产生活的一大灾害。构成我国沙尘暴的物质材料，多来自干旱、半干旱的草原区。在人为活动的干预下，特别是由于森林大量砍伐，土地过度开垦，工厂盲目建设，排放不加控制，结果造成生态巨变：原来有沙漠的地方沙漠扩大了；没有沙漠的地方沙漠产生了；内陆河流程缩短，水量减少，沼泽地消失；河流两岸的绿色走廊枯萎死亡。这样，来自大西北的沙尘暴，一路上还源源不断地获得裸地上新的沙尘源的补充，而且混入了工矿企业排放的有害成分和来自草原上牲畜粪便中的病菌病毒。总之，在受到人为因素的干扰后，自然界的风蚀速度已远远大于土壤的生成速度，一连串的危害也就由此产生。

哥德说过：“大自然是不会犯错误的，错误永远是人犯下的。”这或许能给我们某种启示。

52. 下列对沙尘暴的解释，最准确的一项是：
- A. 沙尘暴是由于风将大量沙尘卷起，使空气浑浊，能见度小于千米的风沙现象
- B. 沙尘暴是雕塑大地外貌的自然力之一，是大自然保持全球生态平衡的一项工程
- C. 从地质史上看，沙尘暴是风力对草原带的风化物质进行筛选分类的结果
- D. 沙尘暴是那些颗粒适中的粗砂和细砂被大风吹移到附近就地聚集成沙漠形成的
53. 下列对“沙尘也是决定全球生态平衡的因子”这句话的理解，错误的一项是：
- A. 沙尘这种天气现象古已有之，它在地球生态平衡中起着一定的作用
- B. 沙尘逐渐积聚形成沙尘暴，在全球范围内起了保持生态平衡的作用
- C. 沙尘含有碱性，能使大气中的酸性物质得到平衡，从而减少酸雨的发生
- D. 沙尘不仅在土壤的分布和补充上，而且在全球水循环上也扮演着重要角色
54. 下列对沙尘暴灾害加剧的原因，表述不正确的一项是：
- A. 强上升气流把颗粒微小的粉沙细土和微尘扬上天空，作中长距离的输送
- B. 森林大量砍伐，土地过度开垦，工厂盲目建设，排放不加控制，造成生态巨变
- C. 沙尘暴中混入了工矿企业排放的有害成分和来自牲畜粪便中的病菌病毒
- D. 在受到人为因素的干扰后，自然界的风蚀速度已远远大于土壤的生成速度
55. 根据原文所提供的信息，以下推断正确的一项是：
- A. 沙尘暴曾给新西兰、意大利、法国等国家带来好处，因而必将被人类所利用
- B. 风将大陆的沙尘吹向海洋，又将海洋的水汽吹向大陆，这将会使海平面逐渐升高
- C. 既然是人为因素加剧了沙尘暴的危害，人类也就完全有能力减少这种灾害的发生
- D. 大自然是不会犯错误的，因此人类应当顺应大自然，而不要企图去改变大自然

### 第三部分 数量关系

在这部分试题中，每道试题呈现一段表述数字关系的文字，要求你迅速、准确地计算出答案。你可以在草稿纸上运算。

56. 6, 11, 17, ( ), 45
- A. 30                      B. 28                      C. 25                      D. 22
57. 2, 3, 6, 15, ( )
- A. 25                      B. 36                      C. 42                      D. 64
58. 1, 2, 9, 64, 625, ( )
- A. 1728                    B. 345                    C. 5184                    D. 7776
59. 10, 21, 44, 65, ( )
- A. 122                    B. 105                    C. 102                    D. 90

60. 3, 5, 11, 21, ( )  
A. 60                      B. 68                      C. 75                      D. 85
61.  $\triangle ABC$ 为等边三角形, 若DEF为三角形三个边的中点, 用ABCDEF六个点中的任意三个作顶点, 可有多少种面积不等的三角形:  
A. 3                      B. 4                      C. 5                      D. 6
62. 张先生今年70岁, 他有三个孙子。长孙20岁, 次孙13岁, 幼孙7岁。问多少年后, 三个孙子年龄之和与祖父的年龄相同:  
A. 10                      B. 15                      C. 18                      D. 20
63. 小张练习写数码, 从1, 2, 3……连续写至1000多才停止。写完一数, 共写了3201个数码。请问, 小张写的最后一个数是多少:  
A. 1032                      B. 1056                      C. 1072                      D. 1077
64. 小船顺流而下航行36公里到达目的地。已知小船返回时多用了1小时30分钟, 小船在静水中速度为10公里/时, 问水流速度是多少:  
A. 8公里/时                      B. 6公里/时                      C. 4公里/时                      D. 2公里/时
65. 王明抄写一份报告, 如果每分钟抄写30个字, 则用若干小时可以抄完。当抄完 $\frac{2}{5}$ 时, 将工作效率提高40%, 结果比原计划提前半小时完成。问这份报告共有多少字:  
A. 6025                      B. 7200                      C. 7250                      D. 5250
66. 在一堆桃子旁边住着5只猴子。深夜, 第一只猴子起来偷吃了一个, 剩下的正好平均分成5份, 它藏起自己的一份, 然后去睡觉。过了一会儿, 第二只猴子起来也偷吃了一个, 剩下的也正好平均分成5份, 它也藏起自己的一份, 然后去睡觉, 第三个、第四、五只猴子也都依次这样做。问那堆桃子最少有多少个:  
A. 4520                      B. 3842                      C. 3121                      D. 2101
67. 在下图小空格中已填上了1及7两个自然数, 如果其他空格也填上相应不同的数, 使得任意一个横行、任意一个纵列以及任意一条对角线上的3个数之和都等于111。请问, 位于中间的小正方形里应填的数是:

1		
		7

- A. 61                      B. 53                      C. 41                      D. 37
68. 假设7个相异正整数的平均数是14, 中位数是18, 则这7个正整数中最大数是多少:  
A. 58                      B. 44                      C. 35                      D. 26
69. 有一支参加阅兵的队伍正在进行训练, 这支队伍的人数是5的倍数且不少于1000人, 如果按每横排4人编队, 最后少3人, 如果按每横排3人编队, 最后少2人; 如果按每横排2人编队, 最后少1人。请问, 这支队伍最少有多少人:  
A. 1045                      B. 1125                      C. 1235                      D. 1345



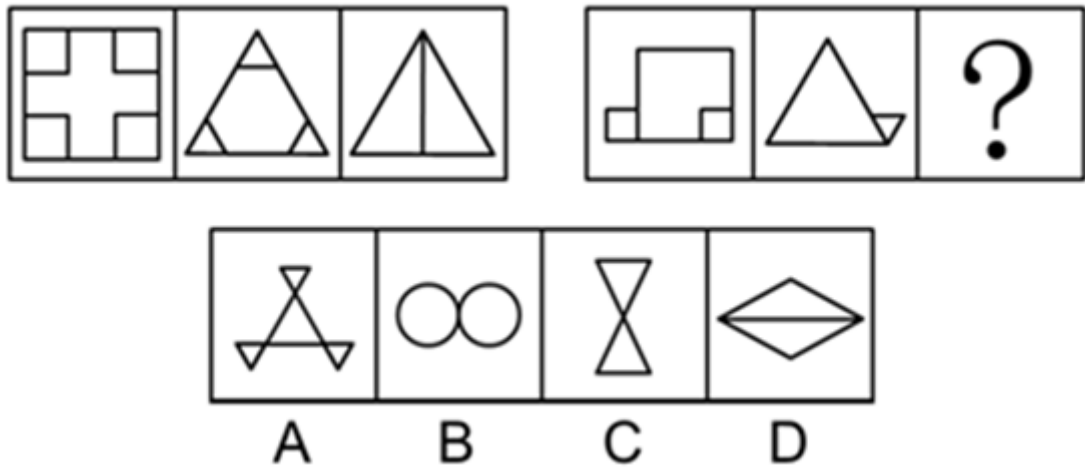
70. 100个骨牌整齐地排成一列，依次编号为1、2、3、4、……、99、100。如果第一次拿走所有偶数位置上的牌，第二次再从剩余牌中拿走所有偶数位置上的牌，第三次再从剩余牌中拿走所有奇数位置上的牌，第四次再从剩余牌中拿走所有奇数位置上的牌，第五次再从剩余牌中拿走所有偶数位置上的牌，以此类推，问最后剩下的一张骨牌的编号是多少：

- A. 77                      B. 53                      C. 39                      D. 27

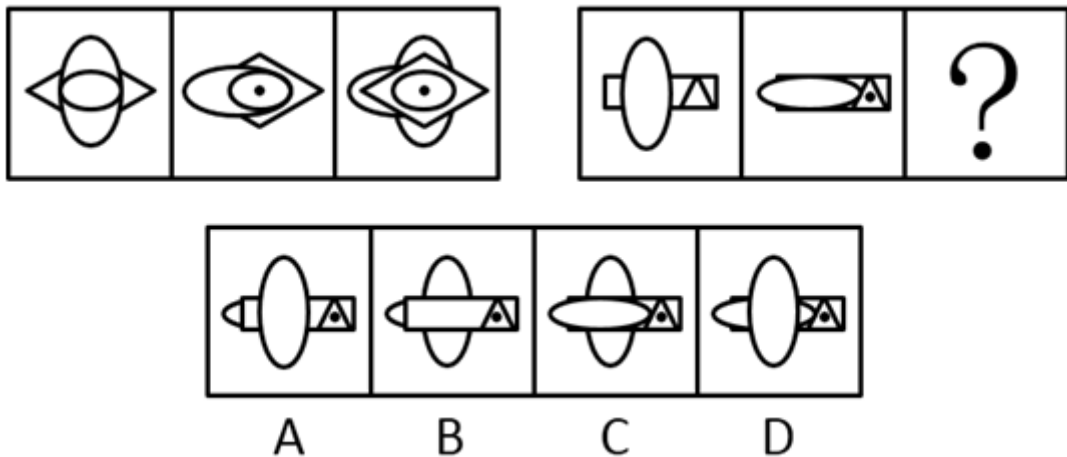
### 第四部分 判断推理

本部分包括图形推理、定义判断、类比推理与逻辑判断四种类型的试题，请按每道题的答题要求作答。

71. 从所给四个选项中，选择最合适的一个填入问号处，使之呈现一定的规律性：【2014天津071】




- A. 如图所示              B. 如图所示              C. 如图所示              D. 如图所示
72. 从所给四个选项中，选择最合适的一个填入问号处，使之呈现一定的规律性：【2014天津072】




- A. 如图所示              B. 如图所示              C. 如图所示              D. 如图所示
73. 从所给四个选项中，选择最合适的一个填入问号处，使之呈现一定的规律性：【2014天津073】





- A. 如图所示      B. 如图所示      C. 如图所示      D. 如图所示
74. 从所给四个选项中，选择最合适的一个填入问号处，使之呈现一定的规律性：【2014天津074】



A

B

C

D

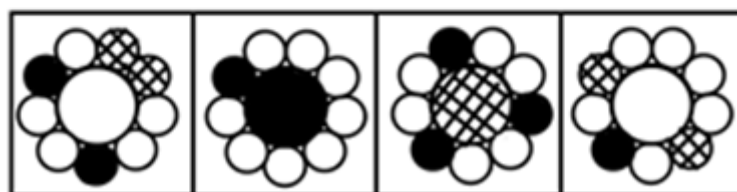

A. 如图所示

B. 如图所示

C. 如图所示

D. 如图所示

75. 从所给四个选项中，选择最合适的一个填入问号处，使之呈现一定的规律性：【2014天津075】



A

B

C

D

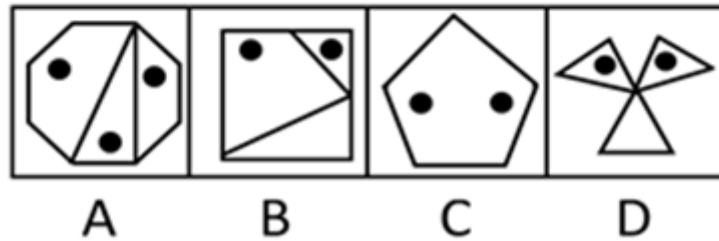

A. 如图所示

B. 如图所示

C. 如图所示

D. 如图所示

76. 从所给四个选项中，选择最合适的一个填入问号处，使之呈现一定的规律性：【2014天津076】





A. 如图所示

B. 如图所示

C. 如图所示

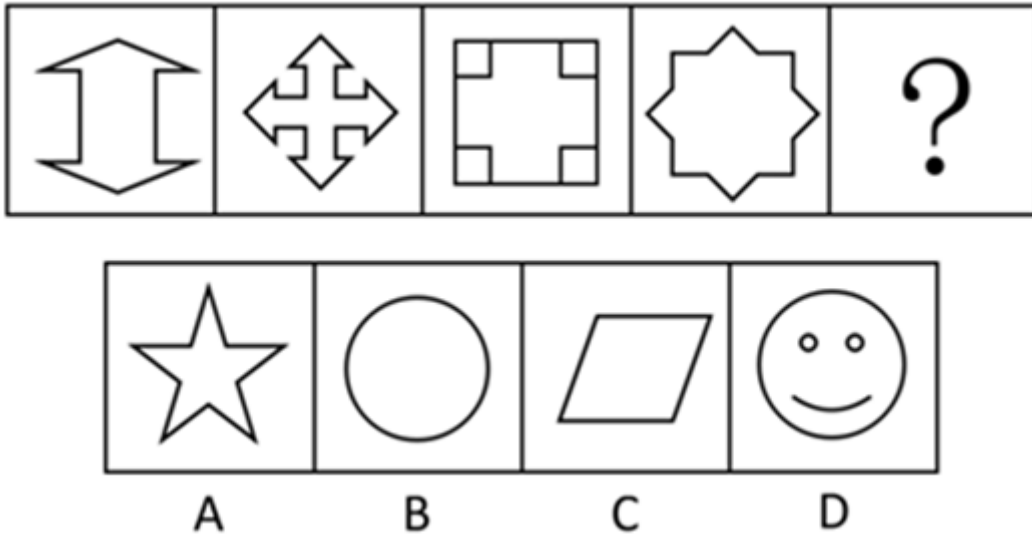
D. 如图所示

77. 从所给四个选项中，选择最合适的一个填入问号处，使之呈现一定的规律性：【2014天津077】



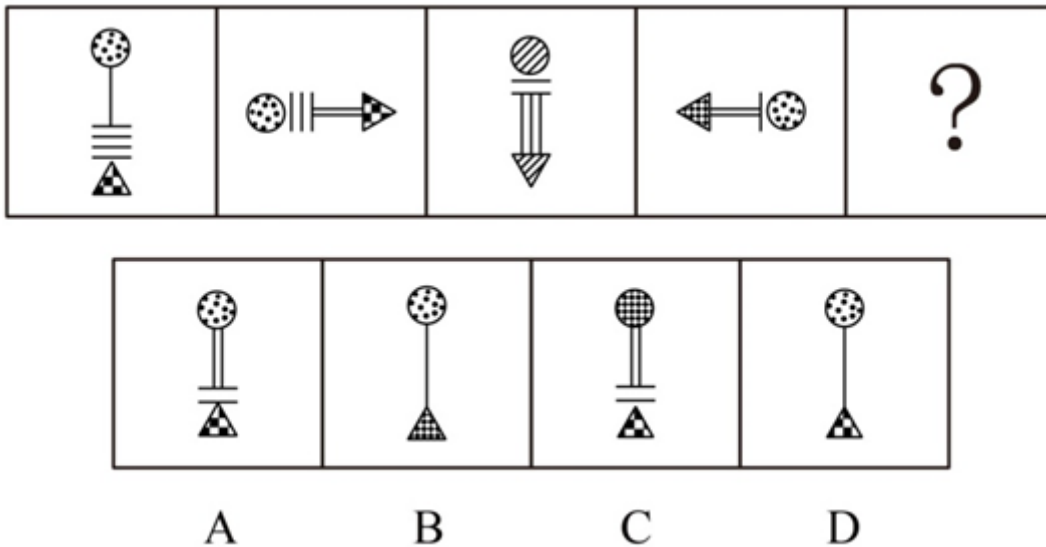
- A. 如图所示      B. 如图所示      C. 如图所示      D. 如图所示

78. 从所给四个选项中，选择最合适的一个填入问号处，使之呈现一定的规律性：【2014天津078】



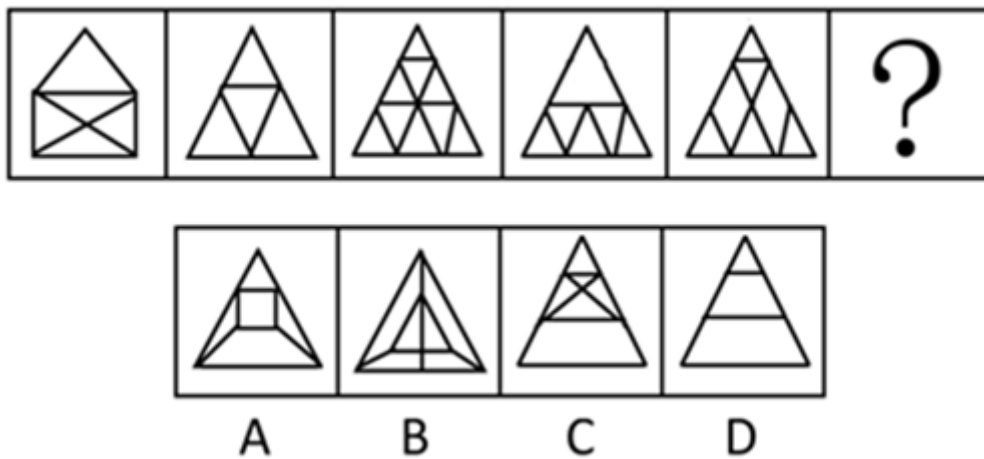
- A. 如图所示      B. 如图所示      C. 如图所示      D. 如图所示

79. 从所给四个选项中，选择最合适的一个填入问号处，使之呈现一定的规律性：【2014天津079】



- A. 如图所示      B. 如图所示      C. 如图所示      D. 如图所示

80. 从所给四个选项中，选择最合适的一个填入问号处，使之呈现一定的规律性：【2014天津080】



- A. 如图所示                      B. 如图所示                      C. 如图所示                      D. 如图所示
81. 霸王条款是个别商家利用信息不对称、供求关系不平衡，以及自己的垄断地位将不平等的消费条款强加给消费者。表现为一些经营者单方面地逃避法定义务、违反公平原则、损害合同相对人利益的合同中的不平等条款，或者以违反通知、声明、店堂告示或者行业惯例等形式出现的合同内容。  
根据上述定义，下列哪项中的现象不属于霸王条款：  
A. 影楼规定，拍婚纱照时未选中的影像作品及底片、样本归影楼所有，顾客如有需要，必须另行付费  
B. 某美容院规定，办理美容卡后，如果退卡，已半价消费的项目按全价结算  
C. 通过活动出售的打折、特价商品不能退  
D. 吃饭时，拒付饭店餐费，吃霸王餐
82. 暴力慈善是一种慈善的暴力行为，以牺牲受赠人的尊严来获得自己的满足，是对“现金救穷”“高调行善”行事方式的一种概括。  
根据以上定义，下列哪项中的现象不属于暴力慈善：  
A. 某政府单位向敬老院送现金红包  
B. 捐款的时候将现金垒成人民币墙并进行展示  
C. 公司领导以命令的方式要求员工捐款  
D. 朝每名受赠者鞠躬后送现金红包
83. 农超对接是指农户和商家签订意向性协议书，由农户向超市、菜市场和便民店直供农产品的新型流通方式，主要是为优质农产品进入超市搭建平台。农超对接的本质是将现代流通方式引向广阔农村，将千家万户的小生产与千变万化的大市场对接起来，构建市场经济条件下的产销一体化链条，实现商家、农民、消费者共赢。  
根据上述定义，下列哪项属于农超对接的作用：  
A. 市场需要什么，农民就生产什么，避免生产的盲目性  
B. 减少流通环节，降低流通成本  
C. 有利于降低农产品的生产成本  
D. 稳定农产品销售渠道和价格
84. 低碳生活是指生活作息时所耗用的能量要尽力减少，从而减低碳，特别是二氧化碳的排放量，从而减少对

大气的污染，减缓生态恶化。

根据上述定义，下列哪项中的现象不属于低碳生活的范畴：

- A. 将废旧报纸铺垫在衣橱的最底层，不仅可以吸潮，还能吸收衣柜中的异味
- B. 使用电脑时，尽量使用低亮度，开启程序少些；在午休和下班后关掉电脑电源
- C. 选择晾晒衣物，避免使用滚筒式干衣机
- D. 在跑步机上锻炼取代在公园中慢跑

85. 红色旅游是指以1921年中国共产党建立以后的革命纪念地、纪念物及其所承载的革命精神为吸引物，组织接待旅游者进行参观游览，实现学习革命精神，接受革命传统教育和振奋精神、放松身心、增加阅历的旅游活动。

根据上述定义，下列哪项不属于红色旅游的特点：

- A. 学习性
- B. 故事性
- C. 参与性
- D. 趣味性

86. 有机食品也叫生态食品、生物食品，是目前国际上对无污染天然食品比较统一的提法。有机食品是指来自于有机农业生产体系的食物，有机农业是指一种在生产过程中不使用人工合成的肥料、农药、生长调节剂和饲料添加剂的可持续发展的农业，它强调加强自然生命的良性循环和生物多样性。有机食品认证机构通过认证证明该食品的生产、加工、储存、运输和销售等环节均符合有机食品的标准。

根据上述定义，下列哪项不属于有机食品生产、加工的基本要求：

- A. 生产基地未使用过农药、化肥等违禁物质
- B. 作物在收获、清洁、干燥、储存和运输过程中未受化学物质的污染
- C. 种子或种苗来自自然界，未经基因工程技术改造过
- D. 种子或种苗在自然环境下生长，避免在温室大棚内种植

87. 社区矫正是指与监禁矫正相对的行刑方式，是指将符合社区矫正条件的罪犯置于社区内，由专门的国家机关，在相关社会团体和民间组织以及社会志愿者的协助下，在判决、裁定或决定确定的期限内，矫正其犯罪心理和行为恶习，并促进其顺利回归社会的非监禁刑罚执行活动。简单的说，就是让符合法定条件的罪犯在社区中执行刑罚。

根据上述定义，下列哪项不属于社区矫正的作用：

- A. 有利于加大对罪犯的惩罚力度
- B. 有利于罪犯掌握生活技能和相关社会知识
- C. 有利于使人们改变对服刑人员的“标签”式看法
- D. 有利于塑造罪犯符合社会正常生活的信念和人格

88. 所谓“城市病”是指由于城市人口、工业、交通运输过度集中而造成的种种弊病。它给生活在城市的人们带来了烦恼和不便，也对城市的运行产生了一些影响，所以被人们形象地称之为“城市病”。

根据上述定义，下列哪项中的现象不属于城市病的范畴：

- A. 就业压力增大
- B. 市民住宿紧张
- C. 大城市的交通拥堵
- D. 城市的经济实力下降

89. 为了保护劳动者获得劳动报酬的权利，《刑法修正案（八）》规定，恶意欠薪者将被追究刑事责任，“以转移财产、逃匿等方法逃避支付劳动者的劳动报酬或者有能力支付而不支付劳动者的劳动报酬，数额较大，



经政府有关部门责令支付仍不支付的，处3年以下有期徒刑或者拘役，并处或者单处罚金；造成严重后果的，处3年以上7年以下有期徒刑，并处罚金”。

根据上述定义，下列哪项属于恶意欠薪者的行为：

- A. 某企业经营不善，陷入困境，拖欠员工一年的工资
- B. 农民工小王向企业讨薪未果，并遭到企业打手的围殴
- C. 小李超规定期限透支信用卡额度，发卡银行两次催收后超过3个月仍不归还后，以恶意透支罪对小李提起诉讼
- D. 招投标之前，开发商与建筑施工企业就达成默契，双方约定，开发商将预付款打入施工企业的账户后，建筑施工企业要原封不动地返还给开发商，致使建筑施工企业无法支付工人的工资

90. 微表情是指人们通过做一些表情把内心感受表达给对方看，在人们做的不同表情之间，或是某个表情里，脸部会“泄露”出其他的信息。微表情最短可持续1/25秒，尽管一个下意识的表情可能只持续一瞬间，但它很容易暴露情绪。当面部在做某个表情时，这些持续时间极短的表情会突然一闪而过，而且有时表达相反的情绪。

根据上述定义，下列哪项属于微表情：

- A. 售货员面对衣着寒酸的顾客，笑脸相迎中可能闪过一丝轻蔑的嗤笑
- B. 间谍通过眨眼向同伙传递信息
- C. 小王受到惊吓后，脸部不断地抽搐着
- D. 迎着刺骨寒风行走，小李的上下牙齿不断抖动相撞

91. 易教授去宫老师家做客，到门口后不知道宫老师住几楼，便问在门口乘凉的老奶奶和几个小朋友。

小丽说：“宫老师不住一楼。”

小梅说：“宫老师不住二楼。”

小芳说：“宫老师不住三楼。”

小红说：“宫老师不住四楼。”

小玉说：“这楼只有四层，宫老师不住四楼只有住露天了。”

这时，老奶奶笑着对易教授说：“这些孩子真调皮，但多数说的都是真话，只有一个人说了假话。”

据此，可以推出：

- A. 宫老师住一楼
- B. 宫老师住二楼
- C. 宫老师住三楼
- D. 宫老师住四楼

92. 现在准备从赵、钱、孙、李、周、吴、郑七位工程师中选出四人组成攻关组，集中优势兵力研制A型高技术产品。为使工作更有成效，我们了解到以下情况：(1)赵去钱不去；(2)钱去李、郑不去；(3)孙、李至少去一人；(4)周、赵只能去一人；(5)吴与孙要么都去，要么都不去。

据此可知，攻关组的具体成员是：

- A. 赵、李、吴、孙
- B. 钱、孙、周、吴
- C. 赵、李、吴、周
- D. 钱、李、孙、吴

93. 周日下午，连里的通讯员到炊事班来，正巧碰见新来的小刘、小陈、小李，顺便问起了他们的年龄。

小刘说：“我22岁，比小陈小2岁，比小李大1岁。”

小陈说：“我不是年龄最小的，小李和我差3岁。小李是25岁。”

小李说：“我比小刘年纪小，小刘23岁，小陈比小刘大3岁。”

这三个人爱开玩笑，他们每个人的回答都故意说错了一句。

由此，可以推出他们的具体年龄是：

- A. 小刘24岁，小陈23岁，小李22岁                      B. 小刘25岁，小陈22岁，小李23岁  
C. 小刘22岁，小陈24岁，小李25岁                      D. 小刘23岁，小陈25岁，小李22岁

94. 甲、乙、丙、丁四人在一起工作，有人趁别人不在意拿走一件物品藏匿起来。领导发现后问是谁干的，

甲说：“是乙干的”；

乙说：“不是我干的”；

丙说：“不是我干的”；

丁没表态。

现知三人中只有一个人说的是真话。

由此可以推出，拿走物品藏匿起来的人是：

- A. 乙                      B. 丁                      C. 丙                      D. 甲

95. 今天的中国，改革依然是人心所向、大势所趋，在新的历史时期，在现有成就基础上，经济社会要持续保持又好又快发展，就需要以更大的勇气、魄力和力度来推进改革、深化改革，只有这样，才能在用好机遇、化解风险中奋力闯出“深水区”，开创中国现代化的新境界。

由此可推出：

- A. 不深化改革，就无法闯出改革的“深水区”  
B. 深化改革，可以闯出改革的“深水区”  
C. 无法闯出改革的“深水区”，是因为没有深化改革  
D. 闯出改革的“深水区”，就能深化改革

96. 有人认为，高考是很重要的考试，一年只有一次，应该让迟到考生进场考试。

如果以下各项为真，最能削弱上述观点的是：

- A. 不让迟到考生进场，有可能错失选拔优秀人才的机会  
B. 高考是很重要的考试，但并不一定会决定考生的命运  
C. 美国的高考—SAT考试，允许迟到的考生进场考试  
D. 遵守考场规则与考试的重要性、每年举行的次数无关

97. 铝既能溶于酸，又能溶于碱，是人体维持正常运转所需的微量元素。实验表明，红烧肉在铝锅里存放一夜，铝在肉中的含量每公斤可高达120毫克至250毫克。但人体吸收铝元素后很难再从体内排出，容易造成早衰和老年痴呆症。

由此我们可以得出：

- A. 铝是人体的必需元素                      B. 老年痴呆症是由于过量摄入铝造成的  
C. 红烧肉不能隔夜吃                      D. 铝在人体内的含量很容易超标

98. 科学家最新发现被命名为“郑氏晓廷龙”的小恐龙是始祖鸟的“亲戚”，与生存于侏罗纪晚期的始祖鸟亲缘关系非常近。通过分析始祖鸟的形态，并对似鸟恐龙和早期鸟类的系统发育关系进行了重新分析，得出始祖鸟并非鸟类，而是原始恐爪龙类，即始祖鸟是迅猛龙的祖先，而不是鸟类的祖先。

如果以下各项为真，最不能质疑上述推测的是：

- A. 恐爪龙类是一类与恐龙亲缘关系很近的鸟
- B. 恐爪龙类是一类与鸟类亲缘关系很近的恐龙
- C. 兽脚类恐龙的一支演化成植食性恐龙，再演化成鸟类
- D. 始祖鸟标本被命名后，一直被认为是最原始、最古老的鸟类
99. 1784年著名天文学家威廉·赫歇尔曾经写道，火星表面的黑暗区域是海洋，而较明亮区域则是陆地。赫歇尔推测，火星上肯定有智慧生命存在，它们或许与我们地球人差不多。赫歇尔的理论流行了一个多世纪，甚至其他一些天文学家也附和称，在一些颜色较亮的区域可以观测到植被。
- 如果下列各项为真，哪项最能支持赫歇尔的推测：
- A. 有智慧生命存在的地方必定有海洋、陆地
- B. 凡是有植被的地方必定有智慧生命存在
- C. 凡是有海洋、陆地的地方必定有智慧生命存在
- D. 可以观测到植被的地方就可能有智慧生命存在
100. 植物生长调节剂是对植物的生长发育具有抑制或者促进作用的一类物质。包括人工合成的化合物和从生物中提取的天然植物激素。目前在全世界农业生产中广泛应用，针对人们对其安全性的质疑。业内人士指出，根据批量检测结果，看不出有植物生长调节剂的存在。因此，可以认为植物生长调节剂的安全性是比较可靠的。
- 下列哪项为真，最能质疑上述业内人士的观点：
- A. 植物生长调节剂喷洒后，将长期存在于土壤中，不易分解
- B. 有些发达国家对植物生长调节剂的使用有严格的管理规定
- C. 从以往的经验来看，即使是广泛使用的产品也未必是安全的
- D. 有些植物生长调节剂即使含量检测不出，如果长期食用，也可能致病

## 第五部分 资料分析

针对下列图、表或文字回答问题。你应根据资料提供的信息进行分析、比较、计算、处理。你可以在题本上运算。

据我国《2005年国民经济和社会发展统计公报》显示，2005年我国邮电通信业继续呈迅速增长态势，全年完成邮电业务总量12199亿元，同比增长24.6%。其中，邮政业务总量624亿元，增长10.1%；电信业务总量11575亿元，增长25.4%。全年新增局用交换机4608万门，总容量达到4.7亿门。新增城市固定电话用户1174万户，新增农村固定电话用户2694万户，年末总数达到35043万户，其中，城市电话用户23977万户，农村电话用户11066万户。新增移动电话用户5860万户，年末达到39343万户，其中，城市电话用户21457万户，农村电话用户17886万户。固定及移动电话总数同比增长15.05%，电话普及率已达到57部/百人。

101. 2004年我国电信业务总收入比邮政业务总收入多出多少亿元:  
A. 7551.3                      B. 8663.7                      C. 9243.6                      D. 10130.1
102. 2005年农村固定电话增长率比城市固定电话增长率多几个百分点:  
A. 27.3                          B. 27.03                        C. 24.8                         D. 20.7
103. 2004年移动电话用户总量是固定电话用户总量的几倍:  
A. 3.15                          B. 2.12                         C. 1.47                         D. 1.07
104. 2004年邮政业务占邮电业务总收入的百分之多少:  
A. 12.03                         B. 10.26                        C. 8.14                         D. 5.79
105. 根据上述资料, 可以推出:  
(1) 2004年邮电业务总收入达到9791亿元, 同比增速3.4个百分点  
(2) 2005年局用交换机增幅10.87%  
(3) 2005年固定电话用户增长了14.52%  
A. (1) (2)                      B. (2) (3)                      C. (3)                          D. (2)

第五次全国人口普查以2000年11月1日零时为标准时点, S省常住人口34714835人, 根据《全国人口普查条例》和国务院的决定, 我国在2010年又以11月1日零时为标准时点进行了第六次全国人口普查。下面是S省常住人口的地区分布:

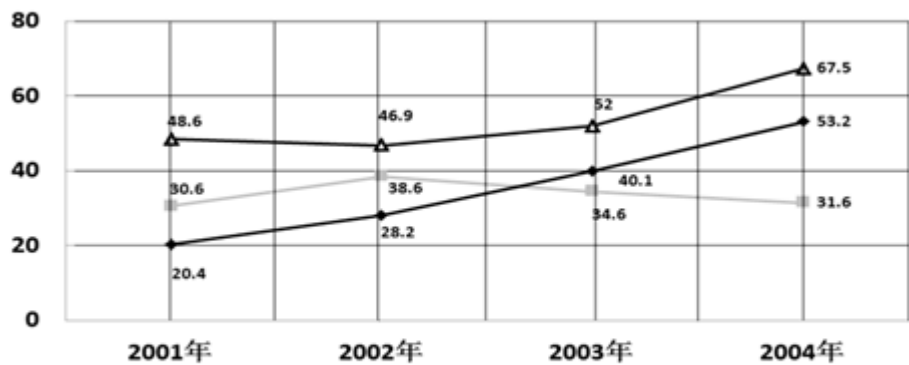
S省人口地区分布情况

地区	人口数(人)	人口比重(%)	人口密度(人/平方公里)
全省	36894216	100	298
A市	7115370	19.29	581
B市	3531347	9.57	2078
C市	2778508	7.53	673
D市	2503388	6.78	109
E市	8128530	22.03	720
F市	4809983	13.04	373
G市	2655549	7.17	101
H市	2589343	6.94	135
I市	2821996	7.65	210

106. 根据以上表格, 以下说法不正确的是:  
A. S省人口最多的是E市                      B. S省面积最大的是H市  
C. S省人口密度最大的是B市                      D. S省人口密度最接近均值的是F市
107. 下面三个地区的面积从大到小排序正确的是:

- A. B市、A市、E市      B. E市、A市、B市      C. A市、E市、B市      D. A市、B市、E市
108. 人口密度超过全省平均人口密度的地区有：  
A. 5个      B. 6个      C. 7个      D. 8个
109. 同第五次全国人口普查相比，S省人口大约增长：  
A. 6%      B. 6.3%      C. 6.5%      D. 7%
110. 按照前面十年的平均增长率，该省常住人口哪一年开始超过3800万：  
A. 2013      B. 2015      C. 2017      D. 2019

某市主要自行车品牌产量统计图表（万辆/年）



▲ 飞鱼牌    ■ 蜜蜂牌    ◆ 蝴蝶牌

style="text-align: center;">

111. 在主要自行车品牌中，年产量增幅最多的是哪种和哪一年：  
A. 蝴蝶牌/2004年      B. 蝴蝶牌/2003年      C. 飞鱼牌/2004年      D. 蜜蜂牌/2000年
112. 在主要自行车品牌中，年产量减幅最少的是哪种和哪一年：  
A. 蜜蜂牌/2002年      B. 蝴蝶牌/2004年      C. 蜜蜂牌/2004年      D. 飞鱼牌/2002年
113. 从2001-2004年间，蝴蝶牌自行车产量年均增长多少：  
A. 31.2%      B. 33.6%      C. 37.7%      D. 38.4%
114. 飞鱼牌自行车年产量变化的幅度最高与最低相差几个百分点：  
A. 27个百分点      B. 31个百分点      C. 33个百分点      D. 35个百分点
115. 某市主要自行车品牌2002年产量增长率为：  
A. 11.43%      B. 14.16%      C. 16.07%      D. 20.21%

某地区主要农产品的产量统计表 单位：万吨

产品名称		产量		
		2007年	2008年	2009年
粮食		6170	6677	7566
	夏粮	2012	2200	2456
	早稻	1034	1453	1412
	秋粮	3124	3024	3698
油料		887	849	885
	油菜籽	436	387	412
	花生	451	462	473
棉花		32	34	28
糖料		1184	1429	1507
	甜菜	572	781	794
	甘蔗	612	648	713
茶叶		6	7	9
水果		3821	3814	4102
蔬菜		6231	7423	7812

style="text-align: center;">

116. 主要农业产品产量不是每年都增长的占百分之多少：

- A. 35.71                      B. 45.45                      C. 42.86                      D. 44.01

117. 在粮食中哪一样产品哪一年增长幅度最大：

- A. 夏粮                      2009年  
B. 早稻                      2008年  
C. 秋粮                      2008年  
D. 秋粮                      2009年

118. 2007年的糖料产量是主要农业产品总产量的百分之多少：

- A. 4.46                      B. 4.76                      C. 5.63                      D. 6.46

119. 2009年主要农业产品产量增长幅度排在前三位的是哪些产品：

- A. 茶叶 粮食 糖料                      B. 茶叶 秋粮 粮食  
C. 蔬菜 粮食 大米                      D. 粮食 糖料 秋粮

120. 2009年主要农业产品产量增长百分比最多与最少的相差多少：

- A. 18个百分点                      B. 23个百分点                      C. 32个百分点                      D. 46个百分点

扫一扫，对答案



