

2014年河北政法干警行测真题

真题更新时间：2022年11月08日23:32:31

扫描下方二维码下载小麦公考APP 刷海量题库掌握最新热点



QQ扫码直接下载

微信扫码到应用市场下载

支持所有机型哦

第一部分 言语理解与表达

本部分包括表达与理解两方面的内容。请根据题目要求，在四个选项中选出一个最恰当的答案。

1. 法国作家雨果说：“人有了物质才能生存，有了理想才谈得上生活。”

雨果这句话意在强调：

- A. 理想源于现实又高于现实
- B. 理想受生活存在的制约
- C. 人要有物质生活，又要有精神生活
- D. 人的存在由高到低可以分出不同层次

2. 人类对技术的乐观或悲观倾向由来已久，但普林斯顿大学历史学家爱德华·泰纳的说法可能会使你大吃一惊：技术不仅没有给人类缔造福祉，反而极大地报复了人类。技术反噬人类的事例，我们可以举出许多；但我们与其把泰纳的说法当成一种绝望的声音，不如把它视为一种警告。日益复杂的技术文明常常会带来无法预料的结果，这些结果与人们当初的良好愿望大相径庭。

最能准确概括上述文字内容的是：

- A. 泰纳的说法表现出对技术的悲观倾向，我们对科学技术的看法应该是乐观的，但也应该吸取泰纳说法中的有益因素
- B. 我们不能因为泰纳的说法而对技术绝望，但应对技术可能带来的无法预料的后果保持警惕
- C. 泰纳的说法并不是危言耸听，技术给人类带来的灾难已经印证（或者部分印证）了泰纳说法的合理性
- D. 泰纳的说法缺乏辩证，他只是认识到技术对人类的疯狂报复，而没有认识到技术毕竟还是掌握在人的手中

3. 陶器是人类的一项重要发明，它的产生和古人类的生产生活密切相关。古人大多依山傍水而居，他们需要寻找汲水、贮水、贮存和蒸煮食物的器具，而此时人类已知道土壤加水后会具有可塑性，并在用火上取得了丰富的经验，这些都为陶器的产生准备了条件。又因为陶器不易携带，既笨重又容易破损，所以陶器的起源必然还与人类的定居方式有着密切的关系。有人推测，定居后的古人为了使纸条编制的器皿耐火和密致无缝而为其涂上黏土，后来发现经过火烧后，黏土部分变得十分坚硬，进而直接用黏土烧制成器，于是发明出原始的陶器，可以说，陶器是反映古人类生产生活方式的“史书”。

最能准确概括上述文字内容的是：

- A. 陶器是一项重要的发明
- B. 促成人类发明陶器的条件
- C. 陶器的起源凝结了人类的智慧
- D. 陶器是古人类生产生活方式的史书

4. 央视纪录片《舌尖上的中国2》开播后，在网络和电视上创造了收视奇迹，并跃居微博话题榜首位。许多观众说，喜欢《舌尖上的中国2》就是因为它不仅拍摄了美食，并讲述了做美食的人和事。其中浓浓的乡情更让不少背井离乡打拼的人流下了眼泪。也有网友说，看到人们准备食材付出的艰辛，让人在体味美食的同时学会感恩。

最合适做上述文段标题的是：

- A. 佳片掀起收视潮温情打动观众心
- B. 体味美食学感恩乡愁打动观众心
- C. 温情催人双泪垂乡愁打动观众心
- D. 新作追求国际化温情打动观众心

5. 2013年12月4日，联合国教科文组织通过决议，正式将“中国珠算”列入人类非物质文化遗产名录。珠算是中国古代重大发明，伴随中国人度过了1800多年的漫长岁月。它将廉价的制作材料、精巧的设计思想和深刻的数理内涵整合在一起，组合为一种气质非常独特的计算体系，被誉为“世界上最古老

的计算机”。

最能准确概括上述文字中珠算特点的是：

- A. 珠算被列为人类非物质文化遗产
 - B. 珠算是世界上最古老的计算机
 - C. 珠算材料廉价、设计精巧，形成了独特的计算体系
 - D. 珠算是中国古代的重大发明，长期以来，中国人一直使用珠算
6. 我们时时处处都被许多陌生的现代人工制品包围着，其中许多东西对人还是抱有敌意的：柏油马路、塑料制品、洗涤剂、农药、化肥、噪音、汽车尾气、席梦思……生活在其中，人们心理上常常感到压力、紧张，产生想逃出去的冲动。杨柳岸的晓风残月，竹林里的野鸡蘑菇，在吸引着我们，在召唤着我们。今天，人们去旅行，无非是两大动机：人文历史的追寻，回到大自然的怀抱。人性其实更接近风车、水车、马车、木质纺织机、豆油灯、蜡烛光和水井……野餐、篝火、帐篷，这些最原始也是最自然的生活方式，成了现代都市人追求的一种时尚。

上述文字意在说明：

- A. 现代的许多人工制品已经使人生活异化
 - B. 城市生活给人带来巨大的压力，都市人需要适当的方式来缓解这种压力
 - C. 现代人喜欢旅游的原因就是要逃离城市，回归自然
 - D. 现代都市人越来越崇尚自然的生活方式
7. “江流曲似九回肠”，长江历来被奉为中华民族的母亲河，自唐古拉雪山而下的水哺育了一代代中国人；而它最为人们熟知、常为诗人歌咏的，也正是“九回肠”一般的曲折。事物都有曲折，而长江正是因其曲折，才灌溉了更多的土地，哺育了更多的人。试想长江若不再是曲折的“九回肠”，而是一条直直的入海的河流，将会失去多少魅力？历史上歌咏长江的诗词，恐怕也不会那么多。

最能准确概括上述文字内容的是：

- A. 长江是实用性和观赏性的完美统一
 - B. 长江的魅力，正在于它的“曲折”
 - C. 长江被奉为中华民族的母亲河就在于其“江流曲似九回肠”
 - D. 事物都有曲折，长江也不例外
8. 央视以“书写的文明传递，民族的未雨绸缪”为主题的“中国汉字听写大会”节目开播后，反响强烈。大会参赛者为初中生，成人体验团也同步听写。但成人体验团听写“熨帖”的正确率仅为10%。听写“癞蛤蟆”的正确率也只有30%。一些成年观众随节目自我检测，结果很“汗颜”。大会导演组透露，第一份预测题测试大学毕业5年后的成人，正确率为40%；测试初二学生，正确率达80%。

最能准确概括上述文字内容的是：

- A. 汉字听写水平和年龄没有必然的关系
 - B. 社会整体汉字认知水平堪忧
 - C. 成人在书写汉字方面没有优势
 - D. 成人的汉字书写正确率明显低于中学生
9. 青年知识分子就是要有一股精气神，扎扎实实扑下身子，到基层去，到群众中去，到生产发展第一线

去，了解、感受和研究经济社会的发展，丰富阅历、磨练意志、提高本领、增进与群众的感情、不辱使命、不负少年，用青春之奋斗托举起壮丽的中国梦。

最能准确概括上述文字内容的是：

- A. 青年知识分子需不断磨练自己
- B. 用青春托举中国梦
- C. 青年知识分子成长的方向
- D. 脚踏实地才能成就一番事业

10. 《内经》认为，人是一个有机整体。《内经》的脏象理论认为，形神和谐是健康的象征，形神失调是疾病的标志。《内经》从整体认识人体的基本观念出发，要求医生在诊治疾病中不仅着眼于疾病局部的情况，而且重视整体对局部的影响，不仅注意人体本身的变化，还要注意自然社会环境因素对人体的影响。这段文字的主题是：

- A. 《内经》强调从整体认识人体，重视外部环境对人体的影响
- B. 《内经》以脏象理论为基础，研究人与自然社会环境的关系
- C. 《内经》是指导古人探究人体生命活动规律的典籍
- D. 《内经》对人体的认识理论独特，影响深远

11. 近年来，科学家们认为掌握双语会对人的大脑产生深刻的影响，提高与语言无关的认知能力，甚至还能防止老年痴呆。长期以来，研究人员、教育工作者和决策者都认为第二语言是一种干扰。不过，研究人员现在发现，这种干扰与其说是障碍，倒不如说让使用者因祸得福。它迫使大脑去解决内部冲突，从而使大脑得到增强认知能力的锻炼。

根据上述文字推断，接下来作者最有可能讲述的内容是：

- A. 使用双语对人类思维的重要意义
- B. 两种语言系统的交流，可以消除两种文化之间的障碍
- C. 用实验结果验证使用双语言的人与使用一种语言的人在脑活动上的差异
- D. 人们认为第二语言是一种干扰，这其实是以往研究的误区

12. 现在大部分家长都望子成龙，但苦于自己不懂音乐，只能用一些硬指标来衡量，例如练习时长、得奖情况和考核等级，而忽略孩子对乐器是否感兴趣。这种对技术性的关注远超过了对音乐性的关注，成为普遍现象。技术的确很重要，但技术不等于品味，也换不来修养，技术是为音乐服务的，它们应该是工具而不是目的。

根据这段文字，我们不可以推知的是：

- A. 国内乐器热已经走入了误区
- B. 一些家长把自己未实现的愿望寄托在孩子身上
- C. 有些孩子被家长逼迫练习乐器
- D. 作者对一部分家长的态度和行为持批评态度

13. 文学从诞生之初，就不可避免地承载了过多的负担。作为传播思想的一种主要工具，必然要得到足够的重视。正是这种社会层面的重视，倒使得文学最基本的功能，也就是娱乐化，一直被置于最被忽视的境地。网络文学之所以能够回归文学的本来面目，是和其几乎不受约束的生长状态密切相关的。因为极少受约束，故而人人都是读者，也同时是作者，这种全民参与文学的情形亘古绝无，网络文学就此脱离传统文学而存在，并且愈发显现出强大的生命力来。

这段文字意在说明：

- A. 社会层面的重视是文学脱离本来面目的主要原因
- B. 网络文学和传统文学的区别
- C. 网络文学的生命力不可限量
- D. 网络文学的娱乐化回归了文学的最基本功能

14. 刚过去的8月，因多起女大学生遇害事件发生在此期间，被称为女大学生的“8月劫”。媒体公开报道的案例有：重庆邮电大学女生高俞搭错车后，车主将其杀害；浙江金融职业学院女生王金芳在办事途中遇害；女大学生小金在济南被黑车司机绑架后惨遭虐待……进入9月，还发生了携万元现金返校的张琳琳失踪案，公安部打拐办主任已在微博确认张琳琳遭抢劫遇害。

最合适做上述文段标题的是：

- A. 女大学生的“8月劫”
- B. 女大学生遇害的案例
- C. 女大学生遇害事件频发
- D. 女大学生要增强自我保护能力

15. 专家担心转基因作物可能对环境有危害，比如美国在种的能抗虫害的玉米和棉花，可能加快出现一些更难对付的害虫。这类作物都能分泌出一些微量的“杀虫药”，一种像任何一种农药一样能选择杀死某些害虫的“雾剂”。

对这段话理解正确的是：

- A. 新害虫的出现与能抗虫害作物分泌的“雾剂”污染环境有关
- B. 转基因作物对环境有利也有弊
- C. 那种能抗虫害的作物，在抗虫害的同时，又保护了一些害虫
- D. 能抗虫害的玉米和棉花可能促使更不容易被杀死的害虫的出现

2003年8月，杰出舞蹈家杨丽萍在昆明推出了歌舞剧《云南映象》，《云南映象》提出了一个新词：原生态。2004年，文化部开始征用这个概念，制订和实施抢救性文化挖掘计划。2006年央视举办第12届央视青年歌手大奖赛，增设原生态组比赛，而全国第三届少数民族文艺汇演，更是高举“原生态民歌”的旗帜，成为媒体竞相追踪的焦点。经过三年的培育，“原生态”已成为最热烈的文化时尚。全球化浪潮下的中国，原生态已变得如此稀缺珍贵，以致它成为21世纪人们主要致力开发的资源。

作为非物质文化遗产，原生态歌舞极易失传，对其进行抢救性保护，迫在眉睫，而这种挖掘还必须依赖市场和商业的支撑；但这种草根艺术一旦被票房控制，其质朴纯真的原生状态便会荡然无存。另一方面，维系原生态文化的前提，就是维持它赖以生长的民族（地域）的自然与文化空间，而这势必跟原住民走向现代化的生活渴望发生激烈冲突。

我把这种由正题推演出反题的逻辑命题，命名为“杨丽萍悖论”，它来自杨丽萍《云南映象》的启示。这个歌舞剧首次向我们展示了原生态文化的强大魅力，但它被开发出之后，必将失去原生活力，退化成僵死的橱窗标

本。一个著名的前车之鉴，就是云南西双版纳的傣族歌舞。它是80年代的原生态品种，但经过20多年的旅游开发，已被市场之手打造得面目全非，沦为商业艳俗文化的反面样板。

“杨丽萍悖论”是一个世界性难题，联合国教科文组织，至今未能解决各国在遗产申报中出现的悖论现象。在旅游局、文物局和环保部门之间，保护和开放的博弈经久不息，文官们的相互抱怨和指责，回荡在21世纪中国的文化开发现场。

与“杨丽萍悖论”相似的是“嬴政悖论”。在中央集权体制下废除六国，建立“车同轨”和“书同文”的技术—文化体系，无疑有利于经济发展和文化传播，并为秦帝国三大战略工程——长城、阿房宫和墓室的建造提供了最广阔的资源，但它同时也是区域文明的严酷杀手。在秦统一六国之后，强大发达的吴越文化、楚文化和蜀文化等，毫无例外地遭到了致命的摧毁。而区域文明的死亡，则反过来激发了地方贵族的反叛欲望，加剧了帝国的行政危机。

在走向现代化的伟大进程中，我们将继续面临各种文化悖论的困扰。二十世纪九十年代兴起的新建筑浪潮，令中国的大中城市迅速完成旧城的硬件改造，现代化的生活梦想，变得唾手可得，但它同时也摧毁了城市历史脉络，令文化生态遭到严重破坏，并瓦解了人与城市的内在和谐，造成了梦的永久性破裂。这种任何权力都无法解决的悖论，应当以北京的“国家大剧院”来命名，因为正是这枚梦式“巨蛋”，充分表述了现代化进程中的文化困局。

16. 给这段文字加上标题，最恰当的一项是：

- A. “杨丽萍悖论”与“嬴政悖论”
- B. “原生态”为何成为最热烈的文化时尚
- C. 非物质文化遗产的困境
- D. “杨丽萍悖论”的文化困局

17. 对什么是“杨丽萍悖论”的解释，最准确的一项是：

- A. 指保护原生态文化反而造成其退化僵死，维系原生态赖以生长的自然文化空间却与现代文明产生激烈冲突的文化困局
- B. 必须依赖市场和商业来对非物质文化遗产进行的抢救性保护现象
- C. 在旅游局、文物局和环保部门之间，针对非物质文化遗产是保护还是开放的问题而进行的经久不息的争论
- D. 是一个由正题推演出反题的逻辑命题，也是一个各国都遇到的世界性难题，它同“嬴政悖论”一样，都是困扰着我们的文化悖论

18. 下列表达与原文意思不符的一项是：

- A. 在中国，受全球化浪潮的冲击，原生态已经变得稀缺珍贵

- B. 原生态是一种草根艺术，一旦被票房控制，将失去其质朴纯真的原生状态
- C. 与“杨丽萍悖论”相似的“嬴政悖论”是造成秦帝国行政危机的直接原因
- D. 二十世纪九十年代兴起的新建筑浪潮，也面临着文化悖论的困扰
19. 根据原文信息，以下推断不正确的一项是：
- A. 云南西双版纳的傣族歌舞，现已沦为商业艳俗文化的反面样板，要想恢复其本来面目，最好的方法就是遏止旅游开发
- B. “杨丽萍悖论”所折射出的问题，是目前乃至今后较长时期内不易解决的问题
- C. 认识到“杨丽萍悖论”，人们就可以通过种种努力解决它，就能更有效地保护非物质文化遗产
- D. 央视举办的青年歌手大奖赛，增设了原生态组比赛，使更多的人知道了原生态这个概念，这对人们致力于开发原生态歌舞资源起到“助推”的作用
20. 下列说法不符合原文意思的一项是：
- A. 原生态已经变得如此稀缺珍贵，因此应加以保护而不是大力开发
- B. 《云南映象》若完全市场化，必将走上沦为商业艳俗文化的老路
- C. 一些文化形态一旦步入商业化、市场化的轨道，便不可避免地丧失了本来面目
- D. 在现代化进程中，我们时时面对一些文化困局
21. 知识_____可以带来幸福，_____假如把它压缩成药丸子灌下去，就丧失了乐趣。_____，_____有人这样来对待自己的孩子，那就不是我能管的事，我只是对孩子表示同情而已。
- A. 既然 但是 自然 即使
- B. 既然 那么 自然 如果
- C. 虽然 但是 当然 如果
- D. 虽然 那么 当然 即使
22. (1) 有些广告用谐音字_____成语，对学生的语文学习产生不良影响。
- (2) 为充实管理干部队伍，公司_____了一些管理经验丰富的退休职工。
- (3) 这里太乱了，我们最好换个_____的地方好好谈谈。
- A. 篡改 启用 清静
- B. 改变 启用 清静
- C. 改变 起用 清静
- D. 篡改 起用 清静
23. (1) 我们赖以_____、繁衍的地球是我们人类共同的家园，人人都有义务来细心呵护她。
- (2) 是否存在外星人至今仍是一个谜，_____有外星人的话，他们也已经_____和适应了千万年_____上亿年，未必能像我们一样适应地球的环境。
- A. 栖息 即使 进化 到
- B. 生息 假如 进化 或
- C. 存在 如果 演化 到

- D. 栖息 如果 演化 或
24. 富有创造性的人总是孜孜不倦地_____知识，使自己_____渊博。从古代史到现代技术，从数学到插花，不精通各种知识就一事无成。因为这些知识随时都可能进行组合，形成新的_____。
- A. 汲取 才学 创造
B. 汲取 学识 创意
C. 吸收 才气 创建
D. 吸收 学问 创造
25. (1) 面对“两会”代表、委员的依法_____，有的官员虽然还不能圆满答复，但都能表现出虚心接受、认真反思的态度。
- (2) 被法国人称为“小拿破仑”的法国总统萨科奇，面对国内经济的持续_____，他能否重新创造法兰西昔日的辉煌，也许人们还要_____。
- A. 质对 萎靡 静观其变
B. 质疑 低迷 翘首期盼
C. 问询 萎靡 刮目相看
D. 质询 低迷 拭目以待
26. 散文犹如中国文学园地中的一朵奇葩，在几千年的发展中，留下了许多_____的经典名作，_____着一代代炎黄子孙，每一篇佳作都是历史的折射，记录着历史的沧桑。我们从中不仅能_____文学的精髓，还能了解时代的变迁。
- A. 举世闻名 滋养 收获
B. 闻名遐迩 滋润 领略
C. 举世闻名 滋润 收获
D. 脍炙人口 滋养 领略
27. 西方诗歌的翻译向来具有一定难度，一般人很难译得_____，板滞或晦涩常使我_____。
- A. 出神入化 味同嚼蜡
B. 活灵活现 昏昏欲睡
C. 神形兼备 意兴索然
D. 栩栩如生 兴趣全无
28. 王小波是当代较有影响的作家，他的杂文对社会时弊的_____确是_____。
- A. 抨击 惟妙惟肖
B. 议论 惟妙惟肖
C. 针砭 一针见血
D. 论述 一针见血
29. (1) 家长的思想观念，生活习惯，无不通过_____，潜移默化，在孩子身上发生作用。
- (2) 德才兼备的人才固然好，可这种人才不多，大多数人才是_____。
- (3) 这篇文章_____，把那种微妙的感情描绘得异常细腻，赢得了大赛组委会的一致好评。

- A. 相濡以沫 瑕不掩瑜 独树一帜
 B. 耳濡目染 瑕瑜互见 自出机杼
 C. 相濡以沫 瑕瑜互见 自出机杼
 D. 耳濡目染 瑕不掩瑜 独树一帜
30. (1) 春天来了, 山顶的积雪_____了。
 (2) 作为清史研究人员, 他_____过如山的清官档案。
 (3) 信佛的人们来到庙宇烧香拜佛, _____神灵保佑。
- A. 溶解 批阅 祈求
 B. 融解 披阅 祈求
 C. 溶解 披阅 企求
 D. 融解 批阅 企求
31. 下列词语中加点的字, 注音全部正确的一组是:
- 黠武 (dú) 感喟 (wèi)
 A. 一筹莫展 (chóu) 暴戾恣睢 (zi)
 畦田 (qí) 瘦削 (xuē)
 B. 居心叵测 (pǒ) 一哄而散 (hòng)
 修葺 (qì) 跻身 (jī)
 C. 诲人不倦 (huī) 酩酊大醉 (Dīng)
 剽窃 (piào) 龃龉 (yǔ)
 D. 有恃无恐 (shì) 骈散结合 (pián)
32. 下列词语中, 有错别字的一组是:
- A. 嗔怪 蝉联 爆发战争 瞠目结舌
 B. 缘分 博弈 笙歌达旦 得陇望蜀
 C. 蜗居 峰会 祸起箫墙 溢于言表
 D. 蛰伏 福祉 竞技体操 咫尺天涯
33. 下列句子中划线的成语使用有误的一项是:
- A. 为迎接学校首届文化艺术节, 建明和他的搭档们逢场作戏, 精心编排了一出反映校园生活的话剧
 B. 在这个喧嚣浮躁的世界上, 芸芸众生都在为生活忙碌奔波, 很少有人能“停下脚步来等等自己的灵魂”
 C. 他的台球水平已经很高了, 在我们这个小地方独占鳌头, 但天外有天, 到省里的比赛他还是铩羽而归
 D. 从燕子呢喃到荷花盛开, 从蝉鸣噤声到大地沉寂, 大自然年年如是, 周而复始, 生生不息
34. 下列句子中的标点符号, 使用不正确的一项是:
- A. 有位哲人说过: “在这个世界上, 最重要的就是阳光、空气、水和笑容。”
 B. 挫折与磨难面前, 你是做畏缩逃避的懦夫? 还是做奋起拼搏的勇士?
 C. 如何对待历史, 就是如何选择道路; 如何对待传统, 就是如何对待明天。
 D. 实现“中国梦”, 需要每个炎黄子孙的共同努力与大义担当。

35. 对下列句子运用修辞方法判断正确的一项是：

- (1) 杜鹃花开遍山野，香飘万里。
- (2) 不拿群众一针一线是革命军队的纪律。
- (3) 不读书，无以知窗外的精彩；不读书，无以知世界的宽广；不读书，无以知文化的力量。
- (4) 微风唤醒了沉睡的狮子。

- A. 夸张 夸张 排比 拟人
- B. 拟人 夸张 排比 比喻
- C. 夸张 借代 排比 拟人
- D. 夸张 借代 排比 比喻

36. 下面句子没有歧义，表述准确的一项是：

- A. 文化既是凝聚人心的精神纽带，又直接关系民生幸福。
- B. 已经过去一个多月了，小王借同学的书还没有还上。
- C. 足球赛正如火如荼地进行，这里的人们却看不上。
- D. 刚上映了一部电影，李华和张明的朋友都想去看。

37. 依次填入下面一段文字横线处的语句，衔接最恰当的一组是：

今天的日子很短，正在自己的脚下悄悄地流逝。_____，_____。
_____，_____，_____，_____，经营好每一个今天就等于经营好昨天和明天。

- (1) 今天的事应该今天完成，不能推到明天
- (2) 脚踏实地，全身心经营好今天，才会有一个个实在的昨天
- (3) 因此，面对今天，我们不要太多地怀念过去
- (4) 接力棒交得好，才能走向辉煌的明天
- (5) 如果总是站在今天望明天，结果明天也会悄悄地溜走
- (6) 今天是昨天和明天的接力棒

- A. (5) (1) (6) (4) (2) (3) B. (5) (6) (1) (4) (3) (2)
- C. (6) (4) (3) (2) (1) (5) D. (6) (2) (4) (3) (1) (5)

38. 下列句子中没有语病的一项是：

- A. 自从小强告别了网吧以后，爸爸妈妈的脸上终于现出久违的笑容。
- B. 作为初唐四杰之一，王勃在诗歌创作上曾经为唐诗的发展作出过重要贡献。
- C. 这家化工厂排出大量废气和噪声，严重污染了环境，周边居民纷纷打电话向有关部门投诉。
- D. 这种从瑞士引进的花皮茄子，不仅价格便宜，而且味道鲜美，深受广大消费者所喜爱。

39. 下列句子中有语病的一项是：

- A. 我们深信，爱读书，会读书，进而养成读书的好习惯，能使人享用一辈子。
- B. 普及灾害教育，就要真正将灾难教育纳入国民教育之中，以强化公众的风险意识，提高其应对灾难的能力。
- C. 庄子否认人可以掌握自然规律，能动地改造自然，得出了人只能消极地顺应自然，完全无所作为的结论。
- D. 历代不少石碑为名家撰写，因此石碑上的刻文成了书法大家真迹的集中场所。

40. 下列句子中没有语病的一项是：

- A. 限于编写人员的水平，这部词典的缺点和错误一定还不少。我们恳切地希望广大读者多多提出宝贵意见，以便继续修订，不断提高质量。
- B. 社会的发展需要具有综合能力的人才。所以，我们在日常的学习生活中应注重培养自己解决问题、观察问题和分析问题的能力。
- C. 对涉及百姓利益的问题能否重视是保证人民权利的重要保障。
- D. 经过几天的辛苦奔波，我终于又回到了故乡，终于又走进了熟悉的院子，终于又看到了阔别多年的爷爷的爽朗的笑声。

第二部分 数量关系

在这部分试题中，每道试题呈现一段表述数字关系的文字，要求你迅速、准确地计算出答案。你可以在草稿纸上运算。

41. 数列1, 3, 7, 15, 31, 63, ……中的第8个数是：

- A. 255
- B. 257
- C. 127
- D. 129

42. 数列2, 12, 30, 56, 90, ……中的第6个数是：

- A. 110
- B. 120
- C. 132
- D. 273

43. 数列3, 7, 10, 17, 27, 44, 71, 115, ……中的第10个数是：

- A. 186
- B. 257
- C. 274
- D. 301

44. 1, 2, 3, 2, 6, 10, 3, 12, 21, 4, 20, 36, 5, 30, (), ……：

- A. 50
- B. 60
- C. 55
- D. 59

45. 二进制数数列101, 1001, 10001, 100001, ……中的第6个二进制数的十进制值为：

- A. 127
- B. 129
- C. 257
- D. 259

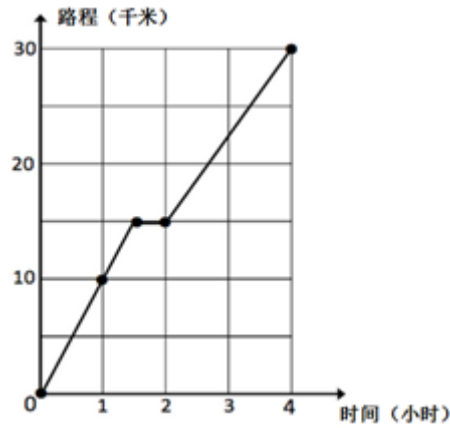
46. 从1到400的自然数中，不含数字2的自然数有多少个：

- A. 242
- B. 243
- C. 244
- D. 245

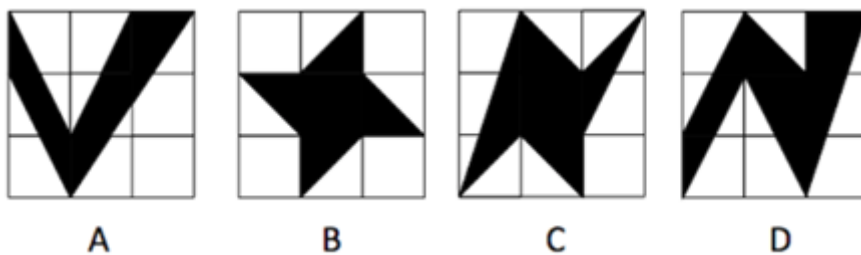
47. 定义 $f(x, y) = 2xy - 3y$ 。如果 $f(x, f(4, 2)) = 130$ ，那么 $x =$ ：

- A. 6
- B. 7
- C. 8
- D. 9

48. 某职工骑自行车旅行的行程与时间关系如下图，下列说法不正确的是：

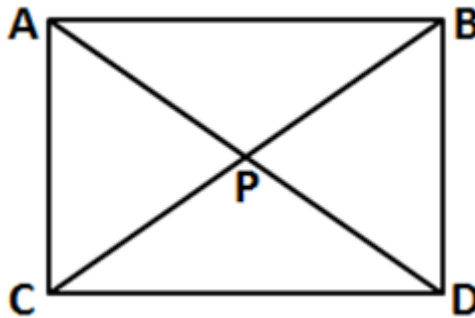


- A. 从0时到1时与从2时到4时的行驶速度相同
 B. 从1时到4时共行驶了20千米
 C. 从0时到2时的平均速度是7.5千米/小时
 D. 从0时到4时共行驶了30千米
49. 在一只暗箱里有黑色的小球30只，白色的小球22只，蓝色的小球18只，大小都一样，每摸出两个同色小球奖励1分，从暗箱中至少摸出多少只小球才能保证至少得10分：
 A. 30 B. 18 C. 20 D. 22
50. 某科室共有8人，现在需要抽出两个2人小组到不同的下级单位检查工作，共有多少种不同的安排方案：
 A. 420 B. 840 C. 210 D. 260
51. 小刘和小李进行射箭比赛，射不中记零环，射中按离靶心距离得1~10环。2人各射5箭，所得环数之积都是1764，但小刘的总环数比小李多4环，那么小刘得了多少环：
 A. 24 B. 26 C. 28 D. 30
52. 下图中，每个小正方形网格都是边长为1的小正方形，则阴影部分面积最大是：



- A. 如图所示 B. 如图所示 C. 如图所示 D. 如图所示
53. 向500kg浓度为10%的溶液中加入水稀释为浓度8%的溶液，需注入多少千克的水：
 A. 120 B. 125 C. 130 D. 135
54. 甲、乙、丙三人从星期一开始上班，甲每工作3天休息一天，乙每工作5天休息两天，丙每工作7天休息三天。那么三人第一次同时休息是在星期几：
 A. 三 B. 四 C. 五 D. 六
55. 有甲、乙、丙、丁4人，每3个人的平均年龄加上余下一人的年龄分别为29、23、21和17，这4个人中最大年龄与最小年龄的差是：

- A. 14 B. 16 C. 18 D. 20
56. 甲、乙、丙同时给99盆花浇水，已知甲浇了75盆，乙浇了66盆，丙浇了58盆，那么三人都浇过的花至少有几盆：
- A. 1 B. 2 C. 3 D. 4
57. 等腰三角形的周长为12，则腰长A的取值范围是：
- A. $A > 6$ B. $A < 3$ C. $4 < A < 7$ D. $3 < A < 6$
58. 在一个两位数前面写上3，所组成的三位数比原两位数的7倍多24，则这个两位数是：
- A. 28 B. 36 C. 46 D. 58
59. 连接矩形ABCD的两条对角线，交点为P，则可组合几对面积相等的三角形：

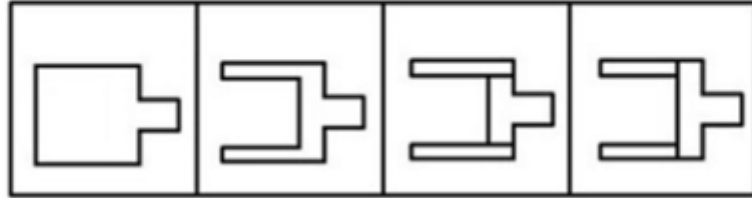
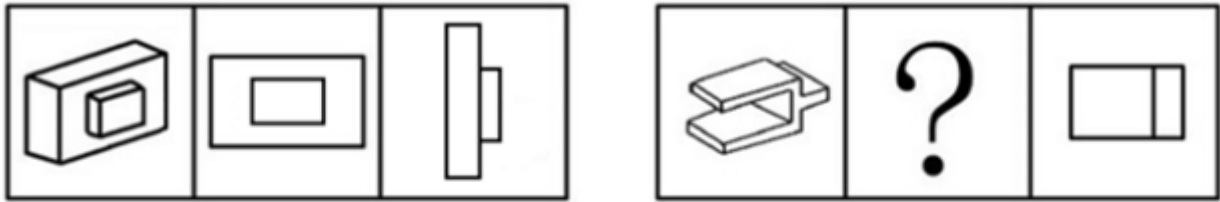


- A. 4 B. 6 C. 7 D. 12
60. 在一个圆形跑道上，小军环形一周需要8分钟，现在小军和小明分别从圆形跑道上的A点、B点同时出发反向而行，3分钟后两人第一次相遇，再行1分钟，小军走到B点。那么再过多长时间两人第二次相遇：
- A. 3分钟 B. 4分钟 C. 5分钟 D. 6分钟

第三部分 判断推理

本部分包括图形推理、定义判断、类比推理与逻辑判断四种类型的试题，请按每道题的答题要求作答。

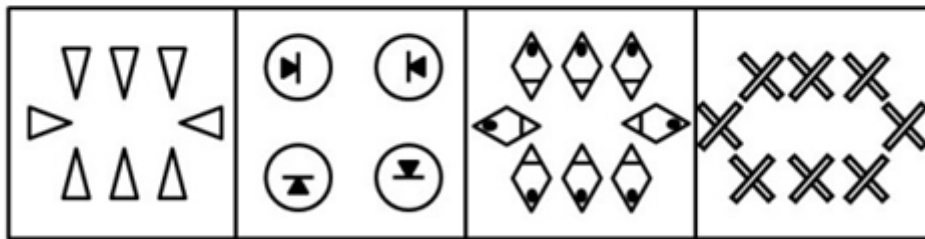
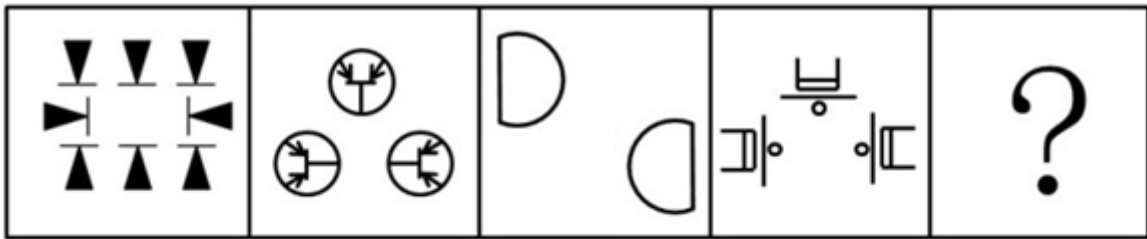
61. 从所给四个选项中，选择最合适的一个填入问号处，使之呈现一定的规律性：【2014河北政法干警061】



A B C D

- A. 如图所示 B. 如图所示 C. 如图所示 D. 如图所示

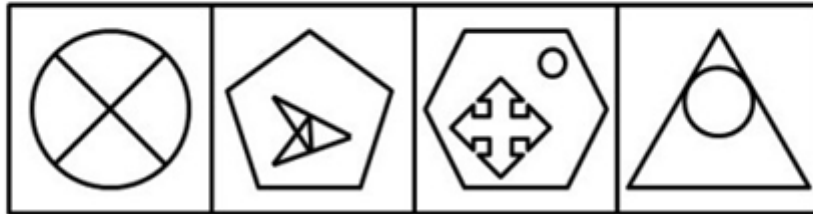
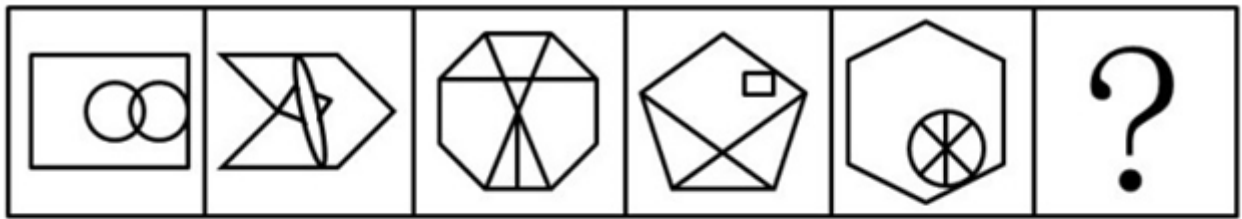
62. 从所给四个选项中，选择最合适的一个填入问号处，使之呈现一定的规律性：【2014河北政法干警062】



A B C D

- A. 如图所示 B. 如图所示 C. 如图所示 D. 如图所示

63. 从所给四个选项中，选择最合适的一个填入问号处，使之呈现一定的规律：【2014河北政法干警063】



A

B

C

D

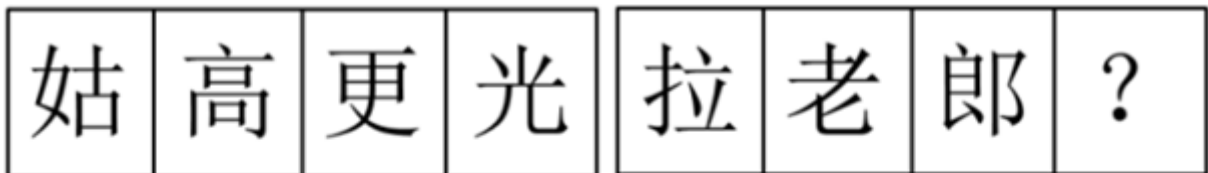
A. 如图所示

B. 如图所示

C. 如图所示

D. 如图所示

64. 从所给四个选项中，选择最合适的一个填入问号处，使之呈现一定的规律性：【2014河北政法干警064】



A

B

C

D

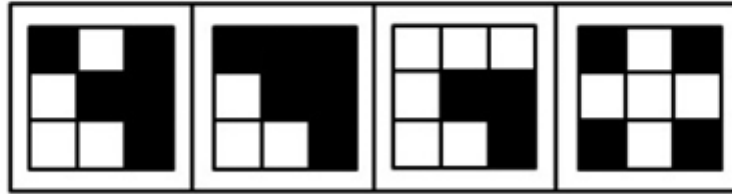
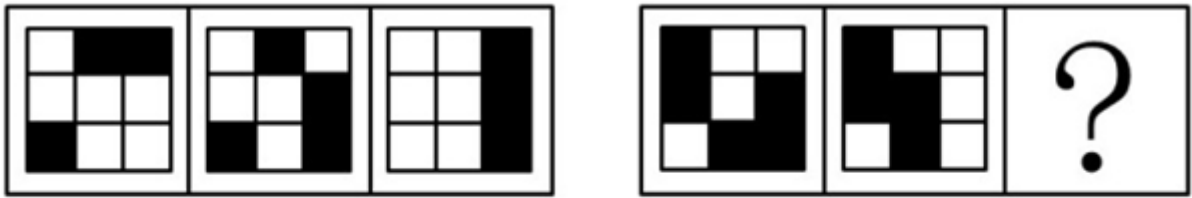
A. 如图所示

B. 如图所示

C. 如图所示

D. 如图所示

65. 从所给四个选项中，选择最合适的一个填入问号处，使之呈现一定的规律性：【2014河北政法干警065】



A

B

C

D

- A. 如图所示 B. 如图所示 C. 如图所示 D. 如图所示

66. 大数据是需要新处理模式才能具有更强的决策力，洞察发展力和流程优化能力的海量、高增长率和多样化的信息资产。大数据技术的战略意义不在于掌握庞大的数据信息，而在于对这些含有意义的数据进行专业化处理。

根据上述定义，以下不属于大数据应用的是：

- A. 科学家利用所搜关键词预测禽流感的散布
 - B. 统计机构的工作人员某日在街头进行市民婚育情况调查
 - C. 城市规划研究机构利用手机定位数据的交通数据定制城市规划
 - D. 某机构通过春节回家路上的流量分析得到了中国春节期间人口流动趋向的最新数据
67. 强迫障碍是以反复出现强迫观念为基本特征的一类神经性障碍，强迫观念是以刻板形式反复进入患者意识领域的思想、表象或意向，对患者来说是没有现实意义的，不必要的或多余的，患者意识到这些都是他自己的思想，很难摆脱，却又无能为力，因而感到十分苦恼。

根据上述定义，以下可能属于“强迫障碍”的是：

- A. 黄爷爷因为思念儿子，老是一个劲的念叨着：我儿子马上就要回来了
- B. 明明已经确定带了那本书，小玲在路上还是忍不住检查了好几回
- C. 虽然已经打了5次电话了，小梁还是不放心的，于是再一次拨通电话
- D. 小城镇上门后又打开进去检查一遍再锁门……如此循环三次才放心离开

68. 自我实现预言是指我们对他人的期望会影响到对方的行为，使得对方按照我们对他的期望行事。

根据上述定义，下列各项中属于自我实现预言的是：

- A. 小周从小就希望自己能成为一个工程师，大学毕业后他终于到一家公司当上了软件工程师
- B. 今天是小王的生日，她希望爸爸下班时能买生日蛋糕回来，果然爸爸在下班的时候买了一个生日蛋糕
- C. 小佳本来是一个普通的孩子，但他的父母望子成龙，不惜重金让他去读市里最好的高中，但最终小佳也只上了一所普通大学
- D. 小路是沈老师班上一名普通的学生，可是有一天一位智力测试专家告诉沈老师小路很有数学天分，于是以后数学课上沈老师对小路格外关注，终于在半年后的考试中小路的数学成绩有了很大的提高

69. 社会心理是指人们对社会现象的普遍感受和理解，是对社会生活的初级的多含直觉成分的反映，是社会意识的一种形式，表现于人们普遍的生活情绪、态度、言论和习惯中。

根据上述定义，下列各项中属于社会心理的是：

- A. 在许多欧美人眼中，中国还是清朝时的样子
- B. 看到有老年人上车，公交车上有五六个年轻人同时站起来让座
- C. 听了几个在行政机关工作的朋友的倾诉，李某感觉在机关工作简直太不自由了
- D. 一阶段的宣传工作结束后，人们普遍意识到只有人人遵纪守法，才能保证社会和谐稳定

70. 辩解是指当事人承认应当对活动承担责任，但是否认这项活动是错的。面对失败的事件时，人们使用辩解试图重新界定有争议的行动。

根据上述定义，下列属于辩解的是：

- A. 某国消费者对在包装中加入一氧化碳使肉类看起来红润新鲜的做法表示质疑，但该国食品管理局称这种做法“总体上”是安全的
- B. 某部门工作出现失误，其负责人说“他们做决定时根本就没有征求我的意见，我对此一无所知”
- C. 小李失去了一笔业务，给公司造成了一定损失，他说，这是由于他腿伤发作迟到了半个小时造成的
- D. 某公司产品出现质量问题，该公司声明这是由于使用了其他公司生产的不合格部件造成的

71. 环境权是指公民享有在不被污染和破坏的环境中生存及利用环境资源的权利。

根据上述定义，下列各项中不属于环境权的是：

- A. 某开发商将在一住宅区附近建一栋39层的高楼，一些居民家可能会因此终年不见阳光，有几户居民把该公司告到人民法院，要求该公司保障他们的阳光照射权
- B. 小徐将自己的车停在停车场内，一场暴风雨将旁边的树刮倒，砸坏了小徐的车，小徐将该停车场管理方告上法院，要求停车场管理方赔偿自己的损失
- C. 老陈新安装了一个服装广告牌，不久就被邻居告到法院，说老陈的广告牌越过了阳台，遮挡了他家的视线，要求老陈移一下广告牌，恢复其视线权
- D. 有一户居民在公用楼道口搭建了一个小棚，使整个楼道的通风受到了严重影响，于是，同楼道多户居民一起把该户告到人民法院，要求该用户拆除小棚，恢复良好的通风条件

72. 应对策略是指面临感知到的危险时，用以减少焦虑的有意识努力。

根据上述定义，下列各项不属于应对策略的是：

- A. 面对雾霾天气，中国的许多城市开始实施机动车限行方法
- B. 2014年3月8日，马来西亚MH370客机与地面失去联系后，多国参与搜救行动
- C. 俄罗斯允许克里米亚加入俄罗斯联邦，美国宣布冻结7名俄罗斯官员和4名乌克兰官员资产
- D. 2011年3月11日日本地震，导致福岛第一核电站发生核泄漏事故，很多中国公民“抢盐”

73. 虞犯是指尚未实施犯罪行为，但平时常有不良行为，犯罪可能性较大的人。

根据上述定义，下列各项中属于虞犯的是：

- A. 小林常与一些小混混出入歌厅、按摩房等服务场所
- B. 王强经常在附近的小公园与一些社会上的无业人员一起打扑克、下象棋

- C. 马林特别迷信，平时都会去求神拜佛，希望可以惩罚平时对自己不好的那些坏人，使他们遭受不幸
- D. 刘庆曾利用职务上的便利，挪用300万元资金去赌博，后被公司开除
74. 经济区域是人的经济活动所造就的、围绕经济中心而客观存在的、具有特定地域构成要素并且不可无限分割的经济社会综合体。
- 根据上述定义，下列各项不属于经济区域的是：
- A. 珠三角经济区
B. 长三角经济区
C. 北美自由贸易区
D. 联合国粮食组织
75. 冷热水效应是指同一杯热水，出现了两种不同的感觉。一杯温水，保持温度不变，另有一杯冷水，一杯热水。当先将手放在冷水中，再放入温水中，会感到温水热；当先将手放在热水中，再放到温水中，会感到温水冷。
- 根据上述定义，下列各项不属于冷热水效应的是：
- A. 在公司年终会上，总经理宣布预计今年奖金比去年提高了20%，大家欢呼雀跃。半年后发奖金时，小明发现奖金只比去年提高了10%，心里虽然有点失落，但还是很高兴
- B. 周经理想让市区分公司的小张去本市郊县的分公司工作。周经理对小张说：“公司准备让你担任更重要的工作，两个地方你任选其一，一个是省外某县的分公司，二是本市郊县的分公司。”小张考虑到离家较近，选择本市郊县，与周经理不谋而合
- C. 在机场候机时，机场广播飞机预计晚点两个小时，乘客们十分沮丧。半个小时后，广播通知二十分钟后开始办理登机手续，乘客们异常高兴
- D. 为了更好的采光，小王提议在房子墙壁上开个窗口，遭到家人的反对。后来小王坚持在房顶开天窗，家人让步，同意在墙壁上开个天窗
76. 醉酒驾驶：法律严惩
- A. 义愤填膺：闯下大祸
B. 脾气不好：得罪顾客
C. 聪明好学：建功立业
D. 业绩突出：受到表扬
77. 言之凿凿：信口雌黄
- A. 闻过则喜：讳疾忌医
B. 刚愎自用：好大喜功
C. 目不暇接：应接不暇
D. 包罗万象：丰富多彩
78. 森林：木材：办公桌
- A. 操场：学生：做早操
B. 湖泊：鲤鱼：鱼缸
C. 养殖场：羊：羊肉片
D. 工厂：工人：汽车
79. 英国：国家
- A. 杨树：植物
B. 学科：语文
C. 楚国：赵国
D. 数学：几何
80. 地震：灾难
- A. 干旱：绝收
B. 飓风：重建
C. 团圆：幸福
D. 洪水：溃堤
81. 锻炼：营养：健康
- A. 火药：造纸：四大发明
B. 起床：步行：上班

- C. 生产：销售：管理
D. 节能：减排：环保
82. 白居易：在天愿作比翼鸟，在地愿为连理枝
- A. 曾巩：明月不谙离恨苦，斜光到晓穿朱户
B. 张若虚：春江潮水连海平，海上明月共潮生
C. 岳飞：莫等闲，白了少年头，空悲切
D. 王实甫：枯藤老树昏鸦，小桥流水人家，古道西风瘦马
83. 李白：青莲居士
- A. 白居易：六一居士
B. 欧阳修：香山居士
C. 黄庭坚：淮海居士
D. 李清照：易安居士
84. 嘉峪关：甘肃
- A. 娘子关：河北
B. 玉门关：宁夏
C. 雁门关：山西
D. 山海关：北戴河
85. 火灾：骚乱：警察
- A. 海啸：地震：海洋
B. 土豆芽：食物中毒：医生
C. 矿井：矿难：安全局
D. 血压低：低血压：医院
86. 甲校学生的英语考试成绩总比乙校学生的英语成绩好，因此，甲校的英语教学方法比乙校的好。
- 下列选项能加强题干的是：
- A. 甲校英语试题总比乙校的容易
B. 乙校的英语教师比甲校英语教师工作更勤奋
C. 乙校选用的英语教材比甲校选用的要难
D. 甲校学生的英语基础比乙校学生的好
87. 某汽车厂商推出了一款汽车的升级版，与旧款相比，除安全性能大大提升外，新款的样式与其他配置均未发生变化。在旧款车与新款车同时销售半年的时间内，旧款车的销量竟然超过了新款车。于是，该汽车厂商得出了一个结论，认为安全性并非顾客的首要考虑因素。
- 下面选项如果正确，最能反驳该汽车厂商的结论：
- A. 旧款车的安全性能足以满足消费者的需要
B. 新款车的安全性能并未在实践中得到印证
C. 消费者对新款车的安全性能缺乏足够的认识
D. 消费者认为新款车增加的安全性能与提高的销售价格相比，性价比较低
88. 只要不起雾，飞机就能起飞。
- 以下哪项正确地表达了上述断定：
- (1) 如果飞机按时起飞，则一定没有起雾
(2) 如果飞机不按时起飞，则一定起雾
(3) 除非起雾，否则飞机按时起飞
- A. 只有 (1)
B. 只有 (2)

C. 只有 (3)

D. 只有 (2) 和 (3)

89. 老陈：“我在下围棋的时候，全神贯注到这种程度，以至于我可以这样说，这时如果有人叫我的话，肯定是白费劲，因为我什么也不会听到。”

老焦：“如果你什么也听不到的话，怎么知道有人叫你呢？”

以下哪项是对老焦的反应最恰当的评价：

- A. 老焦的话正确地指出了老陈话中存在的逻辑矛盾
- B. 老焦的话假设：如果有人叫老陈，他肯定能听到
- C. 老焦的话假设：老陈不可能知道有人叫他，除非他听到了呼叫
- D. 老焦的话假设：在老陈下围棋的时候，实际上没有人叫他

90. 随着人才竞争的日益激烈，市场上出现了一种“挖人公司”，其业务是为公司招募所需要的人才，包括从其他的公司中“挖人”。“挖人公司”自然不得同时帮助其他公司从自己的雇主处挖人。一个“挖人公司”的成功率越高，雇佣它的公司就越多。

上述断定最能支持哪个结论：

- A. 一个“挖人公司”的成功率越高，能成为“挖人”目标的公司就越少
- B. 为了保护自己的人才不被挖走，一个公司不应雇佣“挖人公司”从别的公司挖人
- C. 为了有利于“挖进”人才的同时又确保自己的人才不被“挖走”，雇主的最佳策略是提高雇员的工资
- D. 为了有利于“挖进”人才的同时又确保自己的人才不被“挖走”，雇主的最佳策略是雇佣只为自己服务的“挖人公司”

91. 通常人们总认为，赞助人向博物馆赠送展品，是对博物馆的一种财政上的支持。事实上，对赠品的日常保管和维护是笔昂贵的开支，这笔开支的累计甚至很快就会超过该捐赠品的市场价。因此，这些捐赠品事实上加剧而并非减轻了博物馆的财政负担。

以下哪项如果为真，最能削弱上述论证：

- A. 捐赠品中包括珍贵的历史文物
- B. 博物馆的开支主要由国家财政负担
- C. 博物馆对藏品的保管和维护费用因藏品的等级而异
- D. 博物馆一般只接受允许并易于出售的赠品

92. 科学家经过归纳发现，地球上之所以有生命存在，至少是具备了以下条件：一是存在液态水；二是与热源保持一定的距离从而产生适当的稳定的温差范围。在宇宙的其他地方，这两个条件的同时出现几乎是不可能的，所以其他星球上不可能存在与地球上一样的生命。

以下哪项陈述为真，最能反驳以上观点：

- A. 液态水与一个稳定的温差范围不是生命产生的唯一条件
- B. 人类观测宇宙的科技水平尚未达到足以使人类了解整个宇宙的高度
- C. 科学家发现在某行星上曾有很长一段时间存在液态水
- D. 科学家预言宇宙生物的环境适应能力可能比人类强

93. 在一个年级里，甲乙丙三位老师分别教数学、语文、物理、化学、英语、政治，每位老师教两门课，现知道：

- (1) 甲老师比其他两位老师年龄小;
- (2) 数学老师和化学老师都未结婚且住在一个宿舍;
- (3) 年纪最大的老师离学校的距离比其他两位老师近;
- (4) 丙老师和数学老师经常在一起打乒乓球;
- (5) 物理老师比乙老师年轻, 比英语老师年长。

根据上面论述可以推出, 丙老师所教的两门课是:

- A. 数学和物理 B. 语文和政治 C. 数学和英语 D. 物理和化学

94. 杨芳和唐斌至少有一人去青海湖旅游。如果杨芳去青海湖, 那么陈珊一定知道。如果唐斌去青海湖, 那么刘娟一定同行。事实上陈珊不知道杨芳去青海湖旅游。

如果上述断定是真的, 以下哪项一定是真的:

- A. 杨芳和刘娟一同去青海湖旅游 B. 唐斌和刘娟一同去青海湖旅游
C. 杨芳和陈珊一同去青海湖旅游 D. 陈珊和唐斌一同去青海湖旅游

95. 学校在为云南鲁甸地震的义捐活动中收到了两笔没有署真名的捐款, 经过多方查证, 可以断定是周、吴、郑、王中的某两个捐的。经询问,

周: 不是我捐的。

吴: 是王捐的。

郑: 是吴捐的。

王: 我肯定没有捐。

最后经过详细调查证实四个人中只有两个人说的是真话。

根据已知条件, 请你判断下列哪项可能是真的:

- A. 是吴和王捐的 B. 是周和王捐的 C. 是郑和王捐的 D. 是郑和吴捐的

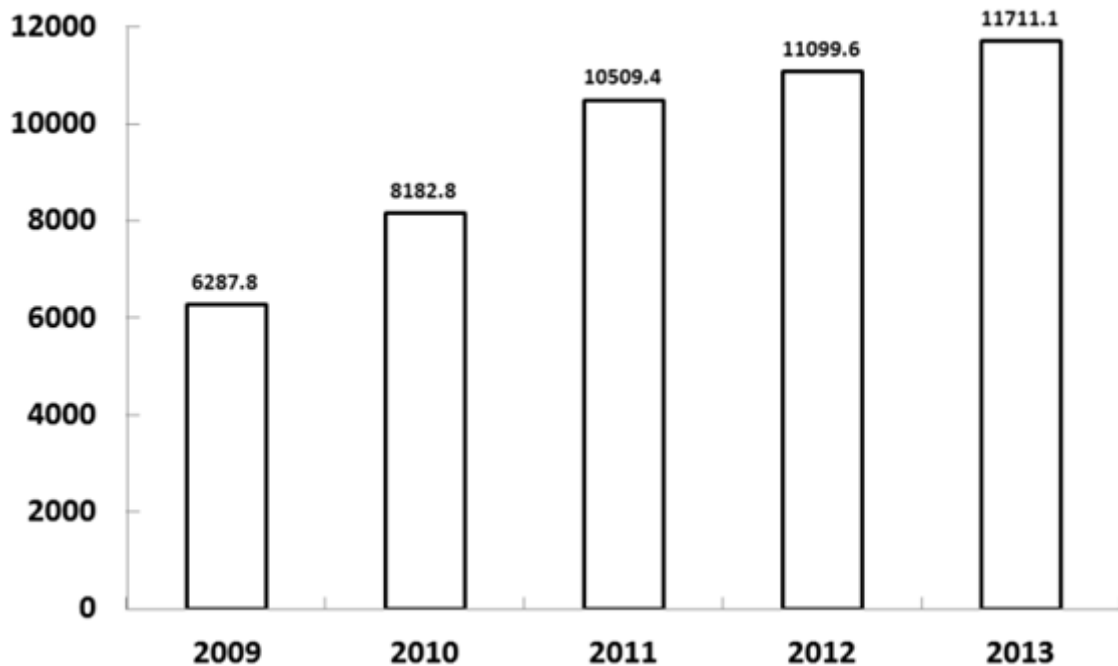
第四部分 资料分析

针对下列图、表或文字回答问题。你应根据资料提供的信息进行分析、比较、计算、处理。你可以在题本上运算。

2013年某省全部工业增加值13194.8亿元, 比上年增长9.4%, 规模以上工业增加值11711.1亿元, 增长5.8%。在规模以上工业中, 国有及国有控股企业增加值增长3.2%, 集体企业下降0.2%, 股份制企业增长11.2%, 外商及港澳台投资企业增长4.5%。规模以上工业中, 装备制造业增加值比去年增长14.5%, 占规模以上工业的比重为19.2%, 同比提高1.2个百分点; 钢铁工业增长10.1%, 石化工业增长4.9%; 医药工业增长8.7%; 建材工业增长7.6%; 纺织服务业增长14.2%。六大高耗能行业增加值比去年增长6.7%, 增速同比回落3.2个百分点。其中, 煤炭开采和洗选业增长4.5%, 石油加工、炼焦及核燃料加工业下降5.8%, 化学原料即化学制品制造业增长14.1%, 非金属矿物制品业增长7.7%, 黑色金属冶炼及压延加工业增长8.6%, 电力热力的生产和供应业增长4.8%。高新技术产业增加值增长14.2%。其中, 高端装备制造、电子信息和新能源三个领域增加值分别增长16.3%、22.0%

和10.5%。

2009~2013年规模以上工业增加值图



96. 2012年该省全部工业增加值为:

- A. 14563.8亿元 B. 13194.8亿元 C. 12061.1亿元 D. 10061.1亿元

97. 2009-2013年该省规模以上工业增加值增幅最小的一年是:

- A. 2010年 B. 2011年 C. 2012年 D. 2013年

98. 下列属于高耗能行业的是:

- A. 电子信息 B. 电力热力的生产和供应业
C. 高端装备制造业 D. 新能源

99. 下列选项中, 2013年工业增加值增长速度最快的行业是:

- A. 高端装备制造业 B. 石化工业
C. 钢铁工业 D. 纺织服务业

100. 根据上述资料, 下列说法不正确的是:

- A. 2013年在该省规模以上工业中, 集体企业增加值增长最慢
B. 2013年高新技术产业增加值增长最快的是电子信息
C. 2013年该省规模以上工业增加值同比增长5.8%
D. 2011年规模以上工业增速最快

2013年我国进出口稳中有升, 全国货物进出口总额258267亿元人民币, 以美元计价为41600亿美元, 比去年增加7.62%。其中, 出口总额137170亿元人民币, 以美元计价为22096亿美元, 增长7.9%; 进口总额121097亿元人

民币，以美元计价为19504亿美元，增长7.3%。

2013年主要商品出口数量、金额及其增长速度

商品名称	单位	数量	比上年增长%	金额(亿美元)	比上年增长%
煤(包括褐煤)	万吨	751	-19.1	11	-33.1
钢材	万吨	6234	11.9	532	3.4
纺织纱线、织物及制品				1069	11.7
服装及衣着附件				1770	11.3
鞋类				508	8.4
家具及其零件				518	6.2
自动数据处理设备及其附件	万台	187050	2	1822	-1.7
手持或车载无线电话	万台	118582	16.9	951	17.3
集装箱	万个	270	8.8	79	-6.4
液晶显示板	万个	326577	3.1	359	-1
汽车(包括整套散件)	万辆	92	-6.7	120	-5.3

2013年主要商品进口数量、金额及其增长速度

商品名称	数量	比上年增长%	金额(亿美元)	比上年增长%
谷物及谷物粉	1458	4.3	51	6.6
大豆	6338	8.6	380	8.6
食用植物油	810	-4.2	81	-16.7
铁矿砂及其精矿	81931	10.2	1059	10.4
氧化铝	383	-23.7	14	-22.7
煤(包括褐煤)	32708	13.4	290	1.1
原油	28192	4	2196	-0.5
成品油	3959	-0.6	320	-3.2
初级形状的塑料	2462	3.9	491	6.3
纸浆	1685	2.4	114	3.7
钢材	1408	3.1	170	-4.3
未锻造的铜及铜材	453	-2.5	353	-8.5

101. 2012年我国进出口差额(出口减进口)是:

- A. 约2209亿美元 B. 约2301亿美元 C. 约2592亿美元 D. 约2683亿美元

102. 2013年进口商品金额比上年减少的有:

- A. 4种 B. 6种 C. 8种 D. 13种

103. 2012年我国出口服装及衣着附件比自动数据处理设备及其附件的金额少:

- A. 约52.0亿人民币 B. 约52.0亿美元 C. 约263.2亿人民币 D. 约263.3亿美元

104. 2013年与2012年相比,我国谷物及谷物粉进口数量增加:

- A. 60.11万吨 B. 54.56万吨 C. 62.69万吨 D. 84.55万吨

105. 根据给定材料，以下说法不正确的是：

- A. 2012年我国进出口总额是239980.5亿元人民币
- B. 2012年我国出口汽车（包括整套散件）的数量是98.6万辆
- C. 2012年钢材的进出口总额是692亿美元
- D. 2013年货物进出口差额是2592亿元人民币

style="text-align: center;">">

2014年1-5月某省城乡建设情况

指标名称	1-5月	上年同期	增长速度(%)
计划总投资(万元)	362808937	325163971	11.6
其中：本年新开工项目	60130330	61006290	-1.4
施工项目个数(个)		10178	-13.6
其中：本年新开工	3303	4043	-18.3
本年投产项目个数	2975	3755	
亿元以上项目			
施工项目个数(个)	3754		2.1
本年完成投资(万元)	50637661	41918509	20.8
计划总投资(万元)	333640321	291643828	14.4
其中亿元以上新开工项目			
施工项目个数(个)	855	724	18.1
本年完成投资(万元)	10285752	7857152	30.9
计划总投资(万元)	46399308	44602417	4.0
平均项目规模(万元)	41266	31948	29.2
其中：本年新开工	18205	15089	20.6
亿元以上平均项目规模(万元)	88876		12.0
其中：本年新开工	54268	61606	-11.9

106. 2014年1—5月该省城乡建设项目增长速度最快的指标是：

- A. 亿元以上新开工项目中的本年完成投资
- B. 平均项目规模中的本年新开工
- C. 亿元以上项目中的计划总投资
- D. 亿元以上项目中的本年完成投资

107. 本年投产项目个数的增长速度是：

- A. 78.8% B. -78.8% C. 21.2% D. -21.2%

108. 2013年1—5月该省城乡建设中亿元以上平均项目规模是:

- A. 79353.6万元 B. 78210.9万元 C. 68097.6万元 D. 10665.1万元

109. 2014年1—5月施工项目个数约为:

- A. 8594个 B. 8794个 C. 8959个 D. 9859个

110. 从表中得知2014年1—5月该省城乡建设项目中平均项目规模为41266万元,其中,本年新开工18205万元,较上年同期的增长速度为20.6%,按照这样的增长速度计算,2015年同期开工:

- A. 20819.52万元 B. 21955.23万元 C. 22631.81万元 D. 23097.65万元

2013年全国城镇私营单位就业人员年平均工资为32706元,比2012年增加了3954元,增幅回落3.3个百分点。分行业门类看,信息传输、软件和信息技术服务业44060元,比2012年增加了4542元;科学研究和技术服务业42854元,比2012年增加了6256元;金融业(主要是各种保险代理、典当行和投资咨询公司)37253元,比2012年增加了4557元;教育行业31521元,比2012年增加了4896元;农林牧渔业24645元,是全国平均水平的75%,同比增长12.2%;住宿和餐饮业27352元,是全国平均水平的84%,同比增长14.3%;居民服务、修理和其他服务业27483元,是全国平均水平的84%,同比增长14.2%。

2013年,河北省城镇私营单位就业人员平均工资为28135元,同比增长11.8%。扣除物价因素,实际增长8.9%。分设区市来看,各设区市及省垂管县城镇私营单位就业人员平均工资均达到2.4万元以上。高于全省平均水平的有5个市,分别是唐山31449元,廊坊29918元、秦皇岛29130元、石家庄28902元、沧州28442元,低于全省平均水平的6个市分别是承德27962元、保定27083元、衡水25882元、邯郸25591元、张家口25456元和邢台25358元。最低与最高平均工资相差6091元,差距比上年缩小561元。

111. 2012年全国城镇私营单位就业人员年平均工资同比增长:

- A. 18.2% B. 17.8% C. 17.1% D. 13.8%

112. 2012年全国城镇私营单位就业人员年平均工资比河北省城镇私营单位就业人员年平均工资高:

- A. 4571元 B. 4378元 C. 3875元 D. 3587元

113. 2013年全国私营单位就业人员年平均工资同比增长最快的行业是:

- A. 教育行业 B. 信息传输、软件和信息技术服务业
C. 科学研究和技术服务业 D. 住宿和餐饮业

114. 2013年河北省设区市城镇私营单位就业人员年平均工资最低的市是:

- A. 石家庄 B. 保定 C. 衡水 D. 邢台

115. 根据所给材料,以下说法不正确的是:

- A. 2012年全国科学研究和技术服务业就业人员年平均工资是36598元
B. 扣除物价因素,2013年河北省城镇私营单位就业人员年平均工资实际增长8.9%
C. 2012年河北省设区市城镇私营单位就业人员年平均工资最高的与最低的相差6091元

D. 2013年全国城镇私营单位就业人员年平均工资比河北省城镇私营单位就业人员年平均工资高4571元

第五部分 常识判断

根据题目要求，在四个选项中选出一个最恰当的答案。

116. 2014年4月11日，中国渔政202船、204船、35001船编队执行我国专属经济区护渔巡航任务，中国渔政自2010年开始把对_____及其附属岛屿附近海域的护渔巡航纳入常态化。
- A. 黄岩岛 B. 钓鱼岛 C. 西沙群岛 D. 南沙群岛
117. 造成次生性环境问题的主要原因是：
- A. 人口压力过大 B. 自然灾害
- C. 全球性气候变暖 D. 人为因素
118. 在一个封闭的游泳池中，人们套着游泳圈飘浮在水面上。如果所有人都抛开游泳圈潜到水底，那么游泳池里的水面会：
- A. 不变 B. 上升 C. 下降 D. 无法确定
119. 国务院近日公布的《事业单位人事管理条例》规定，事业单位新聘用工作人员应向社会公开招聘，事业单位与工作人员需订立聘用合同。
- 合同期限一般不低于：
- A. 2年 B. 3年 C. 4年 D. 5年
120. _____不是秦始皇执政时所为。
- A. 分天下为三十六郡 B. 焚书坑儒
- C. 盐铁国营 D. 统一度量衡
121. 苏轼《潮州韩文公庙碑》赞其“文起八代之衰，而道济天下之溺”。“韩文公”是：
- A. 韩非 B. 韩信 C. 韩世忠 D. 韩愈
122. 《孙子兵法-谋攻》提出了预知胜利的五个根据，其中最后一个根据“将能而君不御者胜”，在现代企业管理中集中体现为：
- A. 集权思想 B. 分权思想 C. 授权思想 D. 越权思想
123. 某国有企业因不能清偿到期债务而决定申请破产重组，实施拯救，其中拯救措施之一是进行裁员。对于被裁减人员，应当给予的待遇不包括：
- A. 承诺企业在重组成功后予以重新录用
- B. 制定职工安置预案，予以妥善安置
- C. 承诺企业在6个月内录用人员时予以优先录用
- D. 依照国家有关规定予以经济补偿
124. 古人称谓中，一般总是对自己用谦称，对别人和长辈用敬称，对平辈和晚辈可以相对随意些。下面的各组称谓中，用于自称的是：

- A. 夫子，先生 B. 小子，竖子 C. 不才，不佞 D. 足下，大人
125. 风是相对于地表的空气运动。形成风的直接原因是气压在水平方向分布的不均匀。另外，风还受地球自转、地形水域等不同因素的综合影响。
因此，形成风的原因不包括：
A. 地表摩擦力 B. 海陆分布 C. 气压梯度 D. 地转偏向力
126. 根据《宪法》规定，全国人民代表大会审议通过《中华人民共和国合同法》，应当由全体代表的_____通过。
A. 一致 B. 过五分之四 C. 过四分之三 D. 过二分之一
127. 冷暖气团交界面叫锋面。在锋面移动过程中，根据冷暖气团所占的主次地位不同，可以将锋分为冷锋、暖锋等类型。冷锋过境时多出现雨雪、大风、降温等剧烈的天气变化，而暖锋过境时容易形成连续性降水或下雾、升温等天气情况。根据以上描述可知，“忽如一夜春风来，千树万树梨花开”描述的是_____过境时的天气；“清明时节雨纷纷，路上行人欲断魂”描述的是_____过境时的天气。
A. 冷锋 暖锋 B. 冷锋 冷锋
C. 暖锋 暖锋 D. 暖锋 冷锋
128. 散光是一种常见的视力缺陷，发生散光后，光无法聚焦，其形成原因是：
A. 眼球前后径过短 B. 角膜或晶状体弯曲度不均匀
C. 角膜弯曲度变小 D. 视网膜与晶状体间的距离过长
129. 根据制定机关的不同，规范性文件可以分为法律、行政法规、行政规章和地方性法规等。由国家旅游局、公安部、国务院台湾事务办公室联合颁布的《大陆居民赴台湾地区旅游管理办法》属于：
A. 法律 B. 行政法规 C. 行政规章 D. 地方性法规
130. 我国《刑法》规定的完全刑事责任年龄是：
A. 14岁 B. 16岁 C. 18岁 D. 20岁
131. 公文与其他任何文献形式相比，具有无法替代的功能是：
A. 权威性 B. 强制性 C. 执行性 D. 证据性
132. 当别人挠自己时，我们会感觉很痒，并且不断地大笑；但当自己挠自己的时候，我们不但不会大笑，而且也感觉不到很痒，其原因是：
A. 自己感觉不到自己手的温度和皮肤温度的差异
B. 从幼年开始就经常自己挠自己，已经习惯了
C. 大脑会发出“安全”的讯息，使神经放松
D. 大脑长期进化的结果
133. “千军易得，一将难求”表达的是：
A. 承认个人作用的历史唯心主义观点 B. 承认个人作用的历史唯物主义观点
C. 承认个人作用的形而上学观点 D. 否认个人作用的历史唯心主义观点
134. 下列作家不属于“荷花淀派”的是：
A. 赵树理 B. 孙犁 C. 从维熙 D. 刘绍棠
135. 苏轼诗云“水光潋滟晴方好，山色空蒙雨亦奇。”王瀛诗云“荫浓烟柳藏莺语，香散风花逐马蹄”描述的本试卷由小麦公考提供

地方是：

- A. 洞庭湖 B. 瘦西湖 C. 太湖 D. 西湖

136. “众芳摇落独暄妍，占尽风情向小园。疏影横斜水清浅，暗香浮动月黄昏。”形容的是：

- A. 梅花 B. 桂花 C. 月季 D. 牡丹

137. 下列溶液中的溶剂不是水的是：

- A. 葡萄糖注射液 B. 生理盐水 C. 消毒酒精 D. 碘酒

138. 下列对事实解释错误的是：

- A. 书写档案规定必须用碳素墨水——常温下，碳的化学性稳定
B. 焦炭可以把铁从它的氧化物矿石里还原出来——焦炭具有氧化性
C. 石墨能够做电池的电极材料——石墨能够导电
D. 制糖工业中用活性炭来脱色制作白糖——活性炭具有吸附性

139. 2014年7月15日，金砖国家领导人第六次会晤在_____举行：

- A. 巴西 B. 南非 C. 俄罗斯 D. 印度

140. 第22届冬季奥运会在俄罗斯_____举行：

- A. 莫斯科 B. 圣彼得堡 C. 索契 D. 罗斯托夫

扫一扫，对答案

