

2015年江西行测真题（法检）

真题更新时间：2023年04月23日23:37:29

扫描下方二维码下载小麦公考APP 刷海量题库掌握最新热点



QQ扫码直接下载

微信扫码到应用市场下载

支持所有机型哦

第一部分 言语理解与表达

本部分包括表达与理解两方面的内容。请根据题目要求，在四个选项中选出一个最恰当的答案。

1. 和微博相比，微信公众号虽然少了_____，但是在互动及私密性上显然_____。这也是为什么有许多人前仆后继涌入微信公众号的原因。
依次填入画横线部分最恰当的一项是：
A. 开放性 更胜一筹 B. 关注度 拔得头筹
C. 前瞻性 独树一帜 D. 包容性 优劣分明
2. 乡村是村民的家，也是文化的源泉。在改善村民生活的同时，更应该_____历史文化，将历史文化与_____相融合，建设美丽乡村社区。
依次填入画横线部分最恰当的一项是：
A. 尊重 历史文明 B. 挖掘 现代文明
C. 体现 乡风道德 D. 弘扬 现代文化
3. 国以民为本，民以食为天。粮食既是人民_____的生活资料，也是关乎政局稳定、经济发展的主要_____物资。因此，从古至今，不论时代如何变迁，粮食问题对于世界上任何一个国家而言都是_____的头等大事。
依次填入画横线部分最恰当的一项是：
A. 不可或缺 生活 安邦定国 B. 心心念念 社会 无法回避
C. 维持生活 膳食 不容乐观 D. 赖以为生 战略 定国安邦
4. 现代中国大学求职的压力_____，到毕业找工作的时候，很多同学都会有失落感和悲观情绪。如何提高心理承受能力，用更积极的心态去面对市场竞争，在更广阔的领域寻找就业机会和发展前景，对于大部分大学生来说，无疑需要_____的指导。
依次填入画横线部分最恰当的一项是：
A. 与日俱增 有针对性 B. 越来越大 切实有效
C. 无所不在 积极有效 D. 成倍增加 可操作性
5. 纸质书信，已是_____。然而各人用富有个性的字体写出来的这些书信，_____，充满温馨，泛黄而不褪色。
依次填入画横线部分最恰当的一项是：
A. 时过境迁 字字珠玑 B. 明日黄花 面字如人
C. 昨日黄花 字如其人 D. 陈年往事 饱含深情
6. 改变农业长久以来形成的劳作习惯并非一日可成，况且主要要_____农业的生产模式，这需要生产力的提高，显然不可能_____。
依次填入画横线部分最恰当的一项是：
A. 改变 一蹴而就 B. 提升 轻而易举
C. 适应 自然而然 D. 提高 一朝一夕
7. 宋代文体学的核心问题是本色与破体的错综纠葛、_____。宋代的文体本色论深入细致，在理论层面占优势地位，但破体相参在理论层面基本上是匮乏甚至_____的，所以会表现出一种自相矛盾的情形。

依次填入画横线部分最恰当的一项是：

- A. 相互影响 缺乏
B. 相辅相成 缺乏
C. 相反相成 缺位
D. 相得益彰 缺位

8. 贾平凹的长篇小说《老生》以_____的笔触，_____的视角，描述了古老中国近百年历史所发生的重大变化，在字里行间能体会到贾平凹作品中丝丝缕缕渗透出的一个个时代的波澜。

依次填入画横线部分最恰当的一项是：

- A. 练达 宏阔
B. 尖锐 宏大
C. 深沉 新颖
D. 灵动 独特

9. 奥斯特洛夫斯基生活在一个光明为主而失误也极其严重的时代。他是一代热血青年的_____代表。他具有大无畏的自我牺牲精神，尤其是在病残日益严重的岁月中的经历与表现，更多地显示出他个人的特质和魅力。他曾被_____乃至神化，也曾被贬低乃至_____。但他仍是他，那么纯朴、真实。

依次填入画横线部分最恰当的一项是：

- A. 主要 赞誉 忘却
B. 杰出 拔高 淡忘
C. 突出 表扬 遗忘
D. 卓越 推崇 忘记

10. _____历史不可能重复，历史研究也不可能“复原”历史，_____决不能因此而否认“求真”“求实”的理念，_____历史研究将失去最基本的功能。

依次填入画横线部分最恰当的一项是：

- A. 虽然 但 否则
B. 因为 所以 因此
C. 即使 但 所以
D. 尽管 所以 由此

11. 各个学科最前沿的成果，反映了人类对这一领域的最新和最有价值的认识，但又可能离大众最为遥远，甚至最难以为大众所_____、所_____、所_____。

依次填入画横线部分最恰当的一项是

- A. 了解 认识 接受
B. 认识 了解 接受
C. 接受 认知 理解
D. 理解 接受 认知

12. ①欧阳修是北宋名臣，_____，“月上柳梢头，人约黄昏后。”如此美丽清朗的_____，如此自然天成的句子，怎么会不流传为千古名句？

②即使细节的出入对于全部论证还不发生直接影响，也会使人对材料的全部可靠性产生怀疑，以至伤害了论证的说服力，有时看来是_____的细节上的马虎，却会造成关键问题上的错误，那当然更是要警惕的。

依次填入画横线部分最恰当的一项是：

- A. 才高八斗 情景 无足轻重
B. 博大精深 情怀 无伤大雅
C. 见多识广 意蕴 举足轻重
D. 学富五车 意境 无关大体

13. 在价值观方面，中国哲学有一个基本的观点，那就是认为价值的根据不在彼岸世界，而就在此岸世界，主张在天人合一中寻找价值根源。用比较_____的话表述，就是强调价值的此岸性，选择内在_____的取向。这正是中国哲学的最大用处。

依次填入画横线部分最恰当的一项是：

- A. 隐含 超过
B. 晦暗 赶超
C. 晦涩 超越
D. 隐晦 超逸

14. ①“文革”头三年的红色_____之中，父亲和他的大多数朋友都是被革命的对象。本地亲友关系近的、胆子大的偶尔还有来往，外地的几乎完全_____。

②城市地标是一座城市最具标志性的建筑或景观，它聚焦了一座城市的魅力，是这座城市区别于另一座城

市的特色之所在。我国历史上唐代长安之曲江，南宋杭州之西湖，明清南京之秦淮河、北京之故宫，近代上海之外滩，都是历史上最具特色和标志性的城市景观，并积淀为一种独特的城市_____。

依次填入画横线部分最恰当的一项是：

- A. 气氛 音讯全无 境像
B. 氛围 音讯全无 意像
C. 气氛 音书隔绝 意境
D. 氛围 音书隔绝 意象

15. 这些壁画使我相信英雄白求恩和艺术家白求恩就是这么_____地融在一起，多么丰富而有趣的白求恩，他不只是“一个高尚的人，一个纯粹的人，一个脱离了低级趣味的人，一个有益于人民的人”，他还是一个敏感细致多情的艺术家；他不只是一个不畏炮火勇于赴死的战士，他也是一个曾经被死亡打入谷底的肺结核病人。在白求恩身上，敏感细致的心灵和伟大_____的品格共存。

依次填入画横线部分最恰当的一项是：

- A. 不可或缺 坚毅
B. 不期而遇 坚韧
C. 不约而同 坚强
D. 不可思议 坚毅

16. 教育方法_____搞形式主义的“一刀切”，_____搞教条主义的“全盘西化”。教学方法、教学模式必须提倡多样化。_____教学通过多样化，_____能达到高效优质。

依次填入画横线部分最恰当的一项是：

- A. 不可以 也不可以 只能 才
B. 不能 也不能 只有 才
C. 不能 也不能 只要 就
D. 不要 也不要 只要 就

17. 爱因斯坦的成长、成才、成就，源于他对科学的强烈兴趣、不懈_____和_____精神。青少年时期家庭亲友的影响和_____，科普读物、康德的哲学思想、自学物理学前沿研究进展，发现知识理论体系内的不自恰，以及已有理论与实验观察结果之间的矛盾，成为他追求创造更完美理论的根本动力。

依次填入画横线部分最恰当的一项是：

- A. 探索 创造 启迪
B. 思索 创新 启蒙
C. 探索 创造 启蒙
D. 努力 创作 启示

18. ①一个人拥有包容心态，在为人处事时就不会_____，也不会卑躬屈膝，他会平心静气，拒绝浮华，兼收并蓄，包容万物。

②常香玉是一位_____的豫剧表演艺术家。她的豫剧我有幸欣赏过，她吸取了河南曲剧、河南梆子、河北梆子等剧种的长处和旋律，还大胆吸收了京剧的唱腔和武功，结合自己的表演和唱腔，完美表演出豫剧剧目。

依次填入画横线部分最恰当的一项是：

- A. 目空一切 德艺双馨
B. 狂妄自大 德高望重
C. 盛气凌人 德艺双馨
D. 仗势欺人 德才兼备

19. ①地铁一号线这项南昌市重点工程进展顺利，_____2015年9月下旬，已完成计划的95%。

②在强大的习惯面前，科学有时也会变得_____。

依次填入画横线部分最恰当的一项是：

- A. 截止 似是而非
B. 截至 苍白无力
C. 截止 软弱可欺
D. 截至 一无是处

20. 按照乔麦的理论，看电影是一种基于_____的有效心理治疗途径，让人_____在别人的故事里流泪、欢笑、愤怒，泪是你的，怒是你的，但电影里的故事丝毫不会_____你的生活。你是安全的，在故事之外。

依次填入画横线部分最恰当的一项是：

- A. 移情 沉醉 搅动
B. 情感 沉浸 感动
C. 移情 沉浸 撼动
D. 情感 沉酣 撼动

21. 返乡农民工经过在大城市的多年磨砺，已经获取了更多的社会经验和更加开阔的眼界，他们面临新的居住状况、人际关系和业缘关系，生存场景发生了很大变化，思想观念也因此会发生一系列的新转变，已然成为地方社会尤其是地方村庄社区的“草根精英”群体。事实上，绝大多数返乡农民工在自我认知等问题上仍然模糊不清、缺乏思考。这种思想认识上的模糊不清将不利于返乡农民工对未来生活做出正确的判断和选择。

通过这段文字，作者想要告诉我们的是：

- A. 返乡农民工成为了“草根精英”群体
B. 返乡农民工自我认知的能力亟需提高
C. 返乡农民工对未来生活还不能做出正确的判断和选择
D. 返乡农民工对自我的认知能力有限

22. 在何为“真”的问题上，儒道两家共同的选择，都是以“真”为真。儒家注重人道，由真引申出诚，提倡有为的人生态度；道家注重天道，倡导无为的人生态度。“求真”是儒道两家共同倡导的价值取向，也是中国人最基本的价值理念，道家主张无为，儒家主张有为，无为和有为既是相反的，又是相成的。儒道互相补充，满足人们不同的精神需求，都有助于人格的完善。如果说儒家的价值导向是“张”的话，那么，道家的价值导向则是“弛”。“张而不弛，文武弗能也；弛而不张，文武弗为也。一张一弛，文武之道也。”

这段文字主要讲述的是：

- A. 求真是儒道两家共同倡导的价值取向，是中国人最基本的价值理念
B. 儒家注重人道，提倡有为的人生态度；道家注重天道，注重无为的人生态度
C. 儒家和道家在求真问题上的观点相左
D. 儒道相反相成，共同满足人们的精神需求

23. 新时期，由于网络舆情而引起人们对地方政府公信力质疑的事情屡屡发生，越来越成为地方政府亟待解决的主要问题。要提升地方政府公信力，首先要坚持科学决策、民主决策、依法决策，健全决策机制和程序；其次，要推进政务公开，增强公共政策制定透明度和公众参与度，这样就可以在很大程度上防止决策失误，增强公众对决策的认同感，减少决策执行的阻力；再次，要加强行政问责制，完善政府绩效评估是引导政府和公务员树立正确导向、尽职尽责的一项重要制度，也是实行行政问责的前提和基础；再其次，要重视行政人员的行政伦理建设，树立良好的政府形象；最后，要提高与媒体打交道的能力，建立良好的媒体公关关系。

最适合做这段文字标题的是：

- A. 提升政府公信力
B. 提升地方政府公信力的途径
C. 应对地方政府公信力缺失的措施
D. 强化行政问责，应对地方政府公信力缺失

24. “我国每年有成千上万个家庭因吸毒而陷入痛苦的泥潭中，家庭有一个吸毒的，比家里有得癌症的人还要糟糕。”从事禁毒工作的一名专家表示，当前我国正面临一场持续升级的禁毒战。

从这段话可以看出，禁毒专家对我国当前禁毒战的态度是：

- A. 悲观的
B. 怀疑的
C. 忧虑的
D. 遗憾的

25. 我们不能说先有历史后有现实，而只能说有历史就有现实；既不能笼统地说历史先在于现实，也不能抽象地说历史使现实得以存在。一切历史都是现实，现实之外别无历史。所谓“现实之外”同“世界之外”一样，只在纯粹的语言学意义上和逻辑学意义上才有可能。现实之外并不是“非历史”，现实之前也不是“前历史”。

下列说法符合文意的是：

- A. 历史与现实并无差别
B. 现实存在于历史之中
C. “现实之外”是存在的
D. 没有现实就没有历史

26. 文化企业多为中小型“轻资产”企业，可用于抵押的固定资产少，而品牌、专利、技术等无形资产难于估值，因此从银行等传统渠道融资的门槛较高，而能够通过上述从资本市场融资的企业也不多。虽然我国投融资环境在不断改善，各地也普遍重视解决企业资金不畅的问题，出现了科技金融等创新金融产品及服务模式。但这些都还处在发展初期，仍然需要完善相关机制，为中小文化企业创造良好的融资环境。

这段文字主要讲述的是：

- A. 文化企业融资渠道不畅
B. 中小文化企业融资环境有了较大改善
C. 文化企业融资机制需要进一步完善
D. 文化企业从银行传统渠道融资门槛较高

27. 随着网络媒体的迅猛发展，网民在网络空间的言行与社会生活产生交互、融合。关注社会、关注普通大众生活状态的网络流行语迅速产生。2013年的网络流行语“女汉子”，就很具典型意义。在中国的传统文里，“女”代表的是“温文而婉”，“汉子”代表的是“独立、勇猛”。“女汉子”指“带有纯爷们儿性格”的女性。它的流行，不仅反映了新时代女性面对社会竞争的激烈，为了生存与发展的需要，不得不让自己集温婉与彪悍于一身，把自己培养成既拥有女性的外表又具有汉子内质的“矛盾的结合体”的无奈。

这段文字意在探讨：

- A. “女汉子”的文化内涵
B. “女汉子”的网络流行意义
C. 网络流行语的文化纵深意义
D. 网络流行语产生的社会背景

28. 历史学认为地理是历史的舞台，区域历史的研究更要注重地理的视角。_____，而军事活动是政治活动的工具，当政治矛盾尖锐到一定程度，军事斗争不可避免。地理条件的相对稳定，使得国际地缘政治有迹可寻，呈现出一定的规律性。

填入画横线部分最恰当的一项是：

- A. 地理视角是军事斗争不可忽视的因素
B. 地理其实也是军事活动的舞台
C. 军事活动是在一定环境中进行的
D. 国际地缘政治的规律性很强

29. 一部作品要变成文化产品，固然需要编辑或编导的“精雕细刻”，同时也需要相应的设备辅助完成，印刷辅助需要设备，广播影视业需要设备，即使舞台艺术表演也需要乐器、舞台机械、灯光照明和音响设备。这是国民经济体系支撑文化产业发展的具体体现，文化产业因此而诞生一个新类别，即文化装备制造。

最适合做这段文字标题的是：

- A. 文化装备制造的内涵
B. 文化装备制造的由来
C. 文化产品所需的设备
D. 文化装备的概念

30. 在古代典籍的解读和研究中，无论是“我注六经”还是“六经注我”，在古代乃至近代早期大多以训诂的方法为主；近代晚期和现代以来，在训诂方法的基础上，研究者又采用了“比较、实证、结构”等方法。以上的解读方法，虽推动了古籍研究的进步，但带来的问题也有目共睹，比如对文本的主题、原意、基本思想、基本概念及其关系的把握等难以形成令人信服的结论。笔者认为，正确解读不仅应建立在大量原始

资料的挖掘、复原上，同时还应建立在正确而有效的解读原则和方法的利用上。

根据这段文字，作者支持的观点是：

- A. 现代古籍研究采用的方法以训诂为主
 - B. 只要有正确的解读原则和方法，古籍的解读就可以达到预期的效果
 - C. 对古籍的解读，实证法比训诂法先进
 - D. 挖掘和复原原始资料是正确解读古籍的一项基础工作
31. 初创时期的书院是作为唐中央政府组成机构，后有诸如白鹿洞书院、岳麓书院等教学型书院。若将传习儒家思想的教学型书院作为书院历史形态的正态，明清时期也不乏佛道书院、宗族家祠书院等与教学毫无关联的异态书院。书院形态的多样性让定义书院成为一项较为困难的任务，难用一种相对稳定的方式将其表征，各种表述总有意犹未尽的遗憾。

这段文字意在强调：

- A. 书院有多种形态
 - B. 书院的发展历史曲折
 - C. 书院的文化存在形态值得深思
 - D. 学术型书院是正态的书院历史形态
32. 社会组织能够将社会个体连接在一起，使大家能够对治理现代化形成共同的心理感受和预期，并形成对治理现代化给予拥护与支持的强大精神力量；可以充当政府与民众之间的桥梁，使政府与民众之间形成良性互动，从而能够为民解惑并疏导民意，化解社会治理推进过程中的共识难题；可以随时随地深入到民众当中充分地获取民众对治理工作的意见和建议，并及时传递给政府，为政府制定科学与合理的决策提供依据；能够将民众力量汇聚，并将此力量投入到治理实践中，这不但有助于加强治理现代化的主体力量，更可以壮大和巩固政党的执政基础。

对这段文字概括最准确的是：

- A. 社会组织能够促进治理现代化的原因
 - B. 社会组织能够凝聚民心为治理现代化提供精神支撑
 - C. 社会组织能够收集民情为治理现代化带来决策依据
 - D. 社会组织能够汇集民力为治理现代化打造坚实主体
33. 每个国家都有自己的文化，每个企业也有自己独特的文化。如果文化相同或相似，那么企业兼并与合作就容易成功，反之则容易产生文化冲突和矛盾，导致并购失败，这就是为什么世界上大型和成功的收购案大多发生于同文同种社会的原因。如果收购者不去深入了解并购企业的文化，那么失败的可能性就比较大。

这段文字意在阐明：

- A. 成功的收购案大多发生于同文同种社会的原因
 - B. 不同国家、不同企业间存在着一定的文化差异
 - C. 应重视企业间的文化差异
 - D. 应该深入了解并购企业的企业文化
34. 无论什么文章，一旦选进语文教材，就不再是原来意义上的、独立存在的作品，而是整个教材系统中一个有机组成部分，是“基本功训练的凭借”。

这段文字中“基本功训练的凭借”是指：

- A. 那些保持原来意义、独立存在的作品
 - B. 收入语文教材中的各类作品
 - C. 整个教材系统中的一个有机组成部分
 - D. 那些不再是原来意义上的、独立存在的作品
35. 人作为一种生命有机体的存在，必须满足不断增长的自然的物质需要，而解决人不断增长的需要和有限的

自然供给之间的矛盾的根本途径就是创新实践。动物的需要是出于本能的，它们和自然界直接相统一，通过直接消灭对象的方式来满足自己的需要。人和动物不同，人的活动是远远超越于动物式的本能的，自然不可能自动满足人类无限复杂和不断发展着的需要。因此，人类必须要通过对象性活动，即社会实践来改变自然以满足自己不断发展着的需要。

这段文字意在说明：

- A. 人的需要和动物的需要是不同的
 - B. 创新实践是解决人类物质需要的根本途径
 - C. 改变自然才能满足人们不断发展的需要
 - D. 人的活动比动物式的本能高级得多
36. 按照马克思主义的观点，人类历史实际上就是一部技术进步史，不同阶段的技术精英通过自己的创造性劳动把人类生产力不断推向前进。在所有的人类社会中，创新性劳动是少数。虽然随着人类整体教育水平的提高，创造能力随之不断提高，但从总体看，能够进行创新性劳动的人口总是占人口的少数，而这少部分人推动了人类生产的发展。因此可以说，少部分技术精英进行创新性劳动才是人类社会财富创造的源泉。这段文字主要说明的是：

- A. 技术精英占人口总量的少数
 - B. 少部分技术精英推动了人类生产的发展
 - C. 创造性劳动推动了人类生产的发展
 - D. 人类历史实际上就是一部技术进步史
37. 行为科学研究显示：工作中的人际关系通常不那么复杂，也宽松些。可能是由于这种人际关系更有规律，更易于预料，因此也很容易协调。因为人们知道他们每天都要共同努力、相互协作，才能完成一定的工作。这段文字意在强调：

- A. 工作人员之间的关系比较简单
 - B. 共同的目标使工作人员很团结
 - C. 维系良好的人际关系要靠共同努力
 - D. 普通的人际关系缺乏规律
38. 近年来，高职院校为了优化师资队伍结构、密切校企合作关系、增强教育教学效果和提升学生岗位能力等，在聘请大量兼职教师从事实践教学、实训学习指导等工作的同时，根据各自的专业建设实际，陆续从行业企业引进了一些技术或管理骨干担任专业教师或实训指导教师，以期提高相关专业的总体建设水平。作为一篇文章的引言，作者接下来最有可能介绍的是：

- A. 高职院校兼职教师的主要职责
 - B. 高职院校的师资结构
 - C. 高职院校引进专业教师后的效果
 - D. 高职院校引进教师的流程
39. ①它是一条连接苏皖的古驿道，穿村而过，所以有很多古代名人在这里驻足并留下了丰富的文化遗产
②蒋山村具有独特的自然条件和遍布的人文古迹
③这里自秦汉以来就建有一个古驿站——招贤驿
④蒋山文化的核心元素是“驿站文化”
⑤在现代社会中，蒋山村的文脉古风，正是人们向往的心灵驿站
⑥山水与浪漫传说成就了蒋山文化

将以上6个句子重新排列，语序正确的是：

- A. ⑤②⑥④③①
 - B. ③①②⑤⑥④
 - C. ④③①②⑥⑤
 - D. ②⑥④③①⑤
40. ①影视作品中弥漫着严重的虚假表演之风，要么演员演技严重不足，要么行为举止极为做作、夸张，同人物性格和剧情环境严重脱节
②影视作品的故事设计越来越脱离艺术创作因果律的要求，距离艺术真实渐行渐远

- ③影视剧作品中，剧情叙事、演员表演和声画语言是作品的三重根本要素
 ④国产影视剧中还充斥着许多虚假的场景道具和奇观设计
 ⑤国产影视剧所普遍存在着的虚假化现象，在此三要素层面都有着较为明显的表现
 将以上5个句子重新排列，语序正确的是：

- A. ⑤③①②④ B. ①③②⑤④ C. ③⑤②①④ D. ⑤②③④①

第二部分 常识判断

根据题目要求，在四个选项中选出一个最恰当的答案。

41. 舞剧《天鹅湖》的作曲家是：
 A. 贝多芬 B. 柴可夫斯基 C. 莫扎特 D. 肖邦
42. 至今已有30多个国家和地区使用了环境（生态）标志，用于表明产品不仅质量合格，而且连生产使用和处理处置过程都符合环境保护要求，中国使用的标志是：
 A. 绿色印章 B. 生态标签 C. 蓝色天使 D. 十环标志
43. 对“鲸”的认识，下列说法错误的是：
 A. 鲸的鼻孔位于头顶，一般有一到两个
 B. 鲸是水栖哺乳动物
 C. 鲸用腮呼吸，在水面呼吸后即潜入水中
 D. 鲸一般以浮游动物、软体动物和鱼类为食，有的种类也食企鹅、海豹等
44. 关于发酵过程，下列说法错误的是：
 A. 发酵泛指利用微生物制造工业原料或者工业产品的过程
 B. 发酵可以在无氧条件下进行，也可能在有氧条件下进行
 C. 在微生物能量代谢中，发酵仅指专性厌氧微生物和兼性厌氧微生物在无氧的条件下分解各类有机物产生能量的一种方式
 D. 柠檬酸和乳酸都可以作为发酵的催化剂
45. 下列说法正确的是：
 A. 正常人每立方毫米血液中血小板的含量为10~30万个
 B. 正常成年人每立方厘米血液里红细胞的数量，男性为600~800万个，女性为650~760万个
 C. 呼吸系统由鼻、咽、喉、气管和肺组成
 D. 消化系统由口腔、咽、食管、胃、小肠和大肠组成
46. 下列说法错误的是：
 A. 全世界最大的学术互联网是中国教育和科研计算机网
 B. 2015年是中国全功能接入互联网21周年
 C. 全球范围内首家上市的中文社交媒体是新浪微博
 D. 2015年世界互联网大会主题为“互联互通共享共治”
47. 于2015年1月1日起施行的新环保法被称为史上最严的环保法。内容主要包括：
 ①“按日计罚”加大违法成本
 ②对增强公民环境意识作出了具体规定

③首次明确“保护优先”

④雾霾治理入法，具有更多针对性

填入画横线部分最恰当的一项是：

- A. ①②③ B. ①②③④ C. ①②④ D. ①③④

48. 丝绸之路，指西汉（前202年-8年）时由张骞出使西域开辟的从长安（今西安）经_____，_____，到中亚，西亚，并联结地中海各国的陆上通道。

填入画横线部分最恰当的一项是：

- A. 甘肃，新疆 B. 甘肃，西藏 C. 新疆，西藏 D. 新疆，云南

49. 下列说法错误的是：

- A. 第一本断代体史书——《汉书》
B. 第一部军事著作——《孙子兵法》
C. 第一部科普作品——《梦溪笔谈》
D. 第一部农业百科全书——《天工开物》

50. 远东国际军事法庭由中国、苏联、美国、_____、澳大利亚、新西兰、印度、菲律宾各1名法官组成，共11名，11国又各派检察官1人。

- A. 英国、法国、新加坡、马来西亚 B. 英国、法国、荷兰、加拿大
C. 英国、荷兰、加拿大、印度尼西亚 D. 英国、法国、荷兰、新加坡

51. “砰”的一声，郎平的一记重扣，激起了全场经久不息的欢呼声和鼓掌声，像波涛激岸，像山洪暴发，像飞流倾泻。

这句话用了哪些修辞格：

- A. 比喻、排比、拟人、夸张 B. 比喻、排比、夸张、层递
C. 比喻、拟人、层递、夸张 D. 比喻、排比、层递、拟人

52. 下列说法错误的是：

- A. 在其他条件相同时，克服滚动摩擦所需的力比克服滑动摩擦的力要小得多
B. 原来不带电的两个物体摩擦起电时，他们所带的电量在数值上必然相等
C. 润滑是降低摩擦和减少磨损的最有效措施
D. 摩擦力是指相互接触的两个物体在接触面上发生的阻碍相对滑动的力

53. 二十四节气中位于“夏至”前面的一个节气是：

- A. 清明 B. 谷雨 C. 芒种 D. 小满

54. 明清时期科举考试乡试第一名为：

- A. 榜眼 B. 会元 C. 解元 D. 状元

55. 2015年获得诺贝尔生理学或医学奖的中国人是：

- A. 杨振宁 B. 李政道 C. 莫言 D. 屠呦呦

56. 以下对应错误的是：

- A. 小威廉姆斯——美国——网球 B. 劳尔——西班牙——足球
C. 科比——美国——篮球 D. 李宗伟——新加坡——羽毛球

57. 中日甲午战争中邓世昌指挥的是哪一艘战舰：

- A. 致远舰 B. 定远舰 C. 经远舰 D. 镇远舰

58. 王五因犯抢劫罪，由A区法院审理，下列有权担任王五辩护人的是：

- A. 王五的母亲曾因盗窃罪被判处刑罚，现刑满释放

- B. 王五的朋友李四，熟悉法律，美国人
 C. 王五的父亲，曾是A区法院的法官，因诈骗罪被判缓刑，正处于缓刑考验期内
 D. 王五的女朋友，A区法院的人民陪审员
59. 关于我国宪法的修改，以下说法错误的是：
 A. 宪法没有专章规定修改程序
 B. 宪法规定的修宪机关是全国人民代表大会
 C. 立法规定宪法修正案由全国人大主席团公布
 D. 我国2004年宪法修正案将反革命罪修改为危害国家安全罪
60. 干支纪年法是指十天干和十二地支中的两字相配，用以纪年的一种方法，据此2016年是：
 A. 丙寅年 B. 丙申年 C. 辛卯年 D. 壬酉年

第三部分 数量关系

在这部分试题中，每道试题呈现一段表述数字关系的文字，要求你迅速、准确地计算出答案。你可以在草稿纸上运算。


61. 某班38名学生参加两次体能测试，测试成绩分为A、B两个等级，在第一次和第二次测试中分别有12人、16人的测试成绩为A。如果两次测试中都没得到A的学生有15人，那么两次测试中都获得A的人数是多少？
 A. 5 B. 6 C. 8 D. 10
62. 把7支笔分给参加会议的4名教师，每人至少1支，至多3支，共有多少种分法？
 A. 32 B. 20 C. 16 D. 10
63. 甲、乙、丙三人一起种了29棵树，丙比甲多种了6棵，但只是乙种植数的 $\frac{2}{3}$ ，那么甲、乙、丙种植数的比是多少？
 A. 2: 3: 8 B. 1: 4: 7 C. 5: 6: 9 D. 4: 15: 10
64. 某水池装有甲、乙、丙三根水管，独开甲管30分钟可注满全池，独开乙管24分钟可注满全池，独开丙管48分钟可注满全池，如果按照甲、乙、丙、甲、乙、丙、甲、·····的顺序轮流放水，每次两分钟，那么注满这水池需要多少分钟？
 A. 6. 25 B. 31. 25 C. 6 D. 31
65. 王老师是甲、乙、丙三个班的辅导员，甲、乙、丙三个班的班长分别每3天、5天、6天汇报一次班级情况。某天三人同时到王老师那儿做班级汇报，那么下次他们同时到王老师那儿做班级汇报至少要多少天？
 A. 90 B. 36 C. 30 D. 18
66. 一个纸箱中装有43本同样大小的教辅资料，其中物理教辅资料4本，化学教辅资料3本，语数英三种教辅资料各12本，那么一次至少拿出多少本教辅资料，才能保证取的教辅资料中至少有7本是同一种教辅资料？
 A. 7 B. 26 C. 28 D. 29
67. 某股民以每股25元的价格买了一公司的股票2000股，一段时间后，他以每股32元的价格卖掉了70%，剩余的十天后又以每股20元的价格卖出，那么他从这次股票买卖中获得多少元的利润？
 A. 680 B. 4600 C. 6800 D. 12800
68. 表面为六种不同颜色的一个长方体，被分割成若干个体积相同的小正方体，如果在这些小正方体中，每面都不带颜色的小正方体的个数为11个，那么有且仅有两个面带颜色的小正方体的个数是多少？

- A. 52 B. 48 C. 44 D. 32
69. 某单位职工分组讨论一个方案，若每组1个男职工和2个女职工，则剩14个女职工；若每组1个男职工3个女职工，则少8个女职工，该单位共有女职工多少人？
- A. 22 B. 44 C. 58 D. 80
70. 小李从标有1、2、3、4、5的五张卡片中，任取两张卡片，则两张卡片上的数字相差2的概率是多少？
- A. $\frac{1}{5}$
- B. $\frac{2}{5}$
- C. $\frac{3}{4}$
- D. $\frac{3}{10}$

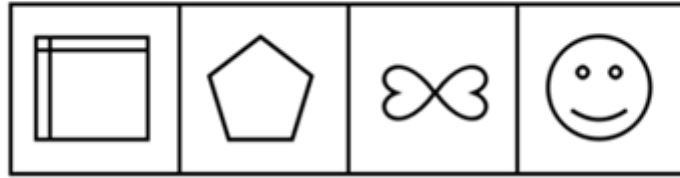
第四部分 判断推理

本部分包括图形推理、定义判断、类比推理与逻辑判断四种类型的试题，请按每道题的答题要求作答。

71. 从所给的四个选项中，选择最合适的一个填入问号处，使之呈现一定的规律性：【2015江西法检071】



- A. 如图所示 B. 如图所示 C. 如图所示 D. 如图所示
72. 从所给的四个选项中，选择最合适的一个填入问号处，使之呈现一定的规律性：【2015江西法检072】



A

B

C

D

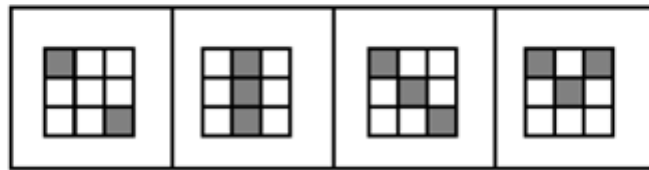
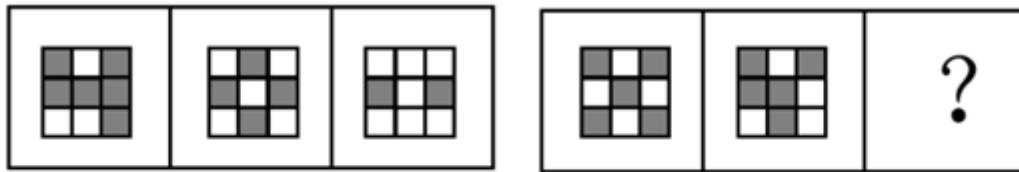
A. 如图所示

B. 如图所示

C. 如图所示

D. 如图所示

73. 从所给的四个选项中，选择最合适的一个填入问号处，使之呈现一定的规律性：【2015江西法检073】



A

B

C

D

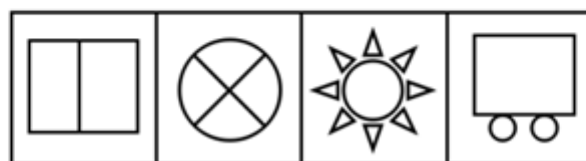

A. 如图所示

B. 如图所示

C. 如图所示

D. 如图所示

74. 从所给的四个选项中，选择最合适的一个填入问号处，使之呈现一定的规律性：【2015江西法检074】



A

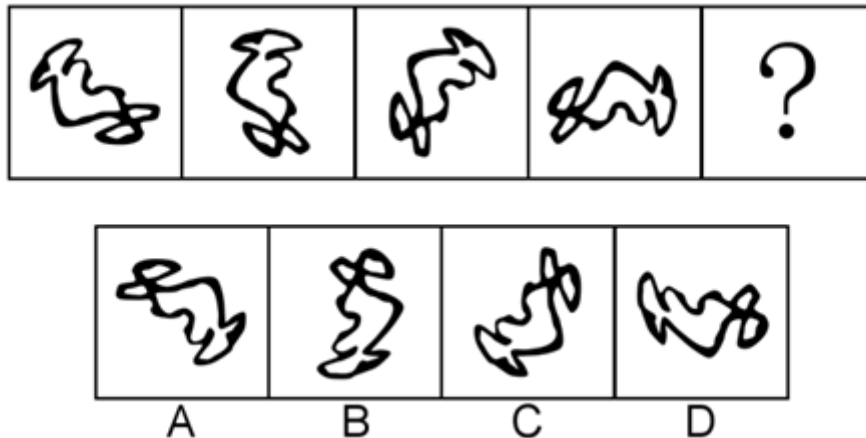
B

C

D

- A. 如图所示 B. 如图所示 C. 如图所示 D. 如图所示

75. 从所给的四个选项中，选择最合适的一个填入问号处，使之呈现一定的规律性：【2015江西法检075】



- A. 如图所示 B. 如图所示 C. 如图所示 D. 如图所示

76. 新媒体传播是以数字化技术、多媒体技术和网络传输为标志的新型传播形式。

根据上述定义，下列不属于新媒体传播的是：

- A. 小明以电子邮件的方式把建议发送给经理
- B. N公司为了扩大品牌影响力，以高额的报酬聘请某知名艺人代言户外广告
- C. 张老师使用投影仪给学生上课
- D. 小刘使用手机给朋友发微信

77. 娱乐体育是指人们在余暇时间进行的一种娱乐性极强的身体活动，它既是一种身体锻炼的手段，又是一种娱乐手段。

根据上述定义，下列不属于娱乐体育的是：

- A. 为促进中国象棋事业发展，山东省和河南省举办了2015年“友谊杯”象棋对抗赛
- B. 内蒙古每年举办“那达慕大会”
- C. 为增进职工间的互相了解，某大学举办了一场新年联谊舞会
- D. 第七届城运会期间，南昌银行组织员工进行踢毽子比赛

78. 危机公关是指由于企业管理不善，同行竞争甚至遭遇恶意破坏或者外界特殊事件的影响，而给企业或者品牌带来危机，企业针对危机所采取的一系列自救行动。

根据上述定义，下列属于危机公关的是：

- A. 某公司由于生产材料被盗，严重影响生产，主管领导召开紧急会议，研究对策
- B. 某酒店由于卫生状况差被曝光后，该酒店领导通过媒体向公众道歉，并发布新的酒店卫生标准
- C. 由于下大雪，某公司的户外广告牌被雪压倒，公司派员工去修复
- D. 某产品在行业竞争中失去领先地位，销售量大幅下滑

79. 集合是指具有某种属性的事物的全体，组成集合的每个事物称为该集合的元素，具有互异性、确定性、无序性。

根据上述定义，下列不能构成集合的是：

- A. 花果山小区的所有老人
- B. 某大学所有学生
- C. 玫瑰花、菊花、牡丹花、兰花
- D. 1、2、56、78、45、33

80. 生活噪音是指人为活动所产生的除工业噪音、建筑施工噪音和交通噪音之外的干扰周围生活环境的噪音。

根据上述定义，下列属于生活噪音的是：

- A. 隔壁面粉厂传来的机器轰鸣声
B. 深夜楼下传来的小红的弹琴声
C. 办公楼后面的建筑工地施工的声音
D. 马路上的汽车轰鸣声

81. 非物质文化遗产是指各族人民世代相传并视其为文化遗产组成部分的各种传统文化表现形式，以及与传统文化表现形式相关的实物和场所。

根据上述定义，下列不属于非物质文化遗产的是：

- A. 洪拳、热贡唐卡
B. 天津玉雕、中国书法
C. 黑龙江剪纸、中医养生文化
D. 热贡马术、采茶戏

82. 股东代表诉讼是指当董事、监事、高级管理人员或者他人的违反法律、行政法规或者公司章程的行为给公司造成损失，公司拒绝或者怠于向该违法行为人请求损害赔偿时，具备法定资格的股东有权代表其他股东，代替公司以自己的名义提起诉讼，请求违法行为人赔偿公司损失的行为。

根据上述定义，下列属于股东代表诉讼的是：

- A. 孙某对其股份有限公司负债100万元到期不偿还，鉴于他是公司董事长的小舅子，公司负责人并没有打算追讨这笔债务。具备法定资格的股东周某可以书面请求监事会、董事会或者董事向人民法院起诉孙某，或者直接向人民法院起诉孙某。
B. 刘某是甲有限责任公司的董事长兼总经理。任职期间，多次利用职务之便，指示公司会计将资金借贷给一家主要由刘某儿子投资设立的乙公司。对此，具备法定资格的股东赵某决定以自己的名义直接起诉乙公司还款。
C. 某股份有限公司的董事张某，在公司存续期间违反法律规定，经营与本公司相同的业务，由此给公司其他股东造成了巨大损失。具备法定资格的股东陆某可以自己的名义起诉张某。
D. 某上市公司董事会秘书李某执行公司职务时，违反公司章程的规定，给公司造成了损失。具备法定资格的股东王某可以直接以公司的名义起诉李某。

83. 不作为犯罪是指行为人负有实施某种积极行为的特定法律义务，并且能够实行而不实行以致构成犯罪。

根据上述定义，下列说法错误的是：

- A. 卖淫女王某在嫖客李某住处与李某发生性关系，李某心脏病发作，王某扬长而去，之后李某死亡，王某没有救助李某的义务，故不成立不作为犯罪
B. 成年男子张某任由邻居幼女孙某对自己实施猥亵行为而不予制止的，不成立不作为犯罪
C. 出租车司机卢某对男乘客李某在出租车内强奸女乘客王某的行为不予制止的，不成立不作为犯罪
D. 崔某为窗户安装防护栏，之后发现其有散架的可能，而没有采取安全措施，导致行人被坍塌的防护栏砸成重伤的，成立不作为犯罪

84. 会意是指用两个或两个以上的独体字会合起来表示一个新的意义的造字方法。根据上述定义，下列不属于会意字的是：

- A. 从
B. 息
C. 明
D. 江

85. 工资、薪金所得是指个人因任职或者受雇而取得的工资、薪金、奖金、年终加薪、劳动分红、津贴、补贴以及与任职或者受雇有关的其他所得。

根据上述定义，下列属于工资、薪金所得的是：

- A. 公司职工取得的用于购买企业国有股权的劳动分红
B. 某出租车属个人所有，但挂靠出租汽车经营单位，该车所有人向挂靠单位缴纳的管理费
C. 律师事务所向其投资者支付的工资
D. 南方某大学著名学者张某为科研培训班授课获得的讲课费

86. 权力：褻渎
- A. 入侵：国家
B. 领土：维护
C. 隐私：侵犯
D. 结婚：夫妻
87. 歌手：中国人
- A. 吉他手：演奏
B. 学者：研究
C. 王安石：江西人
D. 专家：教师
88. 电脑：发邮件：记者
- A. 耳机：听歌：运动员
B. 法庭：审理：法官
C. 橡皮擦：画画：儿童
D. 裁缝：做衣服：缝纫机
89. 贱内：妻子
- A. 寡人：自己
B. 犬子：儿子
C. 家母：祖母
D. 红绿灯：信号灯
90. 柳树：植物：园丁
- A. 钢笔：铅笔：学生
B. 汽车：火车：司机
C. 树木：树林：小鸟
D. 奶牛：母牛：牧民
91. 教师：学生
- A. 主持人：影星
B. 售货员：收银员
C. 医生：病人
D. 经理：秘书
92. 银行：利息
- A. 母牛：小牛
B. 学校：学生
C. 医院：医生
D. 工厂：工人
93. 稻谷：大米
- A. 核桃：桃酥
B. 棉花：棉籽
C. 西瓜：瓜子
D. 手枪：子弹
94. 耕耘：收获
- A. 生病：住院
B. 点灯：放火
C. 扶贫：账户
D. 扩招：失业
95. 海上生明月，天涯共此时：唐：张九龄
- A. 柴门闻犬吠，风雪夜归人：宋：刘长卿
B. 月出惊山鸟，时鸣春涧中：唐：杜甫
C. 欲穷千里目，更上一层楼：唐：王之涣
D. 读书破万卷，下笔如有神：东晋：陶渊明
96. 调查报告中写道：调查表明65%的带眼镜的用户喜欢树脂镜框，35%的用户喜欢金属镜框。同时报告中还写道“还有10%的用户说他们两者都不喜欢。”
- 以下哪项最合理的解释了调查报告中的表面性矛盾：
- A. 某些用户观点发生了变化
B. 调查的用户总数超过100
C. 喜欢金属镜框的用户都包括在65%的喜欢树脂镜框的用户中
D. 某些用户两种镜框都喜欢
97. 甲以杀人故意，乙以伤害故意，共同攻击丙，导致丙死亡。事后发现，丙身上只有一处致命伤，但查不清楚是甲还是乙的行为导致。

学说：

- ①杀人行为不包含伤害行为，杀人故意排除伤害故意
- ②杀人行为包含伤害行为，杀人故意包含伤害故意

根据上述学说，以下哪种说法不能成立：

- A. 根据学说①，甲乙不成立共犯，甲乙的行为与丙的死亡之间都没有因果关系
 - B. 根据学说②，甲乙成立共犯，甲乙的行为与丙的死亡之间存在因果关系
 - C. 无论根据学说①还是学说②，甲总是成立故意杀人罪，乙总是成立故意伤害罪
 - D. 无论根据学说①还是学说②，甲乙二人对丙的死亡结果都要承担刑事责任
98. 某小区发生一起盗窃案，经调查：
- 第一，盗窃数额或者是5万元或者是3万元，二者必居其一。
 - 第二，盗窃时间或者是在午夜12点或者是在凌晨4点
 - 第三，盗窃者或者是甲，或者乙，二者必居其一
- 如果以上判定是真的，那么以下哪一项也一定为真：
- A. 有证据证明甲在午夜12点没有作案，因此，乙在凌晨4点盗窃了财物5万元
 - B. 财物是甲在凌晨4点盗窃的，因此，财物不是乙在凌晨4点盗窃的
 - C. 盗窃的时间是午夜12点，但甲没有盗窃5万元，因此，一定是乙盗窃了3万元
 - D. 财物是甲在凌晨4点盗窃的，因此，甲一定盗窃了5万元
99. 某大型电器公司领导对其员工说，除非你们到年底能实现销售五百万台空调的目标，否则将扣除部分年终奖。
- 由此可以推出：
- A. 若员工实现了销售目标，那么不会被扣除部分年终奖
 - B. 若员工没有实现销售目标，则一定会被扣除部分年终奖
 - C. 若员工被扣除了部分年终奖，则一定没有完成销售目标
 - D. 只有员工不会被扣除部分年终奖，才会实现销售目标
100. 在某高校《大学语文》课程的选课系统中，如果甲和乙都没有选这门课程，那么丙一定选了。
- 上述前提中再增加以下哪项，可推出“甲选了这门课程”的结论：
- A. 丙选了但乙没选
 - B. 丙和乙都选了
 - C. 丙和乙都没选
 - D. 丙没选但乙选了
101. 上海一家知名饭店，最近将一道菜的单价从过去的28元提高到58元，生意仍然非常好。然而，在提价后的一个月內，几个服务员却陆续辞职了。
- 以下哪项最能解释上述现象：
- A. 由于提高菜价，该店市场占有率不断下滑
 - B. 菜价的提高并不能解决原材料涨价带来的利润下滑问题，店主只好降低员工薪酬
 - C. 尽管提价了，该店这道菜仍然比其他店卖得便宜
 - D. 由于提价带来利润增加，店主增加了服务员的薪酬
102. 一个产品要想稳固地占领市场，产品本身的质量和产品的售后服务二者缺一不可。春雨牌汽车质量不错，但售后服务跟不上，因此，很难长期稳固地占领市场。
- 以下哪项推理的结构和题干的最为相似：
- A. 富裕的家庭条件可以很好地帮助孩子成才。张明23岁就取得了法学博士学位，因此，他的家庭一定很富裕
 - B. 足球运动员的个人技术能够很好地提升团队水平，钟某的足球水平在国内首屈一指，今年其所在球队取得

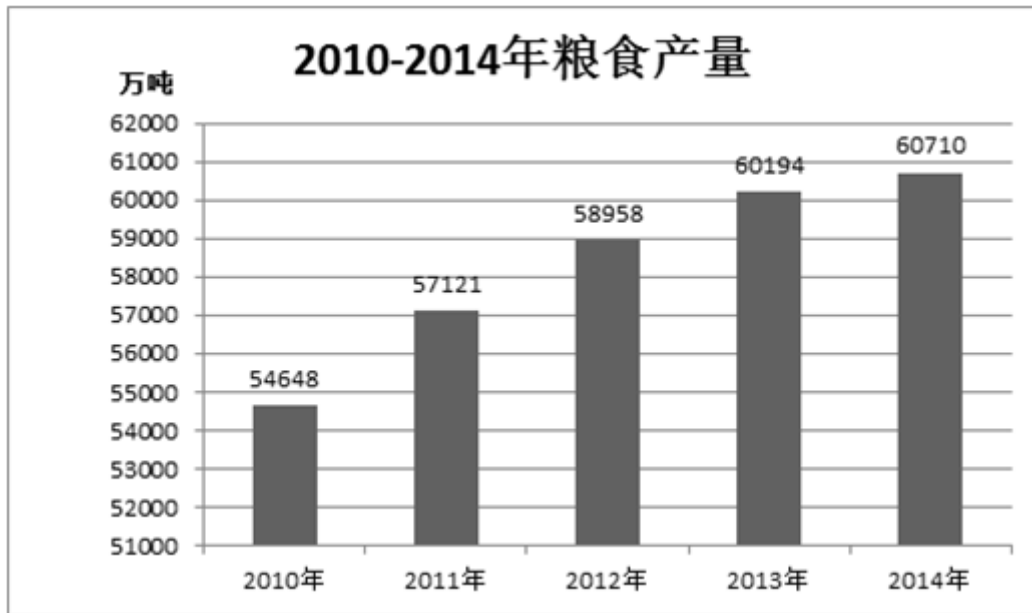
- 了联赛冠军，因此，钟某贡献最大
- C. 一个医生要有良好的声誉，必须具备精湛的医术水平和优良的职业道德。赵某医术很高但医德缺失，因此，他不是一个好医生
- D. 如果小兵每门考试成绩都在90分以上且在班级处于前三名，爸爸就会带他去吃肯德基。小兵语文只考了85分但仍是班级第一名，因此爸爸带他去吃了肯德基
103. 一项研究显示，肥胖者参加体育锻炼的周平均量，只占正常体重者的45%，而肥胖者的食物摄入的周平均量，基本与正常体重者持平，由此得出结论，导致肥胖的主要原因是缺乏锻炼而不是摄入过多的食物。
- 以下哪项如果为真，最能削弱上述论证：
- A. 体育锻炼通常会刺激食欲，从而使肥胖者增加食物摄入量
- B. 有些肥胖者体育锻炼的平均量要大于正常体重者
- C. 肥胖者由于体重的负担，不乐意参加体育锻炼
- D. 肥胖者的食物摄入平均量和正常体重者基本持平，但肥胖者中有人在节食
104. 某公司最近进行了一项有关奖金对销售人员销售业绩是否有促进作用的调查，结果表明：获得奖金的销售人员比那些没有获得奖金的销售人员的销售业绩要高百分之十，调查的内容包括销售的对象、销售的渠道、日平均销售量等许多指标，这充分说明，奖金对帮助销售人员提高销售业绩的作用是很明显的。
- 以下哪项如果为真，最能削弱上述论证：
- A. 获得奖金通常是因为那些销售人员有较好的销售方法和良好的销售业绩
- B. 获得奖金的销售人员可以更容易通过改善销售策略来提高销售业绩
- C. 销售业绩差的销售人员通常工作时间长而缺少正常的休息
- D. 对销售业绩的高低与奖金的大小的关系的研究应当采取定量方法进行
105. 温馨和花园这两家酒店，对来他们酒店消费的顾客，提供了24小时的热线服务，顾客仅在入住过程中有困难时才打电话，并且，温馨收到的热线电话比花园收到的热线电话多四倍，因此，温馨的服务一定比花园的服务差。
- 以下哪项如果为真，最能有效支持上述论证：
- A. 花园酒店每个热线电话的平均时间比温馨酒店的长
- B. 这两家酒店收到的热线电话数量逐渐上升
- C. 花园酒店收到的关于服务质量的投诉比温馨酒店多两倍
- D. 入住花园酒店的顾客数比入住温馨酒店的多三倍

第五部分 资料分析

针对下列图、表或文字回答问题。你应根据资料提供的信息进行分析、比较、计算、处理。你可以在题本上运算。

2014年粮食再获丰收，今年粮食种植面积11274万公顷，比上年增加78万公顷，全年粮食产量为60710万吨，其中夏粮产量13660万吨，增产3.6%，早稻产量3401万吨，减产0.4%，秋粮产量43649万吨，增产0.1%，全年谷物产量55727万吨，比上年增产0.8%，其中，稻谷产量20634万吨，增产1.4%，小麦产量12617万吨，增产3.5%，玉

米产量21567万吨，减产1.3%。



106. 2014年粮食产量比上年增产多少？

- A. 9% B. 0.9% C. 0.6% D. 6%

107. 2010-2014年间，粮食产量比上一年增加最多的年份是哪一年？

- A. 2011年 B. 2012年 C. 2013年 D. 2014年

108. 2013年夏粮产量占该年粮食产量的比重是多少？

- A. 22.5% B. 20.4% C. 32.4% D. 21.9%

109. 若以2014年秋粮产量同样的增长趋势，2015年秋粮产量为多少万吨？

- A. 48013 B. 43693 C. 43065 D. 49314

110. 2013年每公顷的粮食产量为多少吨？

- A. 2.47 B. 8.66 C. 5.38 D. 4.25

style="text-align: center;">

2014年我国对主要国家和地区货物进出口额及其增长速度

国家和地区	出口额 (亿元)	比上年增长 (%)	进口额 (亿元)	比上年增长 (%)
欧盟	22787	8.3	15031	9.7
美国	24328	6.4	9764	3.1
东盟	16712	10.3	12794	3.3
中国香港	22307	-6.6	792	-21.5
日本	9187	-1.4	10027	-0.5
韩国	6162	8.9	11677	2.8
中国台湾	2843	12.7	9337	-3.9
俄罗斯	3297	7.2	2555	3.7
印度	3331	10.7	1005	-4.6

111. 2013年我国对韩国的进出口总额为多少亿元?
A. 17017 B. 17839 C. 16498 D. 18426
112. 2014年我国对主要国家和地区的进出口情况为逆差的有几个?
A. 6 B. 5 C. 4 D. 3
113. 2014年我国对日本的进口额是对印度的多少倍?
A. 5.67 B. 6.24 C. 9.98 D. 12.48
114. 2014年我国对主要国家和地区的出口额中，占比最大的是哪个国家或地区?
A. 欧盟 B. 中国香港 C. 日本 D. 美国
115. 若保持2014年的增长速度，哪一年我国对中国台湾的货物出口额开始超过对俄罗斯的货物出口额?
A. 2015年 B. 2016年 C. 2017年 D. 2018年

扫一扫，对答案

