

# 2016年广州行测真题

真题更新时间：2023年04月23日23:38:02

扫描下方二维码下载小麦公考APP 刷海量题库掌握最新热点



QQ扫码直接下载

微信扫码到应用市场下载

支持所有机型哦

## 第一部分 常识判断

根据题目要求，在四个选项中选出一个最恰当的答案。

1. 供给侧改革意义在于，通过制度变革、结构优化和要素升级，在供给侧放松管制，激发活力，释放创造力，充分发挥市场在资源配置中的决定性作用，进而为中国经济培育新主体。开发新产业，打造新动力。

以下措施不是供给侧改革所提倡的工作重点是：

- A. 加大减税力度，取消更多行政管制  
B. 大众创业、万众创新  
C. 国家加大基础设施建设力度  
D. 加快淘汰僵尸产业
2. 习近平同志在文艺工作座谈会上的重要讲话中，列举了我国名篇佳作，如《采薇》《关雎》《天问》《敕勒歌》，其中反映士兵征战生活的是：
- A. 《采薇》  
B. 《关雎》  
C. 《天问》  
D. 《敕勒歌》
3. 某地准备举办一场以“辉煌的古代丝绸之路”为主题的历史展览，需搜集一些在古代丝绸之路历史中有重要影响的历史人物资料。

以下历史人物属于应重点搜集的有：

- ①张骞；②鉴真；③玄奘；④班超；⑤裴矩；⑥班固
- A. ①②③④  
B. ①③④⑤  
C. ②③⑤⑥  
D. ①③⑤⑥
4. 我国近代著名启蒙思想家严复为宣传维新变法思想，翻译了多部西方名著，其中《天演论》一书特别强调“物竞天择，适者生存”的观点。这一观点源于19世纪英国的博物学家（）。
- A. 牛顿  
B. 伏尔泰  
C. 达尔文  
D. 爱因斯坦
5. “五福临门”中的“五福”源自《尚书》的《洪范》篇：“一曰寿、二曰富、三曰康宁、四曰攸好德、五曰考终命。”

以下四项与“考终命”表达的意思相同的是：

- A. 老吾老以及人之老  
B. 尊前慈母在，浪子不觉寒  
C. 道之以德，齐之以礼  
D. 仁义礼智信
6. “紫荆绽后白莲开，喜事蹁跹接踵来。神州大地齐欢庆，一国两制添新彩。”这首诗最可能创作于（）。
- A. 1984年  
B. 1997年  
C. 1999年  
D. 2005年

7. 根据我国《公务员法》，公务员应当履行的义务包括：

- ①模范遵守宪法和法律  
②获得履行职责应当具有的工作条件  
③清正廉洁，公道正派  
④参加培训  
⑤遵守纪律，恪守职业道德，模范遵守社会公德
- A. ①④⑤  
B. ①③⑤  
C. ②③④⑤  
D. ①②③④⑤

8. 春节期间，小李出国旅游，与旅行社签订了旅游合同。在前往其中一个景点之前旅行社通知小李当地突发泥石流，道路无法通过，并以此为由取消了行程中的该景点。

为此，该旅行社（）。

- A. 承担赔偿责任，需向小李退还所有费用  
B. 承担赔偿责任，需向小李退还部分费用  
C. 不承担赔偿责任，无需向小李退还任何费用  
D. 不承担赔偿责任，但需向小李退还部分费用
9. 小陈2010年7月份大学毕业后就进入了某外资企业的上海办事处工作。2016年3月份，该外资企业因业务调整撤掉了上海办事处，并与小陈协商一致解除劳动合同。根据我国《劳动合同法》，该外资企业应向小陈支付（ ）作为经济补偿。
- A. 6个月工资                      B. 5个月工资                      C. 5个半月工资                      D. 7个月工资
10. 2015年，全国人大常委会组织开展了对《职业教育法》《水污染防治法》《消费者权益保护法》《农业法》《民族区域自治法》《老年人权益保障法》等几部法律实施情况的检查工作，这是人常行使（ ）职能的重要表现。
- A. 立法                                  B. 普法                                  C. 监督                                  D. 审查
11. 甲乘坐中国某航空公司航班由广州飞往伦敦，在飞机经过法国上空时与乙发生争吵，并失手将乙打成重伤，根据我国《刑法》，对于这起犯罪案件，拥有管辖权的是：
- A. 中国                                  B. 法国                                  C. 英国                                  D. 联合国
12. 每年春天，广州经常出现“返潮”现象，俗称“回南天”。专家解释这是因为暖湿气流来到我市，空气中水蒸气的含量较高，遇到地面、墙壁等处的温度较低，极易发生（ ）现象，使地面、墙壁冒“冷汗”。
- A. 凝固                                  B. 升华                                  C. 凝华                                  D. 液化
13. 海拔是以海平面为基准点，地面某个地点高出海平面的垂直距离。以下几个城市海拔从高到低的排序关系中，正确的是：
- A. 武汉、厦门、昆明                      B. 沈阳、包头、海口  
C. 成都、长沙、西安                      D. 拉萨、贵阳、北京
14. 有四个同样大小、质量相等的空心球，他们分别由铁、铝、铜、铅制成。则四个球空心部分体积最大的是：
- A. 铁球                                  B. 铝球                                  C. 铜球                                  D. 铅球
15. 微生物在我们的生活中有着广泛的用途，下列关于微生物的使用，错误的一项是：
- A. 利用醋酸菌酿醋                      B. 利用酵母菌制作泡菜  
C. 利用乳酸菌制作酸奶                      D. 利用青霉菌提取青霉素

## 第二部分 言语理解与表达

本部分包括表达与理解两方面的内容。请根据题目要求，在四个选项中选出一个最恰当的答案。

16. 2016年是中国“十三五”规划开局之年，也是中国与沿线国家全力推进“一带一路”建设的年份。以“一带一路”为绢帛、以创新合作为\_\_\_\_\_、以共谋发展为气韵，中国与世界共同绘制的合作共赢壮丽画卷正在徐徐展开。

填入画横线部分最恰当的一项是：

- A. 平台                                  B. 纸砚                                  C. 笔墨                                  D. 支点
17. 相对于经济等物质条件的快速恢复发展而言，传统精神的恢复、重建和传承是一个更为艰难和漫长的过程。因为它是一个从民族精神自觉到自信，最后到民族精神挺立和弘扬的社会学习和\_\_\_\_\_的连续过程。

填入画横线部分最恰当的一项是：

- A. 休养生息                      B. 此起彼伏                      C. 潜移默化                      D. 星火燎原

18. 近年来，我国公众参与环保的事件\_\_\_\_\_，普通民众积极参与、献策建言，民间环保机构也频繁发声。

填入画横线部分最恰当的一项是：

- A. 层出不穷                      B. 凤毛麟角                      C. 不足为奇                      D. 成千上万

19. 雾霾的形成，因素很多，是个长期积累的过程。治理雾霾也不是\_\_\_\_\_的，而是要打持久战，久久为功。

填入画横线部分最恰当的一项是：

- A. 信手拈来                      B. 一蹴而就                      C. 立竿见影                      D. 轻而易举

20. 互联网的世界很精彩，也很无奈。当人们掌握太多的知识时，会越来越\_\_\_\_\_借助别人的结果来判断事物，而不是通过自己的大脑。其实，\_\_\_\_\_应该是我们从小就掌握的一种能力。

依次填入画横线部分最恰当的一项是：

- A. 厌倦                      独立思考  
B. 习惯                      借鉴提高  
C. 厌倦                      借鉴提高  
D. 习惯                      独立思考

21. “学如弓弩，才如箭镞。”学识是才能的\_\_\_\_\_，才能是学识的\_\_\_\_\_，学习的弓弩弯如满月，才识的箭镞才能飞似流星。

依次填入画横线部分最恰当的一项是：

- A. 基调                      升华  
B. 基本                      延伸  
C. 指导                      释放  
D. 引导                      发挥

22. 各学科教师根据学生的能力和需求将原有的国家课程体系内的核心知识与思想方法进行了\_\_\_\_\_、\_\_\_\_\_、\_\_\_\_\_，形成帮助全体学生掌握基础知识和技能的基础类课程。

依次填入画横线部分最恰当的一项是：

- A. 整合                      梳理                      重组  
B. 重组                      整合                      梳理  
C. 重组                      梳理                      整合  
D. 梳理                      重组                      整合

23. 党的十八大以来惩治腐败的事实说明，无论什么人，\_\_\_\_\_其职务多高，\_\_\_\_\_触犯了党纪国法，\_\_\_\_\_受到严肃追究和严厉惩处，这绝不是一句空话。

依次填入画横线部分最恰当的一项是：

- A. 无论                      如果                      那么  
B. 不论                      只要                      都要  
C. 不管                      因为                      所以  
D. 即使                      由于                      必然

24. 金融领域的投资骗局并不是什么新鲜事。在国外，各类“庞氏骗局”也绵延不绝，\_\_\_\_\_从事后看，这些骗术的手段并不高明，\_\_\_\_\_从来不缺乏上当者，\_\_\_\_\_还有社会名流、高级知识分子身陷其中。

依次填入画横线部分最恰当的一项是：

- A. 即使                      也                      反而

- B. 如果 却 而且  
C. 虽然 但 甚至  
D. 无论 都 并且

25. 明代长城就建筑特点而言，设计之\_\_\_\_\_、布局之\_\_\_\_\_、建造之\_\_\_\_\_、结构之\_\_\_\_\_、防御之科学，都达到了前所未有的高度。

依次填入画横线部分最恰当的一项是：

- A. 精巧 合理 坚固 完善  
B. 精美 巧妙 可靠 完备  
C. 精致 得体 牢靠 齐全  
D. 精细 得当 牢固 齐备

26. 今天，中国的大学不仅承载着培养人才、科学研究、服务社会的功能，还承载着文化传承的重要使命。而高水平的学术讲座，正是中国大学完成文化传承使命的重要载体。正因如此，已经有越来越多的高校打造了自己的讲座品牌，如武汉大学的弘毅讲堂、中山大学的博雅讲座、北京大学的才斋讲堂、清华大学的人文讲坛等。在学校内外，这些讲座品牌均已经形成或正在形成一定的社会影响力。

关于这段文字，以下理解准确的是：

- A. 中国大学可以通过打造高水平的学术讲座以承载文化传承的使命  
B. 部分大学通过打造本校的讲座品牌以扩大学校的社会影响力  
C. 中国大学与其他国家大学的区别在于中国大学还需完成文化传承的使命  
D. 大学的学术讲座在培养人才、科学研究、服务社会上起到重要作用

27. 虽然中国人认同自己是中间阶层和中上阶层的比例明显低于其他国家，但是对未来个人生活水平提高的预期，则要明显高于其他国家。那些从收入、财富和消费角度来说都已达到或超过中等水平的人，是过去30多年发展的受益者。他们的收入几乎年年增长，物质生活水平步步提高，这使他们对未来寄予更高期望，而这种高期望又会带来不满足感和焦虑心态，使他们总觉得还未达到理想的中产生活状态，还需要拼命努力追求。

以下说法最可能符合作者观点的是：

- A. 较强的物质欲望追求以及由此导致的不满足感和缺乏安全感，使得中等收入阶层的认同感不强  
B. 中国人个性较为含蓄谨慎，即使达到中等收入或高收入水平，还会说自己是中下层或下层  
C. 中国目前的社会保障水平相对较低，公共服务质量相对较差，使一些人没有中产的生活状态和安全感  
D. 不仅要把金钱和物质视为人生目标，更要把精神追求、道德文明水平和社会责任感作为个人价值更主要的体现方式

28. 放眼世界范围，有研究者发现，地处北极圈的爱斯基摩人的语言中，至少有七个不同的词来表达“雪”，也许区分雪的形态和状态，对他们的生活而言非常重要；而处于赤道的非洲国家语言中就少有关于“雪”的词。同样，在阿拉伯语中，有四百多个表达“骆驼”的词语，而在汉语、英语中，有关“骆驼”的词语就相当少……一方水土，也孕育一方特有的语言。

关于这段文字，以下理解准确的是：

- A. 非洲国家对于“雪”这个词不如爱斯基摩人那么感兴趣  
B. “骆驼”这个词是阿拉伯语中最重要的词汇  
C. 地理环境是方言形成的根本原因  
D. 不同的语言反映了不同的自然环境和人文风貌

29. 城市善治的破题关键，说到底得依靠广大市民的智慧 and 力量。如何体现各类人才都有的城市包容，何以在

城与人、管理与服务之间找到最佳契合点，怎样唤回社区交往、邻里互助的人情温暖……一个个具体问题的解决，需要政府有形之手、市场无形之手、市民勤劳之手同向发力。政府角色应从“划桨人”转变为“掌舵人”，把市民和政府的关系从“你和我”变成“我们”，实现城市共建共享。

这段文字主要说明了：

- A. 城市善治需要政府转变角色，与市民打成一片
  - B. 政府既要做好管理，又要做好服务
  - C. 城市治理的关键在于发动群众，形成政府、市场与市民的合力
  - D. 城市问题的解决之道在于实现社区交往、唤回人们的互助
30. 《吕氏春秋》记载，古时有十个相马高人，相马方法各自不同。寒风相马是观察马的口齿，麻朝相马是品评马的面颊，子女厉相马是查看马的眼睛……这十个人都是相马良工，都能看到马的一处征象，就知马骨节的高低、腿脚的快慢、体质的强弱、能力的高下。不仅相马是这样，人也有征兆。

紧接这段文字，作者最可能阐述的问题是：

- A. 知人善用的重要性
  - B. 如何识人用人
  - C. 千里马与伯乐的关系
  - D. 相马故事的意义
31. “一带一路”是一个沿线国家共同推进的系统工程，要求必须强调发挥市场在资源配置中的决定性作用和各类企业的主体作用，这是首要方面。但考虑到“一带一路”沿线国家复杂的国情和具体特点，如果没有政府的示范、引导和服务，受经济地理学规律影响，经济社会资源很难自动向这些地区配置。

这段文字意在指出：

- A. “一带一路”建设需要发挥政府作用
  - B. 发挥市场调节机制的作用是实现“一带一路”的重点
  - C. 政府的示范、引导和服务能够消除经济地理学规律的影响
  - D. 如何更好地发挥政府作用是“一带一路”工程面临的难题
32. 常有论调说，“网络”的种子一旦播下，人们再也不能控制它的生长。但是，一直为之浇水施肥的，是每一个使用它的人。目前还没有证据表明有意义的信息和数据能够凭空在虚拟世界产生，也就是说，网络上所有的信息终究是每一个活生生的人上传的。

这段文字所表达的主要意思是：

- A. 网络的发展不受人的控制
  - B. 信息和数据不能在虚拟世界中凭空产生
  - C. 有意义的信息和数据都是由人上传的
  - D. 网络不能脱离人而独自发展
33. 农村集体产权制度，是实现农民共同富裕的重要制度保障。今年一号文件提出，到2020年基本完成土地等农村集体资源性资产登记颁证、经营性资产折股量化到本集体经济组织成员，健全非经营性资产集体统一运营管理机制。要稳定农村土地承包关系，落实集体所有权，稳定农户承包权，放活土地经营权，完善“三权分置”办法。加快推进房地一体的农村集体建设用地和宅基地使用权确权登记颁证。推进土地征收、集体经营性建设土地入市、宅基地制度改革试点。探索将财政资金投入农业农村形成的经营性资产，通过股权量化到户，让集体组织成员长期分享资产收益，制定促进农村集体产权制度改革的税收优惠政策。

最适合作为这段文字标题的是：

- A. 深化农村集体产权制度改革
  - B. 制定促进农村改革的税收优惠政策
  - C. 实现农民共同富裕
  - D. 让集体组织成员长期分享资产收益
34. 有人比喻，城市规划如一部交响乐，倘若指挥不当，“独奏”互相掣肘，就会引发混乱。一旦缺乏空间、

规模、产业的统筹，失去了空间立体性、平面协调性、风貌整体性、文脉延续性的整合，城市就会失去秩序。不同城市之间的规划，如果跳不出一亩三分地，区域就难以优势互补，也会造成资源浪费、生态破坏。这段文字主要说明了：

- A. 不同的城市规划需要突出自己独特的风格与优势  
 B. 城市规划必须科学统筹  
 C. 城市的秩序建立在合理的规划之上  
 D. 城市之间需要资源整合、产业统筹与优势互补
35. 所有持乐观想法的人都相信，乐观的想法可以鼓舞自己达成目标。但实际上，当一个人乐观地看待目标的实现——尤其是乐观情绪极度膨胀时，你会感到目标的实现似乎易如反掌。这种做法会欺骗大脑，使之认为目标已经唾手可得。这时，当事人“全力向目标迸发”的动力就会丧失。
- 根据这段文字可以得知：
- A. 悲观想法比乐观想法更有助于让人成功  
 B. 乐观的人通常都不会成功  
 C. 事物的真实面貌总是不如想象美好，这会让乐观的人受到打击  
 D. 必胜的信念还需要脚踏实地准备，这才是取胜之道
36. 将下列句子组成一段逻辑连贯、语言流畅的文字，排列顺序最合理的是：
- ①时代在变化，城市也在生长，在理解过往的同时，不妨赋予它新的内涵。  
 ②若是正好有历史典故可以化用其中当然好，但若没有也不必牵强刻意。  
 ③这些新内涵，或许就是后人想要追溯的曾经。  
 ④不是无视过去，而是尊重当下。  
 ⑤取好地名不必局限于向历史找补。
- A. ③④①②⑤                      B. ⑤②④①③                      C. ④③②⑤①                      D. ①②⑤③④
37. 将下列句子组成一段逻辑连贯、语言流畅的文字，排列顺序最合理的是：
- ①自由是秩序的目的，秩序是自由的保障。  
 ②为了取得更大更好的发展，网络不应成为法外之地。  
 ③这一成熟经验和理论认识同样适用于网络治理。  
 ④市场经济发展到哪里，法治就需要跟进到哪里，法治是市场经济的内在要求。  
 ⑤互联网的开放与自由，并不意味着它可以肆意妄为。
- A. ⑤①④②③                      B. ④⑤①②③                      C. ④③①⑤②                      D. ⑤②③④①
38. 将下列句子组成一段逻辑连贯、语言流畅的文字，排列顺序最合理的是：
- ①怎么看中国经济新常态，实际上是一个世界性课题。  
 ②这种适应综合国力竞争新形势的主动选择，势将推动实现由低水平供需平衡向高水平供需平衡的跃升，为中国发展注入动力，也为世界经济提供新机遇。  
 ③中国是全球第二大经济体，也是人们把脉世界经济所不可忽视的一个角度。  
 ④当前，中国实行创新驱动战略，行进在创新、协调、绿色、开放、共享的发展轨道上，强调推进供给侧结构性改革以适应和引领经济发展新常态。
- A. ①③②④                      B. ③①④②                      C. ②③①④                      D. ④③②①
39. 经过长期努力，我国国内已经有了一支颇具规模的科普作家队伍。但这支队伍还需要不断壮大，需要更多富有朝气的新生力量加入进来。科普作家首先应是科学家或者有一定科学工作经验的专业人员，这需要一定的实践积累。也就是说，科普作家的培育造就需要一个较长过程。\_\_\_\_\_。也就是

说，不能等一个人成了科学家，再去请他写东西。优秀的科普作家像高士其、茅以升等，都是很早就开始撰写科普文章，数十年如一日，笔耕不辍。

填入画横线部分最恰当的一句是：

- A. 而且，有些优秀的科普作家并不想成为科学家，前者只有作家的修养和气质
- B. 诚然，并非每个科普作家最终都能成为科学家，后者需要丰富的理论和实践
- C. 况且，并不是每一个科学家都能成为科普作家，后者需要作家的修养和气质
- D. 显然，有些优秀的科学家并不想成为科普作家，前者只有丰富的理论和实践

40. 古人有言，“巧言如簧，颜之厚矣”。会说话并不是信口雌黄、左右狡辩，而是要吃透文件、观照基层、打动人心。“说不上去，说不下去，说不进去，给顶回去”的情况，表面上是个说话的问题，深层来看，在于党员干部\_\_\_\_\_，对相应领域和群众困难不了解、不熟悉。虔诚地当小学生，扎实地深入基层，话风问题才会迎刃而解。结合实际、深入浅出地阐释，用群众喜闻乐见、易于接受的语言表达，说话才能得到群众的理解、拥护和赞成。

填入画横线部分最恰当的一句是：

- A. 无话可说、不会说话，影响工作开展
- B. 说话不分场合、不看对象
- C. 担心言多必失，因而三缄其口
- D. 不能很好地坚持群众路线

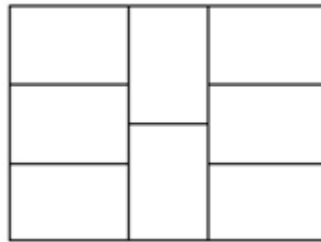
### 第三部分 数量关系

在这部分试题中，每道试题呈现一段表述数字关系的文字，要求你迅速、准确地计算出答案。你可以在草稿纸上运算。

41. 某单位为全体员工进行体检，平均体重是57.5公斤。其中，男员工的平均体重是62.5公斤，女员工的平均体重是55.5公斤。则该单位的男、女员工人数比为：
- A. 2: 5
  - B. 2: 7
  - C. 7: 2
  - D. 5: 2
42. 一条生产流水线上有甲、乙两位工人，流水线上有400个零件尚未装配。其中甲每分钟装配9个零件，乙每分钟装配7个零件。而流水线上也在不断地增加新的零件。在第50分钟结束的时候，甲、乙两人刚好把流水线上的零件装配完。则流水线上每分钟增加的零件有（）个。
- A. 8
  - B. 10
  - C. 14
  - D. 18
43. 植树节当天，某学校的两个班自发组织了一些人去植树。甲班每人植树3棵，乙班每人植树5棵，两个班共植树115棵。那么，两班植树人数之和最多为（）人。
- A. 36
  - B. 37
  - C. 38
  - D. 39
44. 小黎去水果店买牛油果、火龙果，向老板问了价格后，老板的答复是“2个牛油果、3个新鲜火龙果一共32元；特价火龙果10元3个。”小黎最后买了5个牛油果和8个新鲜火龙果，花了82元，但是回家发现有2个牛油果坏了，她赶回水果店要求老板退换，老板答应了。那么，小黎可以换（）。
- A. 3个新鲜火龙果、1个牛油果
  - B. 3个特价火龙果、1个牛油果
  - C. 2个新鲜火龙果、3个特价火龙果
  - D. 6个新鲜火龙果
45. 一个长方体木块恰好能切割成三个正方体木块，三个正方体木块表面积之和比原来的长方体木块的表面积增加了64平方厘米。则长方体木块的体积为（）立方厘米。
- A. 128
  - B. 192
  - C. 256
  - D. 512



46. 如图所示，8块同样大小的长方形钢板拼成了一块大的长方形钢板，已知大长方形钢板周长为112厘米，那么大长方形钢板的面积是（ ）平方厘米。



- A. 432                      B. 588                      C. 768                      D. 945
47. 标有a、b、c、d、e、f记号的六盏灯按序排成一行。每盏灯装有开关，现有b、d两盏灯亮着，其余灯是灭的。某测试人员拉动a灯开关，并按序拉动b、c、d、e、f灯开关，再按此顺序循环拉下去。则当测试人员拉动2023次后，亮着的灯应该是（ ）。
- A. b、c                      B. a、b、d                      C. a、c、e                      D. c、e、f
48. 某市举行“新春杯”足球比赛，对16支参赛队伍进行小组赛分组抽签。抽签箱中分别装有红、黄、绿、蓝的小球各四个，抽到相同颜色小球的队伍进入同一小组。则第一支抽签队伍与第二支抽签队伍被分在同一小组的概率为（ ）。
- A. 二分之一                      B. 三分之一                      C. 四分之一                      D. 五分之一
49. 某餐厅要用三个炉灶做出9道菜肴，做完各道菜肴需要的时间分别是1、2、3、4、4、5、5、6、7分钟。每个炉灶在同一时间只能做一道菜肴。那么，最少经过（ ）分钟，该餐厅可以做完全部菜肴。
- A. 11                      B. 12                      C. 13                      D. 14
50. 某五金加工厂一周加工的五金零件的统计表破损了，如图所示，表中缺少几个数字。根据这张统计表，星期五加工的零件数比星期六（ ）。

星期	日	一	二	三	四	五	六	平均
件数	63	77	76	83	69	7	6	75

- A. 多25件                      B. 少15件                      C. 多5件                      D. 少5件
51. 某部门里身高各不相同的8人一起排练合唱节目。合唱要求8人排成两排，前后人员对齐，但要求后排的每个人要比站其前面的那个人高，以不被挡住。则这8人的站位方法有（ ）种。
- A. 980                      B. 1260                      C. 1860                      D. 2520
52. 办公室有两台相同型号的饮水机，但水桶中剩余的水量不同。打开一个出水阀，第一台8分钟可将水放干，第二台5分钟可将水放干。如果两台饮水机都同时打开两个出水阀，当第一台饮水机剩余的水量是第二台的2倍时，打开出水阀的时间为（ ）分钟。
- A. 1                      B. 2                      C. 3                      D. 4
53. 市总工会举行工会知识竞赛，每位选手作答25题，答对一题得3分，不答得1分，答错扣1分。某单位派出7名选手参赛，由四位记分员分别统计该单位选手的总得分，结果分别为539分、490分、469分、434分。经核查，其中有一位记分员的统计结果正确，则该单位7名选手的平均分为（ ）分。
- A. 77                      B. 70                      C. 67                      D. 62

54. “天星号”和“沧云号”两艘客船往返于甲、乙两地运送旅客。上午10点，“天星号”和“沧云号”以相同速度分别从甲、乙两地相向开出。“天星号”从甲地出发时有一个救生圈掉进水里，救生圈随水流向乙地飘去。下午14点，“天星号”与救生圈相距80千米。晚上20点，“沧云号”与救生圈首次相遇。则甲、乙两地相距（ ）千米。
- A. 200                      B. 320                      C. 400                      D. 800
55. 南北向的铁路旁有一条平行的公路，公路经过A镇，有一行人与一骑车人早上同时从A镇沿公路向南出发。行人的速度为7.2千米/小时，骑车人的速度为18千米/小时。同时，有一列火车从他们背后驶来，9点10分恰好追上行人，而且从行人身边通过用了20秒；9点18分恰好追上骑车人，从骑车人身边通过用了26秒。则二人从A镇出发时，火车离A镇还有（ ）千米。
- A. 15.8                      B. 18.6                      C. 20.8                      D. 24.0

#### 第四部分 判断推理

本部分包括图形推理、定义判断、类比推理与逻辑判断四种类型的试题，请按每道题的答题要求作答。

56. 纸：书与（ ）在内在逻辑关系上最为相似。
- A. 竹：筏                      B. 雨：衣  
C. 叶：树                      D. 河：海
57. 火：烹饪与（ ）在内在逻辑关系上最为相似。
- A. 雾：驾驶                      B. 水：洗涤                      C. 风：晴天                      D. 磁：力量
58. 油：（ ）与（ ）：车在内在逻辑关系上最为相似。
- A. 炒 开                      B. 香 快                      C. 锅 人                      D. 水 马
59. 歌曲：（ ）与（ ）：动作在内在逻辑关系上最为相似。
- A. 旋律 舞蹈                      B. 歌手 交涉                      C. 传唱 表现                      D. 优美 夸张
60. 鱼缸：泳池与（ ）在内在逻辑关系上最为相似。
- A. 货柜：仓库                      B. 鲜花：花瓶                      C. 调料：火锅                      D. 鸟笼：监狱
61. 口罩：唇膏与（ ）在内在逻辑关系上最为相似。
- A. 电源：电线                      B. 画布：颜料                      C. 油纸：雨伞                      D. 化肥：犁头
62. 排量：油耗：成本与（ ）在内在逻辑关系上最为相似。
- A. 火候：口感：食物                      B. 距离：重量：邮费  
C. 纬度：气候：生态                      D. 营养：新鲜：健康
63. 脚：车胎：履带与（ ）在内在逻辑关系上最为相似。
- A. 罗盘：日晷：星空                      B. 毛笔：眼睛：手指  
C. 飞镖：子弹：鱼雷                      D. 镜子：灯光：清水
64. 日理万机：废寝忘食与（ ）逻辑关系上最为相似。
- A. 洞若观火：凿壁偷光                      B. 和盘托出：真相大白  
C. 东施效颦：沉鱼落雁                      D. 苟且偷生：奄奄一息
65. 得道多助：失道寡助与（ ）在内在逻辑关系上最为相似。
- A. 骄兵必败：哀兵必胜                      B. 不在其位：不谋其政

C. 吃一堑：长一智

D. 物以类聚：人以群分

66. 鞋厂工人打算举行罢工，除非老板给他们涨工资。为给工人涨工资，老板必须卖掉一部分厂房。现在，工人的工资没涨。

根据上述信息可以确定的是：

- A. 鞋厂老板将会蒙受更大损失
- B. 鞋厂工人会罢工
- C. 鞋厂老板没有能力满足工人的涨工资要求
- D. 鞋厂的厂房没有被卖掉

67. 女性不都爱化妆，但男性都不爱化妆。如果上述第一个判断为真，第二个判断为假，则以下哪项据此可以确定真假：

- (1) 女性都爱化妆，有的男性也爱化妆
- (2) 有的女性爱化妆，有的男性不爱化妆
- (3) 女性都不爱化妆，男性都爱化妆

- A. 只有 (1)
- B. 只有 (2)
- C. 只有 (3)
- D. (1) (3)

68. 有了汽车自动驾驶系统，人们是否就可以不用再学如何开车了？恐怕还没那么简单。尽管现在的汽车在纯自动驾驶系统控制下发生意外事故的概率已经只有人工驾驶的百分之一，但A国相关部门依然否决了纯自动驾驶汽车上市的申请。

以下哪项最不可能是A国相关部门作出否决的原因：

- A. 纯自动驾驶状态下发生交通事故的主体责任难以认定
- B. 再高明的计算机系统也无法代替人进行伦理判断，而交通环境中却有可能面临是撞人还是撞车这样的选择困境
- C. 提高汽车驾驶技术考核要求，并加强宣传良好驾驶习惯，也能够降低交通意外事故概率
- D. 纯自动驾驶汽车上市对传统汽车产业的冲击巨大，会影响本国汽车产业链

69. 小区居民代表说：“附近垃圾处理厂引起的污染危害了本小区居民的健康。”垃圾处理厂负责人说：“责任不在本厂。我们的研究表明，贵小区居民健康受损是由变异病菌引起的。”

下列哪一项如果成立，则能最有力削弱垃圾处理厂负责人的论断：

- A. 垃圾处理厂的研究没有涉及该厂排出的有害物质的危害
- B. 小区居民的生活方式近年来没有什么变化
- C. 垃圾处理厂负责人所说的变异病菌由来已久
- D. 垃圾处理厂引起的污染促生了变异病菌

70. 甲：大家都知道“吸烟有害健康”。乙：我可不这么认为！你看林医生他们夫妻二人不是都吸烟吗？

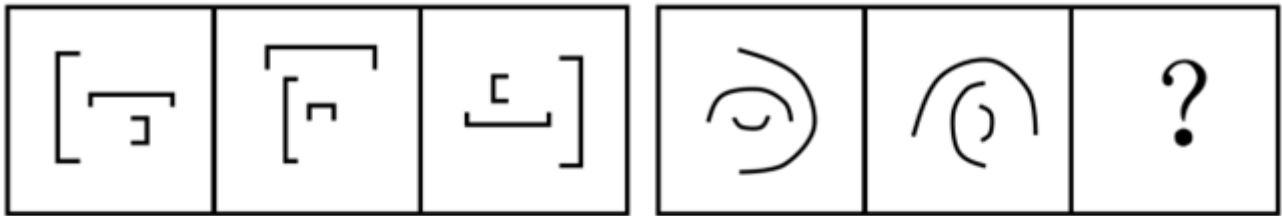
乙作出这一结论，所蕴含的必要前提是：

- A. 医生比一般人更注意身体健康
- B. 医生比一般人更了解吸烟对身体的危害
- C. 不知道吸烟有害健康的人都会去吸烟
- D. 吸烟的人都不知道吸烟有害健康

71. 某连锁品牌酒店建在某一文化古城，入住率一直不温不火，而且入住旅客主要是该品牌酒店的会员。酒店经理决定将酒店的现代化元素改造成与古城风貌一致的古朴风格。改造完毕后，入住率没有显著提升，周边酒店的入住率却有所下降。

以下哪项如果为真，最能说明以上现象：

- A. 最近文化古城举办旅游月活动，吸引了大量游客，古城的管理面临巨大挑战  
 B. 酒店外观改造后，吸引了不少新旅客，但原会员的入住率却降低了  
 C. 周边的酒店也进行了外观改造，增添了更多的古朴元素，更显古色古香  
 D. 该酒店的经理并没有在文化古城经营酒店的经验，很多经营策略其实并未得到品牌总部的支持
72. 当心脏发生“停工”时，很可能导致心源性猝死，而身边如果有同伴懂得心肺复苏术（CPR）并迅速实施，就有抢救的机会。美国某大学查阅过去三年的人口资料，发现心脏骤停导致心源性猝死的高发街区，CPR的实施率通常偏低。为降低猝死发生率，他们建议针对这些街区的居民推出一项CPR培训计划。以下哪项如果为真，最能严重影响这一计划的实际效果：
- A. 心脏骤停主要发生在晚间，特别是吃晚饭的时候  
 B. 发生心源性猝死的老年人一般都有基础疾病在先  
 C. CPR的学习并不只是理论学习，还需要反复地练习  
 D. CPR实施率低的社区通常是地广人稀的低密度社区
73. 辛迪是非洲大草原上的一只“明星”狮子，狮子是非洲大草原的动物之王，因此辛迪是非洲大草原的动物之王。以下哪项与上述论证方式不一样：
- A. 公司决定解雇市场部的全部员工，赵小姐是市场部的新员工，所以她也同样面临公司的解雇  
 B. 大家都喜欢看电视剧，《大宅门》是电视剧中的精品，自然是人人都喜欢看  
 C. 创业者代表了社会发展的希望，张明是杰出的创业者，因此，张明代表了社会发展的希望  
 D. 无领导小组讨论是一种常用的面试形式，公司招聘必然会用到面试，因此无领导小组讨论一定会被用在公司招聘中
74. 丹麦的研究团队发现，多饮用含咖啡因饮料的年轻人，胆固醇指标严重超标的比例明显超过那些不饮用含咖啡因饮料的年轻人。因此，研究团队认为饮用咖啡因将影响年轻人的身体健康。以下哪项如果为真，将最有力质疑上述的结论：
- A. 胆固醇指标是身体是否健康的指标之一  
 B. 常喝含咖啡因饮料的年轻人通常有暴饮暴食的饮食习惯  
 C. 饮食清淡的人更容易保持健康的胆固醇指标  
 D. 有的年轻人胆固醇超标严重，但他们从来不饮用含咖啡因的饮料
75. 不首先完成摄像技术这门课程，在F省就不会被聘为记者。在F省的师范学院读新闻专业的所有学生毕业前都要完成这门课程。因此该校所有新闻专业的毕业生在F省都能被聘为记者。以上推断会受到质疑，因为该论述没有指出：
- A. 所有修完这门课程的人对摄像相关知识的掌握程度是一样的  
 B. 在F省的师范学院读新闻专业的所有修完这门课程的学生都毕业了  
 C. 修完摄像技术这门课程的学生在F省都能被聘为记者  
 D. F省的师范学院的学生中只有新闻专业的学生有资格修这门课程
76. 从所给四个选项中，选择最合适的一个填入问号处，使之呈现一定的规律性：【2016广州076】



A

B

C

D

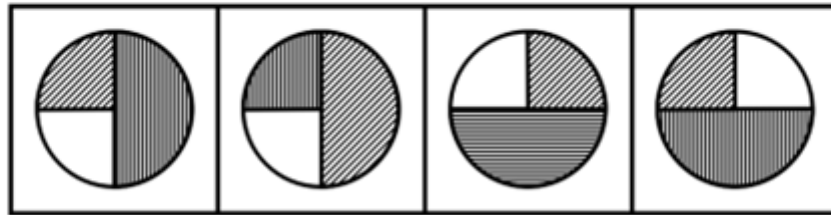
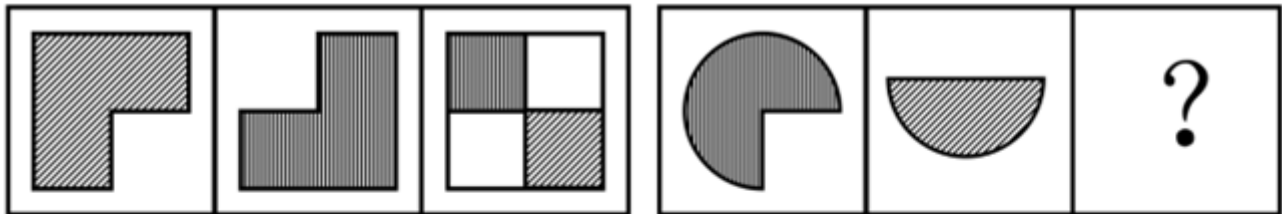
A. 如图所示

B. 如图所示

C. 如图所示

D. 如图所示

77. 从所给四个选项中，选择最合适的一个填入问号处，使之呈现一定的规律性：【2016广州077】



A

B

C

D

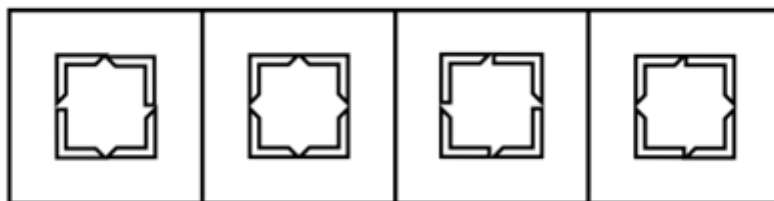
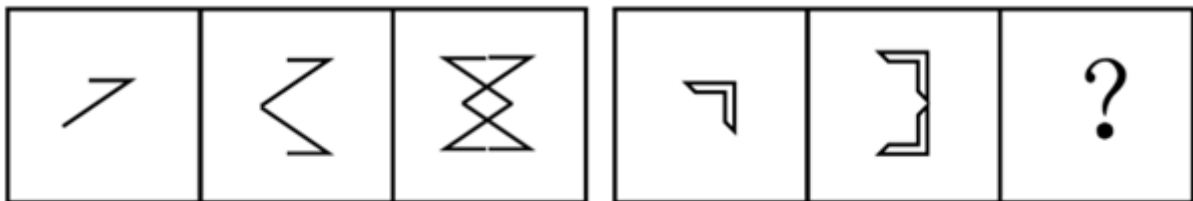
A. 如图所示

B. 如图所示

C. 如图所示

D. 如图所示

78. 从所给四个选项中，选择最合适的一个填入问号处，使之呈现一定的规律性：【2016广州078】



A


B

C

D

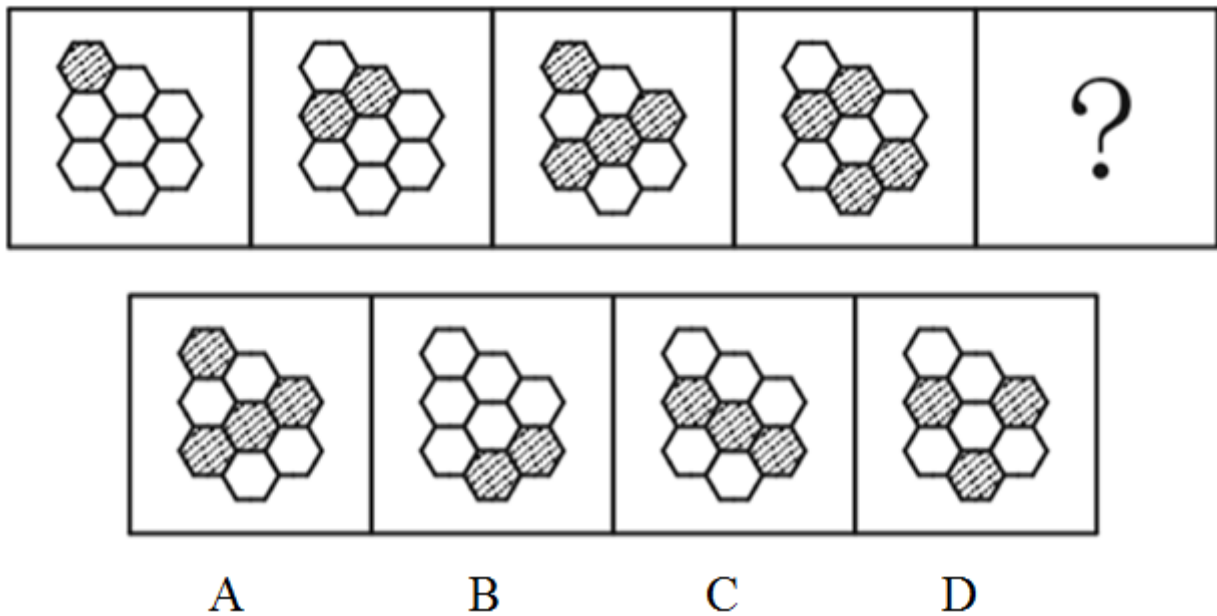
- A. 如图所示      B. 如图所示      C. 如图所示      D. 如图所示

79. 从所给四个选项中，选择最合适的一个填入问号处，使之呈现一定的规律性：【2016广州079】



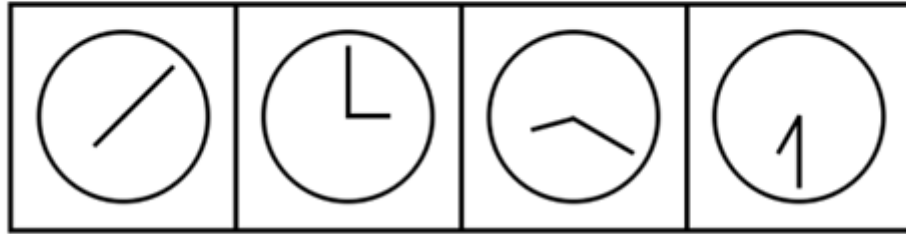
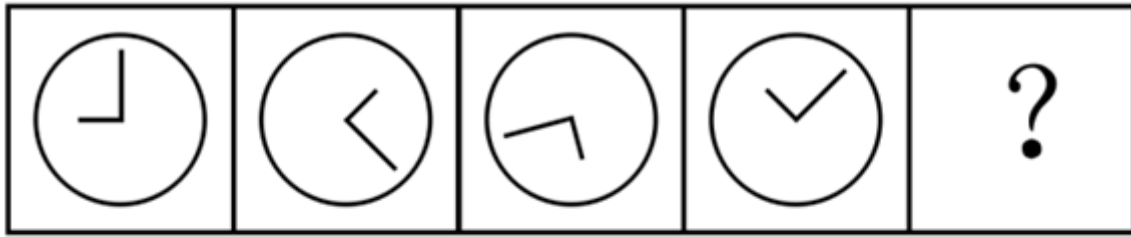
- A. 如图所示      B. 如图所示      C. 如图所示      D. 如图所示

80. 从所给四个选项中，选择最合适的一个填入问号处，使之呈现一定的规律性：【2016广州080】



- A. 如图所示      B. 如图所示      C. 如图所示      D. 如图所示

81. 从所给四个选项中，选择最合适的一个填入问号处，使之呈现一定的规律性：【2016广州081】



A

B

C

D

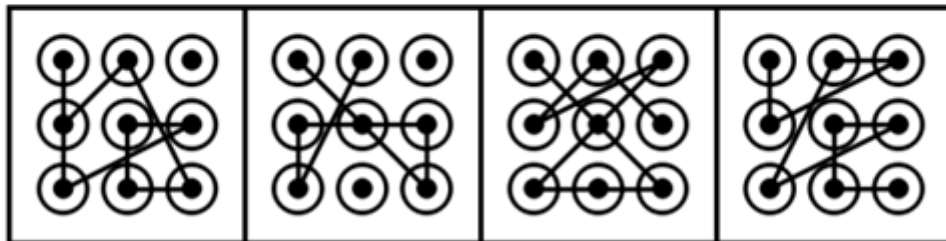
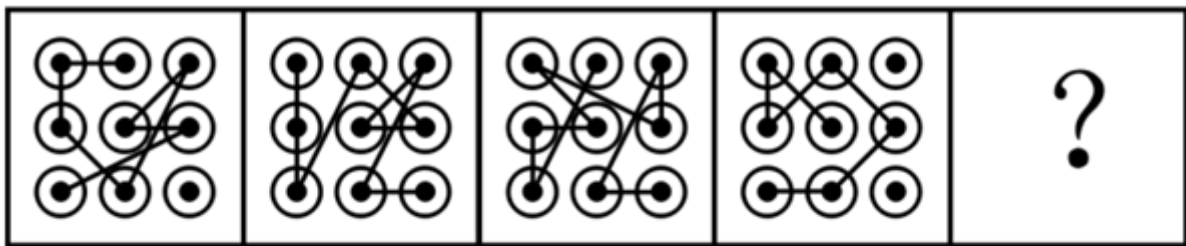
A. 如图所示

B. 如图所示

C. 如图所示

D. 如图所示

82. 从所给四个选项中, 选择最合适的一个填入问号处, 使之呈现一定的规律性: 【2016广州082】



A

B

C

D

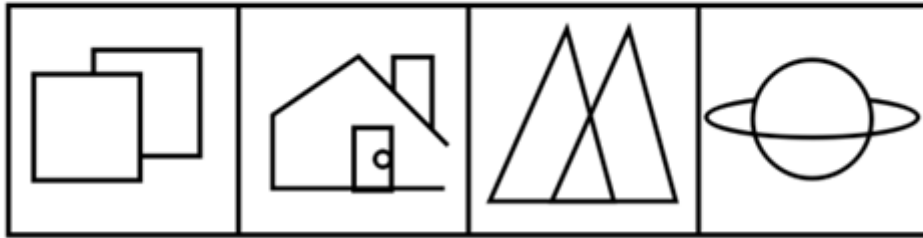
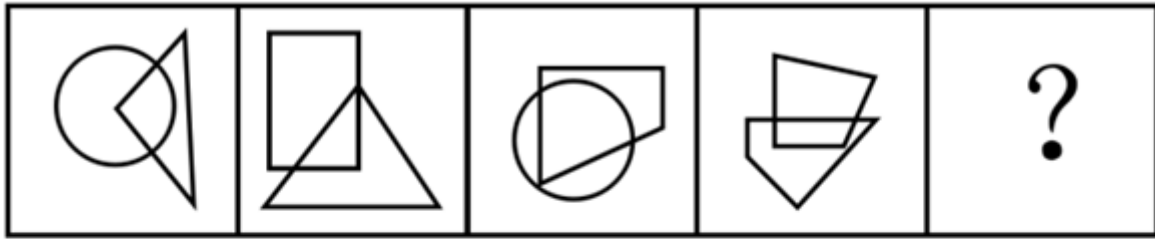
A. 如图所示

B. 如图所示

C. 如图所示

D. 如图所示

83. 从所给四个选项中, 选择最合适的一个填入问号处, 使之呈现一定的规律性: 【2016广州083】



A

B

C

D

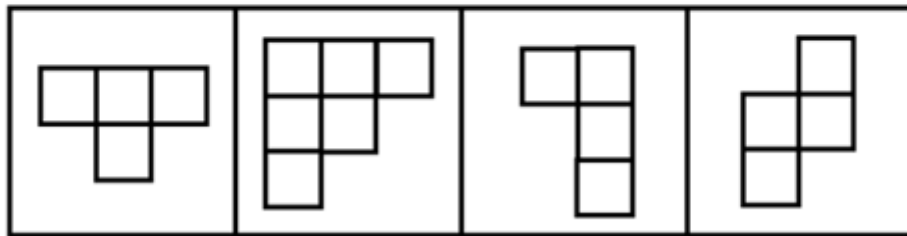
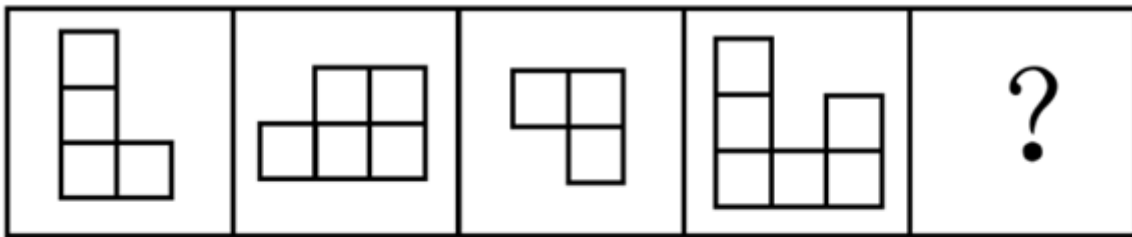
A. 如图所示

B. 如图所示

C. 如图所示

D. 如图所示

84. 从所给四个选项中, 选择最合适的一个填入问号处, 使之呈现一定的规律性: 【2016广州084】



A

B

C

D

A. 如图所示

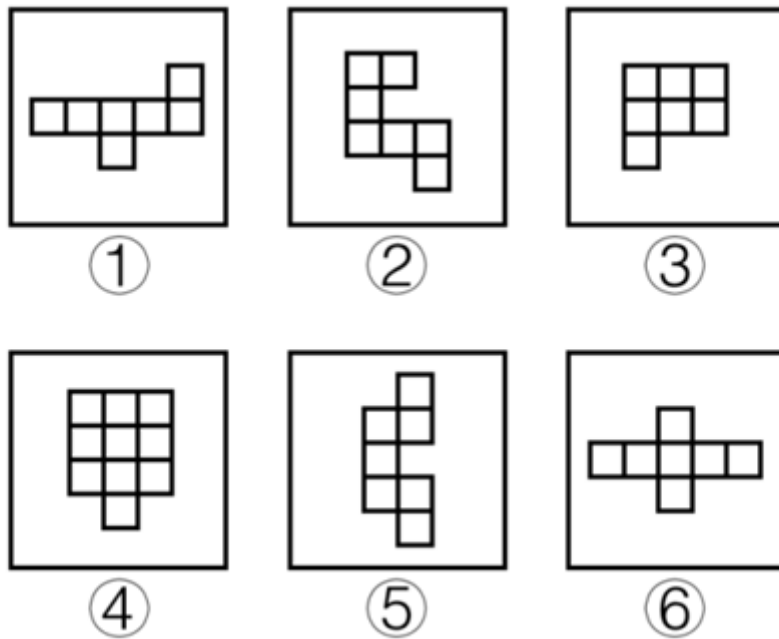
B. 如图所示

C. 如图所示

D. 如图所示

85. 把下面六个图形分成两类, 使每一类图形都有各自共同的规律或特征, 分类正确的一项是: 【2016广州085】





- A. ①②③, ④⑤⑥  
 B. ①②④, ③⑤⑥  
 C. ①④⑥, ②③⑤  
 D. ①④⑤, ②③⑥

### 第五部分 资料分析

针对下列图、表或文字回答问题。你应根据资料提供的信息进行分析、比较、计算、处理。你可以在题本上运算。

2012年，A国取得了6.2%的经济增长速度，高出世界平均水平近1倍。2012年，A国的进出口总额为3816.5亿美元，同比增长0.2%；其中出口1900亿美元，同比降低6.6%，进口1916.5亿美元，同比增长8.1%。

2012年，A国吸引的外国直接投资接近200亿美元，全球排名第17位，较上年上升4位。来自A国的官方投资统计机构的数据显示，2012年吸引外资前五的行业分别是采矿业、金属机械及电子业、交通通信业、化工制药业和机动车及运输设备制造业；排名前五名的国家分别是新加坡（49亿美元）、日本（25亿美元）、韩国（19亿美元）、美国（12亿美元）和毛里求斯（11亿美元）。

2012年，B国GDP为2828亿美元，经济增长速度比上年略有降低，但依然超过6%。2012年，B国的进出口总额1790.1亿美元，比上年降低了4.3%；其中进口358.7亿美元，同比降低43.1%，出口1431.4亿美元，同比增长15.5%。B国的贸易顺差由上年的608.9亿美元，增长到2012年的1072.7亿美元，增长了76.2%，其中进口较上年减少272.2亿美元，占贸易顺差的58.7%。

一方面，B国不断采取措施，改善国内投资环境，吸引外资进入；另一方面，B国在电力、电信、交通运输、法

律法规执行力、政治局势和安全等方面存在许多不足，因此，B国的外资流入表现出波动大且增长迅速的特征。2011年，B国外资净流入为89.2亿美元，比上一年增长46.2%，比2004年增长了319%；在2004—2011年，最高增长率达到了134%，最低的增长率为-29.5%，波动幅度大。

2012年，C国的经济增长达到3.9%。该国国际贸易的增速快于国内经济的增速，进出口总额为7857.3亿美元，同比增长5.3%，其中出口3859.3亿美元，同比增长5.7%，进口3998亿美元，同比增长5%。

2012年，C国的对外投资和吸引外资呈现出两种截然不同的趋势。数据显示，2012年，C国对外投资额约为260亿美元，世界排名由上年的第28位上升到2012年的第15位。2012年，C国吸引外国直接投资126.6亿美元，同比减少34.9%，为近12年来最低。从投资来源国来看，来自美国的占58.5%，日本占13.1%，加拿大占8.2%，德国占5.9%，荷兰占5.7%。

86. 2012年，A国机动车及运输设备制造业吸引外国直接投资最多不可能超过（ ）亿美元。

- A. 40                                      B. 30                                      C. 20                                      D. 10

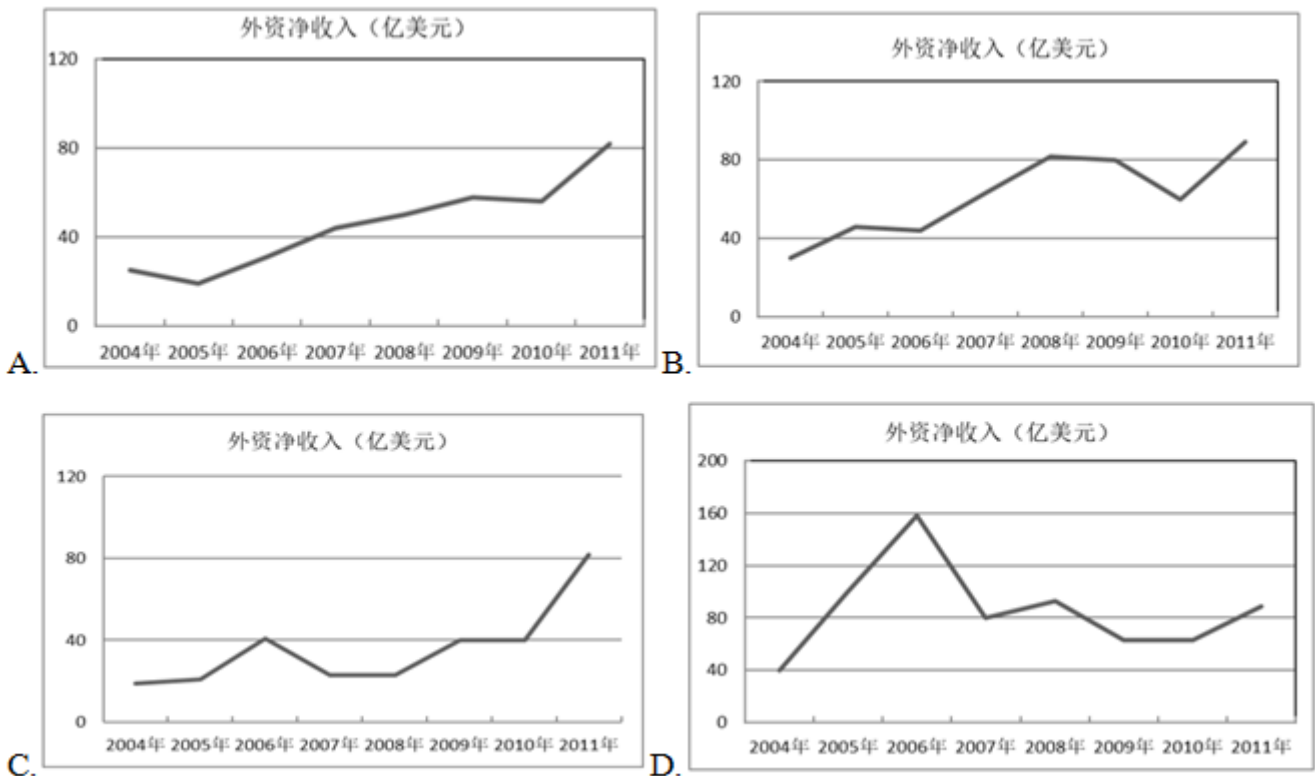
87. A、B、C三个国家2012年的进出口各项指标中，（ ）的同比增长率最高。

- A. A国的进口额                                      B. B国的出口额  
C. B国的贸易顺差额                                      D. C国的出口额

88. 2011年，C国吸引的外国直接投资约等于：

- A. 2012年A国进口增量的2倍                                      B. 2011年B国外资净流入额  
C. 2012年韩国对A国直接投资的10倍                                      D. 2012年C国进出口贸易差额

89. 下列图形与2004年至2011年B国外资净流入状况最为相符的是：



- A. 如图所示                      B. 如图所示                      C. 如图所示                      D. 如图所示

90. 以下说法错误的是：

- A. 2012年，A国的进口增长速度快于经济和出口的增长速度  
 B. 2012年，C国的经济增长速度要慢于世界经济增长速度  
 C. 2012年，日本对C国的直接投资额低于其对A国的直接投资额  
 D. 2012年，B国贸易顺差的扩大主要是由于进口大幅下降造成的

2015年，H市全社会用电量1405.55亿千瓦时，比上年增长2.67%。全年各产业和生活用电情况分别为：第一产业用电量7.35亿千瓦时，比上年增长1.30%；第二产业用电量800.37亿千瓦时，比上年增长0.14%；第三产业用电量412.34亿千瓦时，比上年增长6.09%；生活用电量由城镇居民用电量与乡村居民用电量构成，共计185.49亿千瓦时，比上年增长6.67%，其中，城镇居民用电量增长6.64%，乡村居民用电量增长8.91%。

	用电量（亿千瓦时）	比上年增长（%）
合计	787.02	0.18
其中：规模以上工业小计	706.95	-0.61
其中：石油加工、炼焦及核燃料加工业	44.18	5.88
化学原料及化学制品制造业	99.8	4.04
非金属矿物制品业	16.23	-9.34
黑色金属冶炼及压延加工业	153.17	-2.33
电力、热力的生产和供应业	110.15	0.73

\*该5个行业是规模以上工业中的五个高耗能行业

	用电量（亿千瓦时）	比上年增长（%）
合计	412.34	6.09
1. 房地产业	113.47	12.26
2. 公共事业及管理组织	93.21	5.93
3. 商业、住宿和餐饮业	78.29	2.4
4. 商务及居民服务业	50.4	2.82
5. 交通运输、仓储和邮政业	42.12	2.09
6. 信息传输、计算机服务和软件业	19.18	6.58
7. 金融业	15.66	5.46

91. 2015年，H市五个高耗能行业用电量约占规模以上工业用电量的：

- A. 53.8%                      B. 59.9%                      C. 65.8%                      D. 70.0%

92. 2015年H市以下行业中，用电量最大的是：

- A. 黑色金属冶炼及压延加工业                      B. 房地产业  
 C. 公共事业及管理组织                              D. 电力、热力的生产和供应业

93. 2015年，H市各产业和生活用电同比增量最大的是：

- A. 第一产业用电      B. 第二产业用电      C. 第三产业用电      D. 生活用电

94. 以下数据不能从材料中得到的是:

- A. 2014年, 城镇居民和乡村居民用电量之比  
B. 2014年, 化学原料及化学制品制造业用电量占第二产业用电量的比例  
C. 2014年, 第三产业用电量同比上年的增长率  
D. 2014年, 第二产业用电量与第三产业用电量的比值

95. 以下关于2015年H市用电情况的说法, 不正确的是:

- A. 第一产业用电量还不到全市用电量的百分之一  
B. 第三产业用电量增长主要源于房地产业用电量的增长  
C. 房地产业和公共事业及管理组织用电量占第三产业用电量一半以上  
D. 规模以上工业用电量微降主要源于非金属矿物制品业用电量大幅下降

为了衡量农民工在市民化过程中政府的公共支出, 某研究中心对C市、Z市、W市、J市四个城市进行了调研测算。

项目		J市	W市	Z市	C市
1. 义务教育	小学生(元)	5807.6	7898.3	3252.2	3021.0
	中学生(元)	7321.9	10067.7	4931.3	3077.6
	校舍(元)	2659.3	2919.3	3016.8	2773.3
2. 居民合作医疗保险(元/年)		118.0	52.0	31.2	62.4
3. 基本养老保险(元)		36089.0	29753.9	42049.3	35816.3
4. 民政部门的 其他社会 保障	意外伤害保险(元/年)	0	5.0	0	0
	低保(元/年)	76.5	80.7	59.0	85.9
	医疗等救助(元/年)	8.2	49.4	15.9	9.0
	妇幼保健等(元/年)	46.1	6.3	0	13.5
	孤寡老人(元/年)	14.2	0	8.0	0
5. 城市管理费用(元/年)		338.0	401.0	259.8	490.7
6. 住房(元)		10284.0	9975.6	8696.9	8570.1

96. 四个城市中, 农民工市民化所需的民政部门的其他社会保障人均公共成本最高的是:

- A. C市      B. Z市      C. W市      D. J市

97. 四个城市中, 农民工市民化的基本养老保险人均公共成本最低的城市, 其市民化的义务教育人均公共成本位列:

- A. 第一      B. 第二      C. 第三      D. 第四

98. 农民工市民化的基本养老保险和住房两项人均公共成本最高的城市与最低的城市, 相差约( )元。

- A. 8000      B. 9000      C. 10000      D. 11000

99. 如果将农民工市民化所需的九年义务教育阶段人均公共成本摊分到每一年, 则Z市的该成本接近该市:

- A. 5年的市民化所需城市管理人均公共成本费用  
B. 15年的市民化所需低保人均公共成本费用  
C. 10年的市民化所需居民合作医疗保险人均公共成本费用  
D. 30年的市民化所需医疗等救助人均公共成本费用

100. 以下说法错误的是：

- A. Z市与C市农民工市民化的住房人均公共成本最为接近，而城市管理费用人均公共成本相差最多
- B. 仅有C市未对农民工市民化中的孤寡老人付出公共成本，却付出了妇幼保健等公共成本
- C. W市的农民工市民化所需的居民合作医疗保险人均公共成本虽然在四个城市中位居中下，但医疗等救助人均公共成本却是最高
- D. J市的农民工市民化所需居民合作医疗保险和妇幼保健两项人均公共成本是四个城市中最高

扫一扫，对答案

