

2017年江西行测真题

真题更新时间：2023年04月12日23:31:53

扫描下方二维码下载小麦公考APP 刷海量题库掌握最新热点



QQ扫码直接下载

微信扫码到应用市场下载

支持所有机型哦

第一部分 言语理解与表达

本部分包括表达与理解两方面的内容。请根据题目要求，在四个选项中选出一个最恰当的答案。

1. 在水中自由地_____，闲暇的时候挣脱一切_____，到岸上享受晨风拂面，然后，一个华丽的俯冲，重新潜入关系之水，去做一条在波涛下微笑的鱼。

依次填入画横线部分最恰当的一项是：

- A. 翱翔 束缚 B. 遨游 羁绊
C. 游弋 牢笼 D. 徜徉 烦恼

2. 在音乐的理论中，有所谓的“音乐的语言”；在语文形式美的理论中，应该_____有所谓的“语言的音乐”。_____音乐和语言不是一回事，_____二者之间有一个共同点：音乐和语言都是靠声音来表现的。

依次填入画横线部分最恰当的一项是：

- A. 也 尽管 但是
B. 还 虽然 但是
C. 也 不仅 而且
D. 还 不但 而且

3. 唐前期的敦煌_____了中国、印度、中亚、西亚、希腊等不同系统的宗教、文化、艺术。那时因为我们制度先进、文化发达，所以我们有_____的气度与胸襟。中古时期的敦煌古代文化可以让我们真切地感受到中华民族处于领先时期充满活力的_____。

依次填入画横线部分最恰当的一项是：

- A. 荟聚 宽广无限 风采
B. 集聚 包罗万象 形象
C. 汇聚 海纳百川 脉动
D. 积聚 包容万物 具象

4. 三千多年来浩若烟海的歌谣、诗词、经史、曲赋、铭文、典籍，_____了中华民族博大精深的思想智慧，_____了中华文化不尽不竭的精神源泉。中国的语言文字在抑扬顿挫平仄韵律之中，在点横撇捺篆隶楷行之间，构建了中华民族_____的文化图谱。

依次填入画横线部分最恰当的一项是：

- A. 保护 蕴含 华丽
B. 保存 滋养 亮丽
C. 保全 蕴涵 绚烂
D. 保有 涵养 绚丽

5. 面对基层治理难题，当然不能因为利益的_____而将其束之高阁，也不能因为情感的_____而长期“一事一法”。否则，一些问题可能会_____，失去改革的最佳“窗口期”，最终损害的还是群众的利益。

依次填入画横线部分最恰当的一项是：

- A. 冲突 纠纷 积习难改
B. 牵扯 阻扰 根深蒂固
C. 羁绊 纠葛 积重难返

D. 束缚 阻隔 积习深重

6. 回顾历史，_____东方文化与西方文化的渊源，打破西方文化等同于现代文化的逻辑，将西方文化_____为一个地域性文化，有助于我们今天确立文化自信。

依次填入画横线部分最恰当的一项是：

- A. 明白 看作 B. 了解 贬抑
C. 熟悉 回归 D. 明晰 还原

7. 故事拥有可以直抵人心的柔性力量。一个故事对_____知识世界的帮助可能是微乎其微，对心灵世界的成长却可能是_____。

依次填入画横线部分最恰当的一项是：

- A. 构造 无足轻重 B. 建构 无关大局
C. 建构 举足轻重 D. 构造 事关大局

8. “一带一路”更是_____“达则兼济天下”和“一花独放不是春、百花齐放春满园”的理念，准确_____沿线国家发展，_____沿线国家人民的现实诉求。

依次填入画横线部分最恰当的一项是：

- A. 秉承 助力 响应
B. 坚持 助力 回应
C. 秉承 对接 回应
D. 坚持 对接 响应

9. 中华文化延续着我们的国家和民族的精神血脉，既需要_____、代代守护，也需要与时俱进、推陈出新。为明天_____下这个时代的文化精华，正是我们这一代人的文化责任。

依次填入画横线部分最恰当的一项是：

- A. 风雨兼程 积淀 B. 薪火相传 沉淀
C. 继往开来 留下 D. 承前启后 提取

10. 十年久住的这海东的岛国，把我那同玫瑰露似的青春_____了的这异乡的天地，到了将离的时候，倒反而生出了一种不忍与她_____的心来。

依次填入画横线部分最恰当的一项是：

- A. 消遣 辞行 B. 消磨 诀别
C. 消磨 辞行 D. 消遣 诀别

11. _____古猿本身结构具有与人相接近的形状，在一定的外界环境的作用下，古猿_____有可能离开猿的体统而向着人的方向发展。

依次填入画横线部分最恰当的一项是：

- A. 因为 所以 B. 只有 才
C. 如果 就 D. 因为 才

12. 美国政府再度把中国最大电商平台列入其“恶名市场”黑名单，这类市场以兜售假货而闻名。阿里巴巴辩称，美国政府这一决定背后或许存在政治动机。四年前，阿里巴巴旗下在线集市淘宝网在对假货打击后，被撤下了该黑名单。但现在，淘宝再度被列入了该黑名单。“尽管近来的措施令人对未来产生积极的期待，但目前报告的造假和盗版水平高得难以接受”，美国贸易代表办公室称。该机构负责编制《恶名市场审查报告》。阿里巴巴表示，它对这一决定感到“非常失望”。

最适合做这段文字标题的是：

- A. 淘宝再度被美国列入“恶名市场”黑名单

- B. 阿里巴巴与美国政府贸易摩擦
- C. 不公正的“恶名市场”黑名单
- D. 政治动机与跨国贸易

13. 共享单车和共享汽车等新事物正如潮水般涌现，对此，在交通运输部2017年第三次例行发布会上，新闻发言人表示，鼓励支持共享单车这种“互联网交通出行”的创新方式，政府部门要加强规范和指导，企业要承担管理责任，提升服务水平，公众也要文明出行，共同促进共享单车的发展。而共享汽车实质是租赁范畴，鼓励各地在坚持公交优先发展战略前提下，研究探索共享汽车在当地城市交通中的合理定位。

这段文字主要表明：

- A. 共享单车和共享汽车面临的问题
- B. 政府部门如何鼓励支持共享单车这种出行的创新方式
- C. 共享汽车在城市交通中的定位问题
- D. 交通运输部对共享单车和共享汽车的态度

14. 标准是人类文明进步的成果。从中国古代的“车同轨，书同文”，到现代工业规模化生产，都是标准化的生动实践。伴随着经济全球化深入发展，标准化在便利经贸往来、支援产业发展、促进科技进步、规范社会治理中的作用日益凸显。要携手共建网络空间命运共同体，同样要通过完善规则体系，形成“通用语言”，进而互联互通、规范约束、协同发展。

文段接下来论述的是：

- A. 如何完善网络空间规则体系
- B. 标准化的具体作用
- C. 共建网络空间命运共同体的理由
- D. 实施标准化的途径

15. 在当前情况下，即使要依法行事，也需要更多考虑社会影响；更不能把“依法拆违”变成殴打群众，这不仅让自己陷入被动，更会付出公信流失的代价。老百姓对党和政府的依赖，是靠像焦裕禄、谷文昌、杨善洲这样一批批好干部，以数十年之功换来的。这样的信任，不能在三五个执法者的暴力中流失。

对这段文字概括最准确的是：

- A. 只有好的干部才能得到老百姓的支持和依赖
- B. 法要依，社会影响同样要考虑
- C. 别让暴力执法侵蚀公信力
- D. 公信流失不利于社会发展

16. 随着社会发展和科技进步，语言学与文学逐渐分家，最先是在社会上有众多职业需求的语言教学独立出来，成为以语言教学和语言研究为主要目的的专业大学，如北京外国语大学、北京语言大学，如今遍布世界各地的孔子学院也属这类学校。其次，随着录音技术、语图分析技术、计算机技术的发明和发展，语言学迅速发展成一门需要修建专用实验室、配备各种语音仪器和专业工程技术人员的新型工程技术学科。时至今日，新兴的语言学在医学、生理学、心理学、遗传与基因、刑事侦查、语言识别、自动控制、智能制造等高科技领域得到广泛使用。

根据这段文字，以下说法正确的是：

- A. 如今文学的作用不如语言的作用大
- B. 语言文学不分家
- C. 语言学和文学应该区分对待
- D. 社会的发展和科技的进步离不开语言学的发展

17. 在联合国人权理事会举行的第34次会议上，通过关于“经济、社会、文化权利”和“粮食权”两个决议，决议明确表示要“构建人类命运共同体”，这是人类命运共同体重大理念首次载入人权理事会决议，标志

着这一理念成为国际人权话语体系的重要组成部分。

最适合做这段文字标题的是：

- A. 人类命运共同体重大理念已成国际人权话语体系的重要组成部分
- B. 人类命运共同体重大理念首次载入人权理事会决议
- C. 构建人类命运共同体势在必行
- D. 联合国人权理事会通过关于“经济、社会、文化权利”与“粮食权”决议

18. 网络时代，几乎人人都能够给电影下评语，权威的声音逐渐淹没在喧嚣中。随着电影评论生态的变化，电影行业内也日益意识到客观公正“电影批评”的力量，_____调整自己浮躁的心态。

填入画横线部分最恰当的一项：

- A. 要放慢自己匆匆的脚步
- B. 要多听听来自权威的声音
- C. 提升自身审美的渴望与需求
- D. 做专业态度与民间态度的摆渡人

19. 棉花花俗称草花，是棉花形成棉桃前所开的花朵，一直作为棉花产业的副产物被废弃。中国科学院新疆理化技术研究所的科技人员在对棉花花进行系统的化学成分分析研究时发现，棉花花含有丰富的黄酮类物质，具有良好的治疗老年痴呆的功效。他们采用现代工艺技术，将棉花花中的黄酮类物质提取出来，制成剂量小、药效明显、服用方便的“棉花花总黄酮片”，用于治疗轻中度老年痴呆症。2014年6月获批新疆首个中国中药5类新药临床试验。

对这段文字概括最准确的是：

- A. 黄酮类物质有助于治疗轻中度老年痴呆症
- B. 中国科学家变废为宝，发现棉花花新的价值
- C. “棉花花总黄酮片”获批新疆首个中国中药5类新药临床试验
- D. 中国科学家从棉花花中提取治疗中度老年痴呆药并成功转让药企

20. 环保数据造假已成利益链条化，尽管企业是造假的第一责任主体，但板子显然不该只打在涉事企业身上。企业环保数据造假的“锅”，不应仅由涉事企业直接操作人员来背，潜居幕后的指挥者也应纳入执法视野。此外，地方环保部门是否出于数据“漂白”的考量而“睁一只眼闭一只眼”，设备生产商以及运行维护单位在多大程度上“配合”了企业的“造假定制”，这也都应予以关注。

这段文字意在说明：

- A. 环保数据造假已经体系化
- B. 打击环保数据造假，不应该只惩罚涉事企业
- C. 杜绝环保数据造假须全链条打击
- D. 地方环保部门为了政绩，从而“漂白”环保数据

21. 没有声音，再好的画面也会“无感”。说话是一门艺术，折射着历史和传统的痕迹。以前，沿街售货的商贩往往选择放声吆喝。“叫卖声”不仅关乎生意和生计，“小楼一夜听春雨，深巷明朝卖桂花”，自然之声与市井之声的交织，也成就了生活的诗意。同样，人与人之间交往，既然见了面，互相之间何妨说句话。寒暄能打破沉寂，笑声能冲刷尴尬，有话好好说也能化解矛盾。

最适合做这段文字标题的是：

- A. 到什么山头唱什么歌
- B. 三寸不烂之舌，胜于百万之师
- C. 多说一句，驱散“无言的冷漠”
- D. 无声不一定胜有声

22. 相较于社会生活的复杂度，灵长类动物的饮食或能更好地预测其脑容量。这项发表于《自然—生态与演化》的研究是同类型分析中迄今为止规模最大的，并对目前有关人类和一些灵长类动物为什么演化出了比大多数动物更大的脑部的假说提出质疑。在考虑到每个物种的演化亲缘关系及体型后，作者发现，吃水果的灵长

类动物的脑组织比吃植物叶子的灵长类动物多25%左右。虽然作者的分析未能说明为什么吃水果会带来更大的大脑，但他们认为这可能是由认知需求（与记忆水果位置、手工提取果肉有关）和热量奖励（摄入热量丰富的水果，而非热量贫乏的植物叶子）联合驱动的。

与这段文字意思相符的是：

- A. 饮食或许与灵长类动物脑容量有必然的联系
- B. 很多灵长类动物为什么演化出了比大多数动物更大的脑部的假说没有价值
- C. 吃水果的灵长类动物的脑组织比吃植物叶子的灵长类动物多的原因已明了
- D. 社会生活的复杂度不能预测灵长类动物脑容量

23. 福格尔斯坦等人2015年1月在《科学》杂志上发表文章称，人体组织的癌症风险差异可以用干细胞分裂时出现的错误，即所谓“坏运气”来进行解释，三分之二的癌症基因突变是“坏运气”的结果，另三分之一归因于遗传和环境因素。《科学》杂志配发的一篇评论文章说，预计有关癌症“坏运气”理论的争论还会持续下去。还有专家认为，这项研究并不意味着否认通过改善环境和生活方式预防癌症的重要性，英国癌症研究会就认为，42%的癌症病例可以预防。

与这段文字意思不相符的是：

- A. “坏运气”这种解释并非哗众取宠，也具有一定的科学道理
- B. 癌症患者放弃治疗是一种理性的行为
- C. 有关癌症“坏运气”理论学界褒贬不一，尚未有定论
- D. 癌症病例并非都不可预防

24. 人脸识别技术逐渐深入社会生活的潮流，很多人甚至把人脸识别万能化了。实际上，高科技应用的背后依然有可能存在风险、存在漏洞，虽然按照惯常看法，科技含量越高，其安全系数通常也越高，但正如3·15晚会展示的那样，随着科技的进步发展，仿真头套、全息投影、人脸跟踪等高科技手段不断出现，单一的人脸识别技术是有很大的局限性，没有绝对的安全概念可说。因此，在涉及隐私、支付等高级别安全场景使用时，注意将人脸与声纹、指纹、虹膜及其他生物认证信号相融合，而不是单一地采用人脸识别技术，这样安全的系数就会大大提升。

这段文字意在说明：

- A. 人脸识别技术渐成社会风尚
- B. 人脸识别技术有很大的局限性
- C. 高科技产品背后同样会存在问题
- D. 多重认证方式有助于提高安全系数

25. 基础科学的精神在于穷理。基础科学研究需要经过刻苦训练、需要有深度的看法，才会有新的结果、好的创意。因此，基础科学研究不经过旷日持久的付出，很难有成功的机会。有些人因而认为，与其如此辛苦，不如等别人做好基础科学研究后拿过来用。但持此观点的人忘记了一点：只有自己体悟出来的理论，才最了解其长短，才能掌握其中的精髓，应用起来才能得心应手。树立穷理的精神，也需要哲学的滋养。毕竟，科学家也是有血有肉的人，有哲学精神和素养的支撑，才能塑造科学家的气质和意志。

这段文字意在说明：

- A. 基础科学研究意义重大
- B. 基础科学研究需要奉献精神
- C. 基础科学的本质是穷理
- D. 基础科学研究需要哲学滋养

26. 有人疑问，古诗文默写在高考语文中占比不多，为什么要让学生花那么多时间去背？以“应试心态”对待传统文化，难免会产生“划不划算”的困惑，我们重温那些代代相传的诗词文本，不是因为它们行将消失、即将毁灭，也不是因为我们忧思古人、恋旧复古，而是因为它们记述着我们民族所特有的精神追求、人文精神和智慧力量，是我们生生不息的文化滋养，是我们走向复兴的精神支撑。

这段文字意在强调：

- A. 我们需要从传统的“文化原乡”中汲取精神力量
 B. 诗歌是古今一脉的文化印记
 C. 古诗文默写大有必要
 D. 诗心是个人的，而诗意是共同的
27. 由于在科普和科学传播方面的贡献，中国科学院国家天文台郑永春博士前段时间获得了美国天文学会行星科学分会颁发的卡尔·萨根奖，令人高兴，但面对这一新闻，不少科学界朋友都谈到：中国科学家的科普工作做得究竟如何？观察和思考告诉我们，中国科普工作其实不是做得多，而是太少；不是做得好，而是很不够；不是强于，而是输于世界同行，至少比发达国家差得多。
 作者接下来最有可能讲述的是：
 A. 中国科普比发达国家少的原因
 B. 中国科普的现实
 C. 科普的重要性
 D. 改善中国科学家不热衷于科普的途径
28. 据统计，我国儿童人口数为2.3亿，占全国总人口的16.5%，未来受到“二孩政策”的影响，儿童人口数将呈现增长趋势，儿童用药市场潜力巨大。但国内儿童用药医疗市场90%以上的份额，被为数不多的外资企业如惠氏、罗氏、施贵宝等占领。发达国家在对儿童专用药品的开发、临床试验等方面都有相应的政策支持，对药企给予税收、专利、市场和研究资助等方面的优惠措施。
 这段文字意在强调：
 A. 国内儿童用药医疗市场潜力大
 B. 国内儿童用药医疗市场基本上被外资企业垄断
 C. 发达国家通过各种措施支持儿童专用药品的开发
 D. 国内需配套出台相应的政策支持儿童用药医疗市场
29. ①人的一生约1/3时间是在睡眠中度过，睡眠是人的生命再生产的过程
 ②在睡眠日把睡眠作为一个“公共议题”，这本身就说明人们的健康意识在提升
 ③没有良好的睡眠，就没有清醒的头脑和健康的体魄
 ④放在以前，人们常认为失眠是一个隐私问题，说出来会被人认为“有心事”，因此往往羞于启齿
 ⑤对健康而言，睡眠与阳光、空气、食物和水一样重要
 ⑥而当很多人都遭遇失眠的困扰，就说明睡眠不仅是一个个人问题、健康问题，更是一个群体性和社会性的现象
 将以上6个句子重新排列，语序正确的是：
 A. ①⑤③②④⑥
 B. ①③⑤④②⑥
 C. ⑤①③④⑥②
 D. ⑤③④①⑥②
30. 自然界发生的绝大多数突变都是有害或中性的，通俗地说就是“毫无用处”，给生物体带来好处的突变极其罕见。但是生物进化过程中，由于不存在万能的上帝或者自以为是的精英，在每一个突变产生之时生物体都不知道这个突变有没有用，只有当它改变了生物体的表型特征之后，才会受到自然选择。当生物体，尤其是地球上最顽强的生物，身处困境时，它们会通过提高突变率，来增加有益突变出现的机会，也就是增加解决困难的几率。
 对这段文字概括最准确的是：
 A. 自然界的突变绝大多数都是“毫无用处”的
 B. 生物体会按照自身的实际情况产生适宜的突变
 C. 自然界因容忍不计其数的“毫无用处”的突变而丰富多彩
 D. 人类应该帮助自然界杜绝“毫无用处”的突变，从而丰富自然生态
31. 生活其间，你优雅，城市便不粗俗；你精神明亮，_____。当文明传递在城市的每个神经末

梢，流进每个居民的血液之中，我们就敢说，这是一座有品位的城市，一座宜居的城市，一座闪烁着文明之光的城市。

填入划横线部分最恰当的一项是：

- A. 城市便不灰暗阴沉
B. 城市便不急躁喧哗
C. 城市便光鲜亮丽
D. 城市便灿烂辉煌

32. 投身法国总统大选的极右翼政党国民阵线主席玛丽娜·勒庞把自己的经济政策定义为“机智的保护主义”，宣称要通过竖高墙来恢复“法国制造”的荣耀。大西洋另一侧，当前美国政治中保护主义的味道也很浓。国会中的共和党人正试图建立一套“边境调整”制度，也就是说进口要纳税，而出口免税。甚至还有人谋划打响贸易战，精心计算着损失收益比。没有什么其他领域能像贸易一样，让政客和经济学家有那么大的分歧。

从这段文字可以看出，作者对“机智的保护主义”的态度是：

- A. 反对
B. 赞成
C. 中立
D. 没有态度

33. 随着世界多极化、经济全球化的深入发展，全球治理问题成为又一个重要国际话题。世界各国面临多个需要携手解决的问题，治理需求上升，然而大国间由于嫌隙不断，协调能力变弱。过去作为全球问题主要解决者的欧美国家，自身问题重重，显得有心无力。在这种局面下，世界期待中国有所作为。

这段文字意在说明：

- A. 全球治理问题，国国有责
B. 全球治理问题，欧美国家心有余而力不足
C. 全球治理问题，中国正在走进世界舞台中央
D. 全球治理问题，亟需解决

34. 不像围棋是有胜负关系的，在某种程度上可以被量化，诗歌所展现的语言的优美与丰富的人类内心世界，永远无法被量化、被标准化。人工智能在“阅读”上可以远远超出所有诗人，能够识别出哪些词是高频的，可以按照基本的诗歌规则组合出一首诗，但这种组合不是创作。在这个意义上，无法区别的，是糟糕的作品与机器人写的作品。如果把杜甫的诗和机器人写的诗混在一起，肯定容易区分。

对于人工智能的创作，作者的看法是：

- A. 人工智能创作的作品质量会超过人类的作品
B. 人工智能的创作尚不能量化和标准化人类的内心世界
C. 人工智能的创作不足以与人类的作品媲美
D. 人工智能的创作前景无限好

35. 中国目前面临的水困局，不但有严重的水污染，还有严重的水资源短缺，中国还处于工业化阶段，减少水资源需求以及污染物排放的压力大，治理难度显然也很大。但无论多难，治水已经没有丝毫退路，因为，“让群众喝上干净的水”，是政府对人民应尽的承诺。事实上，治水的目标，不仅是让人民喝上干净的水，也是让整个生态系统都喝上干净的水。

这段文字意在说明：

- A. 中国水污染和水资源短缺的现实
B. 治理难度大的原因
C. 治水的必要性
D. 治水的愿景

36. 脚手架上的建筑工、寒风里的快递员、忙前忙后的餐厅服务员、为城市建设增添光彩的环卫工人，“再低微的骨头里也有江河”。关注这些可能淹没在“大词”中的个体，带着感情去正视解决，不断提升社会治理水平，相信，在一个农民工大国里，可以蹚出一条更从容、更安全、更正义的权益守护之路，让他们能够带着笑容、带着尊严，播种希望、走向明天。

这段文字意在说明：

- A. 法律是维权的重要武器，农民工权益纠纷理应被纳入法治轨道解决
- B. 农民工参与到社会治理的运行体制当中来
- C. 农民工权益守护之路艰难
- D. 从多维度上，全方位、全过程地为农民工群体“赋权”

37. 粽子在最早出口时，名称是一段冗长的名词解释，随着时间的推移，粽子被许多国家民众所熟知和喜爱，也回归于自己的名字“zongzi”。与其类似，二胡、太极、脸谱、阴阳、麻婆豆腐等带有浓厚“中国风”的事物，也都经历了从意译到音译的循序渐进。

这段文字意在说明：

- A. 带有浓厚“中国风”的事物更适宜意译
- B. 文化的国际认同从来都是润物无声
- C. 推广中国传统文化需要有文化自信
- D. 跨国文化交流，是一张既知己，又知彼的往返票

38. “互联网+”下的“荷尔蒙经济”，烧旺了网络直播产业。与土豪粉丝一掷千金、千金买笑相伴的，是丑小鸭变天鹅、一夜暴富的传说，让美女、靓仔、资本都趋之若鹜，但也应该在法律法规与道德伦理容许的范围内。度没把握好，问题就来了。网络直播从最初的“主要看气质”到今天的主要拼胆量，以“直播造人”为标志，“无聊经济”“荷尔蒙经济”有低俗化、无耻化风险，受到公众诟病乃至法律惩戒是必然的。

这段文字意在强调：

- A. 网络直播面临的困局
- B. 网络直播盛行的原因
- C. 网络直播要自律更要他律
- D. 网络直播的社会影响

39. 研究人员让志愿者在一个黑暗的屋子里长时间盯着屏幕上的一个小圆点，同时用红外照相机实时追踪志愿者的眼球运动和眨眼。志愿者每眨一次眼睛，小圆点就向右移动一厘米。志愿者事后表示并没有察觉到这细微的变化。经过大约30次眨眼，志愿者的视线适应了小圆点的同步移动，可以在眨眼之后自动偏向新的小圆点位移。

这段文字意在表明：

- A. 眨眼可以稳定视线
- B. 眼球活动受噪音等因素的影响，不会引起视线的不稳定
- C. 眨眼时眼球转动，眼球总能回到在眼睛重新睁开时的那个位置
- D. 大脑无法判断人们眨眼前后所见物体的差异

40. 从全球范围看，移动互联网发展势头迅猛，大数据应用不可阻挡，个人信息和隐私的保护已经成为世界性、产业性的挑战。中国是世界上互联网活动最为活跃的国家之一，数亿网民的海量个人信息时刻都在看的到光纤网络和看不到的4G网络上奔流不息。营造保障个人信息安全的法治环境、执法环境，是产业繁荣和用户安全的基础。从这个角度看，突破执法瓶颈，保障大数据时代个人信息安全对个人、对社会、对国家都有着举足轻重的意义。

这段文字主要强调：

- A. 保障大数据时代个人信息安全的背景
- B. 保障大数据时代个人信息安全的意义
- C. 保障大数据时代个人信息安全所面临的挑战
- D. 保障大数据时代个人信息安全的措施

第二部分 常识判断

根据题目要求，在四个选项中选出一个最恰当的答案。

41. “临川四梦”是由明代戏剧作家、文学家汤显祖所作，其中不包括：
A. 《牡丹亭》 B. 《西厢记》 C. 《邯郸记》 D. 《南柯记》
42. 下列历史人物按时间先后顺序排列正确的是：
A. 嵇康—王勃—杜牧 B. 杜牧—王勃—嵇康
C. 王勃—嵇康—杜牧 D. 杜牧—嵇康—王勃
43. 2016年11月3日20时43分，从中国文昌航天发射场点火升空，完成首次发射任务并取得圆满成功的我国最大推力新一代运载火箭是：
A. 长征七号 B. 长征六号 C. 长征五号 D. 长征八号
44. 关于热带季风气候，下列说法错误的是：
A. 分布在纬度10度到回归线附近的亚洲大陆东南部等地
B. 热带季风发达，一年中风向的季节变化不明显
C. 年降水量多，一般在1500-2000mm，集中在6-10月份（北半球）
D. 全年高温，春秋极短
45. 下列关于地震，说法错误的是：
A. 按地震的成因，可分为构造地震、火山地震、塌陷地震和诱发地震四种
B. 一次地震只有一个震级，但有多烈度
C. 四大地震带中，最大的地震带是环太平洋地震带
D. 距震中越近，烈度越大；反之越小
46. 四大洋面积从大到小的排列顺序是：
A. 太平洋—北冰洋—大西洋—印度洋 B. 大西洋—太平洋—北冰洋—印度洋
C. 大西洋—太平洋—印度洋—北冰洋 D. 太平洋—大西洋—印度洋—北冰洋
47. 被称为“东方凡高”，其画作在国外备受推崇，并在世界画坛产生很大影响的清初著名画家朱耷，擅长水墨花卉鱼鸟，他的别号是：
A. 八大山人 B. 文山 C. 古心 D. 叠山
48. 下列不属于开始于两汉时期政治经济制度的是：
A. 刺史制 B. 察举制 C. 一条鞭法 D. 编户齐民
49. 关于海洋环境，下列说法错误的是：
A. 海洋是地球上水循环的起点
B. 海洋水温在垂直方向上，上层和下层截然不同
C. 波浪、潮汐和海流等都是海水运动形式
D. 海洋可以分成四种地形区域：大陆架、大陆坡、大洋盆地和大洋高原
50. 关于生物净化，下列说法错误的是：
A. 植物净化大气主要是通过叶片的作用实现的
B. 海洋中降解石油烃的微生物主要是酵母
C. 淡水生态系统中的生物净化，细菌起主导作用
D. 生物净化能力都有一定的限度

51. 下列古代名医与其所在朝代对应错误的是:
- A. 张仲景—隋朝 B. 孙思邈—唐朝 C. 华佗—东汉 D. 李时珍—明朝
52. 关于石油污染, 下列说法错误的是:
- A. 石油污染的主要污染物是各种烃类化合物
B. 石油污染会致使海洋缺氧
C. 蒸发作用是海洋油污染自然消失的重要因素
D. 沉入海底的石油或石油氧化物不再会上浮到海面
53. 下列不平等条约按签订时间先后顺序排列正确的是:
- A. 南京条约—天津条约—马关条约—辛丑条约
B. 天津条约—南京条约—马关条约—辛丑条约
C. 南京条约—天津条约—辛丑条约—马关条约
D. 天津条约—南京条约—辛丑条约—马关条约
54. 香蕉的供给量增加是指供给量由于:
- A. 香蕉的需求量增加而引起的增加 B. 人们对香蕉偏好的增加
C. 香蕉的价格提高而引起的增加 D. 由于收入的增加而引起的增加
55. 关于利息, 下列说法错误的是:
- A. 资本的报酬 B. 劳动的报酬
C. 资本这一生产要素的价格 D. 由资本市场的供求双方决定的
56. 甲将自有房屋出售给乙, 乙将双方约定的房款支付给甲, 将房子交给儿子丙使用。后由于价格变动, 甲又将房子出售给丁, 并办理了房屋过户手续, 此时, 该房屋的所有权归属:
- A. 甲 B. 乙 C. 丙 D. 丁
57. 关于民事法律关系, 下列说法错误的是:
- A. 民事法律关系是平等主体之间的关系, 一般是根据法律规定设立的
B. 民事法律关系一经确立, 当事人一方即享有民事权利, 而另一方便负有相应的民事义务
C. 民事法律关系的保障措施具有补偿性和财产性
D. 民事法律关系可分为财产法律关系和人身法律关系
58. 下列国家中, 不是实行总统共和制的是:
- A. 巴西 B. 美国 C. 埃及 D. 德国
59. “天无三日晴, 地无三尺平”说的是:
- A. 广西 B. 贵州 C. 云南 D. 四川
60. 江西的气候类型是:
- A. 热带季风气候 B. 温带季风气候
C. 亚热带季风气候 D. 温带大陆性气候
61. 剥夺政治权利是一种附加刑, 是指剥夺犯罪分子参加国家管理和政治活动权利的刑罚方法。下列权利中不属于剥夺政治权利的内容的是:
- A. 选举权和被选举权
B. 言论、出版、集会、结社、游行、示威自由的权利
C. 担任国家机关职务的权利和担任国有单位领导职务的权利
D. 担任公司、企业领导职务的权利
62. 中国加入WTO之后至2016年取得了辉煌成就。截至2016年12月11日, 中国加入WTO已达:

- A. 10年 B. 15年 C. 16年 D. 20年
63. 美国总统特朗普就职后签署了一系列行政命令，其中之一是特朗普签署行政命令宣布美国退出：
A. FTA B. TTIP C. TPP D. TRIPS
64. 运用试管苹果技术来推广优良苹果品种，这种技术属于：
A. 基因工程 B. 细胞工程 C. 酶工程 D. 发酵工程
65. 最早创造数字的是：
A. 印度人 B. 希腊人 C. 阿拉伯人 D. 罗马人

第三部分 数量关系

在这部分试题中，每道试题呈现一段表述数字关系的文字，要求你迅速、准确地计算出答案。你可以在草稿纸上运算。

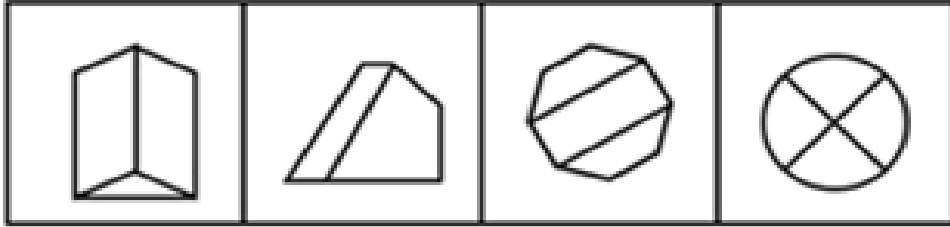
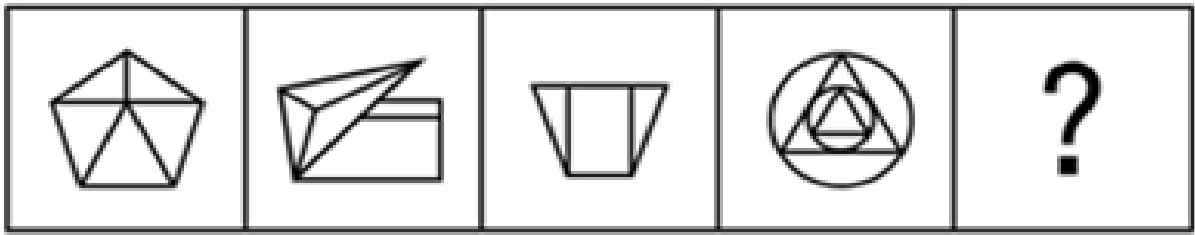
66. 某公司研发出了一款新产品，当每件新产品的售价为3000元时，恰好能售出15万件。若新产品的售价每增加200元时，就要少售出1万件。如果该公司仅售出12万件新产品，那么该公司新产品的销售总额为：
A. 4.72亿元 B. 4.46亿元 C. 4.64亿元 D. 4.32亿元
67. 某高校今年计划招收各类学生6630人，比去年增长2%，其中本科生比去年减少4%，研究生的招生计划数比去年增加9%。那么，该校今年研究生的招生计划数为：
A. 3052人 B. 3161人 C. 3270人 D. 3379人
68. 老张购进一批商品，共20件。销售时，每件合格的商品可以赚50元，不合格的商品一件亏20元。他卖出的这20件商品中有几件是不合格的，那么卖出这批商品可能赚：
A. 690元 B. 720元 C. 780元 D. 850元
69. 某乡有32户果农，其中有26户种了柚子树，有24户种了橘子树，还有5户既没有种柚子树也没有种橘子树，那么该乡同时种植柚子树和橘子树的果农有：
A. 23户 B. 22户 C. 21户 D. 24户
70. 某地区居民生活用水每月标准用水量的基本价格为每吨3元，若每月用水量超过标准用水量，超出部分按基本价格的130%收费。某户六月份用水25吨，共交水费83.1元，则该地区每月标准用水量为：
A. 12吨 B. 14吨 C. 15吨 D. 16吨
71. 某人雇佣了甲、乙、丙三名工人加工一批零件，其中有87个零件不是甲加工的，有86个零件不是乙加工的，有85个零件不是丙加工的，那么甲加工的零件数是：
A. 42个 B. 43个 C. 44个 D. 45个
72. 一辆动车组列车和一辆快速列车相向而行，动车组列车的车长是260米，快速列车的车长是455米。坐在动车组列车上的人看快速列车驶过的时间是7秒，那么坐在快速列车上的人看动车组列车驶过的时间是：
A. 3秒 B. 4秒 C. 5秒 D. 6秒
73. 某超市购进三种不同的糖，每种糖所用的费用相等，已知这三种糖每千克的费用分别为11元、12元、13.2元。如果把这三种糖混在一起成为什锦糖，那么这种什锦糖每千克的成本是：
A. 12.6元 B. 11.8元 C. 12元 D. 11.6元
74. 3年前张三的年龄是他女儿的17倍，3年后张三的年龄是他女儿的5倍，那么张三的女儿现在：
A. 2岁 B. 3岁 C. 4岁 D. 5岁

75. 如果从甲船看乙船，乙船在甲船的西偏北 65° 方向，那么从乙船看甲船，甲船在乙船的：
A. 东偏南 75° 方向 B. 东偏南 65° 方向 C. 西偏南 75° 方向 D. 北偏东 25° 方向
76. 某市出租车的计费方式如下：路程在2公里以内（含2公里）为8元；达到2公里后，每增加1公里收费1.9元；达到8公里以后，每增加1公里收费2.1元，增加不足1公里时按四舍五入计算。某乘客乘坐这种出租车交了44.6元车费，则该乘客乘坐此出租车行驶的路程为：
A. 18公里 B. 19公里 C. 20公里 D. 21公里
77. 从两双完全相同的鞋中，随机抽取一双鞋的概率是：
A. $\frac{2}{3}$
B. $\frac{1}{2}$
C. $\frac{1}{3}$
D. 1
78. 有A、B两瓶混合液，A瓶中水、油、醋的比例为3：8：5，B瓶中水、油、醋的比例为1：2：3，将A、B两瓶混合液倒在一起后，得到的混合液中水、油、醋的比例可能为：
A. 4：5：2 B. 2：3：5 C. 3：7：7 D. 1：3：1
79. 有一个20世纪80年代出生的人，如果他能活到80岁，那么有一年他的年龄的平方数正好等于那一年的年份。此人生于：
A. 1985年 B. 1984年 C. 1983年 D. 1980年
80. 将一批葡萄平均分装在36个箱子中，发现箱子没有装满，如果每箱多装 $\frac{1}{8}$ ，则只需要使用箱子：
A. 31个 B. 32个 C. 33个 D. 34个

第四部分 判断推理

本部分包括图形推理、定义判断、类比推理与逻辑判断四种类型的试题，请按每道题的答题要求作答。

81. 从所给四个选项中，选择最合适的一个填入问号处，使之呈现一定的规律性：【2017江西081】



A

B

C

D

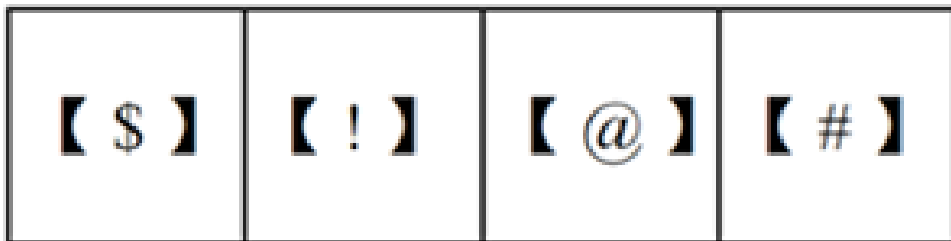

A. 如图所示

B. 如图所示

C. 如图所示

D. 如图所示

82. 从所给四个选项中，选择最合适的一个填入问号处，使之呈现一定的规律性：【2017江西082】



A

B

C

D

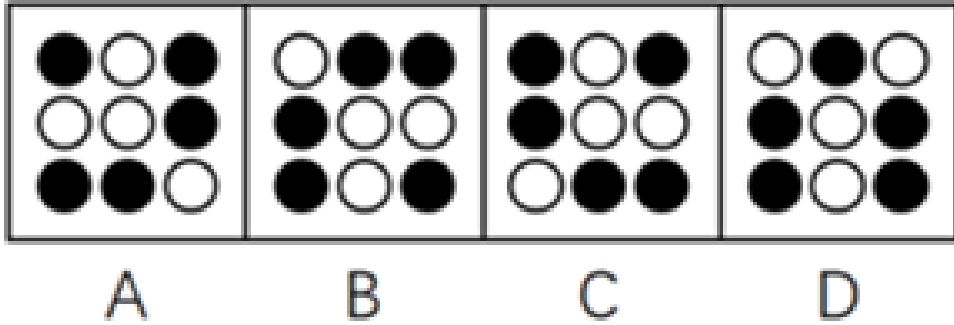

A. 如图所示

B. 如图所示

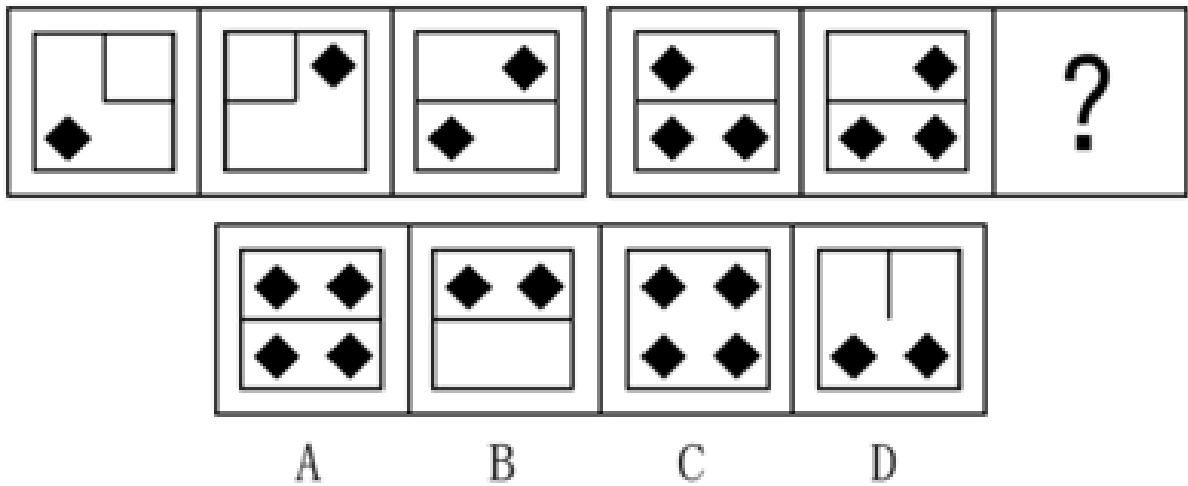
C. 如图所示

D. 如图所示

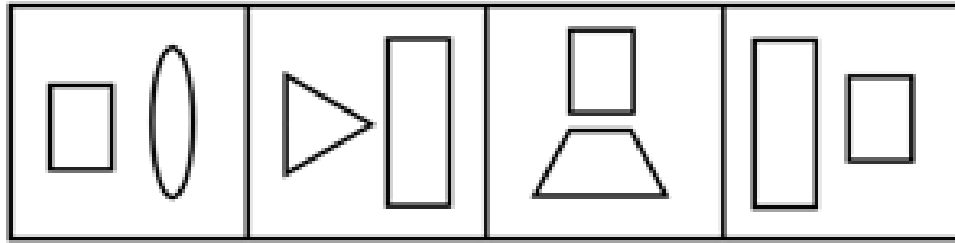
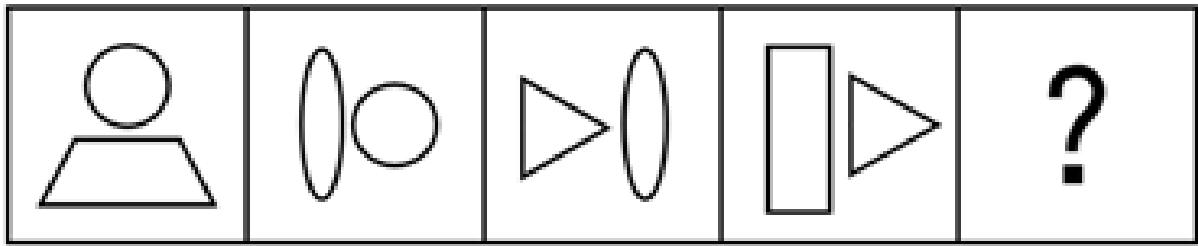
83. 从所给四个选项中，选择最合适的一个填入问号处，使之呈现一定的规律性：【2017江西083】



- A. 如图所示 B. 如图所示 C. 如图所示 D. 如图所示
84. 从所给四个选项中，选择最合适的一个填入问号处，使之呈现一定的规律性：【2017江西084】



- A. 如图所示 B. 如图所示 C. 如图所示 D. 如图所示
85. 从所给四个选项中，选择最合适的一个填入问号处，使之呈现一定的规律性：【2017江西085】



A

B

C

D

A. 如图所示 B. 如图所示 C. 如图所示 D. 如图所示

86. 危机公关是指由于企业管理不善，同行竞争甚至遭遇恶意破坏或者外界特殊事件的影响，而给企业或者品牌带来危机，企业针对危机所采取的一系列自救行动，包括消除影响、恢复形象等。

根据上述定义，下列属于危机公关的是：

- A. 某智能手机制造商在行业竞争中失去领先地位，利润大幅下滑，公司高层决定转向新的领域
- B. 由于国际原油价格大幅上涨，使得汽油生产成本提高，公司领导召开会议研究对策
- C. 某智能手机制造商生产的一款手机由于电池缺陷被曝光后，该智能手机生产商通过媒体向公众道歉，并主动将问题手机召回
- D. 台风将某公司的户外广告牌吹倒了，公司派人前去修复

87. 劳动争议是指在劳动者和劳动力使用者之间因劳动权利与义务发生分歧而引起的争议。

根据上述定义，下列属于劳动争议的是：

- A. 职工小周因工作调动的问题与当地劳动部门发生争执
- B. 某企业职工小张和小李因工作上意见不合而产生矛盾
- C. 两个单位之间因职工小刘的借调问题而产生矛盾
- D. 职工老王因工伤未能获得保险赔偿而与工厂争执

88. 典范借鉴是指从他人（或对方）那里发现、学习并应用最佳做法的过程，以达到帮助改善自身业绩的目的。

根据上述定义，下列属于典范借鉴的是：

- A. 小王刚学打扑克时总是输，后来掌握了打扑克的一些规则和技巧，他打扑克就经常赢
- B. 张三看见李四在某企业工作收入颇丰，随后他也应聘到该企业上班
- C. 小刚在同桌小红的帮助下，学习成绩大幅提高
- D. 某国企吸取国外著名企业生产同类产品的先进经验，降低成本，提高效益

89. 流动偏好是指人们以货币的形式保持一部分资产的愿望和偏爱，它是一种心理动机，目的是应付日常开支、意外开支和在适当时机投机牟利。

根据上述定义，下列不属于流动偏好的是：

- A. 为了购买住宅商品房，小王参加工作后就开始为买房存钱
- B. 最近一段时间股市行情一直不好，许多股民纷纷退出股市
- C. 银行一再降息，全国的储蓄率仍然很高

D. 老刘平时节俭不乱花钱是怕突如其来的下岗后的拮据

90. 商业秘密是指不为公众所知悉，能为权利人带来经济利益，具有实用性并经权利人采取保密措施的技术信息和经营信息。

根据上述定义，下列属于商业秘密的是：

- A. 云南白药的配方
- B. 淘宝网“双十一”活动的具体细则
- C. 某军分区的管理规定
- D. 三七片的功效和作用

91. 工作扩大化是指在横向水平上增加工作任务的数目或变化性，使工作多样化。工作丰富化是指从纵向上赋予员工更复杂、更系列化的工作，使员工有更大的控制权。

根据上述定义，下列属于工作丰富化的是：

- A. 自助餐厅的伙计在面食、沙拉、蔬菜、饮品和甜点部都轮换工作
- B. 一家研究所，一个部门主管告诉他的下属，只要在预算内并且合法，他们就可以做想做的任何研究
- C. 某公司员工小张不能胜任目前的岗位，领导安排他去了其他部门
- D. 快递公司的员工从原来只专门负责分拣货物增加到也负责分送到各个服务网点

92. 公地悲剧是指享有者都从自己私利出发，争取从中获取更多收益而付出的代价由大家负担。

根据上述定义，下列不属于公地悲剧的是：

- A. 军备竞赛的双方都面临着一个困境，一方面军事力量不断增加，另一方面国家安全却受到越来越多的威胁
- B. 博弈游戏中，任何“赢”的一方都是背离游戏的，任何“输”的一方也都是背离游戏的
- C. 一群牧民一同在一块公共草场放牧。不少牧民都想多养羊增加个人收益，结果草场持续退化，直至无法养羊，最终导致所有牧民破产
- D. 有的企业把下水道污物、化学物质、放射性污染物和高温废弃物等排放到水体中，将有毒废气排放到大气中

93. 表象是指事物不在面前时，人们在头脑中出现的关于事物的形象，具有直观性、概括性、可操作性等特点，在形象思维中具有重要作用。

根据上述定义，下列属于表象的是：

- A. 没有见过北方冬日的人们，通过诵读毛泽东诗词《沁园春·雪》，可在头脑中形成北国风光的情景
- B. 猪八戒是吴承恩先生抽象出来的一个人物形象
- C. 当一个孩子盯着一幅画看上几分钟，闭上眼睛，依然能够清晰地记得这幅画的每一个细节
- D. 当人们读到《红楼梦》中关于林黛玉生动的外貌描写时，似乎能看到林黛玉就站在眼前

94. 反应性相倚是指在沟通过程中，沟通双方都以对方的行为作为自己行为的依据，做出相应的反应，而并不按照原来的计划进行沟通。

根据上述定义，下列属于反应性相倚的是：

- A. 小张同意按照编辑意见修改稿件，但希望保留原文的写作风格，与编辑沟通后，编辑表示同意
- B. 张厂长在大会上宣读了关于加强劳动纪律的发言稿，由于制定的措施不合理，职工在下面议论纷纷，但他还是完成了自己的发言
- C. 王老师认为他为学生准备的口试题目并不难，但仍有一些学生回答不出，当学生要求王老师提示时，王老师断然拒绝
- D. 爸爸得知小红考试失利后，准备劝慰一番，但他发现小红的情绪并未受到影响，于是放弃了劝慰小红的打算

95. 演绎作品是指在已有作品的基础上，通过改编、翻译、注释、整理等创造性劳动而产生的作品。

根据上述定义，下列不属于演绎作品的是：

- A. 《基督山伯爵》的电影剧本
B. 《飘》中英文对照版
C. 《〈唐诗三百首〉经典诗句评析》
D. 《〈离骚〉难点词汇释义》
96. 电流强度：安培
A. 功率：伏特
B. 电阻：欧姆
C. 电荷：瓦特
D. 压强：牛顿
97. 厨房：高压锅：电饭煲
A. 运动场：球迷：座位
B. 教室：课桌：讲台
C. 书桌：书架：台灯
D. 农田：水稻：水牛
98. 精致：粗糙
A. 河水：海水
B. 山峰：深渊
C. 违背：遵循
D. 怀疑：守信
99. 失之毫厘：谬以千里
A. 三十六计：走为上计
B. 召之即来：挥之即去
C. 种瓜得瓜：种豆得豆
D. 前人栽树：后人乘凉
100. 黑色：颜色
A. 米饭：粮食
B. 小草：树木
C. 粗心：信心
D. 鱼：湖泊
101. 饭店：厨师：菜肴
A. 监狱：狱警：囚犯
B. 工厂：工人：产品
C. 舞台：演员：道具
D. 学校：教师：学生
102. 商品：购买：商店
A. 网购：付款：网络
B. 看书：学习：图书馆
C. 信件：邮寄：邮局
D. 股票：投资：账户
103. 吊灯 对于 () 相当于 台历 对于 ()
A. 屋顶 墙壁
B. 墙壁 客厅
C. 客厅 桌子
D. 屋顶 桌子
104. 电动汽车：电动车：汽车
A. 航天飞机：宇宙飞船：飞行器
B. 军医：医生：军人
C. 研究生：研究：学生
D. 法官：法律：官员
105. () 对于 冲突 相当于 () 对于 交流
A. 矛盾 接触
B. 战争 遭遇
C. 麻烦 喜欢
D. 陌生 熟悉
106. 某市有甲乙丙丁四家书店，其中甲书店的各种图书都能在乙书店找到，在乙书店出售的图书一定也在丙书店出售，而丙书店有一些图书在丁书店中也有销售。
由此可以推出：
A. 甲书店中有一些图书能在丁书店中找到
B. 乙书店中有一些图书能在丁书店中找到
C. 丁书店中所有的图书都能够在乙书店中找到
D. 甲书店中所有的图书都能在丙书店中找到
107. 有四个人，他们分别是小偷、强盗、法官、警察。
第一个人说：“第二个人不是小偷。”
第二个人说：“第三个是警察。”
第三个人说：“第四个人不是法官。”
第四个人说：“我不是警察，而且除我之外只有警察会说实话。”
如果第四个人说的是实话，那么以下说法正确的是：

- A. 第一个人是警察，第二个人是小偷
B. 第一个人是小偷，第四个人是法官
C. 第三个人是警察，第四个人是法官
D. 第二个人是强盗，第三个人是小偷
108. 小李说：“我这次通过了所有科目的考试，拿到了机动车驾驶证。”
如果小李说的不是事实，则下列选项一定正确的是：
A. 小李至少有一个科目的考试没有通过
B. 小李只有一个科目的考试没有通过
C. 小李至多有一个科目的考试没有通过
D. 小李没有通过所有科目的考试
109. 某软件公司的员工中，三个广东人，一个北京人，三个北方人，有四个人只负责软件开发，有两个人只负责产品销售。
如果以上的介绍涉及了该公司所有员工，则该公司的员工：
A. 最少可能是7个人，最多可能是12个人
B. 最少可能是7个人，最多可能是13个人
C. 最少可能是6个人，最多可能是12个人
D. 最少可能是6个人，最多可能是13个人
110. 所有刑事侦查专业的大四学生毕业后都当警察了，有的警察是党员，刑事侦查专业的大四学生都不是警察，由此可以推出的是：
A. 有的党员是刑事侦查专业的大学毕业生
B. 有的党员不是刑事侦查专业的大四学生
C. 有的刑事侦查专业的大四学生是党员
D. 有的刑事侦查专业的大四学生不是党员
111. 某高校今年实行自主招生，经学校讨论决定，优先录取那些综合素质高的考生，而不是像绝大多数高校那样，根据考生笔试的成绩高低进行录取。
此高校的这个决定最应具备作为前提条件的选项是：
A. 综合素质低的考生就不是好学生
B. 每个考生的综合素质是不同的
C. 有能够评判考生综合素质高低的可行方法
D. 笔试成绩高的考生不一定是好学生
112. 孔子说：“己所不欲，勿施于人。”
以下哪项不是上面这句话的逻辑推理：
A. 若己所欲，则施于人
B. 只有己所欲，才能施于人
C. 除非己所欲，否则不施于人
D. 凡施于人的都应该是己所欲的
113. 广告的目的是为了说服消费者相信他们购买的商品物有所值，没有哪个商家会故意强调自己的产品价格高。
以下哪项如果为真，最能加强上述论断：
A. 消费者认为便宜无好货，好货不便宜
B. 广告能激发消费者的购买欲
C. 广告能说服消费者去购买价格便宜的商品
D. 广告能说服消费者去购买质量好的商品
114. 小明每个周末都要去校外上英语补习班，小强从来没有上过英语补习班。结果，这次期末考试，小明和小强的英语成绩分别是95分和55分。因此，小明的英语成绩比小强好的原因是由于上了校外补习班。
以下哪项如果为真，最能削弱上述论断：
A. 英语补习班的老师教学不太认真
B. 小红和小明同时上了英语补习班，她这次英语考了80分
C. 上次英语考试，小明和小强的英语成绩分别为99分和39分

- D. 小刚也没有上过英语补习班，他这次英语考了80分
115. 计算机程序员长时间对着电脑屏幕工作很容易患近视眼，为了帮助这部分人预防和缓解近视，公司为员工印发了宣传册，教大家预防和治理近视的一些方法。
- 以下哪项如果为真，最能对上述宣传的效果提出质疑：
- A. 不经常对着电脑工作的人也可能患近视
- B. 预防和治理近视的方法因人而异
- C. 预防和治理近视需要眼科医生指导
- D. 近视很难进行自我预防和治疗

第五部分 资料分析

针对下列图、表或文字回答问题。你应根据资料提供的信息进行分析、比较、计算、处理。你可以在题本上运算。

2015年，江西规模以上工业增加值7268.9亿元，比上年增长9.2%。分轻重工业看，轻工业增加值2731.2亿元，增长7.7%；重工业4537.7亿元，增长10.1%。分经济类型看，国有企业增加值269.1亿元，增长6.3%；集体企业19.3亿元，下降5.7%；股份合作企业22.3亿元，下降2.0%；股份制企业2847.6亿元，增长9.6%；私营企业2992.2亿元，增长11.7%；外商及港澳台商投资企业1112.5亿元，增长6.9%。

2015年江西省规模以上工业38个行业大类中34个突破增长，占比近九成。其中，电子、电子机械、纺织、农副产品、医药和有色等六大重点行业表现突出，分别增长16.5%、12.3%、12.3%、11.2%、10.4%、10.3%，合计实现增加值2707.0亿元，占规模以上工业的比重为37.2%，对规模以上工业增长的贡献率达46.8%。高新技术产业增加值1869.7亿元，增长10.4%，占规模以上工业的比重为25.7%，比上年提高0.8个百分点。抚州、赣州、吉安高新区晋升为国家级高新技术开发区，年末国家级高新技术开发区7家，居全国第六、中部第一；省级高新技术产业园区3家，比上年新增1家；国家高新技术产业化基地27个，居全国第一。

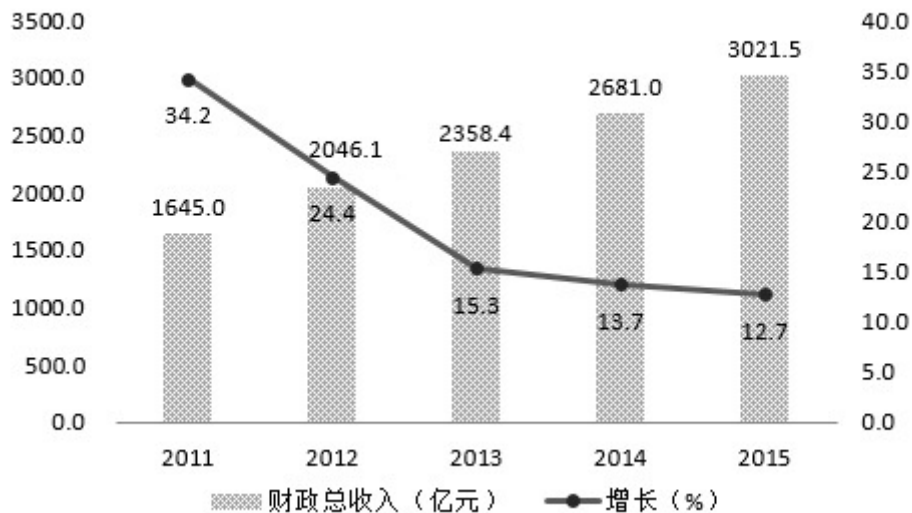
2015年江西省规模以上工业企业实现主营业务收入32459.4亿元，比上年增长4.3%；实现利税总额3543.8亿元，增长3.8%，其中，利润总额2128.0亿元，增长2.4%。主营业务收入超百亿元的企业10户，其中，江铜集团2010.4亿元，居全省首位。

116. 2015年江西省规模以上工业企业的营业利润率与上年同期相比：
- A. 有所上升 B. 有所下降 C. 持平 D. 无法判断
117. 2014年江西省重工业增加值占规模以上工业增加值的比重为：
- A. 56.7% B. 62.4% C. 61.9% D. 68.3%
118. 2014年江西省规模以上工业增加值为：

- A. 6656.5亿元 B. 6945.3亿元 C. 7268.9亿元 D. 7937.6亿元
119. 2015年江西省规模以上工业38个行业大类中增长超过10%的行业有：
A. 6个 B. 7个 C. 8个 D. 无法计算
120. 根据所给材料，下列表述正确的是：
A. 2015年江西省轻工业增加值占规模以上工业增加值的比重较上年有所上升
B. 2015年江西省电子行业增加值同比增量最大
C. 2015年江铜集团利税居全省各企业的首位
D. 以上选项均错误

江西省2015年财政总收入3021.5亿元，比上年增长12.7%，财政总收入占生产总值的比重为18.1%，比上年提高1.0个百分点。其中，税收收入2373.0亿元，增长8.8%，占财政总收入比重为78.5%，其他收入648.5亿元。所有县（市、区）财政总收入突破6亿元，其中，财政总收入超10亿元的县（市、区）85个，比上年增加8个；超20亿元的36个，增加7个；超30亿元的17个，增加2个；超50亿元的5个，增加2个；百亿县实现零突破，南昌县财政总收入达100.9亿元。

2011-2015年财政总收入及其增长速度



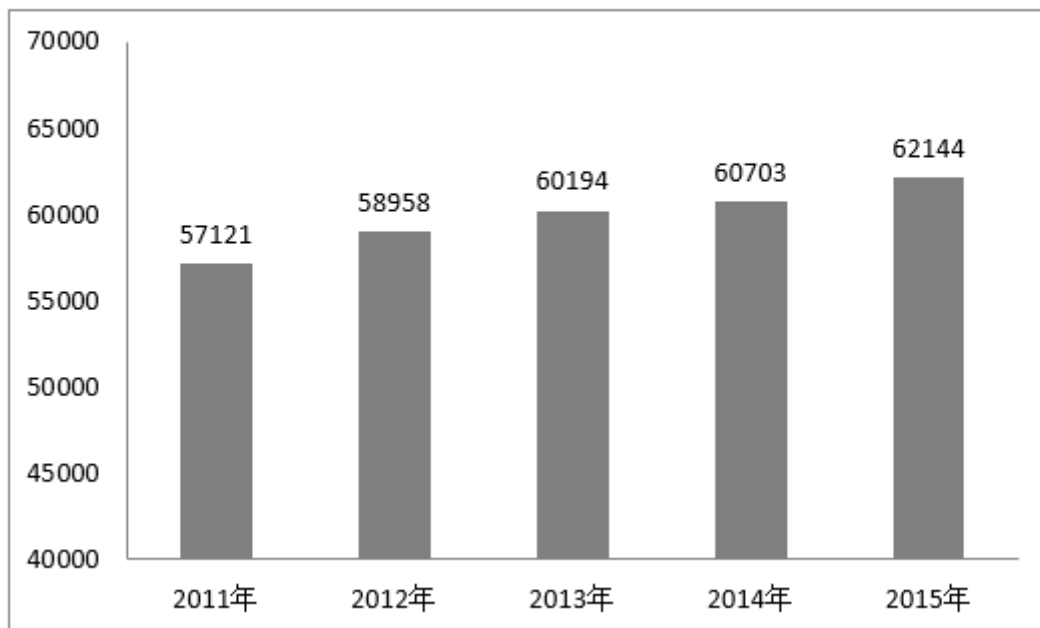
121. 2014年江西省的税收收入占财政总收入的比重为：
A. 78.5% B. 81.3% C. 80.1% D. 83.1%
122. 2015年江西省财政总收入中的其他收入比上年：
A. 减少了2.9% B. 减少了29.2% C. 增加了2.9% D. 增加了29.2%
123. 2011-2015年，江西省财政总收入同比增长率最低的年份，平均每月的财政收入约为：
A. 242亿元 B. 247亿元 C. 252亿元 D. 257亿元
124. 2011-2015年，有几年的江西省财政总收入同比增长低于380亿元：
A. 3 B. 2 C. 1 D. 4
125. 以下关于江西省财政总收入情况的描述与资料相符的是：
A. 2015年江西省财政总收入比5年前翻了一番

- B. 2011年-2015年江西省财政总收入的增长幅度呈逐年下降的趋势
- C. 2014年江西省财政总收入占生产总值比重为18%
- D. 2014年江西省财政总收入不是主要来源于税收收入

2015年全年我国粮食产量62144万吨，比上年增加1441万吨，增产2.4%。其中，夏粮产量14112万吨，增产3.3%；早稻产量3369万吨，减产0.9%；秋粮产量44662万吨，增产2.3%。全年谷物产量57225万吨，比上年增产2.7%。其中，稻谷产量20825万吨，增产0.8%；小麦产量13019万吨，增产3.2%；玉米产量22458万吨，增产4.1%。

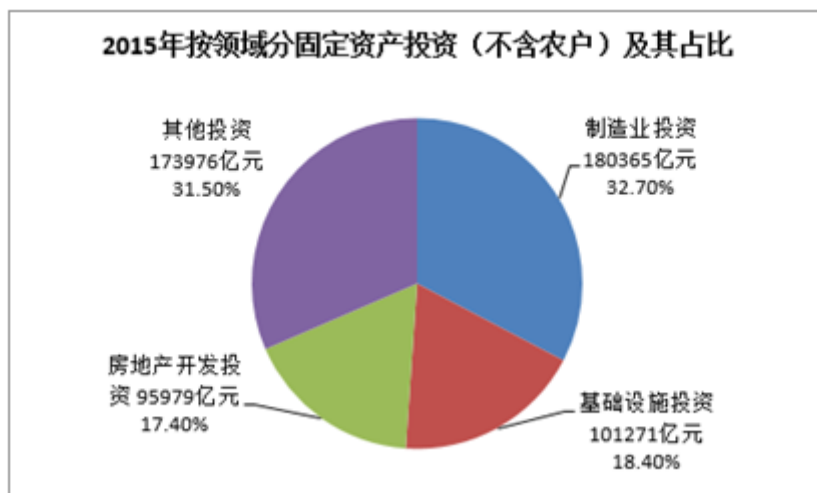
图9 2011-2015年粮食产量

单位：万吨



126. 2012-2015年，我国粮食产量增长率最小的年份是：
 A. 2012年 B. 2013年 C. 2015年 D. 2014年
127. 2014年，我国玉米产量比小麦产量多：
 A. 8642万吨 B. 8958万吨 C. 9429万吨 D. 9915万吨
128. 2014年我国秋粮产量占当年粮食产量的比重：
 A. 与2015年相比，大幅上升 B. 与2015年相比，大幅下降
 C. 与2015年大致相同 D. 无法比较
129. 2015年我国稻谷产量占谷物产量的比重为：
 A. 36.4% B. 34.6% C. 33.5% D. 30.4%
130. 根据所给我国粮食产量的相关数据，能够从资料中推出的是：
 A. 2015年，我国夏粮、早稻、秋粮的产量均高于2014年
 B. 2015年，我国稻谷、小麦、玉米的产量均高于2014年
 C. 2014年，我国稻谷产量是小麦产量的2.1倍
 D. 2014年，我国秋粮产量是早稻产量的9.8倍

我国2015年全年全社会固定资产投资562000亿元，固定资产投资（不含农户）551590亿元，增长10.0%。从各区域看，东部地区投资232107亿元，比上年增长12.4%；中部地区投资143118亿元，增长15.2%；西部地区投资140416亿元，增长8.7%；东北地区投资40806亿元，下降11.1%。



131. 我国2015年全年全社会固定资产投资同比增长:
- A. 8.36% B. 9.76% C. 10.81% D. 12.01%
132. 2011-2015年,我国社会固定资产投资同比增长量最大的年份是:
- A. 2012年 B. 2014年 C. 2013年 D. 2015年
133. 2015年,我国制造业投资是基础设施投资的:
- A. 1.78倍 B. 1.58倍 C. 1.38倍 D. 1.18倍
134. 根据所给材料,以下说法错误的是:
- A. 2015年,我国房地产投资的力度进一步加大
- B. 2015年,我国西部地区投资和东北地区投资之和小于东部地区投资
- C. 2015年,我国中部地区投资大约是东北地区投资的3.5倍
- D. 2012年-2015年,我国全社会固定资产投资增长率最小的是2015年
135. 2015年,东部地区投资占全社会固定资产投资的比重比西部地区投资高:

A. 20.35个百分点

B. 19.43个百分点

C. 16.62个百分点

D. 16.32个百分点

扫一扫，对答案

