

# 2020年深圳行测真题 II

真题更新时间：2022年11月01日23:42:16

扫描下方二维码下载小麦公考APP 刷海量题库掌握最新热点



QQ扫码直接下载

微信扫码到应用市场下载

支持所有机型哦

## 第一部分 常识判断

根据题目要求，在四个选项中选出一个最恰当的答案。

- 2020年，是具有特殊意义的一年，它承载了许多重大历史记忆，也将开启更加美好的国家未来。下列历史时点不属于2020年度记忆的是：
  - 深圳证券交易所成立40周年
  - “东方红一号”发射成功50周年
  - 深圳经济特区建立40周年
  - 全面建成小康社会收官之年
- ( )是决定当代中国命运的关键一招，也是决定实现“两个一百年”奋斗目标、实现中华民族伟大复兴的关键一招。
  - 科教兴国
  - 改革开放
  - 从严治党
  - 依法治国
- 习总书记强调，我们追求的发展是( )的发展，我们追求的富裕是全体人民( )。
  - 人人共享、共同富裕
  - 造福人民、同步富裕
  - 人人共享、同步富裕
  - 造福人民、共同富裕
- 习近平新时代中国特色社会主义思想系统回答了( )这个重大时代课题。
  - 新形势下实现什么样的发展、怎样发展
  - 新时代坚持和发展什么样的中国特色社会主义，怎样坚持和发展中国特色社会主义
  - 什么是社会主义、怎么建设社会主义
  - 建设什么样的党、怎么建设党
- 中国的主权和领土完整不容侵犯和分割，维护国家主权，统一和领土完整是包括港澳同胞和台湾同胞在内的( )的共同义务。
  - 全中国人民
  - 全中国公民
  - 全体居民
  - 全体国民
- 根据《深圳建设中国特色社会主义先行示范区综合改革试点实施方案(2020-2025年)》，中央支持更高水平深港合作，增强深圳在粤港澳大湾区建设中的( )功能，努力创建社会主义现代化强国的城市范例。
  - 聚合辐射
  - 桥梁纽带
  - 头雁领航
  - 核心引擎
- 公权本姓公，用权当为民。党风廉政建设是党的重大政治任务，更是治党治国的永恒课题，下列名言体现了“廉洁自律”的精神内涵的是：
  - 见善如不及，见不善如探汤
  - 功崇惟志，业广惟勤
  - 君子务本，本立而道生
  - 法不能独立，类不能自行，得其人则存，失其人则亡
- 《中国共产党章程》规定，在特殊情况下可以直接接收党员。新冠肺炎“战疫”中，许多表现突出的医务人员、公安民警、社区工作者、基层干部群众等纷纷“火线入党”。关于在抢险救灾、抗击疫情等重大任务第一线发展党员，下列说法错误的是：
  - 在一线表现突出的党员，可以直接接收
  - 在一线表现突出的党员，可以直接接收
  - 在一线表现突出的党员，可以直接接收
  - 在一线表现突出的党员，可以直接接收

- A. 应当进行入党宣誓  
B. 在一线递交入党申请书或向党组织提出入党申请的，可及时吸收其为预备党员  
C. 已确定为入党积极分子的，可及时吸收其为预备党员  
D. 已确定为发展对象的，可及时吸收其为正式党员
9. 由于官方不公布题目，所有题目均来自互联网，本题暂无收集到，给您造成不便敬请谅解。如果您有题目，可以通过“报错”或联系在线客服反馈给我们。  
A. 正确答案是A          B. 正确答案是A          C. 正确答案是A          D. 正确答案是A
10. 中共十九届五中全会提出到二〇三五年基本实现社会主义现代化远景目标，其中不包括：  
A. 基本建成法治国家、法治政府、法治社会  
B. 平安中国建设达到更高水平，基本实现国防和军队现代化  
C. 生态环境根本好转，美丽中国建设目标基本实现  
D. 基本建成文化强国、教育强国、人才强国、体育强国、健康强国
11. 《深圳建设中国特色社会主义先行示范区综合改革试点实施方案（2020-2025年）》提出，（ ），各方面制度建设取得重要进展，形成一批可复制可推广的重大制度成果，综合改革试点取得阶段性成效。  
A. 2021年                  B. 2022年                  C. 2023年                  D. 2025年
12. 由于官方不公布题目，所有题目均来自互联网，本题暂无收集到，给您造成不便敬请谅解。如果您有题目，可以通过“报错”或联系在线客服反馈给我们。  
A. 正确答案是A          B. 正确答案是A          C. 正确答案是A          D. 正确答案是A
13. 与传统基础设施相比，新型基础设施更加侧重于产业转型升级的新方向，更能体现数字经济的特征。下列不属于“新基建”的是：  
A. 地下综合管廊                                  B. 深汕高铁  
C. 5G基站    D. 特高压输电工程
14. 众所周知，吸烟有害健康，于是，一个卷烟替代品——电子烟，借助“健康无害”的标签在烟民中流行起来。某科学期刊曾发布一项研究，对31名无吸烟史的健康人士进行电子烟吸食测试，测量其在吸食后的血氧变化。研究表明，只要吸食一次，血管功能便会短暂受损，若长期吸食，则血管功能可能难以修复，并有几率诱发心血管疾病。  
以上事例体现的哲学原理不包括：  
A. 量变是质变的必要准备，质变是量变的必然结果  
B. 实践是认识产生和发展的基础  
C. 矛盾着的事物及其每一个侧面各有其特点  
D. 事物之间的联系具有普遍性
15. 某涉外机构拟对全体员工进行《中华人民共和国国家安全法》的普及教育活动，以提高全员的国家安全法治意识，增强防范和抵御安全风险能力，该机构将活动安排在（ ）将最具教育意义。  
A. 4月15日                  B. 5月4日                  C. 9月18日                  D. 12月4日
16. 2020年7月23日，长征五号遥四运载火箭托举着我国首次火星探测任务（ ）探测器点火升空，开启奔向火星的旅程。

- A. “天问一号”                      B. “天宫一号”                      C. “星辰一号”                      D. “星火一号”
17. 近年来，深圳着力提高政务服务便捷化水平，更加注重从企业和群众的办事体验出发，积极拓展政务服务新模式，让市民办事少折腾、少跑腿、更舒心，下列不属于深圳政务服务新模式的是：
- A. 千人千面                      B. 无感申办                      C. 容缺办理                      D. 多门多网
18. 《中共中央国务院关于支持深圳建设中国特色社会主义先行示范区的意见》指出，要优化政府管理和服务，深化“放管服”改革，全面推行权力清单、责任清单、负面清单制度，推进“（ ）”改革建设，实现主动、精准、整体式、智能化的政府管理和服务。
- A. 法治政府                      B. 数字政府                      C. 学习型政府                      D. 服务型政府
19. 2020年9月8日，全国抗击新冠肺炎疫情表彰大会在北京人民大会堂隆重举行，习近平向“共和国勋章”获得者钟南山和（ ）国家荣誉称号获得者张伯礼、张定宇、陈薇教授颁授勋章奖章。
- A. “人民英雄”                      B. “人民楷模”                      C. “抗疫英雄”                      D. “抗疫模范”
20. 下列党政机关公文格式处理，正确的是：
- A. 睦邻街道办事处印发公文，其发文字号为“睦邻街道发〔2020〕第5号”
- B. 多部门联合行文，为便于在首页列全发文机关，将正文移至第二页显示
- C. 教育局印发公文，其印章顶端上距附件说明三行
- D. 保密局印发公文，其密级和保密期限同行排列
21. 粤港澳大湾区由香港、澳门两个特别行政区和珠三角九市组成，是中国开放程度最高，经济活力最强的区域之一，在国家发展大局中具有重要的战略地位。下列不属于粤港澳大湾区城市的是：
- A. 深圳                      B. 珠海                      C. 汕头                      D. 肇庆
22. 2020年3月1日，《网络信息内容生态治理规定》正式试行，该项规定旨在整合多方主体，着力整治“网络暴力”乱象，但有人认为，此举将限制公民在网络平台自由发表言论的权利。甲、乙、丙对此展开讨论。
- 甲：“公民依托互联网行使言论自由时，网络信息内容服务平台应积极履行信息内容管理主体责任。”
- 乙：“英美等国限制言论自由的方式是追惩制，我国则是多方参与治理，以追惩制为主，预防制为辅。”
- 丙：“有的网民发微博诋毁公众人物，其行使言论自由但侵害他人名誉权的行为触犯刑法。”
- 以上三人的说法正确的是：
- A. 只有甲                      B. 只有丙
- C. 甲、乙                      D. 甲、乙、丙
23. 在全球经济一体化背景下，若一国的国际收支盈余，则该国短期内最不可能出现的情况是：
- A. 通货膨胀率升高                      B. 外汇储备增加
- C. 公民出境人数增加                      D. 对外清偿能力增强
24. 《中共中央国务院关于支持深圳建设中国特色社会主义先行示范区的意见》指出，到2025年，深圳经济实力、发展质量跻身全球城市前列，研发投入强度、产业创新能力世界一流，文化软实力大幅提升，公共服务水平和生态环境质量达到国际先进水平，建成（ ）城市。
- A. 信息化多元化标杆型                      B. 法治化专业化典型型
- C. 特色化品牌化中心型                      D. 现代化国际化创新型
25. 下列措施不属于货币政策的是：

- A. 保持广义货币M2和社会融资规模的增速与名义GDP的增速大体相当
- B. 用好信贷、债券、股权“三支箭”的政策组合，应对民营和小微企业的“融资难”
- C. 国务院提前下达下一年度新增地方政府债务限额
- D. 人民银行以信贷资产质押方式发放信贷政策支持再贷款
26. 2020年2-3月，中国科学院紫金山天文台接连发现三颗近地小行星，并对其开展了跟踪观测，以评估与预测对地球环境和人类生存安全可能产生的影响。若近地小行星撞击地球，下列说法错误的是：
- A. 小行星穿越大气层时，其部分机械能转化为内能，产生高温
- B. 小行星穿越大气层时，大气中的氮气在高温条件下与水化合成硝酸盐，形成强酸雨
- C. 小行星穿越大气层后，其重力势能转化为动能，产生极大加速
- D. 小行星撞击地球后，可能引发地震、海啸、火山喷发、森林大火等次生灾害
27. 葡萄牙语是世界上使用最广泛的语种之一，目前，葡萄牙语的使用人口最多的国家（地区）是：
- A. 乌拉圭                      B. 澳门                      C. 葡萄牙                      D. 巴西
28. 《诗经》有云：“蒹葭苍苍，白露为霜。”露和霜的形成机制大体相似。都是空气中水分冷却到一定温度凝结而成，其凝结温度分别称为“露点”“霜点”。一般而言，露点、霜点与冰点的高低关系为（ ）。
- A. 露点>冰点>霜点                      B. 露点>霜点>冰点
- C. 霜点>露点>冰点                      D. 露点>冰点=霜点
29. 下列现象与漫反射无关的是：
- A. 会议室门窗采用毛玻璃，使室内光线柔和并保障隐私
- B. 自行车尾灯在夜间提示后方汽车注意
- C. 蝴蝶翅膀呈现缤纷色彩
- D. 清晨在茂密的森林中，枝叶间透过一道道光柱
30. 往水瓶里注水，可以通过声音判断水位的高低，这是因为当瓶内水位升高时，（ ）。
- A. 空气振动频率降低，音调升高
- B. 空气振动频率降低，音调降低
- C. 空气振动频率升高，音调升高
- D. 空气振动频率升高，音调降低

## 第二部分 言语理解与表达

本部分包括表达与理解两方面的内容。请根据题目要求，在四个选项中选出一个最恰当的答案。

31. 由于官方不公布题目，所有题目均来自互联网，本题暂无收集到，给您造成不便敬请谅解。如果您有题目，可以通过“报错”或联系在线客服反馈给我们。
- A. 正确答案是A                      B. 正确答案是A                      C. 正确答案是A                      D. 正确答案是A

32. 将下列选项中的词语依次填入句子横线处，最恰当的一组是：

走过绚烂之夏，秋天宛如巨幅油画缓缓\_\_\_\_\_在眼前，处处如泼墨一般，流溢着斑斓的色彩。绸缎般厚重的色调蔓延成流动的河，让高处的云天、远处的雪山、眼前的草地、脚下的河流渲染着奔放而自由的美丽，\_\_\_\_\_着浓到化不开的秋意。

- A. 展现 点染                      B. 铺展 浸染                      C. 展现 浸染                      D. 铺展 点染

33. 好的人才如高岭之花，求贤若渴者甚多。古有周公“\_\_\_\_\_”、秦昭王“五跪得范雎”、萧何“月下追韩信”、刘备“三顾茅庐”，想要在众多竞争者中最终得到人才，还得看如何抓住人才的心，创造出适合他们发挥才能的环境，并使其安居乐业，没有后顾之忧。

填入划横线部分最恰当的一项是：

- A. 三年不日月                      B. 三年不窥园                      C. 一沐三握发                      D. 一饭三遗矢

34. 陈寅恪讲课，从不\_\_\_\_\_。他曾言：“前人讲过的，我不讲；近人讲过的，我不讲；外国人讲过的，我不讲；我自己过去讲过的，也不讲。现在只讲未曾有人讲过的。”因而，陈寅恪上课的教室，总是坐得满满的。

填入划横线部分最恰当的一项是：

- A. 拾人牙慧                      B. 人云亦云                      C. 步人后尘                      D. 随波逐流

35. 将下列选项中的词语依次填入各句横线处，最恰当的一项是：

(1) 她对这些诗人诗作的解析，\_\_\_\_\_，丝丝入扣，毫无牵强，读她的文章，就像是面对着那个活生生的诗人。

(2) 在边防工作站，我们见到了年轻的站长，他能用流利的外语与境外人员交谈，对境外的民族、文化等知识更是\_\_\_\_\_。

(3) 他删除的用心是隐秘的、手法是细腻的，但是，在\_\_\_\_\_的历史学家眼里，他所有暗中的手脚都无所遁形。

- A. 明察秋毫 洞若观火 了如指掌                      B. 明察秋毫 了如指掌 洞若观火  
C. 了如指掌 明察秋毫 洞若观火                      D. 洞若观火 了如指掌 明察秋毫

36. 将下列选项中的词语依次填入句子横线处恰当的一组是：

我们自幼及长，从做学生时的大小考试，到毕业后的就业、定级、升迁等，一生中不知要过多少路口。等候判决的滋味真没少尝。当然，一个人\_\_\_\_\_有足够的悟性，\_\_\_\_\_迟早会看淡浮世功名，不再把自己放在这个等候判决的位置。\_\_\_\_\_，\_\_\_\_\_修炼到超脱生死的境界，恐怕总有一些事情的结局是我们不能无动于衷的。

- A. 只要 就 因此 哪怕                      B. 如果 就 但是 若非  
C. 即使 也 于是 一旦                      D. 只有 才 然而 倘若

37. 将下列选项中的词语依次填入句子横线处恰当的一组是：

毛笔文化的特征，恰是中国传统文人群体人格的\_\_\_\_\_。在总体上，它应该淡隐了，但这并不\_\_\_\_\_书法作为一种传统艺术光耀百世。喧嚣迅捷的现代社会时时需要获得审美慰抚，书法对此独具功效。我自己每每在头昏脑胀之际，近乎本能地把手伸向那些碑帖，只要轻轻翻开，洒脱委和的\_\_\_\_\_立即扑面而来。

- A. 反映 妨害 神韵                      B. 映照 妨碍 气韵

C. 映射 阻碍 韵味                                  D. 映衬 阻隘 风韵

38. 将下列选项中的词语依次填入句子横线处恰当的一组是:

(1) 这样多的读者哪一个是先看批评家的文章, 然后再让批评家牵着鼻子走, \_\_\_\_\_地去读原著呢? 我看是绝无仅有的。

(2) 30年前, 国际形势\_\_\_\_\_, 国内改革\_\_\_\_\_, 党中央作出重大决策, 掀起了我国改革开放向纵深推进的崭新篇章。

A. 照本宣科 风云变幻 风起云涌                                  B. 按图索骥 风起云涌 风云变幻

C. 照本宣科 风起云涌 风云变幻                                  D. 按图索骥 风云变幻 风起云涌

39. 将下列选项中的词语依次填入各句横线处, 最恰当的一项是:

(1) 春运是我国特别的\_\_\_\_\_, 1978-2020, 我们经历了40多个春运, 经过40多年的高速发展。我国已经从经济发展受交通瓶颈制约的国家成长为交通大国。

(2) 国务院决定, 2020年4月4日举行全国性哀悼活动。在此期间, 全国和驻外使领馆下半旗\_\_\_\_\_, 全国停止公共娱乐活动。

A. 胜景 致哀                                  B. 胜景 志哀                                  C. 盛景 致哀                                  D. 盛景 志哀

40. 将下列选项中的词语依次填入横线处, 最恰当的一组是:

一位学者在给中华书局百年的贺词中写道: “清末以来, 中国文化传统之所以危而未倾, 中华书局在以往百年中之努力与有功焉。” 回望历史, 此言可谓\_\_\_\_\_, 一个国家民族的历史文化由其典籍\_\_\_\_\_, 典籍存, 则文化存; 典籍亡, 则文化亡。

A. 不刊之论 承载                                  B. 不根之论 承载

C. 不刊之论 承继                                  D. 不根之论 承继

41. 下列语句中, 没有语病的一句是:

A. 世界上没有哪一个国家能在这么短的时间内帮助这么多人脱贫, 这对中国和世界都具有重大意义。

B. 有学者统计, 李时珍写《本草纲目》, 参考书目极为丰富, 其中和道教有关的超过20%左右。

C. 通过越来越先进的计算机及其算法, 使天文学家们对整个可观测宇宙中数以万亿计的星系演变过程有了更为细致的模拟分析。

D. 冬日的内蒙古巴彦淖尔是十分寒冷的时候, 但形式多样的冬季旅游活动却进行得热火朝天。

42. 下列语句中, 有语病的一句是:

A. 仍然有人经常问及中美科幻的差距, 但现在的答案已与十年前格外大相径庭。

B. 书是工具和媒介, 它是用来传播知识的, 只有被使用它才有价值。

C. 广交会的延期举办不仅是一项经济命题, 也是一项政治命题, 更是一项生命命题。

D. 红荷的红不同于桃、杏, 鲜艳中显出端庄, 就像白玉兰于素静中显出华贵一样。

43. 下列语句中, 没有歧义的一句是:

A. 这个连外科主任医师王刚都不认识的人, 居然被评为本院的“杰出青年”?

B. 这本讲述了一名大学生毕业之后的支教故事的小说被放在抽屉里。

C. 教练让我们三个人一组去完成任务, 这确实是最佳方案。

D. 小宝似乎有绘画天赋，他最喜欢的事情就是在车上画画。

44. 下列语句中，没有语病的一句是：

A. 清华大学智能产业研究院将以人工智能、类脑计算与智能汽车开发相结合，打造世界顶尖的创新研究平台。

B. 经过不懈努力，阿伯如今已经可以通过摄影获得稳定收入，他还和妻子一起开办了农家乐，生活条件大为改善。

C. 该行动将严厉打击拒不支付劳动报酬犯罪，帮助被拖欠工资农民工解决临时生活困难，依法处置拖欠农民工工资违法行为。

D. 在这场严峻的考验中，彰显了挺立风雨的坚强脊梁，共克时艰的磅礴力量，以及休戚与共的责任担当。

45. 下列语句中，有语病的一句是：

A. 令陈老板意想不到的的是，自己苦心经营多年的企业之所以破产，竟然是因为舆情应对不力引起的。

B. 天空高处很蓝，愈往边上愈淡，亮亮地发白，此时的未名湖畔像是一幅没有着色只有线条的钢笔画。

C. 今年以来，各大城市都在结合自身情况，打造从垃圾产生源头到回收的整套解决方案。

D. 理论医学并不会代替实验医学和循证医学，而是以二者的研究成果为基本研究材料。

46. 填入下面横线处的句子，最恰当的顺序是：

口碑的背后是审美，这是一个有主观意识的评判，它受个人阅历经验的影响，也与地域文化、风俗习惯有关联，反映到电影的感受，可能就会出现这样的景象：同一部电影，你觉得是一地鸡毛，\_\_\_\_\_；你觉得毫无会心之处，\_\_\_\_\_；你觉得强行煽情，\_\_\_\_\_。

①他却笑得前仰后合

②他却觉得曾经沧海

③他早已哭得梨花带雨

A. ①②③

B. ②①③

C. ①③②

D. ②③①

47. 填入下面横线处的句子，最恰当的顺序是：

黄昏酒醒，灯孤人寂，先生是否想起缘缘堂——\_\_\_\_\_, \_\_\_\_\_, 亲戚老友，小聚闲谈，\_\_\_\_\_, \_\_\_\_\_, 笼罩了座中人的感情，\_\_\_\_\_。

①清茶之外，佐以小酌，上灯不散

②油灯暗淡平和的光度和建筑的亲和力

③形式朴素，不事雕琢，却高大轩敞

④安心舒适，娓娓不倦

⑤正南向三开间，中央铺方大砖，西室铺地板为书房，陈列书籍数千卷，东室为饮食间

A. ③⑤①②④

B. ⑤③④②①

C. ③⑤②④①

D. ⑤③①②④

48. 把下面几个句子组成语意连贯的一段文字，排序正确的一项是：

①清醒前释放高水平的糖皮质激素，会促使人体将脂肪酸和糖转化为能量

②如果昼夜节律紊乱，例如由于轮班工作或时差原因，会引起糖皮质激素水平的改变，可能会发生严重的代谢异常

③在一个健康的系统中，肾上腺每天早晨都会产生糖皮质激素

④人体中的每个细胞都由内部生物钟驱动

⑤该生物钟遵循24小时的昼夜节律，与白天和黑夜的自然周期同步运行，主要受阳光控制，也受社交习惯



控制

- A. ③②①④⑤      B. ③①②④⑤      C. ④⑤③①②      D. ④⑤②③①

49. 把下面几个句子组成语意连贯的一段文字，排序正确的一项是：

- ①原因是，一个人永远不可能再是同一个人。  
②一切社会理想都犯这种错误。  
③一旦有可能通过强大的意志推翻整个世界，我们就会立刻加入独立的精神的行列。  
④给全人类刻板地套上某种特殊的国家形式或社会形式是一种狭隘的做法。  
⑤于是，世界历史对于我们来说只不过是一种梦幻般的自我沉迷状态。

- A. ③⑤①②④      B. ④①⑤②③      C. ③⑤④①②      D. ④②①③⑤

50. 把下面几个句子组成语意连贯的一段文字，排序正确的一项是：

- ①由此形成了一个悖论  
②一方面，专业化才能有好作家；另一方面，文学脱离生活本质，专业化难有好作家  
③专门文学家的出现，是文学史上产生众多优秀作品的原因之一  
④但是，文学的专门化，又使文学家们得以生活在书斋、阁楼、亭子间里，局限在一个独特的小圈子中，与社会和他人的生活相隔离  
⑤文学家们受过良好教育，熟悉各种文学经典，掌握丰富的创作技巧，这些都是普通人难以企及的

- A. ②③④⑤①      B. ③④②①⑤      C. ③⑤④①②      D. ③⑤①②④

51. 鳝鱼在水中，若不将头部伸出水面呼吸新鲜空气的话，即使水中溶氧十分丰富，也很可能会窒息而死。一般雄鳝将头伸出水面呼吸的频率较高，雌鳝相对较低，小雌鳝甚至不到水面吞吐空气。因为，刚孵出的稚鳝具有胸鳍和鳍褶，上面有许多毛细血管，卵黄囊上具有与水有很大接触面的血管网膜，这些血管网膜是这一时期的主要呼吸器官。稚鳝的胸鳍和鳍褶不停地扇动，在水中进行着气体交换，而不必将头伸出水面呼吸。随着稚鳝的个体增大，卵黄囊、鳍褶和胸鳍逐渐退化，而后主要靠口腔和喉部呼吸。

根据上文，不能推出的是：

- A. 即使水中溶氧丰富，鳝鱼也需要呼吸水面空气  
B. 血管网膜不再是成年鳝鱼的呼吸器官  
C. 在相同时间内，雄鳝将头部伸出水面的次数比雌鳝多  
D. 稚鳝一般不会将头部伸出水面呼吸

52. 由于官方不公布题目，所有题目均来自互联网，本题暂无收集到，给您造成不便敬请谅解。如果您有题目，可以通过“报错”或联系在线客服反馈给我们。

- A. 正确答案是A      B. 正确答案是A      C. 正确答案是A      D. 正确答案是A

53. 由于官方不公布题目，所有题目均来自互联网，本题暂无收集到，给您造成不便敬请谅解。如果您有题目，可以通过“报错”或联系在线客服反馈给我们。

- A. 正确答案是A      B. 正确答案是A  
C. 正确答案是A      D. 正确答案是A

54. 她从原来五四新女性、学运领袖的立场，向中国传统女性回归，为了应付家务，她断笔、完完全全成为爱人和孩子的附庸。关心家庭多于社会，关心鲁迅的病体多于关心他的心灵，她倦于跟踪先生思想的发展，她甘于庸常。这在一个不断探索的思想战士看来，太遗憾了。

这能怪她吗？你自己没有责任？事务的泥沼注定要淹没思想的，难道你不知道？你为什么把一切家务全都搁在她的肩上呢？

根据上文，作者对“她”的感情不包括：

- A. 理解                      B. 责罪                      C. 同情                      D. 叹惋

55. 虽说器物的名称只是一个符号，但名称又往往与我们对器物功能、性质的认定密切相关，尤其是夏商周时期的礼器。因此在器物命名上，我们应该慎重，不能想当然，应尽量避免简单化和先入为主。在考虑器形的同时，更应该通过多学科手段弄清楚器物的功能、用途。此外，考古学界还应该制定某种共同遵守的器物命名标准与规范。唯有如此，我们对古代器物的命名才可能更准确，更具有科学性、规范性和统一性。下列对材料的理解，错误的是：

- A. 考古学界以往对器物的命名往往流于简单化和先入为主，不够慎重  
B. 器物的名称不仅是一个符号，还反映了人们对器物功能、性质的认知  
C. 器物的功能、性质、用途以及器形，都是器物命名的依据  
D. 制定器物命名标准与规范是提高器物命名准确性和统一性的必要手段

56. 在北京人头盖骨失踪63年后，周口店再次成为世界关注的焦点。目前，这里正在进行大规模勘探，希望北京人头盖骨能够“再现”。与“挖新”工程几乎同一时刻，“搜旧”工作也被提上了有关部门的议事日程。日籍沉船“阿波丸”号被许多人认为是北京人头盖骨最有可能的藏身之处。据报道，国家博物馆水下考古研究中心主任、中国水下考古队队长表示，水下考古队正在集训，等待明年选择适当时机出发——打捞“阿波丸”号。

最适合做这段文字标题的是：

- A. 北京人头盖骨失踪之谜                      B. 寻觅沉船——北京人头盖骨在哪里  
C. 周口店有望“再现”北京猿人遗址                      D. 考古队明年下水搜寻北京人头盖骨

57. 想来一杯奶茶不用排队，“代买奶茶”的小哥会将热乎的奶茶送到手中；外出旅行家里的宠物没人照看，代遛狗服务让主人们安心外出；商场停车位难找，代客泊车服务让逛街更方便；朋友聚会喝酒，代驾司机送自己安全到家……在互联网模式普及后，随着移动支付以及共享经济发展趋于成熟，“代经济”的发展速度得以提升。动动手指就能解决问题，“代经济”的发展不仅为“懒人”们提供全新消费选择，也为市场注入新活力。有学者表示，于社会而言，专业的事由专业的人来干，催生相关行业兴起，社会分工进一步细化有助于增加就业机会，促进经济增长。当然，“代经济”个性化发展还需谨防乱象伴生。

这段文字接下来最有可能讲述的是：

- A. “代经济”增加就业机会，促进经济增长的具体表现  
B. “代经济”所伴生的乱象的种种表现  
C. “代经济”所伴生的乱象对社会的负面影响  
D. 对“代经济”所伴生的乱象予以监管的具体措施

58. 如今，音乐艺术好像进入了一个兴盛时期。中国人谁不能唱几支歌？然而，就是在这种全民皆卡拉OK的热潮中，音乐正令人不安地走“下坡路”。有报道称，目前各种演奏会的观众中，大部分是音乐圈的人。其余的是音乐学院的老师和学生们，形成今天你演我看、明天我演你看的情形。与此形成强烈反差的，是人们对儿童音乐教育的热情。笛子二胡、吉他扬琴、黑管小号萨克斯、电子琴手风琴乃至钢琴，所有高雅的乐器都走进了儿童世界。

文中“与此形成强烈反差的”中的“此”具体指代的是：

- A. 音乐正令人不安地走“下坡路”
- B. 全民皆卡拉OK的社会现象
- C. 专业音乐人士是各种演奏会的主要观众来源
- D. 各种演奏会上，音乐圈内人互为表演者和观众的情形

59. 前颞上回是位于耳朵上方的一小块脑组织，左右各一个，主要负责声音信号的处理，和语言能力有关。“人的左脑负责语言和逻辑思维，右脑负责空间意识和直觉”这一说法是有道理的，原因就在于左右脑前颞上回的神经结构有所不同。左脑前颞上回向其他部位伸展的神经树突数量较少，长度也较短。这样的结构提高了神经信号的传导速度，却降低了信号来源的广度。右脑前颞上回则正相反，向外伸展的神经树突数量较多，走的距离也长，这样的结构牺牲了神经信号的传导速度，却让右脑接收信息的来源更广，可供选择的信息更多，更容易找出隐藏在大脑深处的被遗忘的信息，而灵感就是这么来的。

下列说法与原文意思相符的是：

- A. 人的左右脑对语言能力的分工不同源于左右脑结构的重大差异
- B. 灵感来临时，右脑前颞上回比左脑前颞上回更活跃
- C. 由于右脑前颞上回的神经树突数量多、距离长，因而右脑的反应速度比左脑慢
- D. 灵感与以往知识或经验的积累有关

60. 文物是活着的历史，保护文物本质就是保护历史，护佑文化遗产。近年来，随着城市化进程加快，文物破坏严重与保护不力的矛盾日益突出，亟待公益诉讼在依法保护文物方面及时补位，而文物具有典型的公共利益属性，完全契合公益诉讼保护公共利益的立法意图。此前的司法实践中，也曾有社会组织对破坏、损毁文物的违法行为提起过公益诉讼。由于我国目前尚未建立起文物保护的民事公益诉讼制度，多数社会组织在提起文物保护的公益诉讼时，只能以破坏生态环境为由，诉请追究未认真履行保护文物职责的地方政府或职能部门的法律责任。

这段文字意在：

- A. 揭露文物保护不力的社会现象
- B. 陈述文物保护公益诉讼的司法实践
- C. 呼吁将文物保护纳入民事公益诉讼范围
- D. 强调用法律武器保护文物的重要性

61. 由于官方不公布题目，所有题目均来自互联网，本题暂无收集到，给您造成不便敬请谅解。如果您有题目，可以通过“报错”或联系在线客服反馈给我们。

- A. 正确答案是A
- B. 正确答案是A
- C. 正确答案是A
- D. 正确答案是A

62. 2019年9月底，国内首批智能网联汽车载人试运营许可证在国家智能网联汽车（武汉）测试示范区颁发。百度、海梁科技、深兰科技3家企业获得湖北省武汉市交通运输局颁发的首批智能网联汽车载人试运营许可证。这标志着智能网联汽车从测试走向商业化运营开启了破冰之旅，国内首条自动驾驶商用运营线路落地武汉CBD中央商务区，逐渐驶入市民的生活。

下文最有可能介绍的是：

- A. 智能网联汽车的定义和技术特点

- B. 国内首条自动驾驶商用运营线路的车辆情况
- C. 国内智能网联汽车的发展现状
- D. 市政府对于智能网联汽车研发的激励措施
63. 有一个以善于攀爬树木而闻名的男子让徒弟练习爬高树。徒弟爬到最高处时，他一言不发；等到徒弟下降到屋檐那么高时，男子才开口说：“要小心，别失足了！”路人问道：“已经下到这个地方，稍微一跳就可以下来了，为何还要这么说呢？”男子回答道：“正是到这个高度才应该提醒。人爬到了最高点，枝危而目眩，自当有所戒备，故不必多言。而失误常常发生于易处，因此就必说不可了。”
- 这个故事没有提醒人们：
- A. 常备不懈                      B. 戒骄戒躁                      C. 一鼓作气                      D. 阴沟翻船
64. 我国自主研发的C919大型客机首架机正式下线仪式在上海举行，C919的命名颇具深意，“C”是“中国商飞”英文缩写“COMAC”的第一个字母，也代表“China”，也恰好与“空中客车（Airbus）”和“波音（Boeing）”的字头构成顺序排列。第一个“9”代表“长久”，后面的“19”则代表最大载客可达190座。C919承载着中国人的“大飞机”梦想。它将在首飞和通过适航测试之后，进入航线运营，填补航线上没有中国干线喷气客机的空白。
- 下列说法不能体现C919“命名颇具深意”的是：
- A. C919既具备国际辨识度又彰显本土特色
- B. 字母“C”可谓“一语三关”，同时又表明了研发公司、所属国家、行业地位
- C. 数字“919”既有表达祝福的情感内涵，又有对实际功能的标注作用
- D. C919正式进入航线运营后，寓意中国人的“大飞机”梦想成真
65. 在传统画论中，诸如“神”“妙”“能”“逸”等术语暗示了一系列内化的批评标准，关注的是画家内在的感受能力和情绪状态，而不是能否准确地再现外部世界，或画面本身的形式感，与功能性较强的人物故事画或肖像画相比，山水画的题材处理相对自由，千树万树，只要把握“常理”，即可自由生发。苏轼说：“余尝论画，以为人禽宫室器用皆有常形，至于山石竹木，水波烟云，虽无常形，而有常理。”“常理”即自然万物的勃勃生机，需要画家超越肉眼所见的真实，用心灵去感受万物的生命与气质，有了这样的自由，山水画更便于展示“书写”的技巧与趣味。早在荆浩的《笔记法》中，“筋”“肉”“骨”“血”这一类书法创作经验已经完成了向山水画的转移，《笔记法》为画家提供了丰富的形式语言，当然，也提出了更高的技术要求。
- 下列对材料的理解，正确的是：
- A. “神”“妙”“能”“逸”等术语是专门用于评价传统山水画家的内化标准
- B. 画家需把握自然万物的“常理”，方能更自如地在山水画中展示“书写”的技巧与趣味
- C. 书法创作较之山水画创作，技术要求更高
- D. 人禽宫室器用，因其有常形，故可用作人物故事画或肖像画的题材，而山石竹木，水波烟云，因其无常形则不可

### 第三部分 资料分析

针对下列图、表或文字回答问题。你应根据资料提供的信息进行分析、比较、计算、处理。你可以在题本上运算。

2018年，某市实现地区生产总值24221.98亿元，比上年增长7.6%。其中，第一产业增加值22.09亿元，增长3.9%；第二产业增加值9961.95亿元，增长9.3%；第三产业增加值14237.94亿元，增长6.4%。现代产业中，现代服务业增加值10090.59亿元，增长7.1%；先进制造业增加值6564.83亿元，增长12.0%；高技术制造业增加值6131.20亿元，增长13.3%。四大支柱产业中，金融业增加值3067.21亿元，增长3.6%；物流业增加值2541.58亿元，增长9.4%；文化及相关产业（规模以上）增加值1560.52亿元，增长6.3%；高新技术产业增加值8296.63亿元，增长12.7%。七大战略性新兴产业增加值合计9155.18亿元，比上年增长9.5%，占地区生产总值比重37.8%。其中，新一代信息技术产业增加值4772.02亿元，增长10.9%；数字经济产业增加值1240.73亿元，增长3.8%；高端装备制造产业增加值1065.82亿元，增长10.7%；绿色低碳产业增加值990.73亿元，增长11.7%；海洋经济产业增加值421.69亿元，下降11.3%；新材料产业增加值365.61亿元，增长8.6%；生物医药产业增加值298.58亿元，增长22.3%。

全市年末常住人口1302.66万人，其中常住户籍人口454.70万人，增长4.6%，占常住人口比重34.9%；常住非户籍人口847.97万人，增长3.6%，占比65.1%。年末城镇登记失业率为2.3%。全年居民消费价格比上年上涨2.8%。全年完成一般公共预算收入3538.41亿元，比上年增长6.2%。其中税收收入2899.60亿元，增长9.2%。一般公共预算支出4282.54亿元，下降6.8%。

66. 2017年，该市三大产业增加值同比增速最快的是：

- A. 第一产业                      B. 第二产业                      C. 第三产业                      D. 无法判断

67. 2018年，下列产业对该市地区生产总值增长的贡献率最大的是：

- A. 第三产业    B. 现代服务业  
C. 文化及相关产业（规模以上）                      D. 高新技术产业

68. 2018年，从产业增加值的同比增量看，该市七大战略性新兴产业中，高端装备制造产业和（    ）最接近。

- A. 新一代信息技术产业    B. 数字经济产业  
C. 绿色低碳产业    D. 生物医药产业

69. 2018年，该市年末常住人口同比增长约：

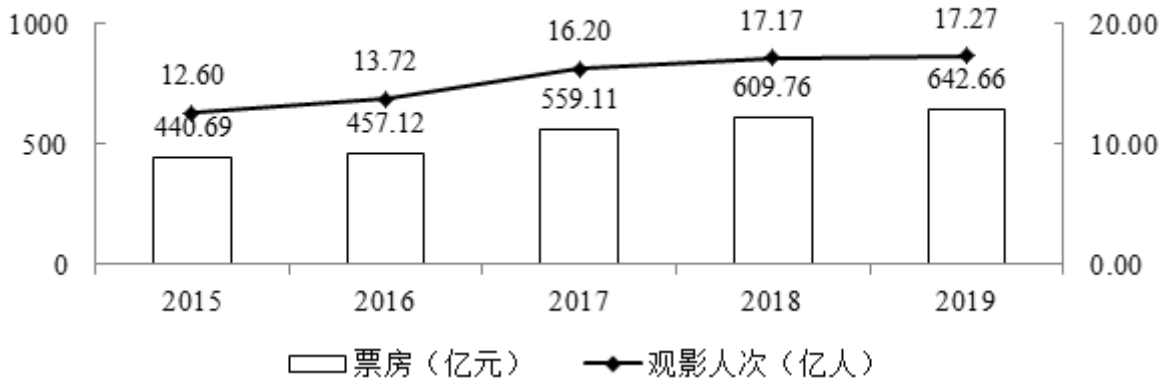
- A. 3.6%    B. 3.9%    C. 4.7%    D. 4.2%

70. 根据上文，下列说法正确的是：

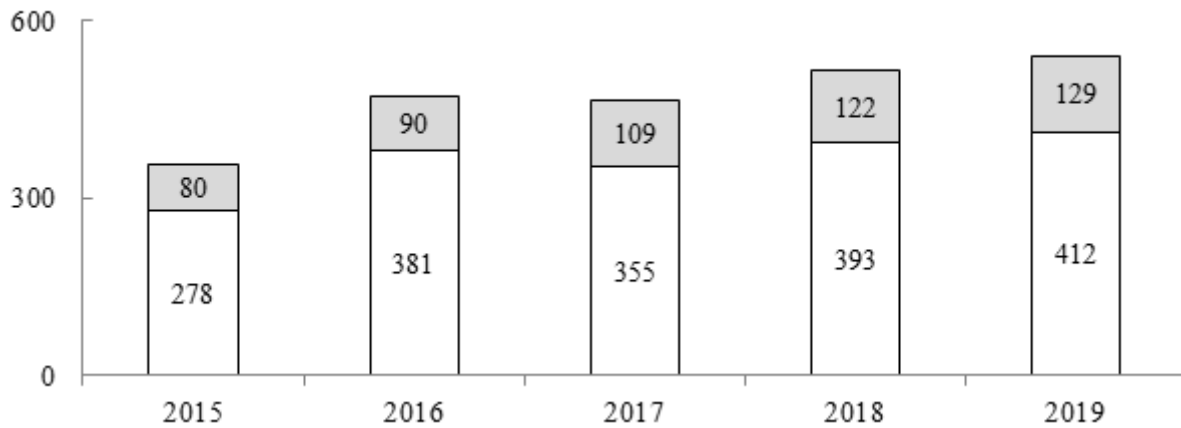
- A. 2018年，该市第二产业增加值占地区生产总值比重同比下降  
B. 2017年，该市四大支柱产业中，物流业增加值最大  
C. 2018年，该市年末城镇登记失业人口29.96万人  
D. 2018年，该市一般公共预算收入中，非税收收入同比负增长

style="text-align: center;">">

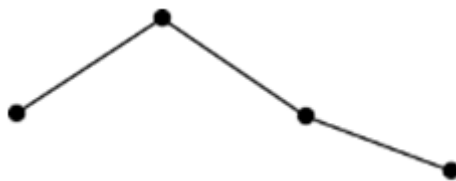
2015—2019年我国电影票房及观影人次



2015—2019年我国上映电影构成



71. 若电影票房按“观影人次×平均票价”计算，则2019年电影平均票价比2015年：  
 A. 高2.2元                      B. 高3.9元                      C. 低2.2元                      D. 低3.9元
72. 2016-2019年，电影票房同比增幅最低的年份，当年观影人次的同比增幅为：  
 A. 0.6%                          B. 6.9%                          C. 8.9%                          D. 18.1%
73. 2016-2019年，上映电影数同比增幅超过10%的年份有（ ）个。  
 A. 1                                  B. 2                                  C. 3                                  D. 4
74. 2016-2019年，下列指标中，与下方折线图的变化趋势最相符的是：



- A. 上映国产电影数                      B. 电影观影人次同比增量  
 C. 电影平均票价                          D. 上映进口电影数同比增量
75. 根据上图，下列说法正确的是：

- A. 2015-2019年，上映电影数与电影票房的变化趋势一致
- B. 2016-2019年，观影人次同比增长最快的一年，其电影票房及上映电影数均同比增长最快
- C. 2015-2019年，上映电影平均票房均超1亿元/部
- D. 2015-2019年，当年电影票房超过五年年均电影票房的年份有3个

style="text-align: center;">">

**2011—2018 年我国部分财政指标情况**

单位：亿元

年份 指标	2011 年	2012 年	2013 年	2014 年	2015 年	2016 年	2017 年	2018 年
国家财政收入	103874	117254	129210	140370	152269	159605	172593	183360
国家财政支出	109248	125953	140212	151786	175878	187755	203089	220904
国家税收收入	89738	100614	110531	119175	124922	130361	144370	156403
其中：国内增值税	24267	26416	28810	30855	31109	40712	56378	61531
国内消费税	6936	7876	8231	8907	10542	10217	10225	10632
关税	2559	2784	2631	2843	2561	2604	2998	2848
个人所得税	6054	5820	6532	7377	8617	10089	11966	13872
企业所得税	16770	19655	22427	24642	27134	28851	32117	35324
中央财政收入	51327	56175	60198	64493	69267	72366	81123	85456
中央财政支出	16514	18765	20472	22570	25542	27404	29857	32708
中央税收收入	48632	53295	56640	60035	62260	65669	75697	80448

76. 2012-2018年，国家财政支出同比增速最快的年份是：  
 A. 2018年                      B. 2015年                      C. 2014年                      D. 2012年
77. 2011-2018年，国家财政赤字的变化趋势为：  
 A. 不断缩小                      B. 与国家财政收入的变化趋势相反  
 C. 不断扩大                      D. 先扩大后缩小
78. 2018年，上表所列国家税收收入的税种中，按税收收入同比增速从高到低排序，正确的是：  
 A. 企业所得税 > 国内增值税 > 个人所得税 > 国内消费税 > 关税  
 B. 个人所得税 > 企业所得税 > 国内增值税 > 国内消费税 > 关税  
 C. 企业所得税 > 个人所得税 > 国内增值税 > 关税 > 国内消费税  
 D. 个人所得税 > 国内消费税 > 企业所得税 > 国内增值税 > 关税
79. 2011-2016年，中央税收收入年均增速约为：  
 A. 6.2%                      B. 7.1%                      C. 7.6%                      D. 7.9%

80. 根据上表，下列说法正确的有（ ）个。

- (1) 2011-2018年，中央财政支出占国家财政支出比重逐年降低
- (2) 2011-2018年，地方财政收入均超过6万亿元
- (3) 与2011年相比，2018年中央财政收入的增幅小于国家财政收入的增幅

A. 3

B. 2

C. 1

D. 0

扫一扫，对答案

